




**Ce document a été numérisé par le CRDP de Nancy pour la
Base Nationale des Sujets d'Examens de l'enseignement professionnel**

Ce fichier numérique ne peut être reproduit, représenté, adapté ou traduit sans autorisation.

Le snow-board ou surf des neiges est un sport de glisse qui nécessite des chaussures adaptées et une planche avec fixations ; le dessous de la planche peut être décoré de dessins aux couleurs vives, et parfois de motifs ethniques.

*Ce sujet comporte 4 pages numérotées de 1/4 à 4/4.
Assurez-vous que cet exemplaire est complet.*



NE RIEN ÉCRIRE DANS CE CADRE

Académie : _____

Session : _____

Examen : _____

Série : _____

Spécialité/option : _____

Repère de l'épreuve : _____

Epreuve/sous épreuve : _____

NOM : _____

(en majuscule, suivi s'il y a lieu, du nom d'épouse)

Prénoms : _____

Né(e) le : _____

N° du candidat _____



(le numéro est celui qui figure sur la convocation ou liste d'appel)

Appréciation du correcteur

Note :

Il est interdit aux candidats de signer leur composition ou d'y mettre un signe quelconque pouvant indiquer sa provenance.

EXAMEN : CAP PODO-ORTHESISTE	Code : 50 33107	SUJET	Coef. : 6
ÉPREUVE : EP2 Art Appliqué COMMUNICATION TECHNIQUE	Durée : 04h00	Session 2010	Page : 1/4



NE RIEN ÉCRIRE DANS CETTE PARTIE


EXAMEN : CAP PODO-ORTHESISTE	Code : 50 33107	SUJET	Coef. : 6
ÉPREUVE : EP2 Art Appliqué COMMUNICATION TECHNIQUE	Durée : 04h00	Session 2010	Page : 2/4

TRAVAIL DEMANDÉ

1- ANALYSE

Observez les documents page 2 et effectuez des relevés graphiques dans les cases ci-dessous en déterminant 2 familles de motifs. L'une faite de formes calmes et courbes, l'autre de formes dynamiques singulières. Pour chacune de ces familles vous proposerez, sous les relevés, des mots qui les décrivent : géométrique, souple, régulier, lignes, animal, végétal, traits, courbes, pointes, rythme, points, répétition, symétrie etc...

Famille A




.....

.....

.....

Famille B



.....

.....

.....

2- DESSIN

A partir des deux exemples de chaussures proposées page 1, vous imaginerez 2 modèles de chaussures que vous adapterez à la forme orthopédique page 4.

L'une sera destinée à un snowboardeur prudent et calme, l'autre à un snowboardeur exubérant et « Fun ».

Le décor reflètera leurs caractères différents.

Les deux modèles seront en tissu imprimé. Vous combinerez deux décors dont vous choisirez les emplacements.

La première proposition sera graphique, en noir et blanc,

La seconde proposition sera en couleurs.

Vous utiliserez soit une gamme chaude soit une gamme froide en fonction de la nature de votre décor.

Techniques : feutre noir
feutres ou crayons de couleurs.

CRITÈRES D'ÉVALUATION

A

Pertinence des relevés et de leur qualification

Lisibilité et qualités graphiques

B

Exploitation des décors par rapport à la forme des chaussures

Traduction des formes et des couleurs


Qualité de la composition

Soin, expression graphique

NE RIEN ÉCRIRE DANS CETTE PARTIE

EXAMEN : CAP PODO-ORTHESISTE	Code : 50 33107	SUJET	Coef. : 6
ÉPREUVE : EP2 Art Appliqué COMMUNICATION TECHNIQUE	Durée : 04h00	Temps conseillé : 01h30	Session 2010
			Page : 3/4

NE RIEN ÉCRIRE DANS CETTE PARTIE



EXAMEN : CAP PODO-ORTHELISTE	Code : 50 33107	SUJET	Coef. : 6
ÉPREUVE : EP2 Art Appliqué COMMUNICATION TECHNIQUE	Durée : 04h00	Temps conseillé : 01h30	Page : 4/4