



SERVICES CULTURE ÉDITIONS
RESSOURCES POUR
L'ÉDUCATION NATIONALE

**Ce document a été numérisé par le CRDP de Lille pour la
Base Nationale des Sujets d'Examens de l'enseignement professionnel**

Ce fichier numérique ne peut être reproduit, représenté, adapté ou traduit sans autorisation.

Mention complémentaire

Spécialité

ESSAYAGE - RETOUCHE - VENTE

EP1-2 : TECHNOLOGIE

Coefficient : 2

Durée de l'épreuve : 2 heures

Compétences terminales évaluées :

C1-1 Collecter les informations.

- S2-1 Connaissances des textiles.

C1-2 Identifier les informations.

C3-1 Situer les interventions à effectuer.

- S3-2 Maintenance des matériels.

C2-1 Définir les modifications.

- S4-2 Matérialisation du produit.
- S4-4 Techniques de retouches.

Session 2011

Présentation

Doc. 1/6

Technologie des textiles

Doc. 2/6

Technologie du matériel

Doc. 3/6

La sécurité

Doc. 4 à 5/6

Fiche retouche

Doc. 6/6

DOSSIER RESSOURCES

Le lycra

DR. 1 à 2/2

| | | |
|----------------|--|---|
| DANS CE CADRE | Académie : Examen : Spécialité / Option : Épreuve / sous épreuve : | Session : Série : Repère de l'épreuve : |
| | NOM : (en majuscules, suivi s'il a lieu du nom d'épouse) Prénoms : Né(e) le : | N° du candidat <input type="text"/> (le numéro est celui qui figure sur la convocation ou liste d'appel) |
| NE RIEN ÉCRIRE | Examen : Spécialité/ Option : Repère de l'épreuve : Épreuve/ sous épreuve : | Série : |
| | Note : <input type="text"/> /20 | Appréciation du correcteur |

Il est interdit aux candidats de signer leur composition ou d'y mettre un signe quelconque pouvant indiquer sa provenance

Mademoiselle Thooris est employée dans un magasin de vente «Euro Vet Création ». Une jeune cliente repère un pantalon ainsi qu'une robe « Avant Gardiste » agrémentée au bas d'un joli ruban. Mademoiselle Thooris la renseigne sur la qualité de la matière : un lycra/polyester d'un entretien facile.

➤ En vous aidant du dossier ressources : (DR. 1 à 2/2)

- Répondre aux questions (Doc. 2 à 6/6)



| | | | | |
|----------------------------------|---|--------------------------|-----------------------|--------------------------|
| M.C. | Spécialité : Essayage Retouche Vente | N° Sujet : 11.138 | Durée : 2 h | Session : 2011 |
| Épreuve : EP1 Technologie | | | Coef : 2 | Doc. 1/6 |

NE RIEN INSCRIRE DANS CETTE PARTIE

La jeune cliente marque une réticence sur la composition et l'entretien du tissu.

1) Donner l'origine du lycra.

.....
.....
.....

2) Donner l'origine des fibres synthétiques.

.....
.....

3) Commenter et analyser le pictogramme d'entretien du lycra.

.....
.....
.....

Le tissu de la robe est réalisé avec une armure satin.

4) Donner le rythme de l'armure satin et compléter la grille.

.....
.....
.....

| | | | | | | | |
|--|--|--|--|--|--|--|--|
| | | | | | | | |
| | | | | | | | |
| | | | | | | | |
| | | | | | | | |
| | | | | | | | |
| | | | | | | | |
| | | | | | | | |
| | | | | | | | |

5) Énumérer les caractéristiques de l'armure satin.

.....
.....
.....
.....
.....
.....

NE RIEN INSCRIRE DANS CETTE PARTIE


La cliente souhaite raccourcir la robe, la retoucheuse doit refaire les boutonsnières, afin d'y glisser le ruban.

N°1




Chemiserie, bonneterie

N°2



Bonneterie, MO extensible

N°3




Bonneterie, tricot

N°4



Confection de luxe

N°5



Manteau, tailleur, costume d'homme

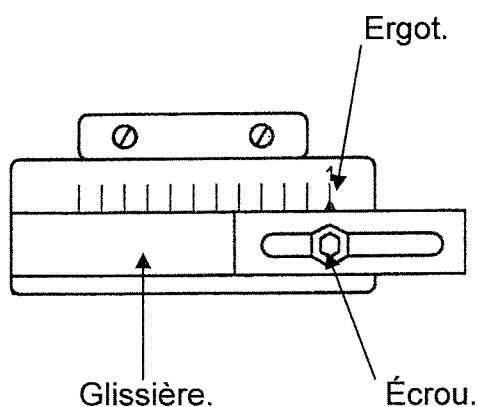
6) Sélectionner ci-dessus la boutonsnière que doit réaliser le service retouche.

.....

7) Énumérer les critères pour calculer la longueur de la boutonsnière et expliquer les modalités de réglage en vous référant à l'élément ci-dessous.

.....

➤ Élément de la machine pour régler le point boutonsnière.



M.C.

Spécialité : Essayage Retouche Vente

Épreuve : EP1 : Technologie

Session : 2011

Doc . 3/6

NE RIEN INSCRIRE DANS CETTE PARTIE

Le service retouche vous demande de prendre en charge la maintenance de la machine à bouttonnières.

8) Énoncer le matériel d'entretien.

.....
.....
.....
.....
.....


9) Donner le nom des organes sur lesquels vous allez intervenir.

.....
.....
.....
.....
.....

10) Citer deux règles de sécurité.

.....
.....

➤ La machine à coudre les bouttonnières.




NE RIEN INSCRIRE DANS CETTE PARTIE


Comme tout endroit réunissant des machines et des employés, des mesures sécuritaires sont établis dans les ateliers.

11) Expliquer la signification de chaque affiche.

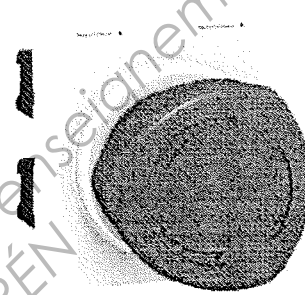
1)



2)



3)



4)



- 1).....
- 2).....
- 3).....
- 4).....

12) Citer quatre consignes de sécurité au poste de travail de la piqueuse plate.

- 1).....
- 2).....
- 3).....
- 4).....

M.C.

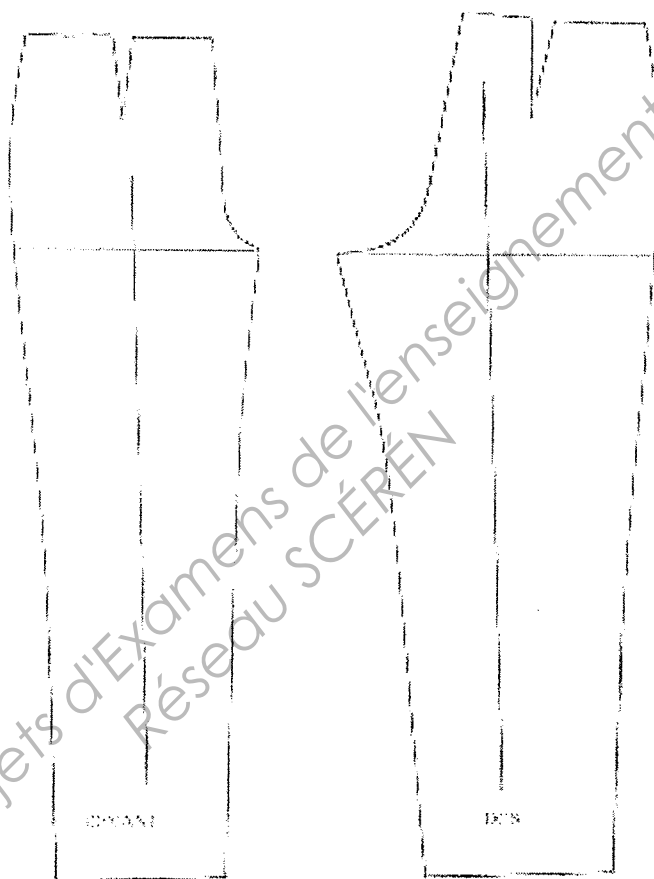
Spécialité : Essayage Retouche Vente
Épreuve : EP1 : Technologie

Session : 2011

Doc . 5/6

NE RIEN ECRIRE DANS CETTE PARTIE

Lors de l'essayage du pantalon, la cliente s'aperçoit que des plis se forment à l'entrejambe et qu'il est trop étroit au niveau des cuisses.



Travail demandé :

- 12) À l'aide des figures ci-dessus, situer et tracer les modifications correspondantes aux retouches (au stylo vert).
- 13) Compléter la fiche de retouche en justifiant votre choix.

Fiche de retouche.

M.C.

Spécialité : Essayage Retouche Vente
Épreuve : EP1 : Technologie

Session : 2011

Doc . 6/6