

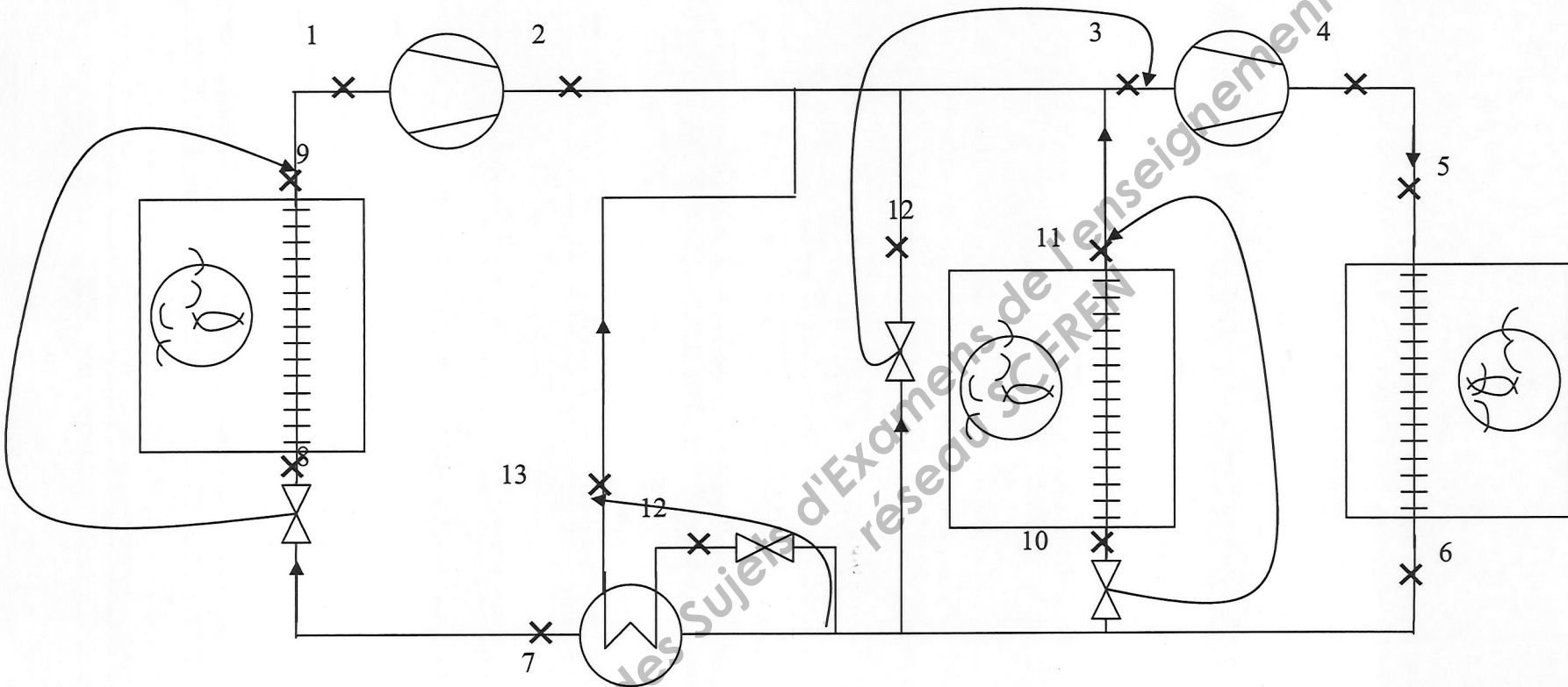


SERVICES CULTURE ÉDITIONS
RESSOURCES POUR
L'ÉDUCATION NATIONALE

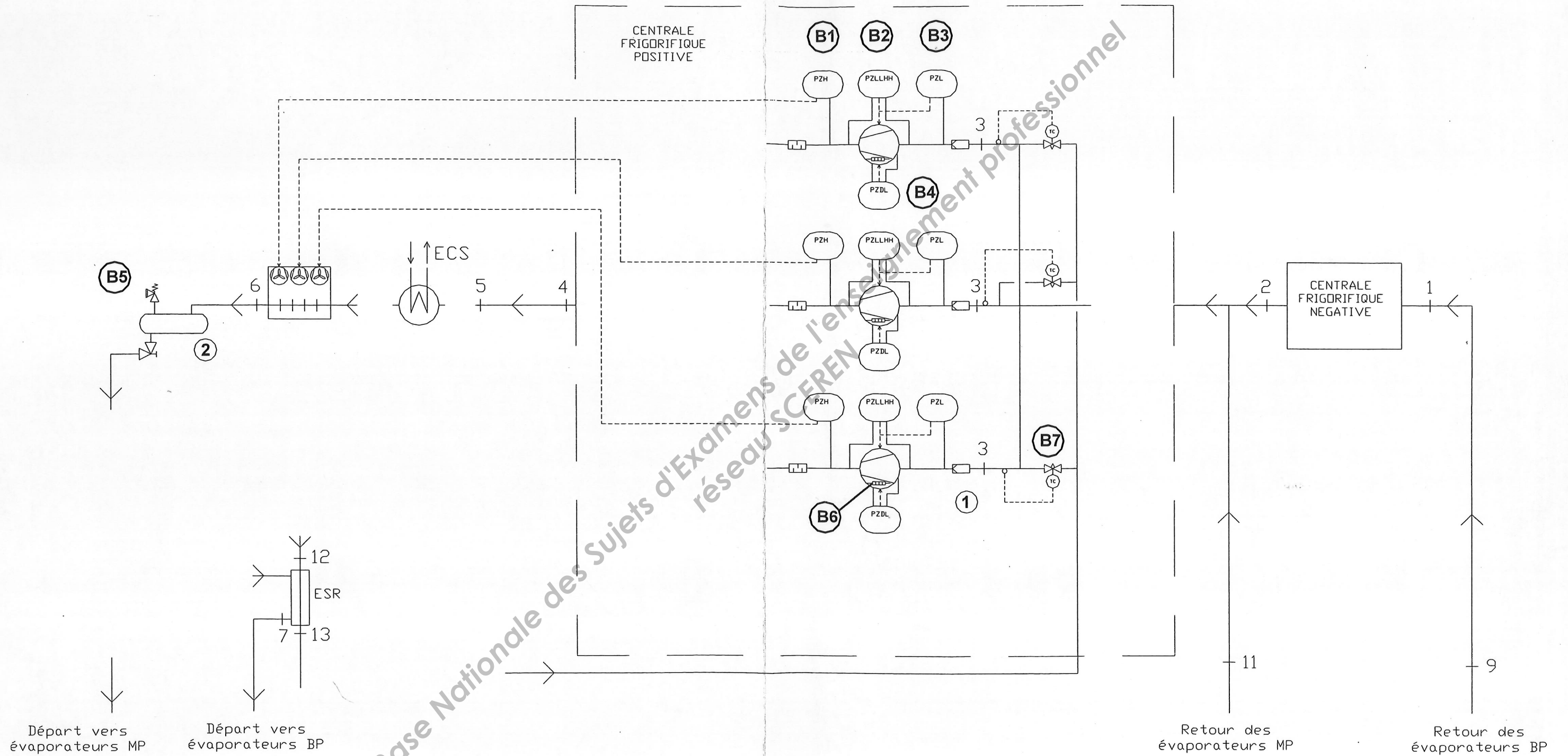
**Ce document a été numérisé par le CRDP de Bordeaux pour la
Base Nationale des Sujets d'Examens de l'enseignement professionnel**

session 2011

Annexe n°5 : SCHÉMA DE PRINCIPE SIMPLIFIÉ



DOCUMENT RÉPONSE n°1 : SCHÉMA DE L'INSTALLATION FRIGORIFIQUE



Académie : _____ Session : _____

Examen ou concours : _____ Série* : _____

Spécialité/Option : _____ Repère de l'épreuve : _____

Épreuve/sous-épreuve : _____

NOM : _____
(en majuscules, suivi s'il y a lieu, du nom d'épouse)Prénoms : _____ N° du candidat

Né(e) le : _____

(le numéro est celui qui figure sur la convocation ou la liste d'appel)

Examen ou concours : _____ Série* : _____

Spécialité/Option : _____

Repère de l'épreuve : _____

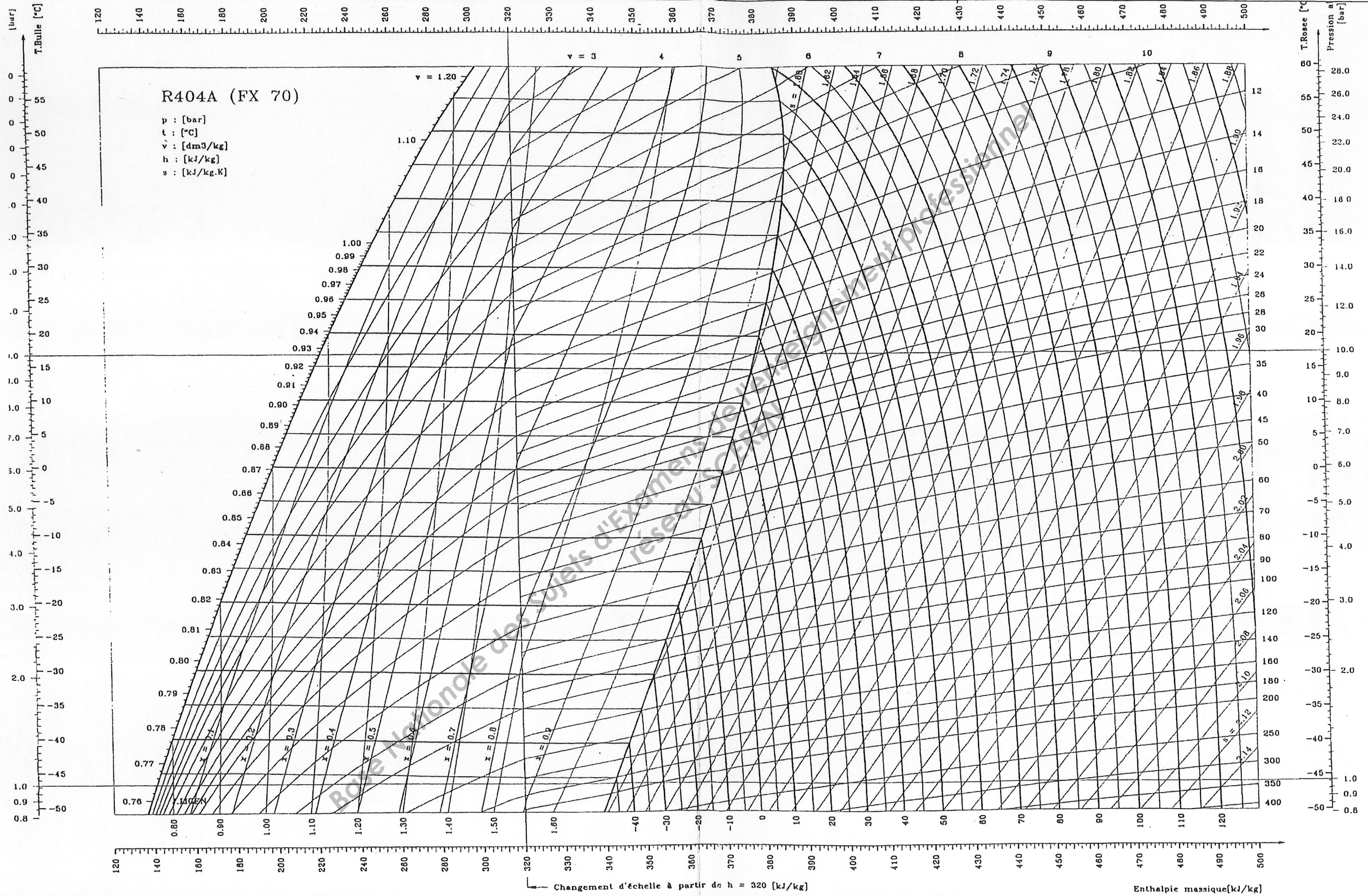
Épreuve/sous-épreuve : _____
(Préciser, suivi s'il y a lieu, le sujet choisi)

Numérotez chaque page (dans le cadre en bas de la page) et placez les feuilles intercalaires dans le bon sens.

DOCUMENT RÉPONSE n°2

Repères	Désignation	Rôle	Graphe fonctionnel
B1			
B2			
B3			
B4			
B5			
B6			
B7			
1			
2			

DOCUMENT RÉPONSE n°3 : DIAGRAMME ENTHALPIQUE DU R404A



Académie : _____ Session : _____

Examen ou concours : _____ Série* : _____

Spécialité/Option : _____ Repère de l'épreuve : _____

Épreuve/sous-épreuve : _____

NOM : _____
(en majuscules, suivi s'il y a lieu, du nom d'épouse)Prénoms : _____ N° du candidat Né(e) le : _____
(le numéro est celui qui figure sur la convocation ou la liste d'appel)

Examen ou concours : _____ Série* : _____

Spécialité/Option : _____

Repère de l'épreuve : _____

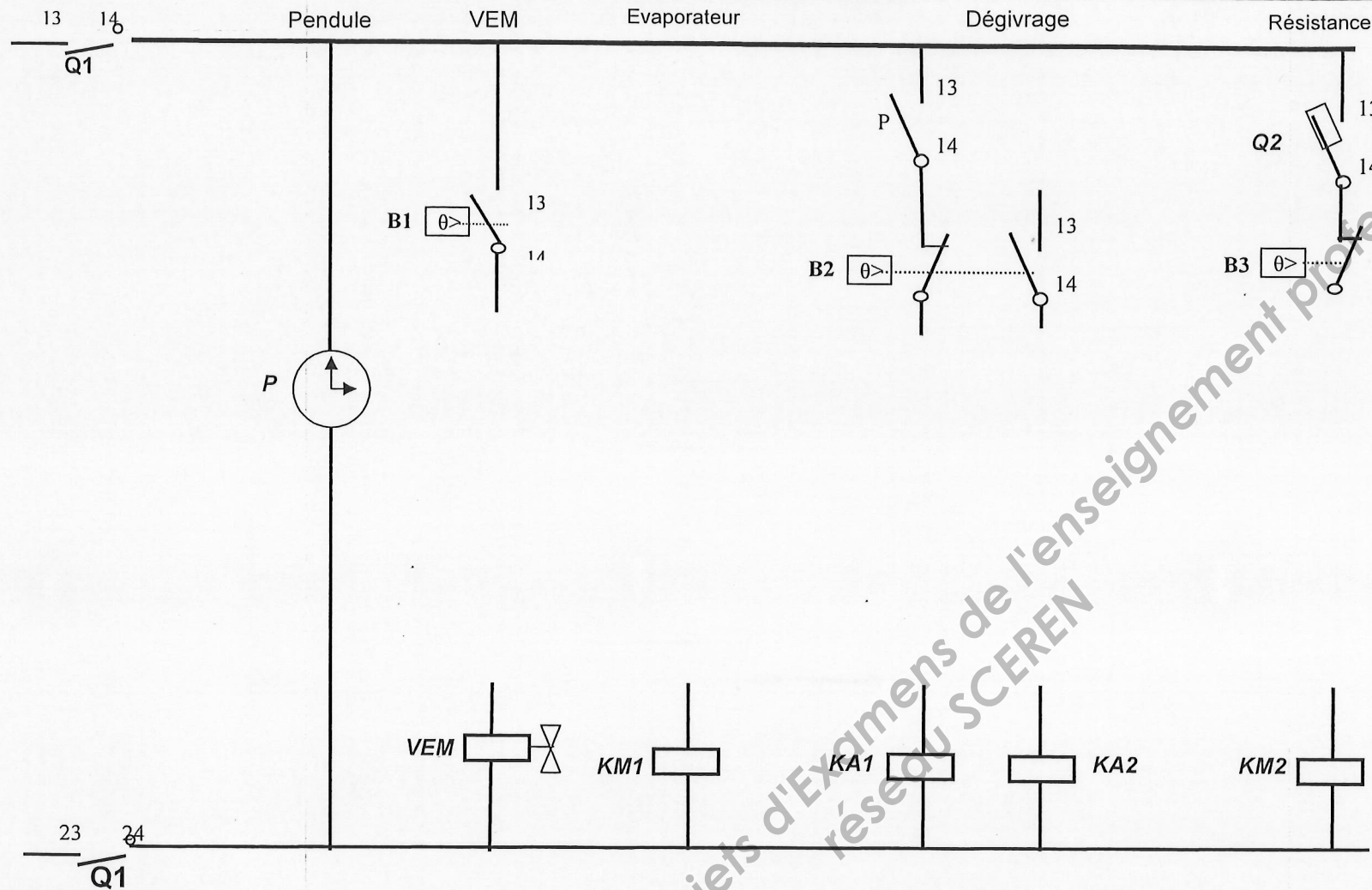
Épreuve/sous-épreuve : _____
(Préciser, suivi s'il y a lieu, le sujet choisi)

Numérotez chaque page (dans le cadre en bas de la page) et placez les feuilles intercalaires dans le bon sens.

DOCUMENT RÉPONSE n°4.

POINTS	θ (°C)	P (bar)	h (kJ/kg)	V_m (m ³ /kg)
1				
2 théorique				
2 réel				
3				
4 théorique				
4 réel				
5				
6				
7				
8				
9				
10				
11				
12				
13				

DOCUMENT REPONSE n°5



B1 : thermostat d'ambiance,
 B2 : thermostat de fin de dégivrage,
 B3 : thermostat incendie.

BTS FLUIDES ENERGIES ENVIRONNEMENTS	FECEISI	Session 2011
Étude des installations option C		Page : 20/ 20

Base Nationale des Sujets d'Examens de l'enseignement professionnel
réseau SCEREN

Académie : _____ Session : _____

Examen ou concours : _____ Série* : _____

Spécialité/Option : _____ Repère de l'épreuve : _____

Épreuve/sous-épreuve : _____

NOM : _____ (en majuscules, suivi s'il y a lieu, du nom d'épouse)

Prénoms : _____

Né(e) le : _____ N° du candidat _____

(le numéro est celui qui figure sur la convocation ou la liste d'appel)

Examen ou concours : _____ Série* : _____

Spécialité/Option : _____

Repère de l'épreuve : _____

Épreuve/sous-épreuve : _____

(Préciser, suivi s'il y a lieu, le sujet choisi)

Numérotez chaque page (dans le cadre en bas de la page) et placez les feuilles intercalaires dans le bon sens.