



SERVICES CULTURE ÉDITIONS
RESSOURCES POUR
L'ÉDUCATION NATIONALE

**Ce document a été numérisé par le CRDP de Bordeaux pour la
Base Nationale des Sujets d'Examens de l'enseignement professionnel**

session 2011

GÉOMÈTRE/TOPOGRAPHE

BREVET DE TECHNICIEN SUPÉRIEUR

SESSION 2011

Durée : 2 heures
Coefficient : 2

Matériel autorisé :

- Toutes les calculatrices de poche y compris les calculatrices programmables, alphanumériques ou à écran graphique à condition que leur fonctionnement soit autonome et qu'il ne soit pas fait usage d'imprimante (Cirulaire n°99-186, 16/11/1999)

Documents à rendre avec la copie :

- Annexe 1 page 4
- Annexe 2 page 5

Dès que le sujet vous est remis, assurez-vous qu'il est complet.

Le sujet se compose de 5 pages, numérotées de 1/5 à 5/5.

Un formulaire de 4 pages est joint au sujet.

BTS Géomètre Topographe		Session 2011
Mathématiques	GTMAT	Page : 1/5

EXERCICE 1 (9 POINTS) : GÉOMÉTRIE SPHÉRIQUE

L'espace est rapporté à un repère orthonormal direct $(O; \vec{i}, \vec{j}, \vec{k})$.

(Σ) est la sphère de centre O , de rayon 1.

Rappels : avec les notations usuelles de la trigonométrie sphérique :

- tout point de (Σ) est repéré par le couple $(\theta; \varphi)$ où θ est sa longitude et φ sa latitude (en radians) ;
- les éléments caractéristiques du triangle sphérique ABC sont notés a, b, c pour les angles au centre, et $\widehat{A}, \widehat{B}, \widehat{C}$ pour les angles aux sommets et seront exprimés en radians ;
- pour un triangle sphérique ABC : $\cos a = \cos b \cos c + \sin b \sin c \cos \widehat{A}$ et $\frac{\sin a}{\sin \widehat{A}} = \frac{\sin b}{\sin \widehat{B}} = \frac{\sin c}{\sin \widehat{C}}$

On considère en coordonnées sphériques les points de (Σ) suivants :

$$N\left(0; \frac{\pi}{2}\right) \quad S\left(0; -\frac{\pi}{2}\right) \quad A(0; 0) \quad B\left(0; \frac{\pi}{3}\right) \quad C\left(\frac{5\pi}{12}; 0\right)$$

1°) Compléter la figure donnée en annexe 1, en plaçant les points N, S, A, B et C , ainsi que le triangle sphérique ABC .

2°) a) En remarquant que $\frac{5\pi}{12} = \frac{\pi}{4} + \frac{\pi}{6}$ justifier les résultats suivants :

$$\cos\left(\frac{5\pi}{12}\right) = \frac{\sqrt{6} - \sqrt{2}}{4} \quad \text{et} \quad \sin\left(\frac{5\pi}{12}\right) = \frac{\sqrt{6} + \sqrt{2}}{4}.$$

b) Déterminer les valeurs exactes des coordonnées cartésiennes des points A, B, C .

3°) a) Donner les valeurs exactes de b, c et \widehat{A} .

b) Déterminer les valeurs arrondies à 10^{-3} près de a, \widehat{B} et \widehat{C} .

c) Déterminer la valeur arrondie à 10^{-2} près de l'aire du triangle sphérique ABC .

4°) On note I l'inversion de pôle N et de puissance 2.

Pour tout point M de l'espace, on notera M' son image par l'inversion I .

a) Déterminer l'image par l'inversion I de la sphère (Σ) privée du point N .

b) Quelles sont les images des points A et C par l'inversion I ?

c) Calculer les coordonnées exactes de B' , image du point B par l'inversion I .

d) Placer le point B' sur la figure en laissant les traits de construction.

EXERCICE 2 (11 POINTS) : ÉTUDE D'UNE COURBE PARAMÉTRÉE

Le plan est muni d'un repère orthonormal $(O; \vec{i}, \vec{j})$ direct.

On considère la courbe (Γ) dont chaque point M_t a pour coordonnées :

$$\begin{cases} x(t) = \frac{t^2}{1+t^2} \\ y(t) = \frac{e^t}{1+t^2} \end{cases}, t \text{ décrivant } \mathbf{R}.$$

1°) Étude des variations et étude de la courbe

a) Déterminer les limites en $-\infty$ et en $+\infty$ des fonctions x et y . Préciser l'asymptote de la courbe.

b) Démontrer que : $x'(t) = \frac{2t}{(1+t^2)^2}$ et $y'(t) = \frac{e^t(t-1)^2}{(1+t^2)^2}$.

c) Étudier les variations des fonctions x et y . Rassembler les résultats dans un tableau de variations.

d) Donner une équation de la droite (Δ) tangente à la courbe (Γ) au point E de paramètre $t = 1$.

2°) Étude de la courbure

a) Démontrer que : $x''(t) = \frac{2(1-3t^2)}{(1+t^2)^3}$.

On admettra que : $y''(t) = \frac{e^t(t-1)(t^3-3t^2+5t+1)}{(1+t^2)^3}$.

b) Déterminer le rayon de courbure R de la courbe (Γ) , au point A de paramètre $t = 0$.

Rappel : $R = \frac{(x'^2 + y'^2)^{\frac{3}{2}}}{x'y'' - x''y'}$

c) On note (C) le cercle de courbure au point A .

i) Démontrer que \vec{j} est un vecteur directeur unitaire de la tangente à (Γ) en A .

Préciser le vecteur \vec{n} tel que le repère $(A; \vec{j}, \vec{n})$ soit un repère orthonormal direct.

ii) Démontrer que le cercle (C) a pour centre le point $\Omega\left(\frac{1}{2}; 1\right)$.

iii) Déterminer une équation cartésienne du cercle (C) .

3°) Tracé de la courbe (Γ)

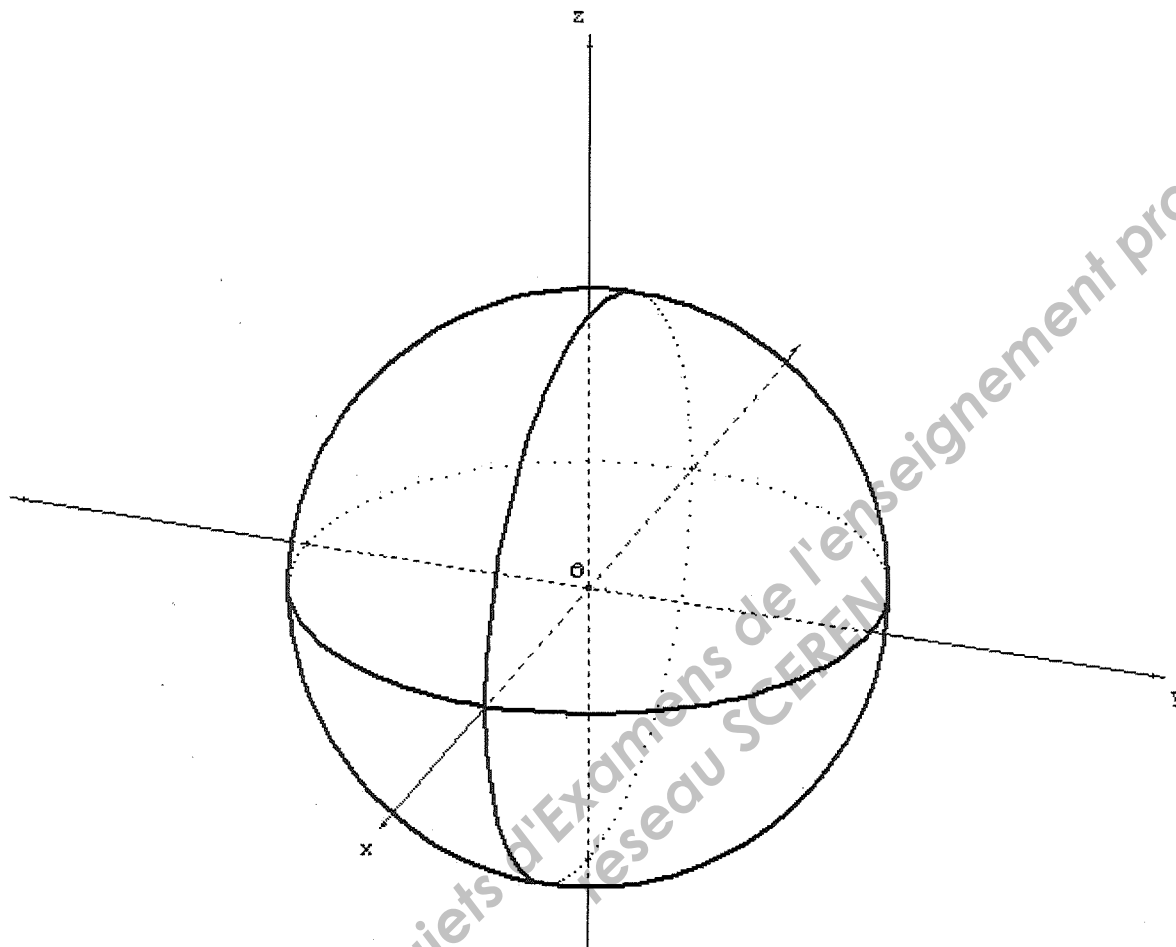
a) Compléter le tableau de valeurs en annexe 1 ; on donnera des valeurs arrondies à 10^{-2} près.

b) Tracer la courbe (Γ) , le cercle (C) , et la droite (Δ) sur la feuille donnée en annexe 2.

Académie :	Session :	Modèle EN.
Examen ou Concours :	Série * :	
Spécialité / option :	Repère de l'épreuve :	
Epreuve / sous-épreuve :		
NOM :		
<small>(en majuscules, suivi s'il y a lieu, du nom d'épouse)</small>		
Prénoms :	N° du candidat	<input type="text"/>
Né(e) le :		<small>(le numéro est celui qui figure sur la convocation ou la liste d'appel)</small>

ANNEXE 1 (A RENDRE AVEC LA COPIE)

EXERCICE 1 [question 1°]:




EXERCICE 2 [question 3°a)] :

Tableau de valeurs à compléter :

Point	M_{-2}	A	E	M_2
t	-2	0	1	2
$x(t)$				
$y(t)$				

ANNEXE 2 (A RENDRE AVEC LA COPIE)

EXERCICE 2 : [question 3°)b]



FORMULAIRE DE MATHÉMATIQUES

BTS GÉOMÈTRE-TOPOGRAPHE

1. RELATIONS FONCTIONNELLES

$$\ln(ab) = \ln a + \ln b, \text{ où } a > 0 \text{ et } b > 0$$

$$\exp(a+b) = \exp a \times \exp b$$

$$\cos(a+b) = \cos a \cos b - \sin a \sin b$$

$$\sin(a+b) = \sin a \cos b + \cos a \sin b$$

$$\cos(2t) = 2 \cos^2 t - 1 = 1 - 2 \sin^2 t$$

$$\sin(2t) = 2 \sin t \cos t$$

$$\sin p + \sin q = 2 \sin \frac{p+q}{2} \cos \frac{p-q}{2}$$

$$\sin p - \sin q = 2 \sin \frac{p-q}{2} \cos \frac{p+q}{2}$$

$$\cos p + \cos q = 2 \cos \frac{p+q}{2} \cos \frac{p-q}{2}$$

$$\cos p - \cos q = -2 \sin \frac{p+q}{2} \sin \frac{p-q}{2}$$

$$\cos a \cos b = \frac{1}{2} [\cos(a+b) + \cos(a-b)]$$

$$\sin a \sin b = \frac{1}{2} [\cos(a-b) - \cos(a+b)]$$

$$\sin a \cos b = \frac{1}{2} [\sin(a+b) + \sin(a-b)]$$

$$e^{it} = \cos t + i \sin t$$

$$\cos t = \frac{1}{2} (e^{it} + e^{-it}),$$

$$\sin t = \frac{1}{2i} (e^{it} - e^{-it})$$

$$e^{at} = e^{\alpha t} (\cos(\beta t) + i \sin(\beta t)), \text{ où } a = \alpha + i\beta$$

2. CALCUL DIFFÉRENTIEL ET INTÉGRAL

a) Limites usuelles

Comportement à l'infini

$$\lim_{t \rightarrow +\infty} \ln t = +\infty ;$$

$$\lim_{t \rightarrow +\infty} e^t = +\infty ;$$

$$\lim_{t \rightarrow -\infty} e^t = 0 ;$$

$$\text{Si } \alpha > 0, \lim_{t \rightarrow +\infty} t^\alpha = +\infty ; \quad \text{si } \alpha < 0, \lim_{t \rightarrow +\infty} t^\alpha = 0$$

Croissances comparées à l'infini

$$\text{Si } \alpha > 0, \lim_{t \rightarrow +\infty} \frac{e^t}{t^\alpha} = +\infty$$

$$\text{Si } \alpha > 0, \lim_{t \rightarrow +\infty} \frac{\ln t}{t^\alpha} = 0$$

Comportement à l'origine

$$\lim_{t \rightarrow 0} \ln t = -\infty$$

$$\text{Si } \alpha > 0, \lim_{t \rightarrow 0} t^\alpha = 0 ; \quad \text{si } \alpha < 0, \lim_{t \rightarrow 0} t^\alpha = +\infty$$

$$\text{Si } \alpha > 0, \lim_{t \rightarrow 0} t^\alpha \ln t = 0.$$

b) Dérivées et primitives

Fonctions usuelles

$f(t)$	$f'(t)$	$f(t)$	$f'(t)$
$\ln t$	$\frac{1}{t}$	Arc sin t	$\frac{1}{\sqrt{1-t^2}}$
e^t	e^t	Arc tan t	$\frac{1}{1+t^2}$
t^α ($\alpha \in \mathbb{R}$)	$\alpha t^{\alpha-1}$	e^{at} ($a \in \mathbb{C}$)	ae^{at}
$\sin t$	$\cos t$		
$\cos t$	$-\sin t$		
$\tan t$	$\frac{1}{\cos^2 t} = 1 + \tan^2 t$		

Opérations

$$(u+v)' = u' + v'$$

$$(ku)' = ku'$$

$$(uv)' = u'v + uv'$$

$$\left(\frac{1}{u}\right)' = -\frac{u'}{u^2}$$

$$\left(\frac{u}{v}\right)' = \frac{u'v - uv'}{v^2}$$

$$(v \circ u)' = (v' \circ u)u'$$

$$(e^u)' = e^u u'$$

$$(\ln u)' = \frac{u'}{u}, \quad u \text{ à valeurs strictement positives}$$

$$(u^\alpha)' = \alpha u^{\alpha-1} u'$$

c) Calcul intégral

Valeur moyenne de f sur $[a, b]$:

$$\frac{1}{b-a} \int_a^b f(t) dt$$

Intégration par parties :

$$\int_a^b u(t) v'(t) dt = [u(t)v(t)]_a^b - \int_a^b u'(t) v(t) dt$$

d) Développements limités

$$e^t = 1 + \frac{t}{1!} + \frac{t^2}{2!} + \dots + \frac{t^n}{n!} + t^n \varepsilon(t)$$

$$\frac{1}{1+t} = 1 - t + t^2 - \dots + (-1)^n t^n + t^n \varepsilon(t)$$

$$\ln(1+t) = t - \frac{t^2}{2} + \frac{t^3}{3} - \dots + (-1)^{n-1} \frac{t^n}{n} + t^n \varepsilon(t)$$

$$\sin t = \frac{t}{1!} - \frac{t^3}{3!} + \frac{t^5}{5!} - \dots + (-1)^p \frac{t^{2p+1}}{(2p+1)!} + t^{2p+1} \varepsilon(t)$$

$$\cos t = 1 - \frac{t^2}{2!} + \frac{t^4}{4!} - \dots + (-1)^p \frac{t^{2p}}{(2p)!} + t^{2p} \varepsilon(t)$$

$$(1+t)^\alpha = 1 + \frac{\alpha}{1!}t + \frac{\alpha(\alpha-1)}{2!}t^2 + \dots + \frac{\alpha(\alpha-1)\dots(\alpha-n+1)}{n!}t^n + t^n \varepsilon(t)$$

3. TRIGONOMETRIE SPHERIQUE

$$\cos a = \cos b \cos c + \sin b \sin c \cos A$$

$$\frac{\sin a}{\sin A} = \frac{\sin b}{\sin B} = \frac{\sin c}{\sin C}$$

$$\text{aire}(ABC) = (A+B+C-\pi)R^2$$

4. PROBABILITES

a) Loi binomiale $P(X = k) = C_n^k p^k q^{n-k}$ où $C_n^k = \frac{n!}{k!(n-k)!}$; $E(X) = np$; $\sigma(X) = \sqrt{npq}$

b) Loi de Poisson

$$P(X = k) = \frac{e^{-\lambda} \lambda^k}{k!}$$

$$E(X) = \lambda$$

$$V(X) = \lambda$$

$k \backslash \lambda$	0,2	0,3	0,4	0,5	0,6
0	0,8187	0,7408	0,6703	0,6065	0,5488
1	0,1637	0,2222	0,2681	0,3033	0,3293
2	0,0164	0,0333	0,0536	0,0758	0,0988
3	0,0011	0,0033	0,0072	0,0126	0,0198
4	0,0000	0,0003	0,0007	0,0016	0,0030
5		0,0000	0,0001	0,0002	0,0004
6			0,0000	0,0000	0,0000

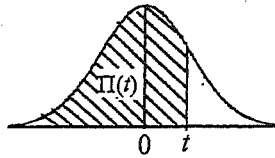
$k \backslash \lambda$	1	1.5	2	3	4	5	6	7	8	9	10
0	0.368	0.223	0.135	0.050	0.018	0.007	0.002	0.001	0.000	0.000	0.000
1	0.368	0.335	0.271	0.149	0.073	0.034	0.015	0.006	0.003	0.001	0.000
2	0.184	0.251	0.271	0.224	0.147	0.084	0.045	0.022	0.011	0.005	0.002
3	0.061	0.126	0.180	0.224	0.195	0.140	0.089	0.052	0.029	0.015	0.008
4	0.015	0.047	0.090	0.168	0.195	0.176	0.134	0.091	0.057	0.034	0.019
5	0.003	0.014	0.036	0.101	0.156	0.176	0.161	0.128	0.092	0.061	0.038
6	0.001	0.004	0.012	0.050	0.104	0.146	0.161	0.149	0.122	0.091	0.063
7	0.000	0.001	0.003	0.022	0.060	0.104	0.138	0.149	0.140	0.117	0.090
8		0.000	0.001	0.008	0.030	0.065	0.103	0.130	0.140	0.132	0.113
9			0.000	0.003	0.013	0.036	0.069	0.101	0.124	0.132	0.125
10				0.001	0.005	0.018	0.041	0.071	0.099	0.119	0.125
11				0.000	0.002	0.008	0.023	0.045	0.072	0.097	0.114
12					0.001	0.003	0.011	0.026	0.048	0.073	0.095
13					0.000	0.001	0.005	0.014	0.030	0.050	0.073
14						0.000	0.002	0.007	0.017	0.032	0.052
15							0.001	0.003	0.009	0.019	0.035
16							0.000	0.001	0.005	0.011	0.022
17								0.001	0.002	0.006	0.013
18								0,000	0.001	0.003	0.007
19									0.000	0.001	0.004
20										0.001	0.002
21										0,000	0.001
22											0.000

c) Loi normale

La loi normale centrée réduite est caractérisée par la densité de probabilité : $f(x) = \frac{1}{\sqrt{2\pi}} e^{-\frac{x^2}{2}}$

EXTRAITS DE LA TABLE DE LA FONCTION INTEGRALE DE LA LOI NORMALE CENTREE, REDUITE $\mathcal{N}(0,1)$

$$\Pi(t) = P(T \leq t) = \int_{-\infty}^t f(x) dx$$



t	0,00	0,01	0,02	0,03	0,04	0,05	0,06	0,07	0,08	0,09
0,0	0,500 0	0,504 0	0,508 0	0,512 0	0,516 0	0,519 9	0,523 9	0,527 9	0,531 9	0,535 9
0,1	0,539 8	0,543 8	0,547 8	0,551 7	0,555 7	0,559 6	0,563 6	0,567 5	0,571 4	0,575 3
0,2	0,579 3	0,583 2	0,587 1	0,591 0	0,594 8	0,598 7	0,602 6	0,606 4	0,610 3	0,614 1
0,3	0,617 9	0,621 7	0,625 5	0,629 3	0,633 1	0,636 8	0,640 6	0,644 3	0,648 0	0,651 7
0,4	0,655 4	0,659 1	0,662 8	0,666 4	0,670 0	0,673 6	0,677 2	0,680 8	0,684 4	0,687 9
0,5	0,691 5	0,695 0	0,698 5	0,701 9	0,705 4	0,708 8	0,712 3	0,715 7	0,719 0	0,722 4
0,6	0,725 7	0,729 0	0,732 4	0,735 7	0,738 9	0,742 2	0,745 4	0,748 6	0,751 7	0,754 9
0,7	0,758 0	0,761 1	0,764 2	0,767 3	0,770 4	0,773 4	0,776 4	0,779 4	0,782 3	0,785 2
0,8	0,788 1	0,791 0	0,793 9	0,796 7	0,799 5	0,802 3	0,805 1	0,807 8	0,810 6	0,813 3
0,9	0,815 9	0,818 6	0,821 2	0,823 8	0,825 4	0,828 9	0,831 5	0,834 0	0,836 5	0,838 9
1,0	0,841 3	0,843 8	0,846 1	0,848 5	0,850 8	0,853 1	0,855 4	0,857 7	0,859 9	0,862 1
1,1	0,864 3	0,866 5	0,868 6	0,870 8	0,872 9	0,874 9	0,877 0	0,879 0	0,881 0	0,883 0
1,2	0,884 9	0,886 9	0,888 8	0,890 7	0,892 5	0,894 4	0,896 2	0,898 0	0,899 7	0,901 5
1,3	0,903 2	0,904 9	0,906 6	0,908 2	0,909 9	0,911 5	0,913 1	0,914 7	0,916 2	0,917 7
1,4	0,919 2	0,920 7	0,922 2	0,923 6	0,925 1	0,926 5	0,927 9	0,929 2	0,930 6	0,931 9
1,5	0,933 2	0,934 5	0,935 7	0,937 0	0,938 2	0,939 4	0,940 6	0,941 8	0,942 9	0,944 1
1,6	0,945 2	0,946 3	0,947 4	0,948 4	0,949 5	0,950 5	0,951 5	0,952 5	0,953 5	0,954 5
1,7	0,955 4	0,956 4	0,957 3	0,958 2	0,959 1	0,959 9	0,960 8	0,961 6	0,962 5	0,963 3
1,8	0,964 1	0,964 9	0,965 6	0,966 4	0,967 1	0,967 8	0,968 6	0,969 3	0,969 9	0,970 6
1,9	0,971 3	0,971 9	0,972 6	0,973 2	0,973 8	0,974 4	0,975 0	0,975 6	0,976 1	0,976 7
2,0	0,977 2	0,977 9	0,978 3	0,978 8	0,979 3	0,979 8	0,980 3	0,980 8	0,981 2	0,981 7
2,1	0,982 1	0,982 6	0,983 0	0,983 4	0,983 8	0,984 2	0,984 6	0,985 0	0,985 4	0,985 7
2,2	0,986 1	0,986 4	0,986 8	0,987 1	0,987 5	0,987 8	0,988 1	0,988 4	0,988 7	0,989 0
2,3	0,989 3	0,989 6	0,989 8	0,990 1	0,990 4	0,990 6	0,990 9	0,991 1	0,991 3	0,991 6
2,4	0,991 8	0,992 0	0,992 2	0,992 5	0,992 7	0,992 9	0,993 1	0,993 2	0,993 4	0,993 6
2,5	0,993 8	0,994 0	0,994 1	0,994 3	0,994 5	0,994 6	0,994 8	0,994 9	0,995 1	0,995 2
2,6	0,995 3	0,995 5	0,995 6	0,995 7	0,995 9	0,996 0	0,996 1	0,996 2	0,996 3	0,996 4
2,7	0,996 5	0,996 6	0,996 7	0,996 8	0,996 9	0,997 0	0,997 1	0,997 2	0,997 3	0,997 4
2,8	0,997 4	0,997 5	0,997 6	0,997 7	0,997 7	0,997 8	0,997 9	0,997 9	0,998 0	0,998 1
2,9	0,998 1	0,998 2	0,998 2	0,998 3	0,998 4	0,998 4	0,998 5	0,998 5	0,998 6	0,998 6

TABLE POUR LES GRANDES VALEURS DE t

t	3,0	3,1	3,2	3,3	3,4	3,5	3,6	3,8	4,0	4,5
$\Pi(t)$	0,998 65	0,999 04	0,999 31	0,999 52	0,999 66	0,999 76	0,999 841	0,999 928	0,999 968	0,999 997

Nota : $\Pi(-t) = 1 - \Pi(t)$