



SERVICES CULTURE ÉDITIONS
RESSOURCES POUR
L'ÉDUCATION NATIONALE

**Ce document a été numérisé par le CRDP de Montpellier pour la
Base Nationale des Sujets d'Examens de l'enseignement professionnel**

Ce fichier numérique ne peut être reproduit, représenté, adapté ou traduit sans autorisation.



SESSION 2011

CHAMP CAPTANT DU KASTENWALD



CORRIGE

Baccalauréat Professionnel électrotechnique-énergie et équipements communicants

Épreuve : E2
1106-EEE EO C

CORRIGE

Durée : 5 heures
Coefficient : 5

Page : 1 / 30

Les besoins de consommation d'eau de la CAC de Colmar, imposent la création d'un nouveau champ captant. En cours de projet, plusieurs améliorations sont envisagées afin de réaliser des économies d'énergie tout en assurant la sécurité des personnes et des biens.

Objectifs de l'étude :

- **Partie A** : proposer une amélioration de la continuité de service et sélectionner les équipements de comptage.
- **Partie B** : identifier les différentes zones d'intervention selon les normes en vigueur, vérifier les caractéristiques des principaux éléments et organiser une intervention d'entretien préventive.
- **Partie C** : assurer la sécurité de l'installation
- **Partie D** : rendre l'installation communicante, expliquer le fonctionnement général.
- **Partie E** : comparer des coûts d'exploitation, protéger l'installation contre les intrusions.
- **Partie F** : comparer la motorisation existante à une motorisation de remplacement, proposer un capteur de remplacement.

Partie :	Titre :	Temps conseillé :	Note :
TRONC COMMUN			
A	Distribution HTA/BT	0 H 45 min	/30
B	Distribution BT	1 H 00 min	/40
C	Surveillance de l'installation	0 H 35 min	/25
D	Communication	1 H 10 min	/45
APPROFONDISSEMENT DU CHAMP D'APPLICATION INDUSTRIEL			
E	Choix d'un fournisseur d'énergie et protection contre les intrusions	1 H 30 min	/60
APPROFONDISSEMENT DU CHAMP D'APPLICATION HABITAT TERTIAIRE			
F	Dimensionnement du forage, contrôle de débit.	1 H 30 min	/60
EPREUVE E2 : TRONC COMMUN + APPROFONDISSEMENT CHAMP D'APPLICATION CHOISI			/200

Compétences de l'épreuve E2

C1-3 Décoder les documents relatifs à tout ou parti d'un ouvrage. [C1.1 Décoder les schémas, plans et descriptifs concernant des tâches proposées.](#)

C1-5 Interpréter un planning d'intervention.

C2-1 Traduire en solutions techniques les besoins du client. [C1.2 Exploiter les consignes verbales/écrites des tâches proposées.](#)

C2-2 Compléter les plans, schémas, plannings et devis.

C3-1 Argumenter les solutions retenues relatives aux plans, schémas, plannings, devis, liste des matériels, outillages et consignes de sécurités en vue de la constitution du dossier de réalisation. [C3.1 Choisir les matériels d'une installation simple et de petite distribution.](#)

C5-1 Proposer un matériel remplissant les mêmes fonctions qu'un appareil à remplacer. [C1.5 Recueillir les informations utiles en vue d'effectuer une intervention de maintenance par remplacement.](#)

C5-2 Établir la liste des Matériels électriques constituant l'ouvrage, outillage spécifique et collectif, appareils de mesurage et/ou de contrôle, équipements de protection individuels et collectifs.

C5-5 Attribuer à chaque équipier, en fonction de ses compétences spécifiques et de son titre d'habilitation, les activités professionnelles prévues au planning. [C1.3 Prendre en compte le PPSPS au niveau de l'exécution.](#) [C3.4 Identifier les habilitations électriques requises pour une tâche à exécuter.](#)

Bac Pro Eleec

Epreuve E2 : Etude d'un ouvrage

Compétences	Parties					
	A	B	C	D	E	F
C1-3	x	x				
C1-5		x				
C2-1	x	x	x	x	x	x
C2-2	x		x	x	x	x
C3-1	x	x	x	x	x	x
C5-1					x	x
C5-2					x	x
C5-5		x				

Baccalauréat Professionnel électrotechnique-énergie et équipements communicants

Épreuve : E2	CORRIGE	Durée : 5 heures	Page : 2 / 30
1106-EEE EO C		Coefficient : 5	



SESSION 2011

CHAMP CAPTANT DU KASTENWALD

Sujet : tronc commun

Baccalauréat Professionnel électrotechnique-énergie et équipements communicants

Épreuve : E2
1106-EEE EO C

CORRIGE

Durée : 5 heures
Coefficient : 5

Page : 3 / 30

PARTIE A : Distribution HTA/BT (sur 30 points)

La distribution de l'eau potable est essentielle pour la population. Il est donc nécessaire de garantir l'alimentation en énergie du poste Kastenwald. A cet effet, on vous demande :

- A1. d'étudier l'installation existante
- A2. de proposer une amélioration utilisant un second réseau électrique
- A3. d'identifier les cellules du poste HT et leurs grandeurs caractéristiques
- A4. de transmettre les informations utiles à la mise en œuvre des compteurs

Ressources : - DTR 4, 5, 6, 10 : Distribution
- DTR 11, 12 : Centrales de mesure

A1. Distribution initiale

- Indiquer ci-dessous par une croix ☒ le type d'alimentation du poste Kastenwald :

<input type="checkbox"/>	Coupure d'artère
<input type="checkbox"/>	Double dérivation
<input checked="" type="checkbox"/>	Antenne

/1



- Expliquer le principal l'inconvénient de ce type de distribution :

Si la source est en panne, le poste n'est plus alimenté en énergie.

A2. Distribution finale

On décide d'améliorer la distribution sur le poste de distribution du Kastenwald par :

- la création d'une deuxième arrivée depuis le poste de WIDENSOLEN
- la création d'une troisième arrivée depuis le poste d'APPENWHIR.

Cette arrivée va permettre de modifier la boucle Voie Romaine -Vogelgrun -Appenwhir –Widensolen

- Compléter le schéma de distribution ci-dessous :

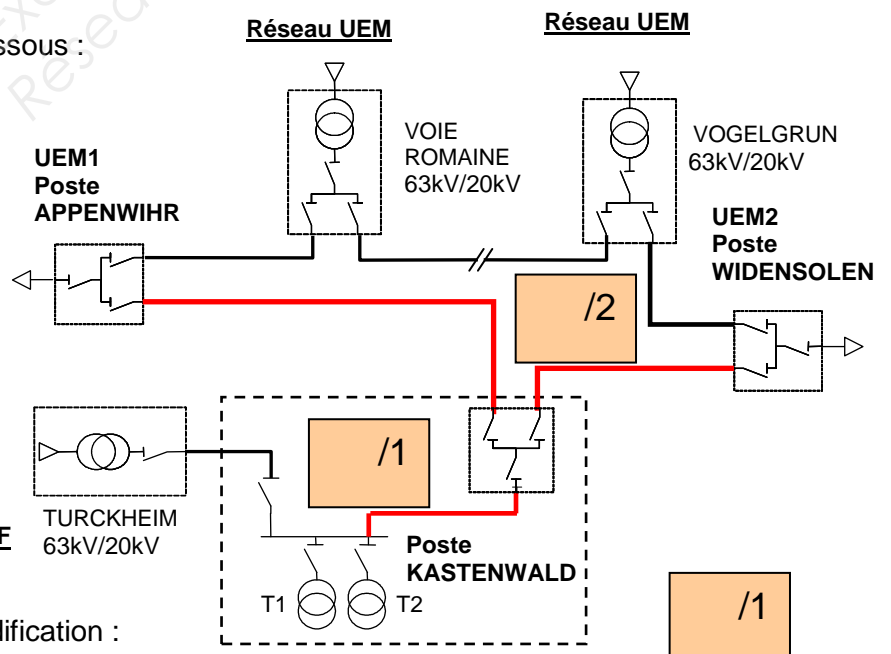
Réseau ERDF :

Le poste source TURCKHEIM alimente le poste de livraison du Kastenwald

Réseau UEM :

La boucle du réseau UEM modifiée se referme maintenant par le poste Kastenwald grâce à l'ajout d'une protection générale et de deux arrivées dans ce dernier.

Réseau ERDF



/1

- Expliquer quel est l'avantage de cette modification :

Le poste Kastenwald dispose maintenant de trois lignes d'alimentation, la continuité de service est donc meilleure.

A3. Poste HT définitif et comptage

A3.1. Types de cellules et repères

Indiquer au dessus de chaque cellule : son type (IM, DM, QM, CM) et son repère en tenant compte de l'adjonction des éléments suivants :

Fonction : Repère
 Protection générale UEM : N3
 Liaison vers Appenwihr : N1
 Liaison vers Widensolen : N2

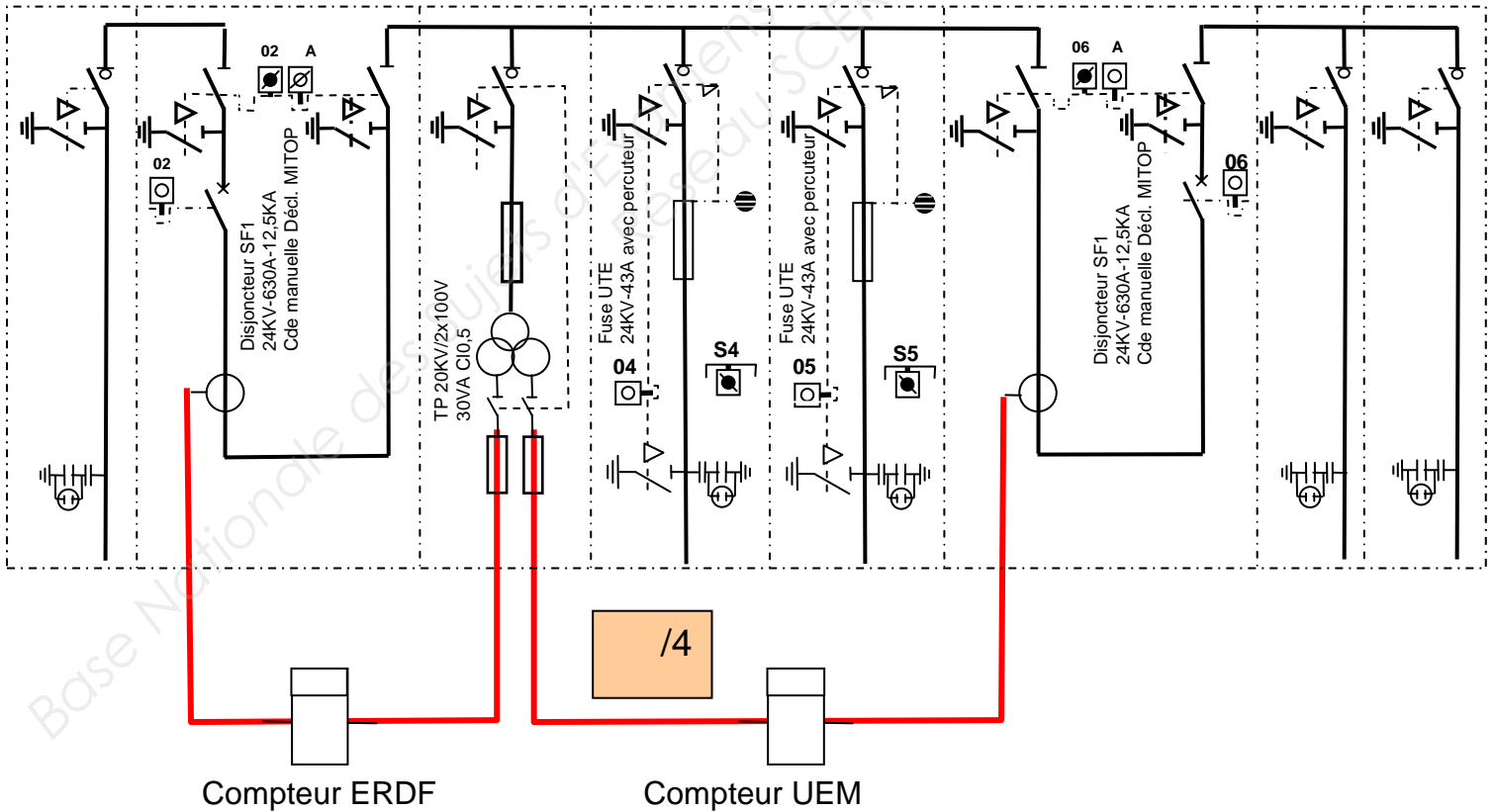
Les repères des éléments initiaux sont indiqués dans le dossier technique ressource p.5.

A3.2. Schémas unifilaires des compteurs

Indiquer les liaisons à réaliser pour remplir les fonctions de comptage ERDF et UEM :

/2

Types de cellules et repères							
IM	DM2	CM	QM	QM	DM	IM	IM
1	2	3	4	5	N3	N1	N2



A3.3. Transformateurs HTA/BT

Déterminer le courant nominal absorbé quand les deux transformateurs fonctionnent en même temps (côté HT).

A3.3.1. Déterminer la puissance totale apparente S sachant que les 2 transformateurs peuvent être en parallèle en fonction de la demande en eau.

A3.3.2. Calculer le courant nominal I_n correspondant.

A3.3.3. Calculer les courants de pointe I_p allant jusqu'à 130% du courant nominal.

/3

Question	Formule	Application numérique	Résultat
A331	$S = \Sigma S$	800+800	1600 KVA
A332	$I = S / U \sqrt{3}$	1600 / (20 x 1.732)	46.2A
A333	$I_p = I_n \times 1.3$	46,2 x 1.3	60A

A3.4. Sécurité

- Expliquer la procédure d'accès au transformateur T2 et donner le numéro des clés à utiliser :

(le schéma final avec les clés de manœuvre est celui de la page 5 du sujet, le dossier ressources précise les verrouillages assurés.)



/4

- Consigner le disjoncteur du secondaire de T2 (6QF2)
- Ouvrir l'interrupteur de la cellule de protection (QM5)
- Fermer le sectionneur de terre, prendre la clé S5
- Avec la clé S5 déverrouiller l'accès au transformateur. La clé restera prisonnière


- Quel est le nom de l'élément qui empêche la fermeture simultanée des sectionneurs des arrivées ERDF et UEM ?

Il s'agit de la clé A (verrouillage à serrure)

/2

A4. Centrale de mesure

La centrale de mesure pour le comptage ERDF devra être communicante. Les sorties impulsionnelles, les options de surveillance à distance, et surveillance des harmoniques sont inutiles. Les courants mesurés dépassent 50A sans excéder 75A. Les tensions délivrées par les TP de la cellule CM sont 3x400V 50Hz.



A4.1. Choix d'un ensemble de comptage HT

- Compléter le tableau de commande ci-dessous :

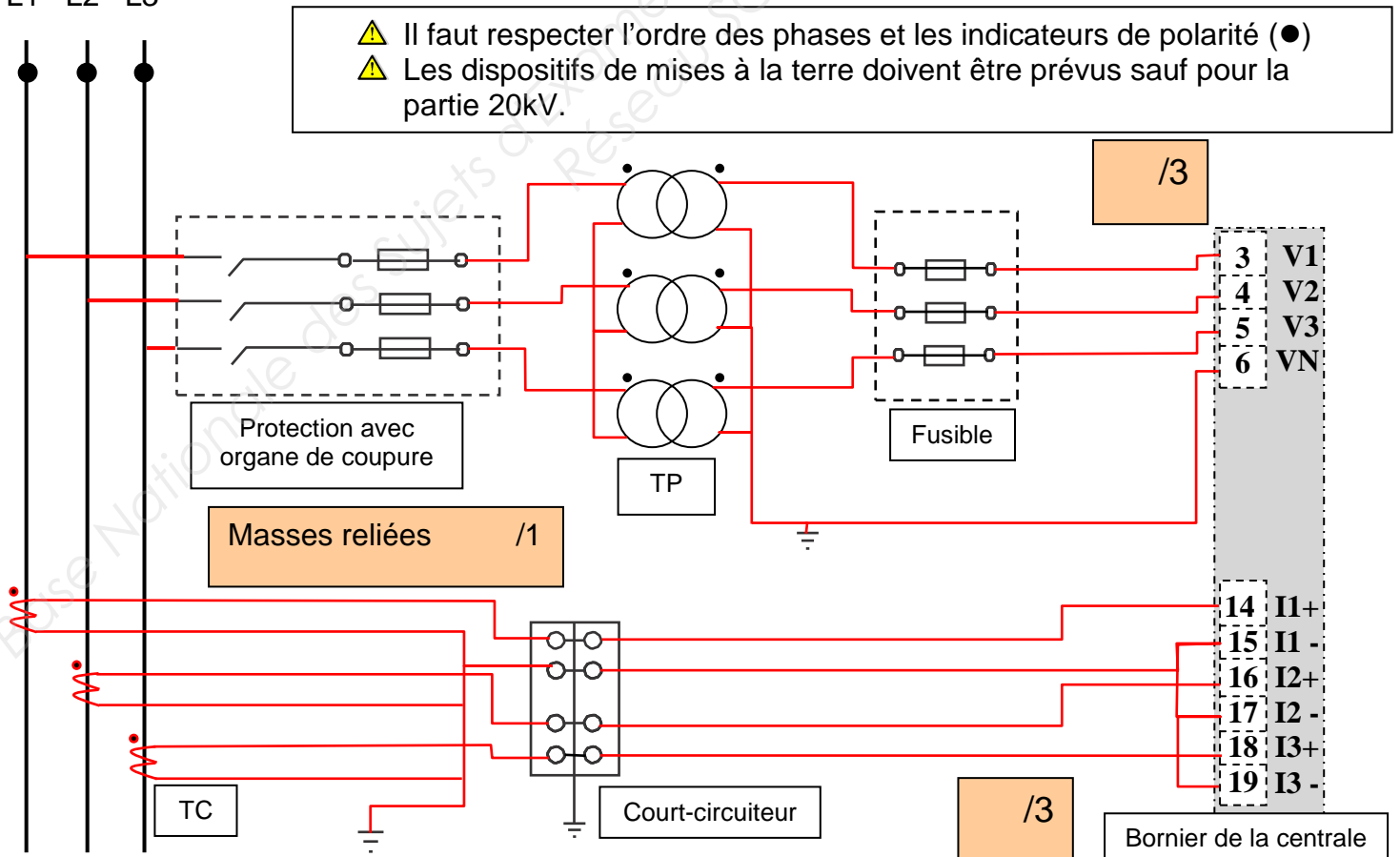
/3

Désignation :	Référence:	Quantités :
Centrale de mesure	PM210MG	1
Transformateur de courant	16452	3
Canon	16550	3

A4.2. Schéma des raccordements d'une centrale de mesure

- Réaliser le schéma de raccordement pour un ensemble de comptage destiné au réseau ERDF :

L1 L2 L3



PARTIE B : Distribution BT (sur 40 points)

Vous êtes chargé d'identifier les risques propres aux différentes zones d'intervention et de rassembler les informations nécessaires pour le dimensionnement des appareils de protection. Pour cela vous allez :

- B1. Identifier les schémas de liaison à la terre.
- B2. Vérifier le pouvoir de coupure des disjoncteurs.
- B3. Vérifier la puissance des transformateurs.
- B4. Vérifier la compatibilité des transformateurs.
- B5. Identifier les différentes zones d'intervention.

Ressources : - DTR page 6, Schéma de distribution
- DTR page 10 Cellules HT et normes
- DTR page 13 Méthodes de calcul

B1. Schéma de liaison à la terre SLT

- Préciser dans les cases ci-dessous et pour chaque jeu de barres le type de SLT employé : (TT, IT ou TN)

Jeu de barres	SLT
JDB1	IT
JDB2	TT

/2

B2. Pouvoir de coupure

- Calculer le courant nominal puis le courant de court circuit au secondaire de chacun des transformateurs, en vous référant aux caractéristiques des transformateurs T1 et T2 (notamment la puissance et la tension de court circuit) :

Calcul	Formule	Application numérique	Résultat
I nominal	$I_n = \frac{S}{U_{20}\sqrt{3}}$	$\frac{800 \times 10^3}{420 \times \sqrt{3}}$	1100 A
I _{cc}	$I_{cc} = \frac{I_n \times 100}{U_{cc}}$	$\frac{1100 \times 100}{6}$	18,3 kA

/4

Les transformateurs T1 et T2 ont la possibilité de fonctionner en parallèle et leur courant de court circuit est de 19kA pour chacun.

- Choisir parmi les pouvoirs de coupure standard ceux que devront posséder les disjoncteurs ci-dessous :

Disjoncteurs	Pouvoir de coupure standard
6QF1 et 6QF2	20kA
16QF5, QF1, QF3, 16QF, 17QF2	50kA

/2

Baccalauréat Professionnel électrotechnique-énergie et équipements communicants

Épreuve : E2
1106-EEE EO C

CORRIGE

Durée : 5 heures
Coefficient : 5

Page : 8 / 30

B3. Puissance du transformateur

Pour cette question nous ferons l'étude au niveau du seul jeu de barres 1, en utilisant le courant nominal des disjoncteurs. Pour les besoins actuels, seuls les forages 1 et 2 fonctionnent simultanément.



- Faire l'inventaire de ces courants et compléter le tableau ci-dessous :

- Déterminer la puissance apparente nécessaire à l'installation sachant qu'aucune extension n'est à prendre en compte car le deuxième transformateur peut en cas de dépassement faire l'apport nécessaire ($k_e = 1$). Compléter le tableau ci-dessous :

Calibre des disjoncteurs : exemple NS 160 correspond à un calibre de 160 A.

Le coefficient K_s sera déterminé en fonction du nombre de départ pris en compte pour le calcul.

Départ	In : Calibre du disjoncteur	k_u	lb : Courant d'emploi	k_s	I_{JB1} : Courant jeu de barres JDB1	K_e	It : Courant total
16QF5	100A	1	100	0,9	1082	1	1082
16QF1	630A	1	630				
17QF2	630A	0,75	472,5				

/4

Rappel : $I_b = I_n \cdot k_u$

$I_{JB} = (I_{b1} + I_{b2} + \dots + I_{bN}) \cdot k_s$

$I_t = I_{JB} \cdot k_e$

Calcul	Formule	Application numérique	Résultat
Puissance apparente :	$UI\sqrt{3}$	400x1082x1,73	750kVA

/2

- La puissance (800kVA) du transformateur convient : OUI NON

/1

- Faire le bilan des puissances actives ci-dessous en excluant les condensateurs et le parafoudre.

Le facteur de puissance doit être supérieur ou égal à 0,928 ($\tan\phi = 0,4$) le rendement des pompes étant égal à 90% et la puissance des auxiliaires étant estimée à 60kW (T3).

Départ	Puissance active (kW):	k_u	Puissance du départ	k_s	Puissance du JDB1	K_e	Puissance active totale
16QF5	60	1	60	0,9	491,4	1	491,4
16QF1	250/0,90 = 278	1	278				
17QF2	250/0,90 = 278	0,75	208				

/4

- Calculer, à partir de la puissance apparente estimée, le facteur de puissance global total, puis la puissance réactive fournie par la batterie de condensateurs pour obtenir un facteur de puissance tel que $\tan \varphi = 0,4$:

Calcul	Formule	Application numérique	Résultat
Facteur de puissance	$\cos \varphi = P/S$	491,4 / 750	0,655
Puissance réactive	$Q_c = P (\tan \varphi - \tan \varphi')$	491,4 (1,15 - 0,4)	370 kVAR

/6

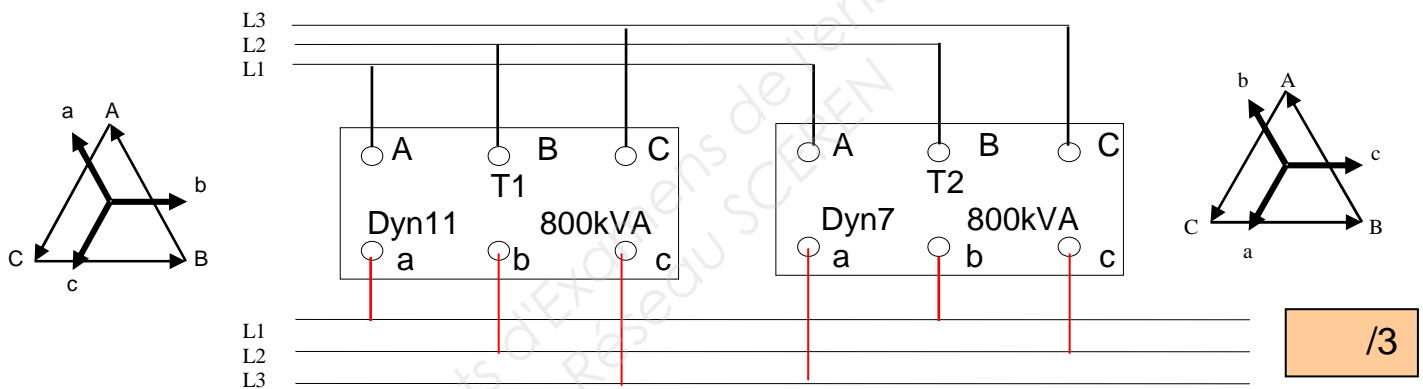
B4. Compatibilité des transformateurs

- Préciser en cochant la bonne case, si les transformateurs T1 et T2 peuvent être branchés en parallèle par la fermeture simultanée des protections QM4, QM5, 6QF1 et 6QF2 :

OUI NON

/1

- Si oui, compléter l'extrait de schéma ci-dessous en reliant les secondaires au jeu de barres JDB1 : (les protections n'étant pas à représenter).



/3

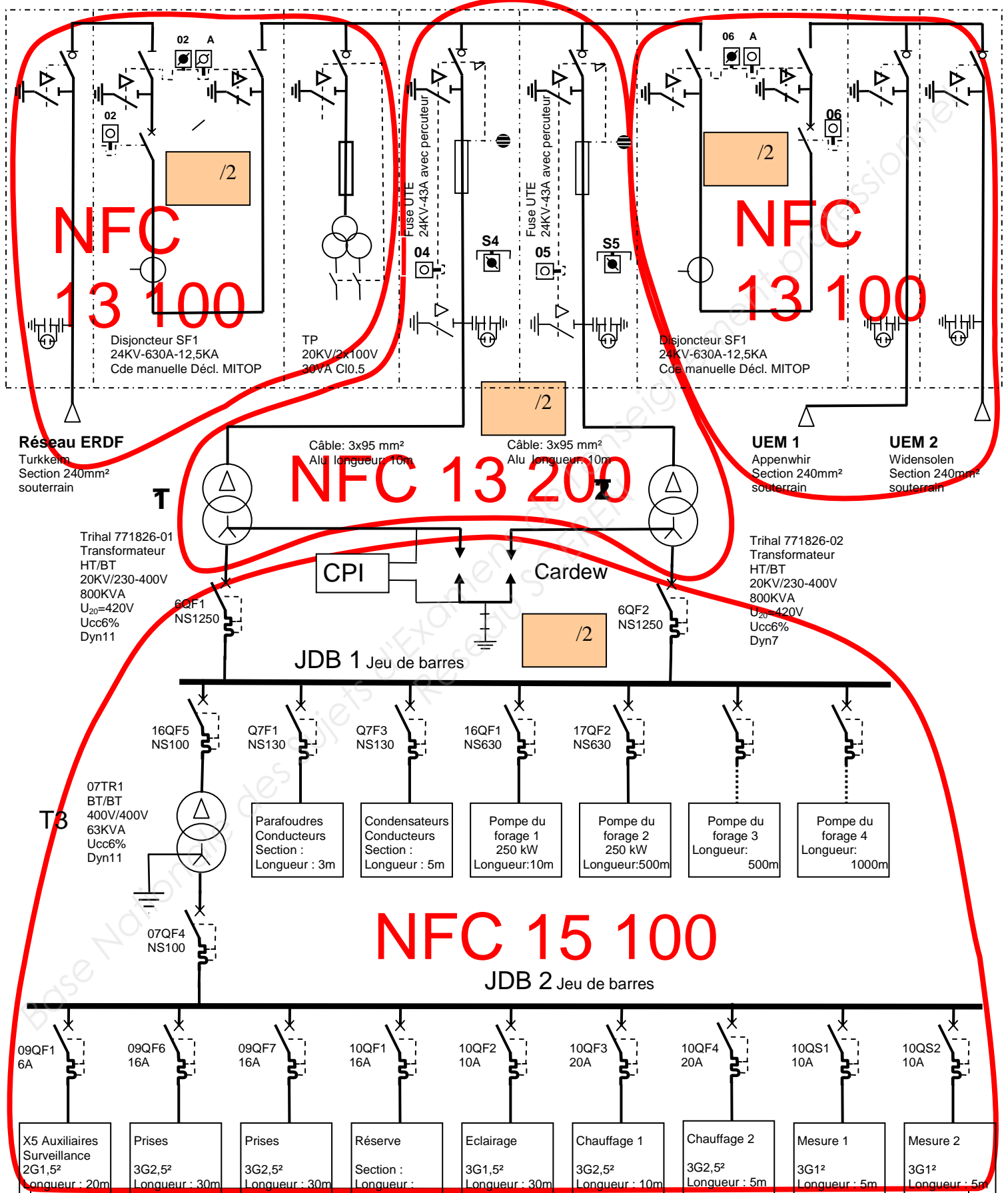
- En vous référant au DTR, citer trois conditions pour la mise en parallèle des deux transformateurs ;
 - Préciser celles qui sont vérifiables à partir des éléments du Dossier Technique et Ressources :

/3

Conditions :	Vérifiable :	
	oui	non
Alimentation par des réseaux identiques	<input checked="" type="checkbox"/>	??
Connexions de même longueur et de mêmes caractéristiques	<input checked="" type="checkbox"/>	<input type="checkbox"/>
Indices horaires compatibles	<input checked="" type="checkbox"/>	<input type="checkbox"/>
Différence de tensions de court circuit inférieure à 10%	<input checked="" type="checkbox"/>	<input type="checkbox"/>
Différence de tensions phase phase ou phase neutre inférieure à 4%	<input type="checkbox"/>	<input checked="" type="checkbox"/>

B5. Domaine d'application des normes

- Entourer sur le schéma les éléments soumis à la norme C13100 et écrire « **C13100** » dans cette/ces zone.
- Entourer sur le schéma les éléments soumis à la norme C13200 et écrire « **C13200** » dans cette/ces zone.
- Entourer sur le schéma les éléments soumis à la norme C15100 et écrire « **C15100** » dans cette/ces zone.



Baccalauréat Professionnel électrotechnique-énergie et équipements communicants

Épreuve : E2 1106-EEE EO C	CORRIGE	Durée : 5 heures Coefficient : 5	Page : 11 / 30
-------------------------------	----------------	-------------------------------------	----------------

PARTIE C : Surveillance de l'installation IT (sur 25 points)

On se propose de rendre communicante la surveillance de l'isolement de l'installation dans la zone IT. Le choix du constructeur a été arrêté sur la société SOCOMEC dont les différents constituants communicants grâce à un bus (bus Isom) sont sécurisé par redondance des fonctions maître dont le rôle peut être assuré par chaque constituant.

Ressources : - DTR page 7, Schéma des appareils de surveillance
- DTR pages 14, 15, 16, 17 caractéristiques et références des contrôleurs SOCOMEC

- Le CPI comprendra une sortie défaillance et l'horodatage des défauts.
- L'alimentation des auxiliaires est prévue en 230V 50Hz.
- Le localisateur disposera d'un écran graphique LCD retro éclairé.
- Une liaison Bus Isom Ethernet doit être rendue possible.

C1. Liste de matériel pour la surveillance de l'installation IT

/8

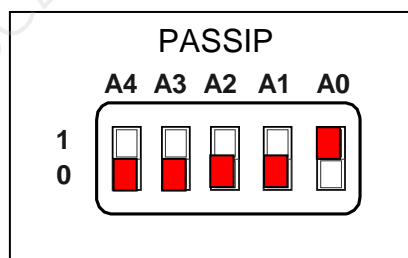
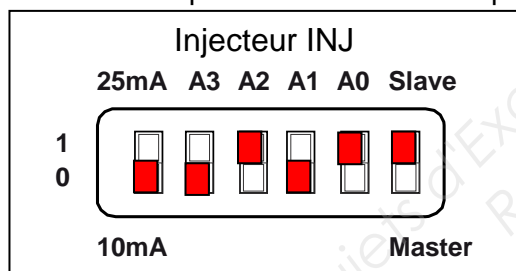
- Choisir et compléter le tableau ci-dessous :

Désignation	CPI	Injecteur	Localisateur	Passerelle IP
Référence	4733 9611	4796 1001	4796 6004	4796 3501

A la mise en œuvre le paramétrage de l'interface IP (PASSIP) et de l'injecteur INJ se font par micro-interrupteur situés en face avant. Le PASSIP sera défini en maître à l'adresse de valeur 1 :

- L'injecteur sera donc esclave (Slave) avec comme adresse la valeur 115.
- Les impulsions seront de 10mA

- Positionner sur les figures ci-dessous la position des micro-interrupteurs en noircissant la position 1 ou 0 de chaque micro-interrupteur de telle manière que les conditions ci-dessus soient respectées :



/5

C2. Analyse de schéma

A l'aide du schéma de la page DTR 7/31 répondre aux questions ci-dessous. En cas de défaut, le contact d'alarme 1 du CPI passe de l'état 1 à l'état 0.

- Quelle est l'action du contact d'alarme 1 du CPI lorsqu'apparaît un défaut ?

Klaxon et lampe se mettent en route

/3

- Que faut-il faire pour acquitter le défaut ?

Basculer S

/3

- Conséquence de cette action ?

Arrêt de K et H continue

/3

- Que se passe-t-il lorsque le défaut disparaît ?

Arrêt de H et K s'enclenche à nouveau

/3

Baccalauréat Professionnel électrotechnique-énergie et équipements communicants

Épreuve : E2
1106-EEE EO C

CORRIGE

Durée : 5 heures
Coefficient : 5

Page : 12 / 30

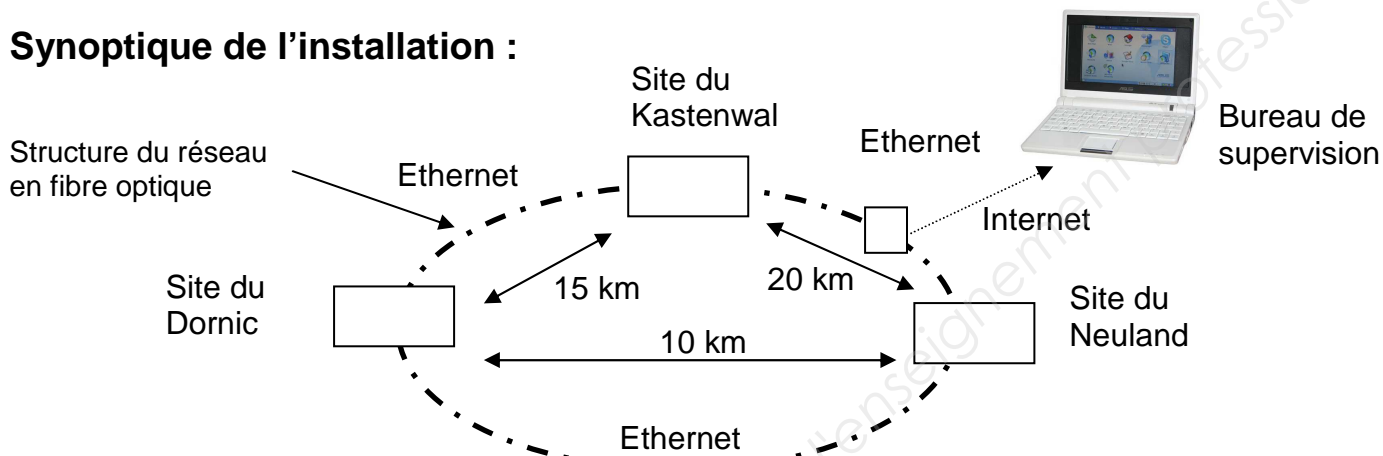
PARTIE D : Communication (sur 45 points)

La communication est essentielle, en effet, le pompage s'organise en faisant intervenir les trois sites de forages en même temps pour restaurer pendant les heures creuses la consommation journalière. Il faut de plus tenir compte des réserves disponibles sur chaque site, et éviter des déséquilibres de pression sur l'ensemble du réseau. On vous demande d'identifier les besoins de l'installation communicante :

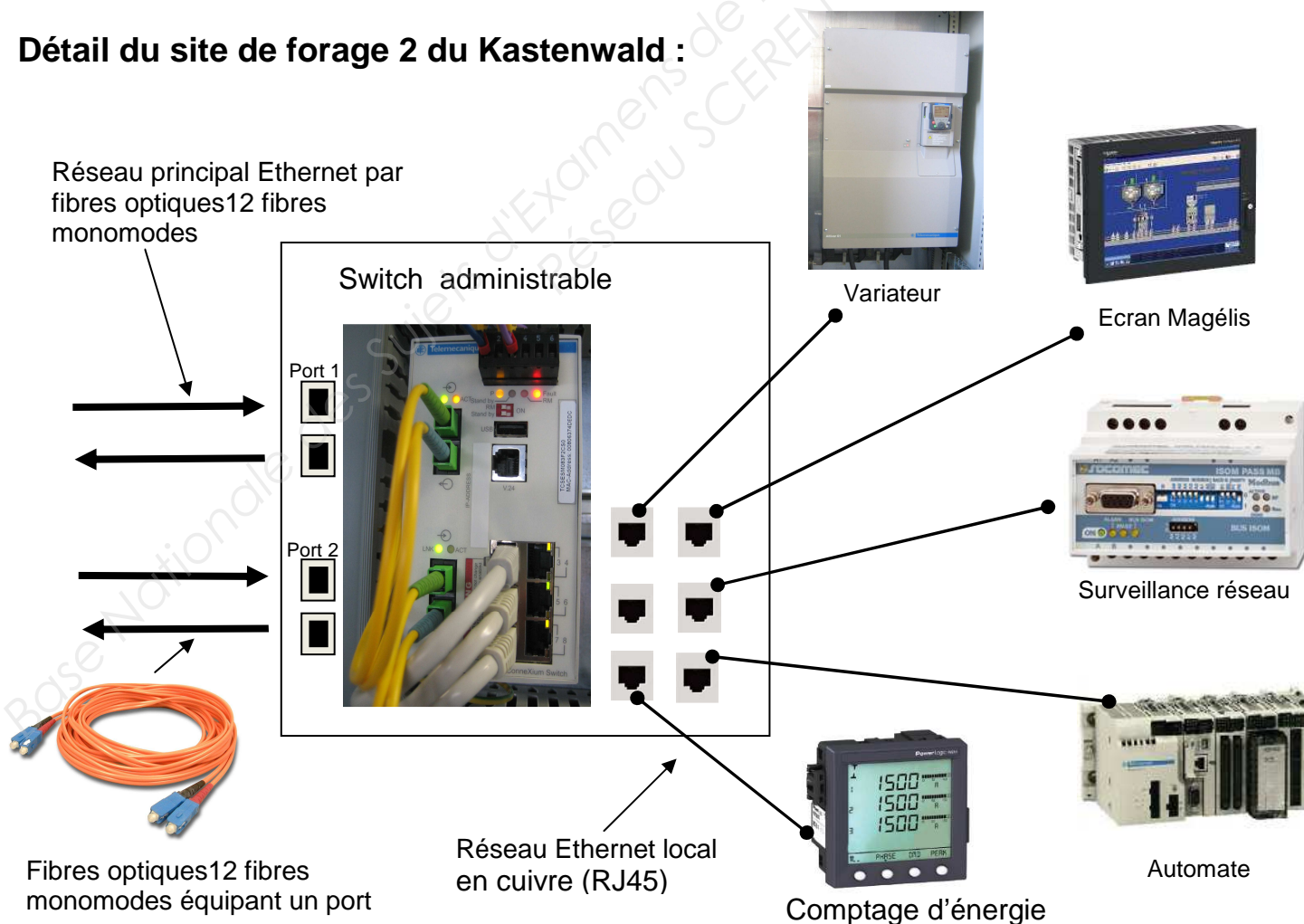
- D1. Sélectionner le type de répartiteur (Switch).
- D2. De lister les protocoles et de proposer les passerelles nécessaires.
- D3. D'identifier la nature des réseaux.
- D4. De sélectionner un support de transport de l'information.

Ressources : - DTR page 11, 17, 20, 22, 24, 25 équipements communicants
- DTR page 24 fibres optiques

Synoptique de l'installation :



Détail du site de forage 2 du Kastenwald :



Baccalauréat Professionnel électrotechnique-énergie et équipements communicants

Épreuve : E2
1106-EEE EO C

CORRIGE

Durée : 5 heures
Coefficient : 5

Page : 13 / 30

D1. Choix du switch (fibre optique–cuivre)

/10

- Compléter le tableau ci dessous :

Type de fibre	<input checked="" type="checkbox"/> Monomode	<input type="checkbox"/> Multimode
Nombre de ports nécessaire en fibre	2 ports	
Nombre de ports nécessaire en cuivre (RJ45)	5 ports	
Référence du Switch choisi	TCSESM083F2CS0	

D2. Caractéristiques des différents protocoles

- Compléter le tableau ci dessous sachant que la fonction I/O scanning est obligatoire pour l'automate :

/15

	Type de communication d'origine	Une passerelle est elle nécessaire ?		Choisir un type de passerelle si nécessaire. Indiquer la référence Constructeur.
		Oui	Non	
Variateur ATV 61	Modbus RS 485 Canopen	<input checked="" type="checkbox"/>	<input type="checkbox"/>	carte de communication VW3 A3 310 (316 acceptée)
Automate Modicon 340 BMX P34 1000	Modbus RS 485	<input checked="" type="checkbox"/>	<input type="checkbox"/>	BMX NOE 0100
Ecran Magélic MPCKT55NDX20N	Ethernet	<input type="checkbox"/>	<input checked="" type="checkbox"/>	_____
Compteur d'énergie PM 210	Modbus RS 485	<input checked="" type="checkbox"/>	<input type="checkbox"/>	TSX ETG 100
CPI ISOM SOCOMEC	Bus Isom RS 485	<input checked="" type="checkbox"/>	<input type="checkbox"/>	4796 3501

D3. Identification de la nature des réseaux

D3.1. Type de réseau inter-site

- Cocher la bonne case :

Anneau	<input checked="" type="checkbox"/>
Etoile	<input type="checkbox"/>
Bus	<input type="checkbox"/>

/2

D3.2. Type de réseau au forage 2 du Kastenwald

- Cocher la bonne case :

Anneau	<input type="checkbox"/>
Etoile	<input checked="" type="checkbox"/>
Bus	<input type="checkbox"/>

/2

D4. Choix du type de câble pour la fibre optique

- Cocher la bonne case et compléter la référence en sachant que 12 fibres monomodes sont nécessaires :

Structure libre	<input checked="" type="checkbox"/>
Structure serrée	<input type="checkbox"/>

/2

Référence du câble :

VDIMNCGR125LTEP

/4

D5. Dialogue homme machine

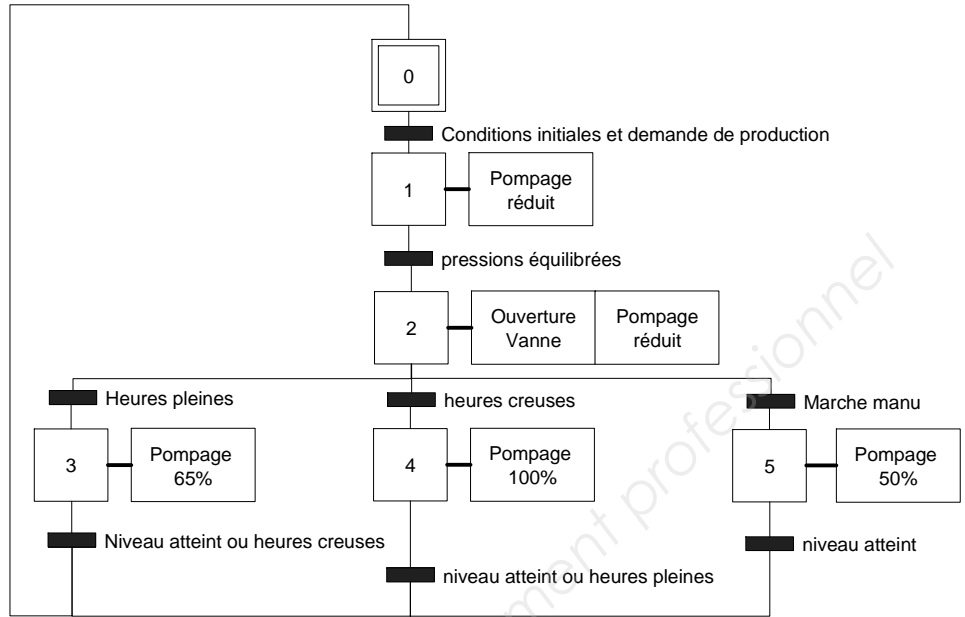
Le démarrage du pompage se fait sauf nécessité, aux heures creuses.

La consigne est réduite à 50%, puis lorsque les pressions s'équilibrent (PT1 = PT2) la vanne peut s'ouvrir.

Vanne ouverte, la consigne prend sa valeur de fonctionnement dépendant du volume restant à pomper et de l'heure du prochain passage aux heures pleines.

Ce cycle est représenté sur l'écran de dialogue par un grafcet.

On vous demande de répondre aux questions ci-dessous en vue d'expliquer à l'exploitant les particularités du fonctionnement du pompage.

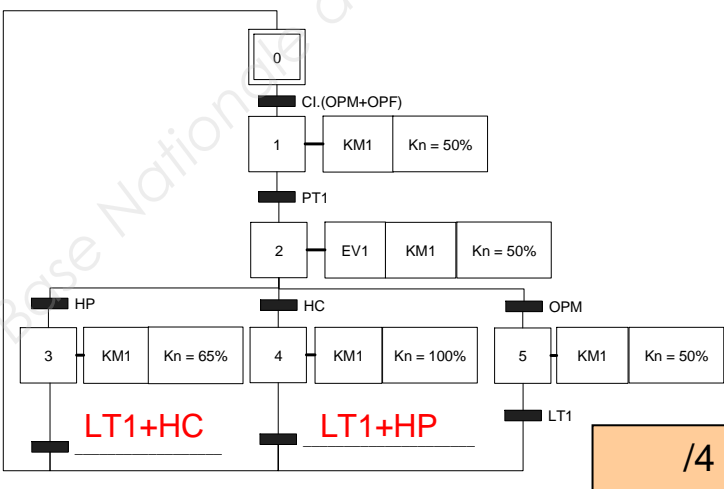


Repère	Désignation	Adresses
OPM	Ordre de pompage manuel	%I1.0
OPF	Ordre de pompage forcé	%I1.1
HP	Heures pleines	%I1.2
HC	Heures creuses	%I1.3
LT1	Niveau réservoir atteint	%I1.4
PT1	Pression atteinte (\geq PT2)	%I1.5
SEV1	électrovanne 1 ouverte	%I1.6
CI	Conditions initiales	%I1.7
EV1	électrovanne 1	%Q2.1
KM1	Alimentation Pompage	%Q2.2
Kn	Consigne	%QW5.0

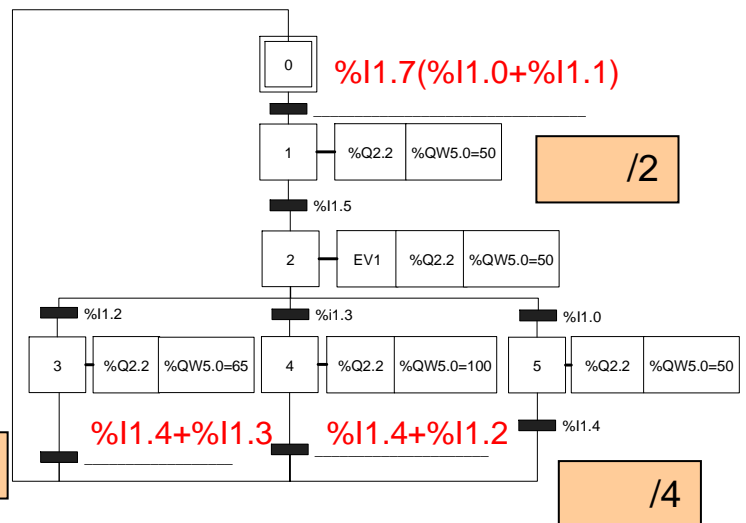
Grafcet « point de vue » automate et « point de vue » partie commande

- Compléter les grafcets d'exploitation en utilisant le tableau d'adressage :

Point de vue commande.



Point de vue Automate.





SESSION 2011

CHAMP CAPTANT DU KASTENWALD

**Sujet : Approfondissement du champ
d'application habitat tertiaire**

Baccalauréat Professionnel électrotechnique-énergie et équipements communicants

Épreuve : E2 1106-EEE EO C	CORRIGE	Durée : 5 heures Coefficient : 5	Page : 16 / 30
-------------------------------	----------------	-------------------------------------	----------------

Partie E : Choix d'un fournisseur d'énergie et protection des installations contre les intrusions (sur 60 points)

La consommation d'énergie est une part non négligeable du coût final du m³ d'eau potable distribué. On se propose de comparer des coûts d'exploitation afin de choisir un fournisseur d'énergie. Les installations se trouvant en pleine campagne, et concernées par le plan VIGIPIRATE, il y a besoin impératif de protéger l'installation contre les intrusions.

Ressources : DTR page 3 caractéristiques générales des forages, page 23 tarifs des fournisseurs

E1. Choix d'un fournisseur d'énergie

On se propose de déterminer la consommation d'énergie mensuelle maximale afin de pouvoir comparer le coût de la production à travers différentes offres tarifaires.

Dans le cadre de l'ouverture des marchés, on propose de porter l'étude sur les tarifs d'un fournisseur d'énergie français et les tarifs d'un fournisseur d'énergie allemand.

On vous demande :

- E1.1. de déterminer le coût de production de deux fournisseurs différents.
- E1.2. de prendre en compte les contraintes environnementales en argumentant le choix du fournisseur.

E1.1. Coût de production de deux fournisseurs différents

Le réservoir a une capacité totale de 20 000 m³, et le niveau mini en fin de journée accepté est de 10%. On rappelle que la capacité de pompage maximale d'un forage est de 600 m³/h et que trois forages sont utilisés.

/4

- Compléter le tableau ci-dessous :

Calcul :	Application numérique :	Résultat :
Volume d'eau à pomper en fin de journée :	20 000 x 0,9	18 000 m ³
Nombre d'heures de fonctionnement nécessaires pour un forage :	18 000 / (3 x 600)	10h

- Préciser le critère déterminant le tarif jaune ou vert :

/4

TARIF Jaune	Consommations de 36 à 250kVA
TARIF vert	Consommations >250kVA

La puissance souscrite est de 1 600 kVA. En admettant une puissance absorbée de 260kW par forage en production normale et sur la base du tarif vert:

- Déterminer la consommation d'un mois d'hiver de 30 jours si le pompage effectué par 3 forages est réalisé quotidiennement sur 8h creuses + 2h pleines :

Calcul :	Fournisseur Français : UEM		Fournisseur Allemand : (Regio Aktiv)	
	Application numérique :	Résultat (€)	Application numérique :	Résultat (€)
Coût mensuel de l'abonnement	$1600 \times 46,09 / 12$	6145	10,95	10,95
Consommation heures pleines	$3 \times 260 \times 2 \times 0,08462 \times 30$	3956	$3 \times 260 \times 2 \times 0,1823 \times 30$	8532
Consommation Heures creuses	$3 \times 260 \times 8 \times 0,05332 \times 30$	9982	$3 \times 260 \times 8 \times 0,1534 \times 30$	28716
Total TTC	$6145+3956+9982$	20083	$13,03 + 8532 + 28716$	37261

/4

/4

E1.2 Choix du fournisseur d'énergie

On rappelle qu'une tonne de CO² s'échange au prix de 50 € sur les marchés boursiers. (DTR 23/31).

Coût de production des 234 MWh :

Fournisseur français UEM ; 21 000 €

Fournisseur allemand avec tarif Régio Aktiv ; 37 000 €

Par mois d'hivers, la source d'énergie entièrement renouvelable (tarif Régio Aktiv) est donc plus chère de 16 000€, mais la production de CO² est allégée de 358t.

- Calculer le montant que peut rapporter la vente du carbone économisé :
- Conclure en indiquant le fournisseur chez lequel l'énergie coutera le moins cher et justifier votre choix en calculant l'économie réalisée :

Calcul :	Application numérique : (1 tonne = 1000kg = 10 ⁶ g)	Résultat :	
montant de la vente du carbone économisé.	$50 \times 358 =$	17900€	/2
<u>Conclusion :</u> Choix du fournisseur <input type="checkbox"/> Français <input checked="" type="checkbox"/> Allemand	<u>Explication :</u> La revente du carbone économisé couvre entièrement les 16000€ de différence de prix. L'économie réalisée est de $17900 - 16000 = 1900€$.		/4

E2. Protection des installations contre les intrusions

Les installations se trouvant en pleine campagne, et concernées par le plan VIGIPIRATE, vous allez déterminer les éléments nécessaires pour assurer une protection et une surveillance permanente depuis le poste de commande relié par fibre optique.

- E2.1 Définir la norme A2P.
- E2.2 Choisir les constituants permettant de sécuriser les clôtures.
- E2.3 Choisir les constituants permettant de sécuriser les portes d'accès.
- E2.4 Choisir la centrale et renseigner la liste de matériel.
- E2.5 Etablir les documents de référence permettant la réalisation du projet.

Ressources : DTR page 4, 8 Plans de masse du projet et des différents postes.
DTR page 26, 27, 28, 29, 30, 31 Schémas et notices des composants d'alarmes intrusion.

Il est à remarquer que les locaux n'ont pas de fenêtre et une seule porte d'entrée.
Toutes les installations sont entourées d'une clôture distante d'au plus 35m délimitant ainsi un espace pouvant être facilement surveillé.

E2.1. Dénomination de la norme A2P

Tous les éléments de protection devront répondre à la norme A2P.

- Expliciter cette dénomination et préciser le niveau de risque de l'installation :

A2P :	Nombre de boucliers :
Alarme, Protection, Prévoyance.	3

/3

E2.2. Sécurisation de la clôture

Pour la détection de franchissement de la clôture, il a été décidé de limiter le nombre de capteurs en optant pour un câble microphonique.

- Déterminer la longueur de câble microphonique nécessaire :

Equipements :	Calculs :	Résultats :
Grillage local technique :	$2 \times 90 + 2 \times 120 - 3 =$	417 m
Grillage Forage :	$(50 \times 4 - 3) \times 3 =$	591 m
Total		1 008 m

/3

- Choisir pour le local technique et les Forages 2, 3 et 4 l'unité d'analyse qui convient :

Installation :	Références :	Justification
Local technique :	AR30M2	L > 280m
Forages :	AR30M	L < 280m

/4

E2.3. Sécurisation des portes d'entrée des locaux

L'ouverture des portes (métalliques) est surveillée avec des détecteurs à grand débattement.

A partir de ce point, prendre un niveau de sécurisation de type 3.

- Sélectionner le type de détecteurs convenant aux portes des différents locaux :

Désignation :	Référence
Détecteurs d'ouverture des portes :	1162D (3 boucliers)

/2

De part et d'autre des portes des caméras de pré alarme délimiteront un couloir signalant toute intrusion dans l'espace entre les bâtiments et le grillage.

- Sélectionner les références de ces caméras :

Désignation :	Référence
Caméras infrarouge :	IS392

/2

Au dessus de chaque porte, un détecteur surveillera une éventuelle approche, ce capteur devra être immunisé contre les détections de petits animaux (< 12kg).

- Choisir ce capteur et donner sa référence :

Désignation :	Référence
Capteur de porte :	UP370C
Accessoire de fixation :	IRUM2

/2

E2.4. Choix de la centrale

Le paramétrage à distance avec un PC doit être intégré.

Le local technique avec le forage 1 et les forages 2, 3 et 4 correspondant aux différents secteurs à surveiller.

- Choisir la centrale donner sa référence :

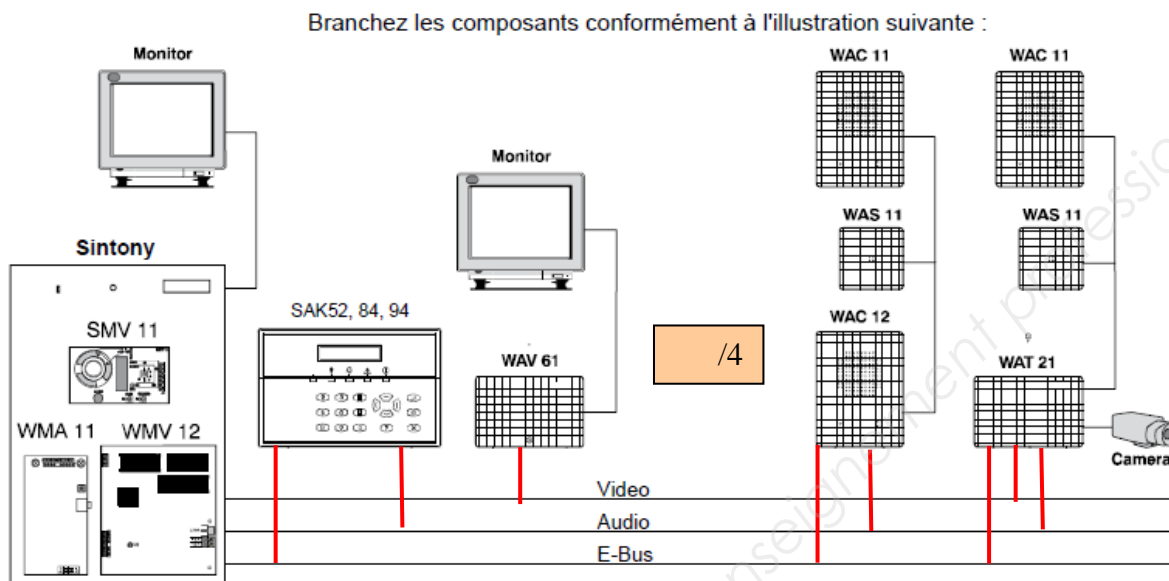
Désignation :	Référence
Référence de la centrale :	SI220 – NF - INTR

/2

E2.5. Schéma général de la centrale

E2.5.1 Branchement de périphériques de vérification d'alarme

- Compléter la figure suivante, en reliant chaque composant aux bus nécessaires à son fonctionnement :



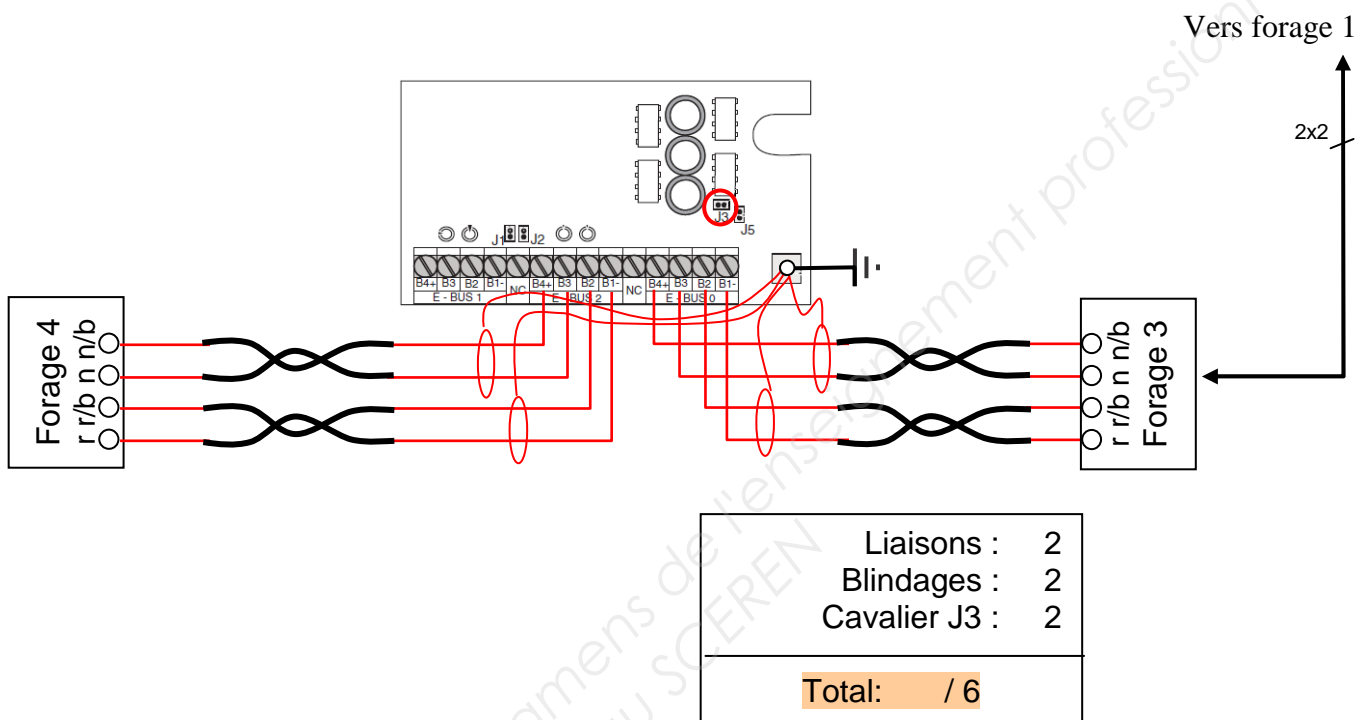
Branchement pour vérification d'alarme audio et vidéo

Le tableau indique quels composants peuvent être branchés et combien :

Module	Description	Fonction	Nombre max.
SAK 52/84/94	Clavier multi-sect. lect. badge/audio	Utilisation de plusieurs partitions et programmation sur E-bus avec affichage de texte en clair. Vérification audio avec micro et haut-parleur par bus audio. Lecteur de badges intégré.	8
WAC 12	Satellite adressable écoute interpellation	Périphérique de vérification d'alarme audio sur bus audio, adressable par E-bus avec haut parleur et micro.	8
WAT21	Transpondeur audio/vidéo	Périphérique de vérification d'alarme audio sur bus audio et vidéo sur bus vidéo. Périphérique communicant sur E-bus avec connecteurs pour caméra analogique et satellites de vérification d'alarme audio	
WAV61	Interface paire torsadée/coaxe	Interface de contrôle pour branchement d'une caméra ou d'un enregistreur sur bus vidéo.	1
WMA11	Carte audio	Interface enfichable pour bus audio.	1
WMV12	Carte vidéo	Interface enfichable pour bus vidéo.	1
SAR11	Amplificateur	Interface d'amplification et d'isolement, permet la prolongation de l'E-Bus de 500m (SAR 11 : Boîtier + carte SMR11).	1

Local forage 3 : Amplificateur SMR 11 (**dans boîtier SAR 11** Alimenté localement).

- Relier le forage 4 au forage 3 en passant par l'amplificateur SAR11, représenter le blindage des liaisons.
- L'amplificateur étant alimenté localement, indiquer sur la carte les cavaliers J1 J2 ou J3 à mettre en place pour que le forage 4 soit isolé partiellement. **Entourer distinctement les cavaliers à fermer.**





SESSION 2011

CHAMP CAPTANT DU KASTENWALD

**Sujet : Approfondissement du champ
d'application industriel**

Baccalauréat Professionnel électrotechnique-énergie et équipements communicants

Épreuve : E2
1106-EEE EO C

CORRIGE

Durée : 5 heures
Coefficient : 5

Page : 24 / 30

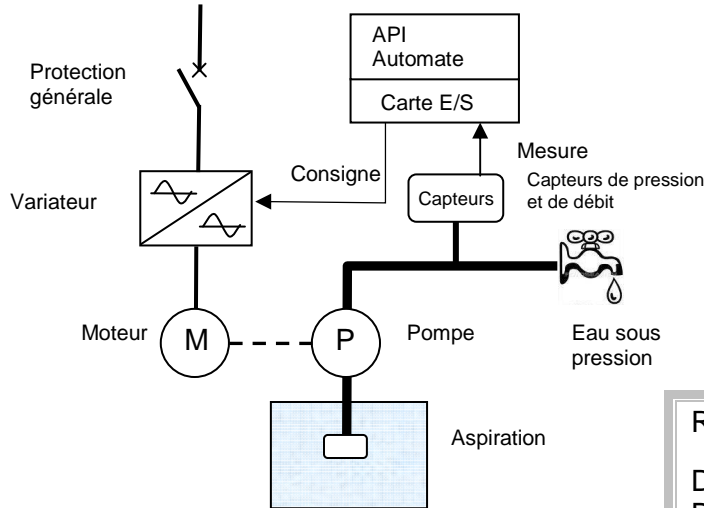
PARTIE F : Dimensionnement du Forage n°1 (sur 60 points)

La nécessité de garantir la continuité de l'exploitation, nous amène à étudier une solution de remplacement du groupe motopompe.

Une solution consiste à alimenter le moteur de la pompe à partir d'un variateur.

Ce variateur permettra une montée en pression graduelle des canalisations.

Cette solution permettra de réguler la pression tout en tenant compte du débit.



On vous demande pour cela :

- F1 : de vérifier les caractéristiques de la pompe.
- F2 : de choisir un moteur chez le constructeur Leroy.
- F3 : de choisir le variateur associé au moteur.
- F4 : de choisir un capteur de pression
- F5 : de choisir les cartes E/S de l'automate
- F6 : de proposer le schéma de raccordement du capteur sur l'automate

Ressources :

- DTR page : 3, 4, descriptif de l'installation
- DTR pages : 18, 19 caractéristiques pompes et moteurs
- DTR page : 20 variateurs de vitesse
- DTR page : 21 capteurs de débit
- DTR page : 22 cartes E/S de l'API

F1. Caractéristiques de la pompe

Rappel des grandeurs et formules.

$HMT = HGR + Pr + Pu$
$Pr = LR \cdot kp$
⚠ LR : Il s'agit de la longueur totale, prise à partir du niveau d'eau le plus bas jusqu'au point de livraison.

Grandeur	Définition	Unité
HMT	Hauteur manométrique totale en mètre de colonne d'eau	m.C.E
HGR	Hauteur géométrique de refoulement en m.C.E	m.C.E
LR	Longueur de refoulement en mètre	m.C.E
kp	Coefficient de pertes en m.C.E	m.C.E
Pr	Pertes de charges dans la tuyauterie de refoulement	m.C.E/m
Pu	Pression utile (10 m.C.E pour 1 Bar)	m.C.E

F1.1. Détermination de la hauteur manométrique totale HMT

/12

- Compléter le tableau ci-dessous :

Grandeurs	Application	Résultat
HGR		2 + 13 = 15 mce
Pr		(15 000 + 2) x 0,000526 = 7,9 mce
Pu		6 x 10 = 60 mce
HMT		82,9 mce

F1.2. Choix d'un type de pompe pour obtenir un débit de 600m³/h

/2

- FLB
 FE
 FE+
 PVMF
 VVME

F1.3. Caractéristiques de la pompe du forage

- Compléter le tableau ci-dessous :

/6

Type : FEL47 I3-161/B4/355					
Fixation moteur	B4 (à brides)	Hauteur d'axe	355mm	Puissance	250kW
Débit	600m ³ /h	Hmt	83mce	vitesse	1480tr.min ⁻¹

F1.4. Conclusion

Ces caractéristiques sont conformes : OUI NON

/2

Si non, rayer d'une croix dans le tableau, les valeurs non-conformes

F2. Choix du moteur

Les pompes installées dans ce type de forage imposent une puissance de 250kW pour une vitesse de 1480 tr.min⁻¹.

Sélectionner dans l'extrait de catalogue LEROY le moteur adapté, et compléter le tableau ci-dessous.

Le courant sera précisé respectivement pour les deux couplages D et Y.

Pour le rendement et le facteur de puissance vous donnerez la valeur correspondant à ¾ de la charge nominale.

/8



Caractéristique :	Formule (s'il y a lieu uniquement)	Valeur et/ou calcul	Résultat (Unité)
Nombre de pôles	$2 (P = f / n)$	$2 (50 / (1480 / 60)) = 4$	4
Référence			FLS355LA
Vitesse			1490 tr.min ⁻¹
Courant (D/Y)	$I_D = I_Y \times \text{racine}(3)$	$427 \times 1,73 = 740$	427/740A
Facteur de puissance			0.85
Rendement selon CEI 60034-2 (1996)			95,3%
Intensité de démarrage(Y)	$I_d = k I_n$ ou $I_d = 8,2 I_n$	$I_d = 8,2 \times 427$	3501A
Couple de démarrage	$1,9 \times C_n$	1606×1.9	3051Nm

Baccalauréat Professionnel électrotechnique-énergie et équipements communicants

Épreuve : E2	CORRIGE	Durée : 5 heures	Page : 26 / 30
1106-EEE EO C		Coefficient : 5	

F3. Choix du variateur pour une pompe

Le moteur de puissance 250kW sous 3x400V sera commandé par un variateur permettant d'adapter le débit de la pompe à la demande.

Compléter le tableau ci-dessous en indiquant les quantités et références et en déterminant le prix TTC de l'ensemble variateur et accessoires :



Désignation	Référence	Prix	Quantité	Total
Variateur	ATV61HC25N4	20181,82	1	20181,82
Inductance de ligne	VW3A4570	1901,91	1	1901,91
Inductance moteur	VW3A5108	1083,96	1	1083,96
Câble	H07VK	11,75	7m	82,25
Total HT				23249,94
TVA 19,6%				4556,99
Total TTC				27806,93

/10

F4. Choix du capteur

- Choisir le capteur. Le capteur de débit sera choisi en fonction des caractéristiques (diamètres, débits...) de l'installation :

Désignation	Constructeur	Référence
Capteur de débit	Endress Hauser	Promag 10W (D>300)

/4

F5. Carte E/S

Les entrées sorties automate devront répondre aux exigences suivantes :

- On souhaite utiliser la sortie du capteur de débit pour signaler un éventuel défaut à l'automate.
- Les entrées sorties seront connectées sur une carte mixte utilisant des tensions continues.
- Par l'intermédiaire d'une interface ABE 7R, une sortie relais de l'automate permettra de couper l'alimentation du capteur en dehors des périodes de pompage.
- L'entrée analogique haut niveau devra être isolée et permettre le branchement du capteur de débit.

- Compléter le tableau ci-dessous :

/4

Désignation	Constructeur	Référence
Carte entrée sortie TOR	Télemécanique Modicon	BMX DDM 16022
Carte entrée analogique	Télemécanique Modicon	BMX AMI 0410

Remarque : les cartes fonctionnent en logique positive.

Adresse	Fonction
%I3.2	Sortie « Etat » du capteur de débit
%O4.1	Alimentation du capteur
%IW5.0	Entrée analogique du capteur

Liste du matériel automate Modicon 340	
ABE 7R	Interface d'adaptation de sortie avec relais électromagnétique Téléfast2
ABE7H	Embase de raccordement Téléfast2
BMXART 0840	Module Entrées analogiques 16 voies
BMX DDI 3202K	Module Entrées statiques 8 voies
BMX DDO 3202K	Module mixte E/S statiques 16 voies

F6. Schéma de raccordement du capteur sur technologie TSX Modicon 340

24V DC

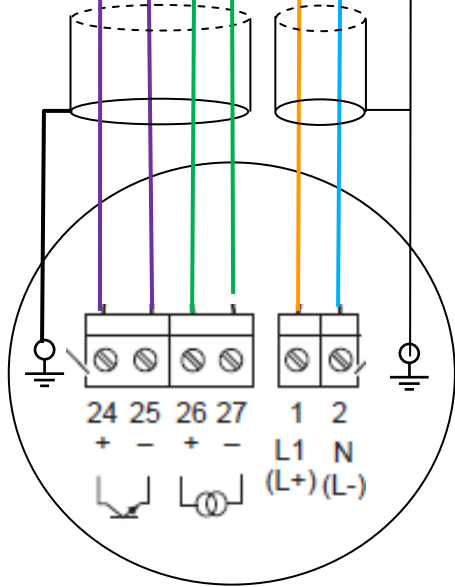
0V

Gnd

/2

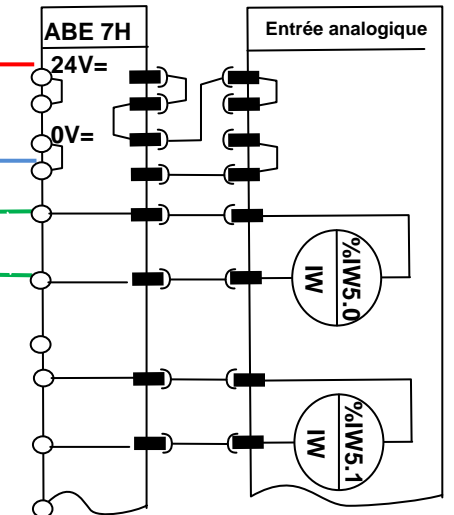
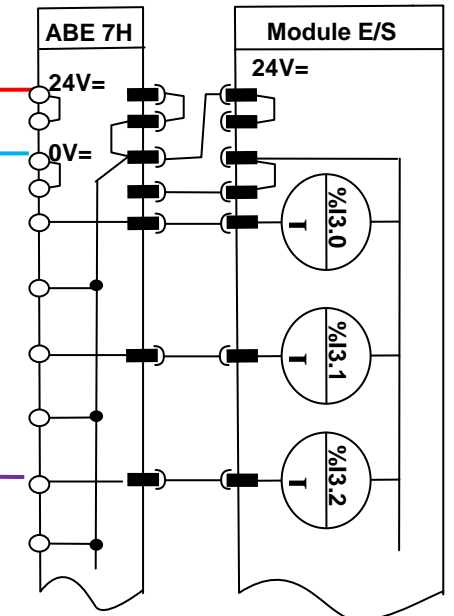
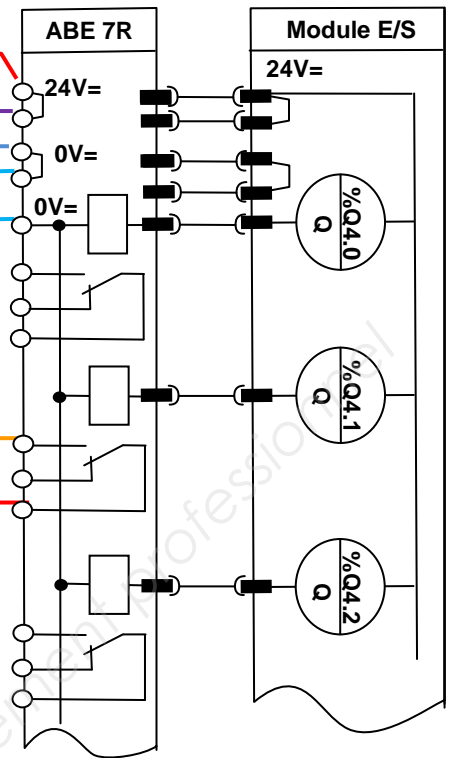
/2

/2



Le capteur est relié par deux câbles :

- Alimentation (2 brins + pe)
- Détection d'état et signal analogique (4 brins blindé)



F7. Paramétrage du capteur de débit

Affichage souhaité en m³/h en valeur décimale entière. On rappelle que le débit maximal est de 600 m³/h. Les fonctions du groupe sortie de courant doivent être disponibles (4-20mA).

- Compléter le tableau en indiquant :

- Le choix d'unité dans la colonne adaptée.
- Le code Langue.
- Le code Format.
- La gamme courant et la valeur de la mesure pour 20mA.
- Le code adresse bus adéquat pour l'application.

/6

Groupes de fonctions	▶	Fonctions					
Choix unité	▶	<u>Unité Débit</u>					
		m³/h					
Fonctionnement	▶	<u>Langue</u>	<u>Entrée Code</u>	<u>Code utilisateur</u>			
		FR	10	10			
Interface utilisateur	▶	<u>Format</u>	<u>Contraste LCD</u>	<u>Test Afficheur</u>			
		XXXXX.	50%	arrêt			
Totalisateur (Affichage)	▶	<u>Somme</u>	<u>Dépassement</u>	<u>RAZ Total</u>			
		Totalisateur	XXXXX	Non			
Sortie courant	▶	<u>Sortie courant</u>	<u>Valeur 20mA</u>	<u>Constante temps</u>			
		4 – 20mA	600m³/h	1s			
Communication	▶	<u>Nom repère</u>	<u>Description repère</u>	<u>Adresse Bus</u>	<u>Protection</u>	<u>Manufact. Id</u>	<u>Ident. Appareil</u>
		FT1	Débit	0	Arrêt	Endress Hausser	45