

# CORRIGE

**Ces éléments de correction n'ont qu'une valeur indicative. Ils ne peuvent en aucun cas engager la responsabilité des autorités académiques, chaque jury est souverain.**

**Baccalauréat Professionnel**  
**SYSTÈMES ÉLECTRONIQUES NUMÉRIQUES**

Champ professionnel : Audiovisuel Multimédia

**ÉPREUVE E2**  
**ANALYSE D'UN SYSTÈME ÉLECTRONIQUE**

**Durée 4 heures – coefficient 5**

**Notes à l'attention du candidat :**

- le sujet comporte 3 parties différentes
  - partie 1 : mise en situation avec la présentation du projet d'installation ;
  - partie 2 : questionnement tronc commun ;
  - partie 3 : questionnement spécifique, lié au champ professionnel
- vous devrez répondre directement sur les documents du dossier sujet dans les espaces prévus, en apportant un soin particulier dans la rédaction des réponses aux différentes questions ;
- vous ne devez pas noter vos nom et prénom sur ce dossier ;
- vous devrez rendre l'ensemble des documents du dossier sujet dans une copie d'examen anonymable que vous complétez.

**Baccalauréat Professionnel SYSTÈMES ÉLECTRONIQUES NUMÉRIQUES**  
Champ professionnel : Audiovisuel Multimédia

Session : 2011	<b>DOSSIER CORRIGÉ</b>	Durée : 4 heures	Page
Épreuve : E2		Coefficient : 5	C 1 / 30

## □ partie 1 : mise en situation avec la présentation du projet d'installation

### La Villa Demoiselle



Situé en face du Domaine Pommery, ce joyau architectural rémois est désormais ouvert au public après 4 ans de travaux. Les meilleurs artisans ont travaillé à la rénovation de ce bel hôtel particulier, construit en 1906, respectant le style et l'époque.

La demeure est restée de longues années à l'abandon, Paul Vranken rachète la villa en avril 2004. Elle revient alors dans le giron Pommery Vranken, sa restauration est entreprise en 2007, anciennement Villa Cochet, elle prend le nom de Villa Demoiselle en référence à la cuvée de champagne du même nom.

Sa restauration a été confiée à des artisans de renom, entre autres : les Métalliers Champenois (rénovation de la statue de la liberté à New York), le maître-verrier Simon, le couvreur Gourdon, l'ébéniste Herault, etc.

Elle est aujourd'hui le siège social de la maison Pommery Vranken Monopole, et possède de magnifiques salons de réception. Les vieux Rémois laissent encore courir une légende au sujet de cette villa qui aurait été hantée...

### Le véritable Trésor






C'est dans les crayères que se trouve ce fabuleux trésor : 20 millions de bouteilles y dorment, les grands crus, les millésimés, les cuvées spéciales, des milliards de bulles, au nom évocateur :

- Brut Royal
- Brut Apanage
- Brut Rosé
- Grand Cru 1998 : création de la Summertime et Wintertime
- Dry Elixir
- Cuvée Louise 1998
- Cuvée Louise Rosé 1999
- La Maxi POP en 2002
- La Pink POP en 2003
- Naissance de la Springtime et Falltime en 2005

L'accueil des visiteurs est réalisé dans un kiosque qui jouxte la villa. L'accès réglementé au site se fait par un portail motorisé pilotable à distance. Le kiosque, en plus de la billetterie, offre aux visiteurs la possibilité de déguster des produits locaux.

<b>Baccalauréat Professionnel SYSTÈMES ÉLECTRONIQUES NUMÉRIQUES</b>			
Champ professionnel : <b>Audiovisuel Multimédia</b>			
Session : 2011	<b>DOSSIER CORRIGÉ</b>	Durée : 4 heures	Page
Épreuve : E2		Coefficient : 5	C 2 / 30

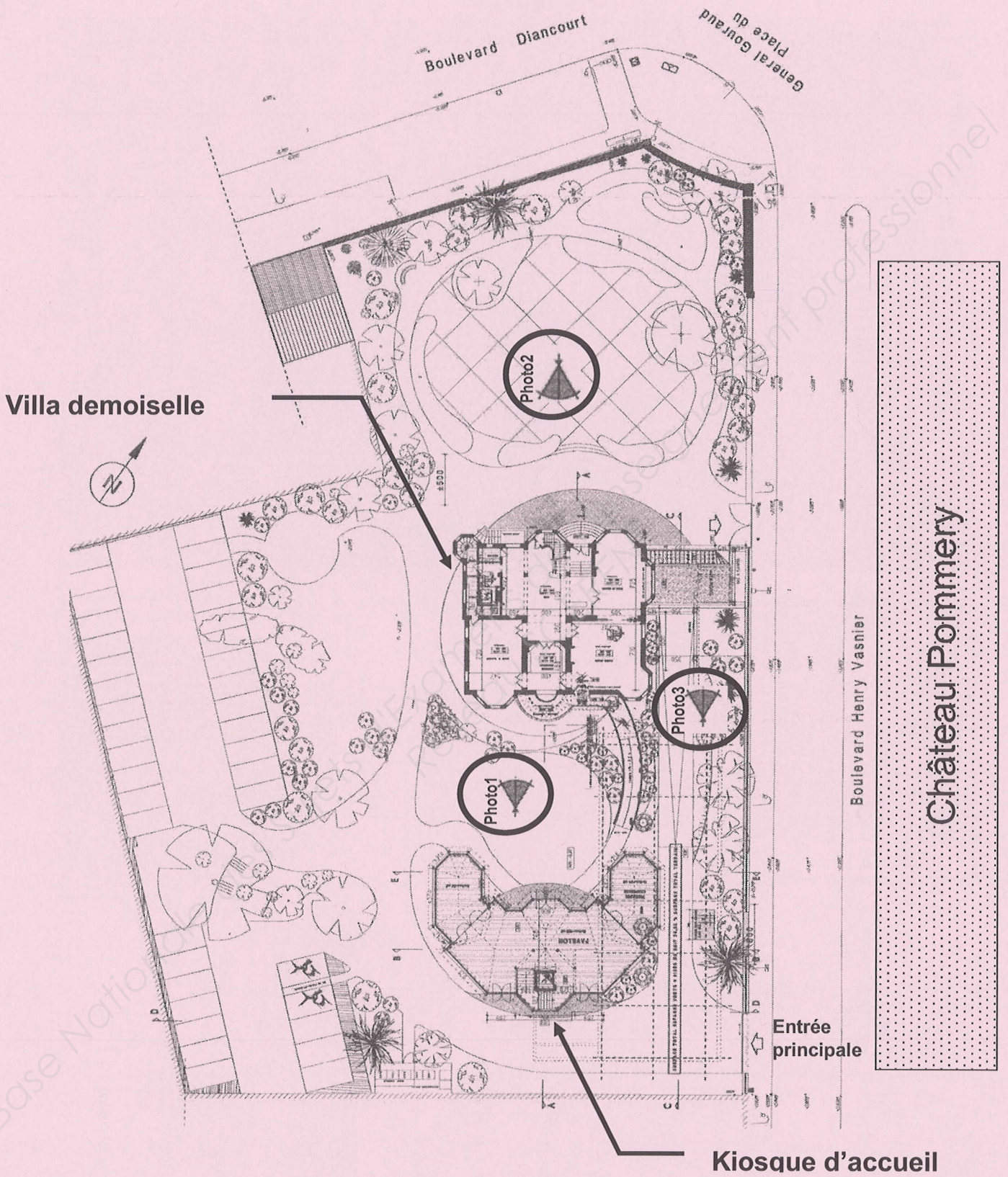
Le site est relié aux serveurs extérieurs hébergés au château Pommery grâce à deux antennes directionnelles Wi-Fi CISCO.



Les abords de la villa sont surveillés par 3 caméras PTZ IP de marque IPELA de SONY. Elles sont installées dans des caissons chauffés et reliées à un enregistreur numérique de référence CAMTRACE light.  
 Les vidéos enregistrées par le CAMTRACE light, installé dans la villa, peuvent être visualisées depuis le château POMMERY grâce à la liaison Wi-Fi qui existe entre les deux sites.  
 Les photos suivantes situent ces caméras.

<b>Baccalauréat Professionnel SYSTÈMES ÉLECTRONIQUES NUMÉRIQUES</b>			
Champ professionnel : <b>Audiovisuel Multimédia</b>			
Session : 2011	<b>DOSSIER CORRIGÉ</b>	Durée : 4 heures	Page
Épreuve : E2		Coefficient : 5	C 3 / 30


### Plan de masse.




<b>Baccalauréat Professionnel SYSTÈMES ÉLECTRONIQUES NUMÉRIQUES</b>			
Champ professionnel : <b>Audiovisuel Multimédia</b>			
Session : 2011	<b>DOSSIER CORRIGÉ</b>	Durée : 4 heures	Page
Épreuve : E2		Coefficient : 5	C 4 / 30

Les photos 1, 2 et 3 sont données sur les pages suivantes.

### Photo N°1



### Photo N°2




**Baccalauréat Professionnel SYSTÈMES ÉLECTRONIQUES NUMÉRIQUES**  
Champ professionnel : **Audiovisuel Multimédia**

Session : 2011  
Épreuve : E2

**DOSSIER CORRIGÉ**

Durée : 4 heures  
Coefficient : 5

Page  
C 5 / 30




L'ensemble du site recevant du public est équipé de :

- Un éclairage de sécurité et d'un Système de Sécurité Incendie.
- Un ensemble de bornes DECT, de téléphones analogiques, numériques et TOIP raccordé à un PABX VOIP.
- Un ensemble de réseaux Ethernet.

Les caves aménagées pour les visites sont équipées de :

- 2 vidéoprojecteurs et 2 écrans motorisés.
- Une sonorisation composée de 8 enceintes et de 2 enceintes de retour, 2 microphones HF et de 6 amplificateurs de puissance.
- Un lecteur CD, un lecteur DVD.
- De 2 rangées de mini-projecteurs de découpe.
- Un éclairage leds au sol de 14 projecteurs multicolores.
- Une télécommande Wi-Fi permet de piloter la sonorisation, les vidéoprojecteurs, les écrans ainsi que tout l'éclairage.
- Une ligne téléphonique analogique.



Dans le kiosque, on trouve :

- Un système d'éclairage de sécurité.
- Un serveur web GSM pour la gestion du portail.

Dans les chambres, sont installés 2 prises réseaux, une prise d'antenne UHF, un téléviseur écran plat, un lecteur DVD et un système home cinéma 5.1.

La réception et la distribution audiovisuelles des programmes terrestres sont assurées par du matériel TRIAX et SEDEA

Le véhicule de M. Vranken est équipé de :

- Un PC
- Un mini bar réfrigérant

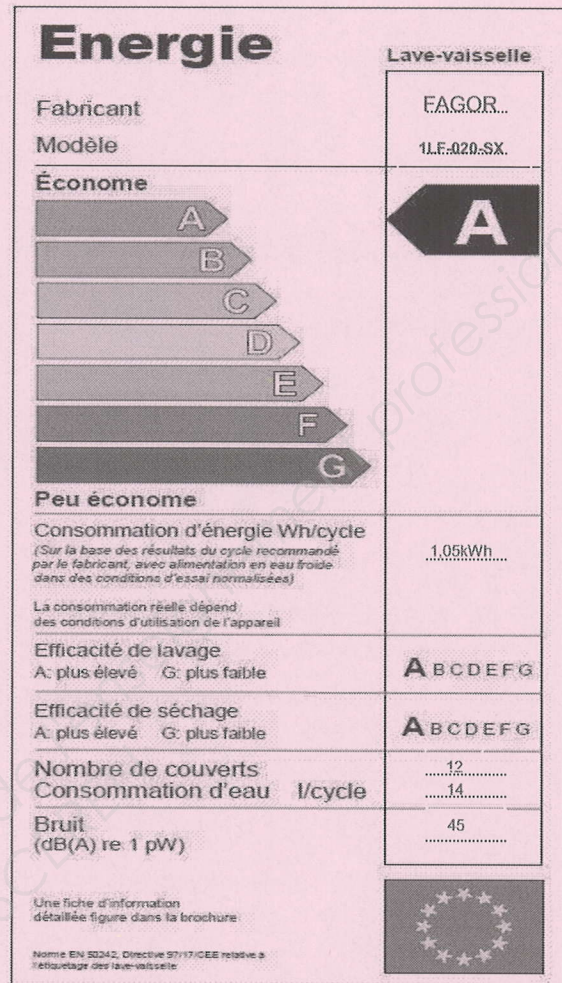
<b>Baccalauréat Professionnel SYSTÈMES ÉLECTRONIQUES NUMÉRIQUES</b>			
Champ professionnel : <b>Audiovisuel Multimédia</b>			
Session : 2011	<b>DOSSIER CORRIGÉ</b>	Durée : 4 heures	Page
Épreuve : E2		Coefficient : 5	C 6 / 30

□ partie 2 : questionnement tronc commun ;

Pour permettre un meilleur accueil et faciliter le travail des serveurs, l'installation d'un lave vaisselle dans le kiosque a été décidée. Le choix a été arrêté sur un lave vaisselle de marque FAGOR dont la référence est 1LF-020-SX.

2.1 Étude sur la consommation du lave vaisselle

2.1.1 Compléter la vignette énergie en vous aidant du dossier technique pour un programme économique.



2.1.2 Justifier, par le calcul, que d'un point de vue économique, le lave vaisselle a obtenu un A. (relatif à la norme EN50242)

$$E_1 = \frac{C}{C_R} = \frac{1,05}{1,35 + 0,25 \times 12} = \frac{1,05}{1,65} \approx 0,636 < 0,64$$

2.2 Étude de l'installation électrique.

2.2.1 À partir de l'extrait de la norme NFC 15-100, indiquer la section du câble électrique nécessaire à l'installation électrique du lave vaisselle.

2,5mm<sup>2</sup>

2.2.2 Préciser le calibre du disjoncteur magnétothermique du lave vaisselle.

20A



### 2.2.3 Donner une définition d'un circuit spécialisé.

Un circuit spécialisé est un circuit réservé à un seul équipement (on ne peut pas brancher plus d'un appareil sur une prise)

## 2.3 Étude des différents éléments participant à la chauffe du lave vaisselle.

2.3.1 Compléter le tableau suivant en cochant la case définissant l'élément comme étant un actionneur ou un capteur.

Élément	Capteur	Actionneur
Pompe de cyclage	<input type="checkbox"/>	<input checked="" type="checkbox"/>
CTN	<input checked="" type="checkbox"/>	<input type="checkbox"/>
Pressostat	<input checked="" type="checkbox"/>	<input type="checkbox"/>
Électrovanne	<input type="checkbox"/>	<input checked="" type="checkbox"/>
Thermoplongeur	<input type="checkbox"/>	<input checked="" type="checkbox"/>

2.3.2 Donner la signification du terme CTN, puis donner son rôle.

Coefficient de Température Négatif. Son rôle est de convertir une grandeur physique (la température) en une valeur de résistance. (Elle capte la température).

Les caveaux accueillent des expositions pour le public qui a la possibilité de visiter la villa. Pour mettre en valeur les vitrines, des projecteurs appelés « cadres », de référence CIZ 75 TIE, sont placés en fixe au plafond sous les deux voûtes des caveaux.

## 2.4 Consommation électrique.

Les 60 cadres sont alimentés par deux rails reliés chacun sur un circuit 16A. Ils sont répartis selon les vœux de l'organisateur de l'exposition. Chaque cadre est équipé d'une lampe dichroïque de référence EYJ / GE.



2.4.1 Exprimer puis calculer l'intensité du courant  $I_L$  consommée par une lampe.

$$I_L = P/U = 71 / 12 = 5,9166 \text{ A soit } 5,92 \text{ A}$$

### Baccalauréat Professionnel SYSTÈMES ÉLECTRONIQUES NUMÉRIQUES

Champ professionnel : Audiovisuel Multimédia

Session : 2011

Épreuve : E2

**DOSSIER CORRIGÉ**

Durée : 4 heures

Coefficient : 5

Page  
C 8 / 30

2.4.2 La puissance consommée en sortie et en entrée du TIE (transformateur électronique intégré) est identique. Exprimer puis calculer l'intensité du courant  $I_{TIE}$  consommé par le TIE.

$$I_{TIE} = P / U = 71 / 230 = 0,3087 \text{ A}$$

2.4.3 Justifier si les 60 cadreurs peuvent être branchés sur un même circuit (16A).


$I_{\text{total}} = 60 \times 0,3087 = 18,5 \text{ A}$   
 Un circuit « prises de courant » n'admet que 16 A.  
 Il faut donc deux circuits pour brancher les 60 cadreurs.

*Selon les vœux de l'organisateur de l'exposition, il est nécessaire de modifier le positionnement, d'orienter les cadreurs en toute sécurité pour le technicien.*

2.4.4 Pour une intervention sur ces cadreurs sous tension, il est nécessaire d'avoir une habilitation de niveau B1 V. Donner la définition de la personne habilitée pour ce niveau.

Exécutant électricien : Cette personne peut accéder sans surveillance aux locaux réservés aux électriciens et exécuter des travaux d'ordre électrique ou non, ainsi que des manœuvres dans l'environnement des pièces nues sous tension (V pour voisinage). Elle doit veiller à sa propre sécurité. La lettre B désigne la basse tension.

Sur la documentation technique du cadreur de référence CIZ 75 TIE, il est représenté ces pictogrammes :



2.4.5 Donner la signification de IP 20.

IP 20 : indice de protection 2 = contre la pénétration de corps solides étrangers de diamètre  $\geq 12,5 \text{ mm}$   
 0 = contre la pénétration de l'eau avec effets nuisibles (non protégé)

2.4.6 Le deuxième pictogramme signifie que ce matériel est de classe 1. Donner la signification de la classe 1.

Classe 1 : matériel devant être obligatoirement relié à la terre.

**Baccalauréat Professionnel SYSTÈMES ÉLECTRONIQUES NUMÉRIQUES**  
 Champ professionnel : **Audiovisuel Multimédia**

Session : 2011	<b>DOSSIER CORRIGÉ</b>	Durée : 4 heures	Page
Épreuve : E2		Coefficient : 5	C 9 / 30

2.4.7 Les cadreurs fonctionnent sur le secteur 230 V alternatif. Donner le domaine de tension auquel ils appartiennent.

C'est le domaine de la basse tension A (BTA).

*Le caveau peut aussi accueillir des séminaires, des colloques, des conférences selon la demande. Il est mis alors à la disposition des intervenants deux microphones de la série « evolution wireless ew 100 G2 ». Il est important de noter qu'un anneau d'identification codé de couleur verte est visible sur chaque microphone.*

2.4.8 Il vous est proposé cinq types de directivité de microphone. Pour chaque représentation, cocher le nom de la directivité correspondante dans la liste proposée.

<input type="checkbox"/> Cardioïde <input type="checkbox"/> Canon <input type="checkbox"/> Omnidirectionnelle <input type="checkbox"/> Supercardiïde <input checked="" type="checkbox"/> Bidirectionnelle	<input checked="" type="checkbox"/> Cardioïde <input type="checkbox"/> Canon <input type="checkbox"/> Omnidirectionnelle <input type="checkbox"/> Supercardiïde <input type="checkbox"/> Bidirectionnelle	<input type="checkbox"/> Cardioïde <input checked="" type="checkbox"/> Canon <input type="checkbox"/> Omnidirectionnelle <input type="checkbox"/> Supercardiïde <input type="checkbox"/> Bidirectionnelle	<input type="checkbox"/> Cardioïde <input type="checkbox"/> Canon <input checked="" type="checkbox"/> Omnidirectionnelle <input type="checkbox"/> Supercardiïde <input type="checkbox"/> Bidirectionnelle	<input type="checkbox"/> Cardioïde <input type="checkbox"/> Canon <input type="checkbox"/> Omnidirectionnelle <input checked="" type="checkbox"/> Supercardiïde <input type="checkbox"/> Bidirectionnelle

2.4.9 Selon les informations données et les documentations techniques, donner la référence de la tête du microphone ainsi que le type de microphone.

MD 835

**Baccalauréat Professionnel SYSTÈMES ÉLECTRONIQUES NUMÉRIQUES**

Champ professionnel : **Audiovisuel Multimédia**

Session : 2011

Épreuve : E2

**DOSSIER CORRIGÉ**

Durée : 4 heures

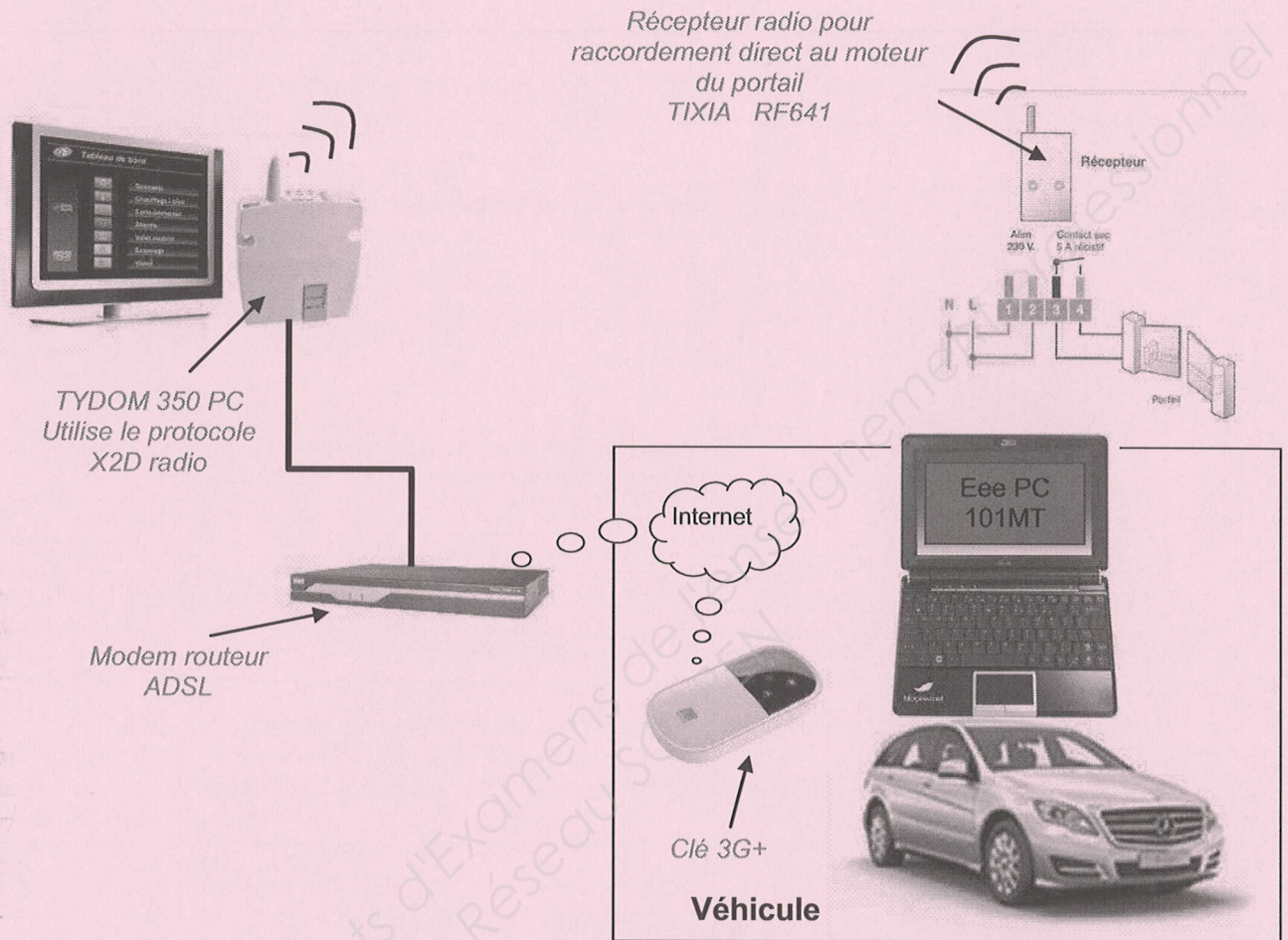
Coefficient : 5

Page

C 10 / 30

M. Vranken désire remplacer le PC de son véhicule et s'équiper d'un système à écran tactile rotatif lui permettant une utilisation plus aisée (commande de l'ouverture du portail, visualisation de l'image des caméras, Internet, etc..).

2.5 Validation du choix du EeePC



2.5.1 Indiquer la version de l'OS installée sur le PC embarqué dans la voiture.

Windows 7 Edition Familiale premium Authentique

2.5.2 Nommer les liaisons sans fil qui équipent le Eee PC.

WIFI 802.11b/g/n      Bluetooth 2.1

2.5.3 Suivant la portée de ces liaisons, donner un exemple d'utilisation pour chacune d'elles.

WIFI : connexion internet  
Bluetooth 2.1 : souris téléphone portable pour échange de fichiers

2.5.4 Donner le mode de communication utilisé pour piloter l'ouverture et la fermeture du portail à partir de l'Eee PC.

3G(gsm)

2.5.5 Indiquer si une clé 3G peut être considérée comme un modem sans fil.

OUI

2.5.6 Compléter le tableau ci-dessous en indiquant la génération des standards téléphoniques.

Standard	Génération	Utilisation
GSM	2G	Permet le transfert de voix ou de données numériques de faible volume
GPRS	2.5G	Permet le transfert de voix ou de données numériques de volume modéré
EDGE	2.75G	Permet les transferts simultanés de voix et de données numériques
UMTS	3G	Permet les transferts simultanés de voix et de données numériques à haut débit

2.5.7 Relever la tension et le courant nominal de sortie fournis par le bloc d'alimentation de Eee PC.

19 V = (continu) 2,1A

2.5.8 Préciser si cette tension est compatible avec l'alimentation du véhicule.

Non, car le véhicule est équipé à l'origine d'une batterie 12V= (continu)

## 2.6 Présentation et étude du téléviseur Toshiba REGZA 46WL753.

2.6.1 Relever la résolution de l'écran puis calculer le nombre total de pixels par image.

L=1920 pixels / H=1080 pixels

$1920 \cdot 1080 = 2\,073\,600$  pixels

2.6.2 Donner le format d'affichage sachant que la résolution de l'écran est au format 1920 x 1080.

16/9

2.6.3 Donner la taille de l'écran en pouce puis convertir celle-ci en cm.

46 pouces donc environ 117cm

2.6.4 Donner la définition de l'écran. (entourer la bonne réponse)

SD

**HD**

## Baccalauréat Professionnel SYSTÈMES ÉLECTRONIQUES NUMÉRIQUES

Champ professionnel : **Audiovisuel Multimédia**

Session : 2011

Épreuve : E2

**DOSSIER CORRIGÉ**

Durée : 4 heures

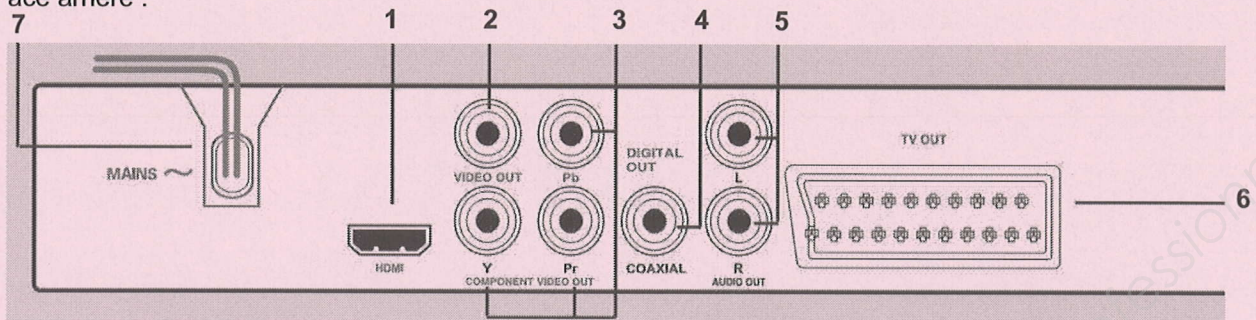
Coefficient : 5

Page

C 12 / 30

2.7 Étude du lecteur DVD PHILIPS DVP 5960

Face arrière :



2.7.1 Donner le nom des connecteurs suivants se trouvant sur la face arrière du lecteur.

(1) HDMI	(2) CINCH ou RCA (audio)	(6) Péritel
----------	--------------------------	-------------

2.7.2 Compléter le tableau suivant :

repère	Nom du signal véhiculé par la liaison	Entrée et/ou sortie	Nature du signal Numérique/analogique	Vidéo et/ou audio	Couleur respective associée au connecteur
1	HDMI	sortie	Numérique	Vidéo audio	
2	CVBS ou Vidéo-composite	sortie	analogique	Vidéo	jaune
3	Y Pb Pr	sortie	analogique	Vidéo	Vert bleu rouge
4	S/Pdif	sortie	Numérique	audio	orange
5	Stéréo L,R	sortie	analogique	audio	Blanc rouge
6	RVB, S-Vidéo, CVBS, Stéréo L,R	sorties	analogiques	Vidéo/audio	

2.7.3 Expliquer le rôle des différentes couleurs sur les connecteurs (2) (3) (4) et (5).

Permet de repérer et de différencier les différents connecteurs Cinch

2.7.4 Donner la signification des logos inscrits sur la notice.

	le lecteur convertit le format SD en HD.
	le lecteur décode et transmet le format propriétaire vidéo compressé.
	le lecteur décode et transmet le format audio numérique de chez DOLBY.
	le lecteur transmet le format vidéo et audio numérique.

Le maître de maison souhaite une reconstitution fidèle de l'image visualisée en HD.

2.7.5 Préciser si le téléviseur ainsi que le lecteur correspondent à ce choix. Justifier.

Téléviseur : oui car résolution HD  
Lecteur : non car résolution SD ou HD convertie

2.7.6 Proposer une solution technique sur le choix d'un nouvel appareil.

Lecteur Blu-ray

2.7.7 Citer un avantage d'utiliser la technologie blu-ray.

Stockage important jusqu'à 50Go, ou audio en 7.1, ou image en HD sans conversion.

## 2.8 Modification du système de vidéosurveillance

*Problématique :*

M. Vranken désire faire rajouter :

- une détection d'intrusions et une caméra dans le local de stockage des bouteilles attenant aux cuisines situées au niveau -1. Il souhaiterait que cette caméra supplémentaire enregistre les vidéos, de jour comme de nuit, lors de l'accès à ce local.
- une caméra PTZ surveillant les abords SUD-EST de la villa

Le commercial propose comme solution :

- la protection des deux portes du local par le système de détection d'intrusion existant.
- La surveillance du local par une caméra fixe IP avec fonction jour /nuit. Une entrée disponible à l'arrière de la caméra sera télécommandée par le système de détection d'intrusion lors de l'ouverture d'une des portes, ce qui déclenchera l'enregistrement des vidéos.
- Le rajout d'une caméra PTZ de marque identique à celles déjà installées.

On se propose donc, à travers ce projet d'installation, d'analyser le fonctionnement de l'installation actuelle, de valider la solution proposée par le commercial et de réaliser la modification technique.

*Présentation du système de vidéo surveillance existant:*

L'installation de vidéosurveillance de la Villa Demoiselle comprend actuellement 3 caméras PTZ de référence SNC-RZ50 :

- Une caméra placée à l'OUEST,
- Une caméra placée au NORD,
- Une caméra placée au SUD.

- Ces caméras sont placées dans des caissons thermostatés de référence SNCA-HRZ50-EXT et alimentées par une alimentation SNCA-PS24/4.

- Ces caméras fournissent, par le biais d'un réseau IP dédié, les vidéos à un enregistreur numérique de référence CAMTRACE LIGHT sans licence d'extension de caméras. L'audio n'est pas enregistré.

- Les vidéos enregistrées en temps réel, sont visualisables depuis le château POMMERY par le biais d'une liaison Wi-Fi reliant les deux sites.

- Ce réseau dédié aux caméras, utilisant des câbles de catégorie 5, est architecturé autour d'un switch (commutateur) de référence FS108.

- La liaison Wi-Fi utilise du matériel répondant à la norme 802.11G.

- Le cahier des charges précise que l'enregistreur numérique devra pouvoir stocker au moins 1 jour de vidéosurveillance.

<b>Baccalauréat Professionnel SYSTÈMES ÉLECTRONIQUES NUMÉRIQUES</b>			
Champ professionnel : <b>Audiovisuel Multimédia</b>			
Session : 2011	<b>DOSSIER CORRIGÉ</b>	Durée : 4 heures	Page
Épreuve : E2		Coefficient : 5	C 14 / 30