



SERVICES CULTURE ÉDITIONS
RESSOURCES POUR
L'ÉDUCATION NATIONALE

**Ce document a été numérisé par le CRDP de Montpellier pour la
Base Nationale des Sujets d'Examens de l'enseignement professionnel**

Ce fichier numérique ne peut être reproduit, représenté, adapté ou traduit sans autorisation.

BACCALAURÉAT PROFESSIONNEL

Artisanat et Métiers d'Art
Option Communication Graphique

SESSION JUIN 2011

E2 - Épreuve de Technologie
Sous épreuve A2 - Unité 21
Préparation de documents techniques

SUJET

Ce sujet comporte 28 pages A4.

Vous devez rendre la totalité du dossier à la fin de l'épreuve.

Vous serez évalué sur :

- > Votre capacité à définir des principes de base, des techniques de traitement de l'image, du texte, de la couleur, des procédés de fabrication et d'impression.
- > Votre capacité à établir des modes opératoires pour des étapes spécifiques de la chaîne graphique.
- > Votre capacité à expliquer et justifier des moyens de réalisation en fonction d'un cahier des charges et d'impératifs techniques.

SUJET			
Repère de l'épreuve	Durée	Coefficient	Page
	3H00	1,5	1/28

CAHIER DES CHARGES

Vous disposez d'éléments issus du studio de communication de la ville de Comines située en vallée de la Lys dans la région du Nord pas de Calais.
Vous répondrez sur les pages 3/28 à 22/28.

Caractéristiques techniques : Brochure : "Ma ville, Ma campagne"

- > **Format fini** : 210 x 297 mm.
- > **Tirage** : 6000 exemplaires.
- > **Impression** : Couverture et cahiers intérieurs (20 pages) sur presse offset, trame 150 lpi, recto/verso en quadrichromie.
- > **Support** : Papier satiné 2 faces en 90 g/m².
- > **Voir Annexe 1**

Caractéristiques techniques : Brochure : "Accueil de loisirs"

- > **Format fini** : 200 x 200 mm
- > **Tirage** : 2000 exemplaires.
- > **Impression** : Couverture et cahiers intérieurs (12 pages) sur presse offset, trame 150 lpi, recto/verso en quadrichromie.
- > **Support** : Papier satiné 2 faces en 80 g/m².
- > **Voir Annexe 2**

Caractéristiques techniques : Dépliants : "Promenade" et "Randonnée"

- > **Format fini** : 130 x 202 mm.
- > **Tirage** : 300 exemplaires chacun.
- > **Impression** : recto/verso en quadrichromie. linéature de 150 lpi.
- > **Support** : Papier mat en 80 g/m².
- > **Voir Annexe 3**

Caractéristiques techniques : Dépliant : "Informations pratiques"

- > **Format fini** : 70 x 210 mm
- > **Tirage** : 5000 exemplaires.
- > **Impression** : recto/verso en quadrichromie. linéature de 150 lpi.
- > **Support** : Papier mat en 80 g/m².
- > **Voir Annexe 4**

Caractéristiques techniques : Bulletin deux volets : "Lire en fête"

- > **Format fini** : 148 x 210 mm.
- > **Tirage** : 2000 exemplaires.
- > **Impression** : recto/verso en quadrichromie. linéature de 150 lpi.
- > **Support** : Papier satiné 2 faces en 90 g/m².
- > **Voir Annexe 4**

Caractéristiques techniques : Bulletin : "Estivales des commerces"

- > **Format fini** : 120 x 240 mm.
- > **Tirage** : 6000 exemplaires.
- > **Impression** : recto/verso en monochrome bendey, pantone : Process blue. Linéature de 150 lpi.
- > **Support** : Papier mat en 70 g/m².
- > **Voir Annexe 4**

Matériel technique mis à disposition pour l'infographiste :

> Ordinateur :

Unité centrale Mac ou PC ;
4 GHz ; 2 Go de RAM ;
Disque dur de 1 To.

> Écran :

Moniteur 21 pouces.

> Imprimante :

Laser A3 couleur, PostScript.

> Scanner :

A3 couleur à plat, haute résolution (1200 x 2400 dpi), opaque et transparent - logiciel d'acquisition intégré.

> Logiciels :

Gestionnaire de polices, logiciel de mise en page, logiciel vectoriel, logiciel de retouche d'image bitmap.

SUJET			
Repère de l'épreuve	Durée	Coefficient	Page
	3H00	1,5	2/28

Pour justifier la cohérence de vos réponses, précisez dans un premier temps, la plate-forme (Mac ou Pc), le nom et la version des logiciels avec lesquels vous avez l'habitude de travailler et auxquels vous ferez référence dans vos réponses :

> Plate forme (Mac ou PC) :

> Logiciel de mise en page : Version

> Logiciel de dessin vectoriel : Version

> Logiciel de retouche d'image : Version

Vous répondrez dans l'espace prévu sur les pages 3/28 à 22/28 du sujet.

Toutes les réponses que vous rédigerez devront être claires, hiérarchisées et chronologiques en utilisant un vocabulaire professionnel précis. Les croquis sont autorisés pour argumenter vos réponses.

1 / Étape de la conception :

1.1 : Après une analyse attentive de l'annexe 1, brochure "Ma ville / Ma campagne", déterminez la nature et l'objectif qui ont guidé la conception graphique de ce document.

- Est-ce un quotidien, semestriel... Autre ?

- D'où vient le crédit photo ?

- Qui est la cible ?

- Qui est le commanditaire ?

- Est-ce un document créé à des fins publicitaires, de vente, de loisirs créatifs, ludiques... Autre ?



SUJET			TOTAL PAGE : /
Repère de l'épreuve	Durée	Coefficient	Page
	3H00	1,5	3/28

1.2 : Tracez directement sur le calque A4 fourni en fin de dossier (Annexe 6) le "GABARIT" utilisé pour la mise en page automatique de la structure des pages intérieures de la brochure "Ma ville / Ma campagne".



Vous vous baserez sur la page 6 de la brochure (Annexe 5).

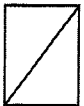
Vous devez y tracer et indiquer l'emplacement de :

EN VERT : le petit fond, grand fond, marge en tête, marge en pied.

EN BLEU : colonnes de texte automatique, pagination, bloc de titre.

EN ROUGE : Bloc images et habillage, Fond perdu.

1.3 : En fonction de votre gabarit et du logiciel que vous utiliserez pour la mise en page, remplissez les cases de saisie sur les impressions écran ci-dessous. Ceci afin de réaliser votre base structurale du nouveau document créé pour la brochure "Ma ville / Ma campagne".



Pour les dimensions des marges, vous vous baserez sur l'annexe 5 (Page n°6 de la brochure).

Nouveau document :
Quark Xpress

SUJET	Durée	Coefficient	TOTAL PAGE : /
Repère de l'épreuve	3H00	1,5	Page
			4/28

1.4 : (Annexe 2). Décrivez l'ambiance générale de la brochure "Accueils de loisirs". Vous parlerez des choix graphiques liés à sa conception. (Couleurs, typographie, composition, illustrations et photos).




1.5 : (Annexe 1). La réalisation de la brochure "Ma ville / Ma campagne" rend-elle possible l'imposition et l'impression des pages de couverture avec les pages intérieures ? Justifiez votre réponse !



1.6 : (Annexe 2). Le visuel de la page 6 et 7 fait partie du centre du cahier.

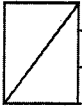


Quel est le terme employé pour cette double page ?
Développez votre réponse.



SUJET			TOTAL PAGE : /
Repère de l'épreuve	Durée	Coefficient	Page
	3H00	1,5	5/28

1.7 : (Annexes 1 & 2). Définissez le terme "Chemin de Fer" :



2.1 : (Annexe 2) Des éléments tels que foliotage, gros titres, marges, divers éléments graphiques se répètent sur toutes les pages du document.



Qu'allez-vous utiliser et comment faites-vous, dans le logiciel de mise en page, pour optimiser cette opération en évitant de re-positionner systématiquement ces éléments sur chaque page ?

SUJET			TOTAL PAGE : /
Repère de l'épreuve	Durée	Coefficient	Page
	3H00	1,5	6/28

2.2 : (Annexe 2) . Les titres des différentes rubriques qui jalonnent ce guide sont mis en scène à partir de textes en réserve sur fond de couleurs personnalisées.



A / Combien de couleurs, basées sur des teintes en quadrichromie, ont été créées pour représenter les différentes rubriques des pages 2 à 11 (intérieures).



B / Décrivez méthodiquement la procédure pour créer une de ces couleurs (menu/palette...) sur le logiciel de mise en page.



C / Ce sont des couleurs dites "composites". Que veut dire ce terme ?



SUJET			TOTAL PAGE : /
Repère de l'épreuve	Durée	Coefficient	Page
	3H00	1,5	7/28



D / Les gros titres des différentes pages sont réalisés en “réserve”. Qu’est-ce que cela signifie ?

2.3 : (Annexe 1) . Expliquez la procédure de mise en forme du foliotage automatique de la brochure “Ma ville / Ma campagne. Folio accompagné d’un élément graphique préalablement réalisé.



Juillet 2010 | 3

2.4 : (Annexe 4) . Le graphiste a réalisé des feuilles de styles pour mettre en forme les titres thématiques et les différentes rubriques des divers imprimés de la ville de Comines (brochure, dépliants, bulletins).



A) Décrivez le mode opératoire pour créer des feuilles de styles de “Caractère” :

SUJET			TOTAL PAGE : /
Repère de l'épreuve	Durée	Coefficient	Page
	3H00	1,5	8/28

.....

.....

.....

.....

.....


.....

.....

.....

.....

.....

 B) Quel est l'avantage de créer des feuilles de styles ?

.....

.....

.....

.....

.....


.....

.....

.....

.....

.....

 C) Et à quoi servent les feuilles de styles dites "de paragraphe" ?

.....

.....

.....

.....

.....

.....

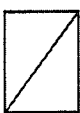
.....

.....

.....

.....

2.5 : À quelle famille de caractères appartiennent les textes représentés ci-dessous. Selon la classification Francis Thibaudeau ou Maximilien Vox ?



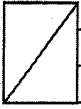
**ma ville
ma campagne**

Randonnée pédestre
à Comines
Circuit des chouettes

**Informations
pratiques**

SUJET			TOTAL PAGE : /
Repère de l'épreuve	Durée	Coefficient	Page
	3H00	1,5	9/28

2.6 : (Annexe 1). Qu'est-ce qu'une "lettrine" ?



2.7 : (Annexe 1). Sur le logiciel de mise en page, comment nommez-vous et comment réalisez-vous le fait que le texte soit repoussé autour et vers l'extérieur de l'image ?



2.8 : Définissez les termes suivants : "Approche" et "interlignage" :

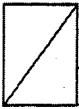


Approche :

Interlignage :

SUJET	Durée	Coefficient	TOTAL PAGE : /
Repère de l'épreuve	3H00	1,5	Page 10/28

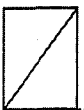
2.9 : Nommez et expliquez le procédé qui permet au texte d'être suivi (coulé) d'un bloc texte à l'autre entre 2 pages.



2.10 : A quoi servent les fonctions (Quark X-press) "Rassembler les infos pour la sortie" ou (Indesign) "Contrôle en amont / Assemblage" :



2.11 : Tous les documents réalisés (Annexes diverses) par le studio graphique de la ville de Comines ont été réalisés en suivant scrupuleusement des "cahiers des charges". Donnez votre définition du cahier des charges, à quoi sert-il ?



SUJET			TOTAL PAGE : /
Repère de l'épreuve	Durée	Coefficient	Page
	3H00	1,5	11/28

2.12 : (Annexe 2). Les informations concernant la participation financière sont organisées sous forme d'un tableau. Décrivez comment créer un tableau dans le logiciel de mise en page :




	QP1	QP2	QP3	QP4	QP5
Tarif	0,33 €	0,55 €	1,00 €	1,25 €	1,75 €
Demi-journée	1,05 €	1,65 €	3,00 €	3,75 €	5,25 €
Journée	2,10 €	3,30 €	6,00 €	7,50 €	10,50 €
Semaine	14,70 €	23,10 €	42,00 €	52,50 €	73,50 €
Pré-activités (Média ou web)	0,70 €	1,10 €	2,00 €	2,50 €	3,50 €
Repas	2 €	3 €	5 €	6,25 €	8,75 €
Repas allégerique	1,70 €	2,65 €	4,50 €	5,62 €	7,87 €

2.13 : (Annexe 2). Ce tableau présente des cellules colorées, une colonne sur deux ainsi que les filets. Décrivez le mode opératoire pour obtenir les colorations de ces éléments (Palette...).



SUJET			TOTAL PAGE : /
Repère de l'épreuve	Durée	Coefficient	Page
	3H00	1,5	12/28

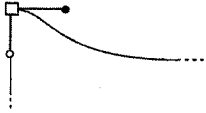
B / Reliez chaque terme précis à leur schéma. Points d'ancrages reliés par un tracé vectoriel représentés ci-dessous :



Points droits




Point de sommet



Points d'inflexions

4 / Gestion des images dites "Bitmap" :

4.1 : (Annexe 3). Sur l'un des volets du dépliant "Circuit des chouettes" se trouve l'image d'une chouette prenant son envol. Expliquez le mode opératoire sur Photoshop pour préparer l'image à son intégration dans le logiciel de mise en page en sachant que le photographe vous a fourni un fichier R.A.W. en R.V.B. (Évoquez le format, la résolution, le mode colorimétrique...).



SUJET			TOTAL PAGE : /
Repère de l'épreuve	Durée	Coefficient	Page
	3H00	1,5	17/28

4.6 : (Annexe 3). Toujours sur le même logiciel, décrivez comment le graphiste a réalisé cette mise en forme de photos argentiques posées sur le papier du dépliant. Vous évoquerez l'utilisation d'effets, filtres, et outils pour le mode opératoire. (Ne tenez pas compte de l'aspect sépia de certaines photos).



.....

.....

.....

.....

.....

.....

.....

.....

.....

.....

.....

.....

.....

.....

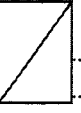
.....

.....

.....

.....

4.7 : Quel mode opératoire permet de faciliter le travail de l'opérateur en P.A.O. afin d'automatiser toutes les manipulations effectuées pour ensuite les attribuer aux autres photos du dépliant. Décrivez la procédure et la palette utilisée.



.....

.....

.....

.....

.....

.....

.....

.....

.....

.....

.....

.....

SUJET	TOTAL PAGE : /		
Repère de l'épreuve	Durée	Coefficient	Page
	3H00	1,5	21/28

5 / Étape de façonnage :

5.1 : (Annexe 4). Divers dépliants et bulletins ont été réalisés par le studio graphique de la ville de Comines.


A / Donnez le nom de la machine de façonnage qui permet de leur donner leur aspect final :

B / Donnez le nom de la mise en forme de chaque dépliant ainsi que le nombre de volets et plis :


Dépliant 1




Dépliant 2



Dépliant 3



Dépliant 4



.....

.....

.....

.....

.....

.....

.....

.....

.....

.....

.....

.....

.....

.....

.....

.....

.....

.....

.....

.....

.....

5.2 : (Annexe 4). Décrivez quelle méthode d'assemblage a été utilisée pour relier les pages des deux brochures "Ma ville / Ma campagne" & "Accueils de loisirs".

.....

.....

.....

.....

.....

.....

.....

.....

.....

.....

.....

.....

.....

.....

.....

.....

.....

.....

.....

.....

.....

SUJET	TOTAL PAGE : /		
Repère de l'épreuve	Durée	Coefficient	Page
	3H00	1,5	22/28

ANNEXE 1 : Brochure "Ma ville, ma campagne"



Organisés au mois d'août, les séjours permettent d'accueillir 40 jeunes et se déroulent sur un site touristique localisé dans le département.

« Un été en Nord » est destiné aux enfants âgés de 11 à 15 ans et consiste en l'organisation de séjours d'une durée de 5 jours et 4 nuits (du lundi au vendredi) au cours desquels les enfants partent à la découverte de leur département et pratiquent des activités sportives et de loisirs originales encadrées par des animateurs qualifiés et expérimentés.



comprend le transport, l'accompagnement, l'hébergement en tente, la restauration et les activités pratiquées.

Vous pouvez retirer et déposer un dossier d'inscription (dans la limite des places disponibles) à l'Espace Jeunesse qui vous renseignera sur le lieu du séjour et les dates proposées.

L'inscription, gratuite et sans condition de ressources, est possible jusqu'au 16 juillet !

Espace jeunesse cominois
 ☎ 03 20 39 02 42
<http://jeunesnord.cg59.fr/>

Le coût du séjour est intégralement pris en charge par le Département du Nord et



Ma ville Ma Campagne n°51 // juillet 2010

Directeur de la publication : Aigün Detournay
 Rédacteur en chef : Denis Kerjean
 Rédaction : Jennifer Fremaux - Design : Ludovic Malteus

Crédit photos : Ville de Comines
 N° ISSN : 1293 - 5304 Dépot légal : juillet 2010
 Impression : Qualité Imprim - Comines

Ma ville Ma Campagne est un trimestriel gratuit diffusé à 6000 exemplaires. Toute reproduction ou représentation, intégrale ou partielle, par quelque procédé que ce soit de la présente publication faite sans autorisation de l'éditeur est illicite (article L-122-4 du Code de la propriété intellectuelle) et constitue une contrefaçon.

Ma ville Ma Campagne est imprimée avec des encres végétales sur du papier recyclé aux normes PEFC / FSC. Le prestataire d'impression est certifié « Imprim'Vert ».

Juillet 2010 | 3

Juillet 2010 | 19

SUJET	Durée	Coefficient	TOTAL PAGE : /
Repère de l'épreuve	3H00	1,5	Page 23/28

ANNEXE 2 : Brochure "Accueils loisirs"

MODALITÉS D'INSCRIPTION

Accueil de loisirs « personnalisé » « s » « mercredi » - Un élève fréquentant l'école maternelle ou primaire aux enfants nés entre 2003 et 2004.
Ceux nés en 2005 auront impérativement 2 ans au premier jour de l'ouverture de l'école, ils seront progressés et inscrits dans un établissement scolaire.

Accueil de loisirs « personnalisable » « mercredi » des élèves de l'école primaire est ouvert aux enfants nés entre 1999 et 2004.

Seules seront prises en compte les inscriptions « s » « mercredi » en mai 2015. Le premier bloc de places sera réservé aux familles d'élèves scolarisés, après vérification des dates de la venue et des disponibilités de la collectivité.

Plus les 225 ans
Ménages du mercredi
15.05.2015 09h-12h

Plus les 08/12 ans
Ménages du mercredi
08.12.2015 09h-12h


Votre inscription se fera par le biais de votre école, à l'aide de l'annuaire de l'école, au poste de l'élève. Une fois l'inscription effectuée, vous recevrez un dossier de l'école, à retourner à la collectivité.

Votre participation financière sera indiquée en fonction de votre quotient familial (tableau page 11).

Si vous n'avez pas pu établir un dossier auprès de la collectivité et que vous n'avez pas bénéficié de la CAF, nous donnerons la priorité aux familles de plus en plus modestes.

• Inscrit de la collectivité ou inscrit de l'école
• un professeur de l'école âgé de moins de 3 mois.

MODALITÉS D'INSCRIPTION
REGLÈMENT DE VOTRE PARTICIPATION



ACCUEILS DE LOISIRS 2/6 ET 6/12 ANS

ANNÉE 2015

ACCUEILS DE LOISIRS
2/6 ET 6/12 ANS

DE 2 à 6 ANS
Personnels, mercredi 2 heures

DE 6 à 12 ANS
Personnels, mercredi 2 heures

DE 6 à 12 ANS
Personnels, mercredi 2 heures

DE 6 à 12 ANS
Personnels, mercredi 2 heures

DE 6 à 12 ANS
Personnels, mercredi 2 heures

DE 6 à 12 ANS
Personnels, mercredi 2 heures

	QF1	QF2	QF3	QF4	QF5
Tarif horaire	0,35 €	0,55 €	0,90 €	1,25 €	1,75 €
Demi-journée	1,05 €	1,65 €	2,70 €	3,75 €	5,25 €
Journée	2,45 €	3,85 €	6,30 €	8,75 €	12,25 €
Semaine	12,25 €	19,25 €	31,50 €	43,75 €	61,25 €
Péri-activités (matin ou soir)	0,70 €	1,05 €	1,80 €	2,45 €	3,55 €
Repas	2 €	2,85 €	3 €	3,55 €	4,05 €
Repas allergique	1,70 €	2,45 €	2,55 €	3,05 €	3,45 €

MODALITÉS D'INSCRIPTION

ACCUEILS DE LOISIRS 2/6 ET 6/12 ANS

ACCUEILS DE LOISIRS 2/6 ET 6/12 ANS

ACCUEILS DE LOISIRS 2/6 ET 6/12 ANS

ACCUEILS DE LOISIRS 2/6 ET 6/12 ANS

ACCUEILS DE LOISIRS 2/6 ET 6/12 ANS

ACCUEILS DE LOISIRS 2/6 ET 6/12 ANS

DE 6 À 12 ANS VACANCES SCOLAIRES

LES VACANCES SCOLAIRES

VACANCES D'AUTOMNE
Dates: du 22 septembre au 30 septembre 2015
Horaires: de 8h30 à 12h

VACANCES DE FIN D'ANNÉE
Dates: du 28 décembre 2015 au 04 janvier 2016
Horaires: de 8h30 à 12h

VACANCES D'HIVER
Dates: du 05 février 2016 au 19 février 2016
Horaires: de 8h30 à 12h

VACANCES DE PRINTEMPS
Dates: du 01 juin 2016 au 07 juin 2016
Horaires: de 8h30 à 12h

Les vacances scolaires sont ouvertes à tous les enfants de 6 à 12 ans.

Les activités proposées sont adaptées à l'âge et aux capacités des enfants.


Les animateurs sont des professionnels de la jeunesse.

Les lieux d'accueil sont des locaux adaptés et sécurisés.

Les tarifs sont indiqués dans le tableau ci-dessous.

SUJET	Durée	Coefficient	TOTAL PAGE : /
Repère de l'épreuve	3H00	1,5	Page 24/28

ANNEXE 3 : "Dépliant et bulletins"



En savoir plus...

L'origine du quartier de Sainte-Marguerite

Le quartier de Sainte-Marguerite doit son appellation à la chapelle du même nom que les seigneurs de Wynhem avaient construite. Détruite pendant les guerres de religion au XVI^{ème} siècle puis reconstruite au taste du human, cette chapelle sera incendiée en 1792 et détruite en 1794. Comines posséda de nombreux fiefs, dont celui de Sainte-Marguerite qui fut indépendant de 1790 à 1794, tandis que sa propre paroisse fut créée en 1864 (dépens le paroisse a fusionné avec celles de Comines et Werriol).




1) L'Église Sainte-Marguerite

C'est en 1905 que sera créée la paroisse de Sainte-Marguerite. Elle est la première paroisse de l'Église catholique à Comines, créée sur les communes de Sainte-Marguerite et de Werriol. Le premier curé fut M. J. de Weert, évêque de la paroisse de 1864 à 1905.



2) Chapelle Notre-Dame du Sac Sacrament

Cette chapelle, située sur le territoire de la commune de Werriol, fut construite par les habitants de Sainte-Marguerite. Elle a été détruite pendant la Première Guerre Mondiale par un bombardement. Elle fut reconstruite par le baron de Werriol, dans le quartier de Werriol, en 1920.



3) Avois de la hère Lille-Comines

C'est dans ce lieu, vers 1905, que fut créé un club d'aviation. C'est ainsi que Comines a pu participer à la construction et au premier vol de l'aéroplane de Comines. Cette hère de chemin de fer fut créée en 1896.



4) Le calvaire de Sainte-Marguerite

Le calvaire de Sainte-Marguerite est un monument de la commune de Sainte-Marguerite, construit en 1770. Il se trouve dans le quartier de Werriol. Il est inscrit au patrimoine architectural de la commune en 1975.



5) La rue de la Dentellière

Cette rue est connue pour la dentellière qui y travaillait. Elle est connue pour ses dentelles de lin et de coton. La dentellière y travaillait pendant des siècles. Cette rue est connue pour la dentellière qui y travaillait. Elle est connue pour ses dentelles de lin et de coton. La dentellière y travaillait pendant des siècles.

6) Biais dans un chemin du route de Wynhem

Le biais dans un chemin du route de Wynhem est un phénomène qui se produit lors de la construction d'un chemin. Il est dû à la déviation du chemin de fer. Ce biais est dû à la déviation du chemin de fer.

Office de tourisme
Maison du patrimoine
Avenue du Pont
59500 Comines
Tél : 03 20 14 21 51
www.ville-comines.fr

Randonnée pédestre à Comines
Circuit des chouettes

Office de tourisme
Maison du patrimoine
Avenue du Pont
59500 Comines
Tél : 03 20 14 21 51
www.ville-comines.fr

Randonnée pédestre à Comines
Circuit des chouettes

Office de tourisme
Maison du patrimoine
Avenue du Pont
59500 Comines
Tél : 03 20 14 21 51
www.ville-comines.fr

Circuit des chouettes

Le circuit des chouettes est d'une longueur d'environ 5 km. Il part de l'église de Sainte-Marguerite et se termine à la ferme de la Dentellière. Le circuit est ouvert tous les jours de 9h30 à 18h00.

La chouette la plus présente sur le territoire de Comines est la chouette chevêche. Il s'agit d'une chouette de petite taille, à l'aspect trapu. C'est la plus commune des chouettes, malgré son nom qui l'aurait surnommé. On peut l'observer en plein jour perchée sur des poteaux ou sur des toits. Elle se rencontre dans les milieux ouverts, zones cultivées, niche dans les cavités des vieux arbres ou les bâtiments abandonnés. Ce circuit est ouvert toute l'année même si la meilleure période s'étend d'avril à octobre.

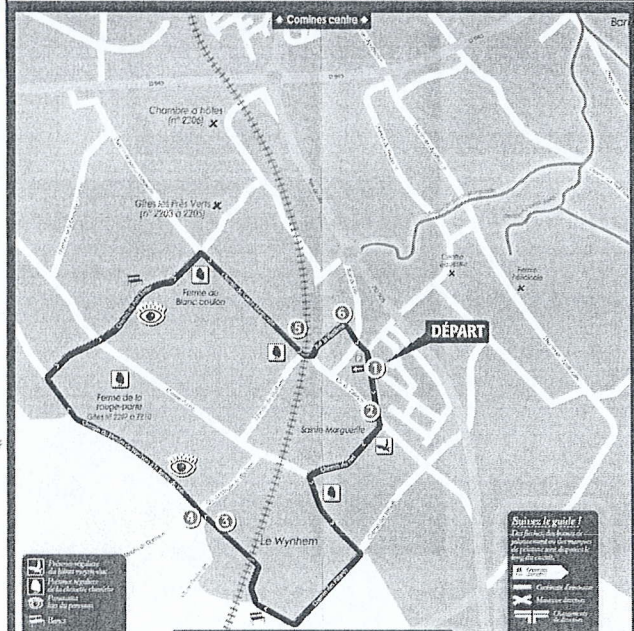


La chouette chevêche

Les chouettes chevêches sont un type de chouette. Elles sont présentes dans les milieux ouverts, zones cultivées, niche dans les cavités des vieux arbres ou les bâtiments abandonnés. Ce circuit est ouvert toute l'année même si la meilleure période s'étend d'avril à octobre.

Le hibou moyen-doré

Le hibou moyen-doré est une espèce de hibou. Il est présent dans les milieux ouverts, zones cultivées, niche dans les cavités des vieux arbres ou les bâtiments abandonnés. Ce circuit est ouvert toute l'année même si la meilleure période s'étend d'avril à octobre.



SUJET	TOTAL PAGE : /		
Repère de l'épreuve	Durée	Coefficient	Page
	3H00	1,5	25/28

ANNEXE 4 : Divers & Dépliants (suite).

Voici différents articles mis en forme à l'aide de feuilles de styles

Comité consultatif d'accessibilité UN TRAVAIL ESSENTIEL

En octobre 2002, la ville a créé un comité consultatif d'accessibilité des personnes handicapées. Il constitue un véritable lieu d'échange sur les problématiques liées aux actes de la vie quotidienne et vise à favoriser le travail, l'amélioration des services de la ville, de la communauté urbaine de Lille et des associations de représentants d'usagers.

En outre, il renvoie l'offre de logements accessibles aux personnes handicapées.

Maison du patrimoine LABELISATION «TOURISME ET HANDICAP»

Pour répondre à la prise en compte des attentes et des besoins des personnes handicapées, inscrits dans la loi du 11 février 2005, le Ministère chargé du tourisme a créé le label « Tourisme et Handicap ».

L'Office de tourisme de Comines sera inscrit dans cette politique en attendant que l'obtention de ce label sur la destination « handicap-moteur » en 2008 (mise aux normes d'accès des sanitaires, largeur des portes, etc.).

OPTIQUE DU BEFFROI
9 bis, rue de la République
☎ 03.20.36.12.95.
» Pas de fermeture

OPTIQUE KRYS
107, rue d'Hurlupin
☎ 03.20.07.93.54.
» Pas de fermeture

OPTIQUE DESMAZIERES
52, rue d'Hurlupin
☎ 03.20.39.05.23
» Du 09/08 au 31/08

DOCTEUR VO PHI TRAM
Chirurgien - Dentiste
54, avenue du Mal. Lectere
☎ 03.20.39.03.66.
» Du 26/07 au 22/08
(Urgences assurées)

DOCTEUR DUCHATEAU VINCENT
Chirurgien - Dentiste
54, avenue du Mal. Lectere
☎ 03.20.39.03.66.
» Du 26/07 au 22/08
(Urgences assurées)

VACANCES D'HIVER

Lieu : Préfabriques Brel/Brassens
Dates : du 21 février au 4 mars 2011
Horaires : de 7h30 à 18h

Formule multiactivités
« Senior météo, quand tu dis qu'il fait beau... »

Vos enfants joueront aux apprentis météorologues. Ils expérimentent et découvriront les phénomènes météorologiques les plus spectaculaires tout en s'amusant.

Repas à thème pour les 30 ans de l'APAC
Jeudi 21 octobre
Réservez aux résidents de la Maison de retraite.

Repas dansant
Jeudi 21 octobre
Organisé par : l'Office cominois du troisième âge « Depart en bus à 11h de la salle Argon en direction du restaurant « La Motte au Bois » à Roisimes. Retour prévu à 20h. Sur inscription auprès de M. Sansen Francis au 03 20 39 95 77. Tarifs : 35 € (52 € pour les cotisants).

VACANCES DE PRINTEMPS

Lieu : Préfabriques Brel/Brassens
Dates : du 18 au 29 avril 2011
Horaires : de 7h30 à 18h

Formule multiactivités
« Alerte, animaux en danger ! »

Loup, baleine, ours, tigre... la liste est bien trop longue pour énumérer l'ensemble des espèces menacées !

Concours de belote
Mardi 26 octobre
Centre Desire Ducrain, de 14h à 17h.
Sur inscription auprès du CCAS.

Ouvert aux aînés de Comines, Deùtemont, Wasmont, Wervicq-Sud et les résidents de la Maison de retraite de Comines.

Journée portes ouvertes au CLIC
Mercredi 27 octobre
De 9h à 12h et de 14h à 17h.
- CLIC de la Vallée de la Lys - 20 place du Général de Gaulle à Comines ☎ 03.20.42.84.25

Comines

Votre agenda

- Musique
- Expositions
- Rencontres
- Patrimoine
- Spéctacles
- Loisirs
- Sports

SEPTEMBRE OCTOBRE

OFFICE DE TOURISME

Grand Place, Rue de la République, Rue d'Hurlupin, Rue de France, Rue de l'Église, Rue de la Poste, Rue de la Vallée.

Landmarks: Mairie de Comines, Église Saint-Eusèbe, Centre Desire Ducrain, CLIC, Centre de la Vallée de la Lys.

SPECTACLE DE MARIONNETTES
Samuel 14 octobre
Lecteur et écrivain

COMINES AU FIL
Mardi 12 novembre 2010
Centre Desire Ducrain

COMINES AU FIL
Mardi 12 novembre 2010
Centre Desire Ducrain

Informations pratiques

1811 rue du Maréchal de Lattre de Tassigny
03 20 39 95 77

DU 1^{ER} AU 23 OCTOBRE 2010
LIRE EN FÊTE

DES FORÊTS, DES ARBRES, DES LIVRES
A COMINES & WERVICQ-SUD

Informations pratiques

BIBLIOTHÈQUE MUNICIPALE
1811 rue du Maréchal de Lattre de Tassigny
03 20 39 95 77

DU 1^{ER} AU 23 OCTOBRE 2010
LIRE EN FÊTE

DES FORÊTS, DES ARBRES, DES LIVRES
A COMINES & WERVICQ-SUD

EXPOSITION DES ECOLES D'ARTS ET MÉTIERS
Du 1^{ER} au 23 octobre

CONCOURS DE DENIERS
Vendredi 1^{er} octobre // 20h
Jeudi 22 octobre // 18h

MAISON DES ENSEIGNANTS DES ECOLES
Du 1^{ER} au 23 octobre

AVANT L'ÉVALUATION
Mardi 12 novembre 2010

RENAISSANCE DE L'ART
Mardi 12 novembre 2010

RENAISSANCE DE L'ART
Mardi 12 novembre 2010

SUJET	Durée	Coefficient	TOTAL PAGE : /
Repère de l'épreuve	3H00	1,5	Page 26/28

• Vie locale

Rappel

➤ PERMANENCES DE LA MISSION LOCALE

La Mission Locale de Tourcoing assure des permanences à l'Espace Jeunesse Cominois tous les lundis de 14h à 17h et les mercredis de 9h à 12h.

Elle reçoit les jeunes de 16 à 25 ans déscolarisés, pour les aider dans leur démarche d'insertion sociale et professionnelle.

Espace jeunesse cominois
☎ 03 20 39 02 42

Formation continue

➤ LA BELGIQUE ACCUEILLE LES COMINOIS

Afin de faciliter l'accès des Cominois à la formation continue, la municipalité a mis en place depuis plusieurs années un partenariat avec l'Institut Saint-Henri de Comines Belgique et l'Institut d'Enseignement de Promotion Sociale de la Communauté Française de Mouscron, sous la forme d'une participation financière dont le montant varie en fonction de la situation du bénéficiaire.

Les inscriptions à l'Institut Saint-Henri sont possibles jusqu'au 6 juillet 2010 (inclus) et à partir du 23 août de 9h à 12h et de 14h à 17h.

Des portes ouvertes les 1^{er} et 2 septembre 2010 de 19h à 21h vous permettront de découvrir les formations dispensées.

<http://promsoc.saint-henri.be>

Les inscriptions à l'IEPSCF sont possibles à partir du 16 août 2010 (horaires sur le site www.iepsm.be ou par mail info@iepsm.be).

Séjour jeunesse

➤ UN ÉTÉ EN NORD

Le Conseil Général du Nord, en partenariat avec la Ville et les autres « Villes Pilotes » du département, reconduit l'opération « Un été en Nord » en faveur des collégiens qui n'ont pas l'occasion de partir en vacances pendant la période estivale.

Organisés au mois d'août, les séjours permettent d'accueillir 40 jeunes et se déroulent sur un site touristique localisé dans le département. comprend le transport, l'accompagnement, l'hébergement en tente, la restauration et les activités pratiquées.

« Un été en Nord » est destiné aux enfants âgés de 11 à 15 ans et consiste en l'organisation de séjours d'une durée de 5 jours et 4 nuits (du lundi au vendredi) au cours desquels les enfants

partent à la découverte de leur département et pratiquent des activités sportives et de loisirs originales encadrées par des animateurs qualifiés et expérimentés.

Le coût du séjour est intégralement pris en charge par le Département du Nord et

Centre Communal d'Action Sociale

➤ DES AIDES POUR TOUS

Afin de permettre aux Cominois d'accéder à l'enseignement supérieur, aux prestations municipales, ou encore de s'épanouir à travers la pratique d'une activité sportive, le CCAS a décidé de mettre en place des aides financières. Une partie des frais suivants peut être prise en charge sous certaines conditions :

- les frais de transport des étudiants souhaitant poursuivre leurs études après le bac et dont l'établissement d'enseignement ou le lieu de stage se situent à plus de 100 km de leur domicile,

- les frais de restauration et d'études dirigées (pendant et au-delà des périodes scolaires pour les enfants fréquentant les accueils de loisirs municipaux),

- les frais d'adhésion des jeunes de moins de 26 ans souhaitant pratiquer une activité sportive dans une association cominoise affiliée à une fédération agréée par le Ministère de la Jeunesse et des Solidarités Actives.

N'hésitez pas à vous rapprocher du CCAS pour connaître le détail de ces aides et leurs conditions d'attribution.

➤ PLAN CANICULE : PENSEZ A VOUS INSCRIRE

Depuis la canicule de 2003, le CCAS tient un registre nominatif recensant les personnes âgées de plus de 65 ans, les personnes de plus de 60 ans reconnues inaptes au travail et les personnes en situation de handicap afin de les aider en cas de fortes chaleurs.

Pensez à vous inscrire ou à vous faire inscrire par un tiers ou un représentant légal (famille, ami, voisin, services à domicile, etc.).

Centre communal d'action sociale
☎ 03 28 38 82 00



SUJET	Durée	Coefficient	TOTAL PAGE : /
Repère de l'épreuve	3H00	1,5	Page 27/28

ANNEXE 6 : Calque

Base Nationale des Sujets d'Examens de l'enseignement professionnel
Réseau SCEREN

SUJET			TOTAL PAGE : /
Repère de l'épreuve	Durée	Coefficient	Page
	3H00	1,5	28/28