



SERVICES CULTURE ÉDITIONS
RESSOURCES POUR
L'ÉDUCATION NATIONALE

**Ce document a été numérisé par le CRDP de Lille pour la
Base Nationale des Sujets d'Examens de l'enseignement professionnel**

Ce fichier numérique ne peut être reproduit, représenté, adapté ou traduit sans autorisation.

BACCALAUREAT PROFESSIONNEL

U52

HISTOIRE-GEOGRAPHIE

SESSION 2011

Le candidat traitera au choix le sujet **1** ou le sujet **2**

L'usage de la calculatrice n'est pas autorisé
Aucun document personnel n'est autorisé.

Coefficient : 2

Durée : 2 heures

BACCALAUREAT PROFESSIONNEL

U52

GEOGRAPHIE

SESSION 2011

Sujet 2

Base Nationale des Sujets d'Examens de l'enseignement professionnel
Réseau SCLÉREN

L'AGRICULTURE : UN PILIER POUR LE DEVELOPPEMENT EN AFRIQUE ?

Document n°1 : Les types d'agriculture dans le monde (carte)

Document n°2 : Données sur l'agriculture de quelques pays d'Afrique (tableau)

Document n°3 : Le Malawi, un modèle agricole pour l'Afrique ? (texte)

Document n°4 : La course aux terres arables en Afrique (texte)

Document n°5 : *Chine – Afrique, le dragon et l'autruche* (couverture de livre)

QUESTIONS

Question 1 (Document 1)

1 point

Quel est le système agricole le plus répandu dans les pays de la Triade ?

Question 2 (Document 1)

2 points

Etablissez deux constats en observant la situation agricole en Afrique.

Question 3 (Document 2 et carte en annexe)

3 points

En comparant les données du document 2 (à l'échelle mondiale puis continentale), montrez la diversité des situations agricoles en Afrique.

Question 4 (Document 3)

3 points

Quel a été le choix du Malawi en matière de politique agricole ? Pourquoi, et quels en ont été les effets ?

Question 5 (Documents 4 et 5)

3 points

A quelle situation l'Afrique est-elle aujourd'hui confrontée à propos de l'exploitation de ses terres et quelles en sont les conséquences ?

Question 6

8 points

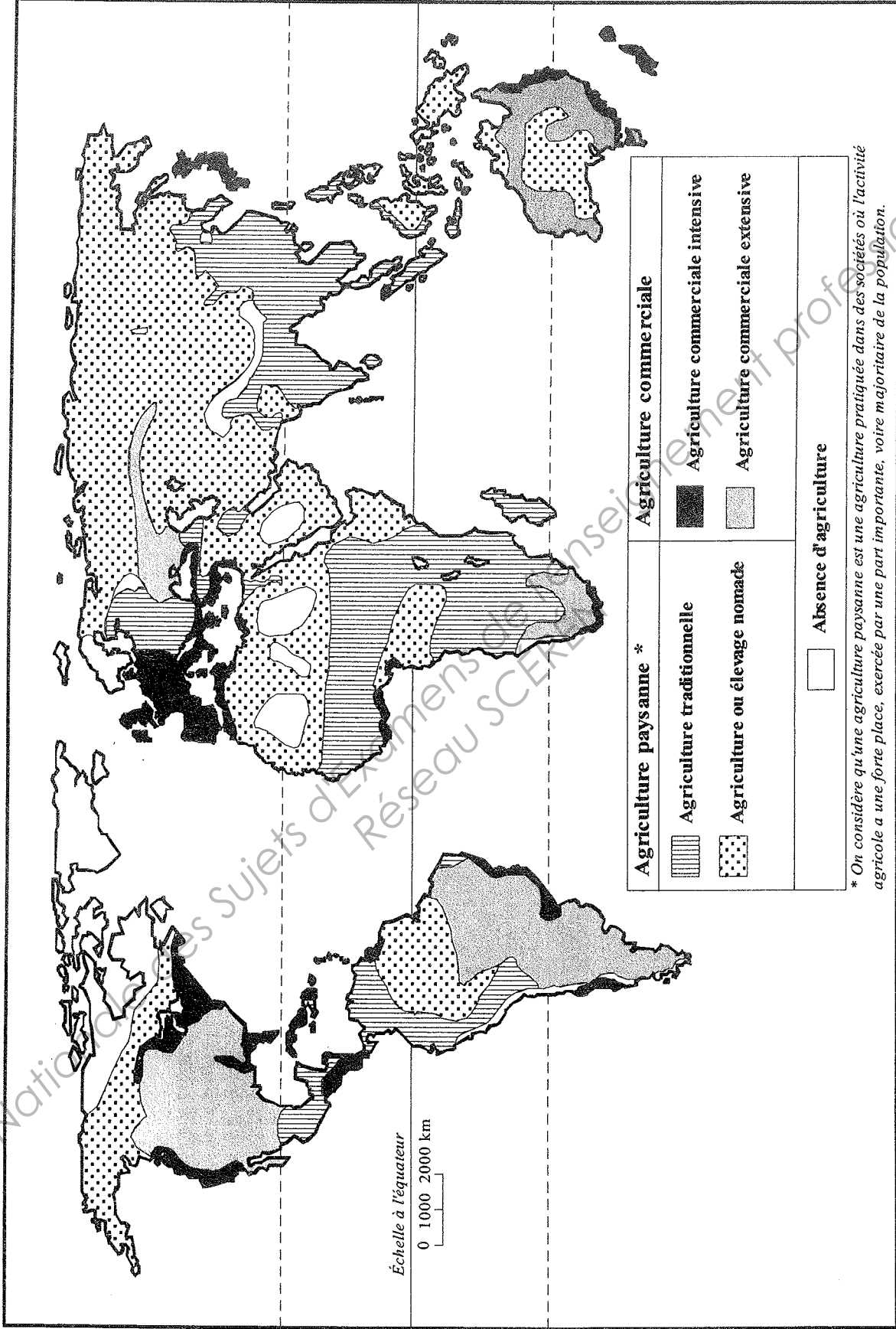
A partir de vos connaissances, des documents et des réponses aux questions, vous rédigerez un texte sur le sujet suivant :

« L'agriculture : un pilier pour le développement en Afrique ? »

Vous pourrez, par exemple, organiser votre réponse à partir du plan suivant :

- Les grandes caractéristiques de l'agriculture en Afrique
- La diversité des choix politiques

Document 1 : Les types d'agriculture dans le monde



Document 2 : Données sur l'agriculture de quelques pays d'Afrique

	Rendement des céréales (kg/hectare)	Machines agricoles (par 100 km² de terres arables)	Consommation d'engrais (kg/hectare de terres arables)
	en 2008	en 2007	en 2007
Egypte	7506	339,9	527,2
Tunisie	1399	143,8	33,7
Afrique du Sud	3807	43,4	43,9
Malawi	1599	4,8	34,4
Sénégal	1075	3,2	2,0
République Démocratique du Congo	772	3,6	0,0
Niger	504	0,1	0,4
Erythrée	466	7,2	3,7
Namibie	417	25	2,3
France	7293	615,7	207,8
MONDE	3707	195,3	129,4

Source : Banque mondiale (2005-2009)

Document 3 : Le Malawi, un modèle agricole pour l'Afrique ?

« En 2005, le Malawi était en proie à la pire sécheresse [...] jamais connue, les récoltes étaient les plus mauvaises jamais enregistrées, et le pays s'est vu contraint d'importer 400 000 tonnes de maïs. Ces importations sont arrivées au compte-gouttes, car le Malawi, enclavé, était tributaire du réseau routier sud-africain, également utilisé par le Zimbabwe. Les Malawites étaient obligés de faire la queue pendant des heures pour obtenir des rations alimentaires, et la population, pourtant en mesure de cultiver de quoi se nourrir, se trouvait dans une situation dramatique. Le président, également ministre de l'Agriculture, décida que rien n'était plus important que d'accorder aux agriculteurs le soutien nécessaire pour qu'ils puissent produire leurs propres cultures vivrières.

Des comités de développement rural furent établis dans les villages pour déterminer les bénéficiaires du programme qui prévoyait de subventionner environ 1,5 million d'agriculteurs démunis afin qu'ils cultivent au moins un quart d'hectare de maïs. Cela coûta à l'Etat quelque 10 milliards de kwachas (53 millions d'euros), et la production atteignit 3,6 millions de tonnes de maïs, soit plus du double [des besoins]. Soudain, il y avait du maïs en abondance, les queues ont disparu, les réserves étaient pleines, les prix se sont stabilisés [...]. Le gouvernement a alors acheté le maïs en excédent, [l'a stocké] en vue d'une utilisation ultérieure et pour les réserves stratégiques nationales [...]

L'économie malawite affiche une croissance positive depuis 2006 et a atteint cette année le taux impressionnant de 7%, phénomène attribué au secteur agricole. Le gouvernement cherche à consolider la production agricole en formant les agriculteurs à des techniques modernes comme l'irrigation et l'utilisation de semences hybrides, et à la gestion d'entreprise. Le Malawi est parmi les rares pays d'Afrique à accorder la priorité à l'agriculture. Il alloue 14% de son budget à ce secteur et l'a placé sous la responsabilité directe du président du pays [...]. Le Kenya, l'Ouganda, la Tanzanie et le Swaziland y ont envoyé des délégations afin d'étudier la mise en œuvre de ce programme, dans l'idée d'en faire autant. »

Source : Article de Catherine Riungu paru dans *The East African Journal* (journal de Nairobi, Kenya). Cité par *Courrier international*, n° 939, 30 octobre 2008.

Document 4 : La course aux terres arables en Afrique


« La mainmise des investisseurs sur les terres cultivables s'accroît dans les pays en développement, notamment en Afrique. Un rapport de la Banque mondiale, publié mercredi 8 septembre 2010, dresse un tableau inquiétant de cette ruée vers la terre. Depuis la forte hausse du prix des matières premières agricoles qui a provoqué les émeutes de la faim en 2008, le rachat des terres arables est devenu la priorité de nombreux pays pour assurer leur autosuffisance alimentaire [...]

Au premier rang des acheteurs, on retrouve les pays fortement peuplés et dont les surfaces agricoles sont insuffisantes comme la Chine, le Japon et la Corée du Sud. Depuis 2007, Pékin a ainsi déboursé plus de 2 milliards d'euros pour acquérir des terres et produire des denrées qui manquent en Chine : riz, maïs, soja. La plus grande partie de ces rachats est destinée à produire de la nourriture (40%) et des biocarburants (35%). [...]

Derrière ces rachats de terre par les gouvernements, on trouve également des entreprises privées comme, par exemple, les géants de l'agro-business qui cherchent à développer leurs activités ou bien encore des fonds de pension et des grandes banques qui ont trouvé dans la terre un nouvel actif spéculatif. Si le rapport de la Banque mondiale souligne quelques réussites en Amérique latine, il dénonce aussi les dommages faits aux populations locales, surtout en Afrique, qui perdent leurs droits sur les terres qui les font vivre. [...]

Les emplois détruits, en particulier pour ceux qui perdent leur outil qu'est la terre, sont bien plus nombreux que les emplois créés. Les infrastructures construites par les pays acquéreurs sont le plus souvent orientées vers l'exportation des productions et non vers la satisfaction des besoins des populations. Des populations qui commencent à réagir. La tentative avortée du groupe sud-coréen Daewoo de louer 1,3 million d'hectares de terres agricoles à Madagascar à un prix très bas est devenu le symbole de cette lutte. »

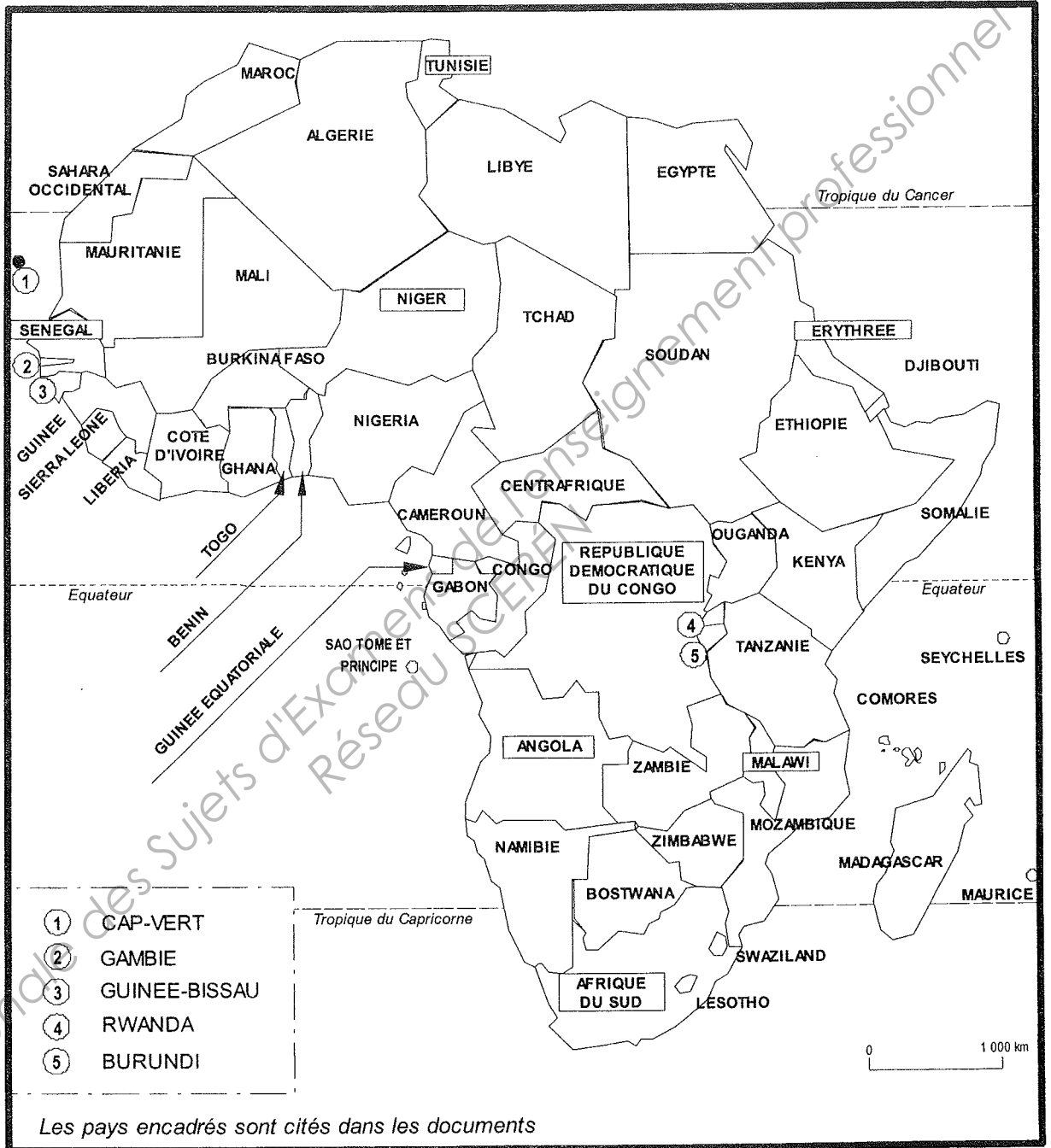
Source : Myriam Berber, *Radio France Internationale* (RFI), 9 septembre 2010.



Source : Couverture du livre de Adama Gaye, *Chine-Afrique. Le dragon et l'autruche*, Paris, L'Harmattan, 2006.

ANNEXE

Carte : Les Etats d'Afrique



Source : Académie de Nantes, DIVEC