

NE RIEN ECRIRE DANS CE CADRE

Académie :	Session :
Examen :	Série :
Spécialité/option :	Repère de l'épreuve :
Epreuve/sous épreuve :	
NOM : <small>(en majuscule, suivi s'il y a lieu, du nom d'épouse)</small>	
Prénoms :	N° du candidat
Né(e) le :	<small>(le numéro est celui qui figure sur la convocation ou liste d'appel)</small>

Appréciation du correcteur


NOTE	/ 20
------	------

CAP MENUISIER en SIEGE Session JUIN 2011
Epreuve EP. 4 ETUDE des STYLES et des TECHNIQUES dans l'AMEUBLEMENT

Style de ce siège :
.....
 Siècle du Style :
.....
 Tournage
 des pieds en
 Noms de 2 autres
 types de tournage :



1



Quel est le nom
de ce fauteuil ?
.....
 Quel est son style ?
.....
 Siècle du style :
.....
 Quelle est la figure
géométrique de son
plan ?
.....

2



3 a

Style de ce fauteuil :
.....
 Quel est l'élément qui est
commun avec le 1er siège
de gauche ?
.....



3 b

Ce fauteuil (3b) est de même style que celui au dessus à droite (3a).
 Inscrivez ci-dessous, 2 éléments qu'ils ont en commun :

 Puis, inscrivez ci-dessous, 3 éléments qui sont présents dans le fauteuil ci-contre et qui ne sont pas
 présents dans celui en haut à droite :
 1..... inscrivez les numéros aux endroits du fauteuil
 2..... où sont présents ces éléments
 3.....



Nom de ce siège :
.....
 Style ;

par quoi est-il recouvert ?
.....



Quel est le nom de ce type
de pied ?
.....

Quel est le nom de ce type
de dossier ?
.....



Style de ce siège ?
.....
 Quel est l'essence de
bois la plus utilisée
dans ce style ?
.....

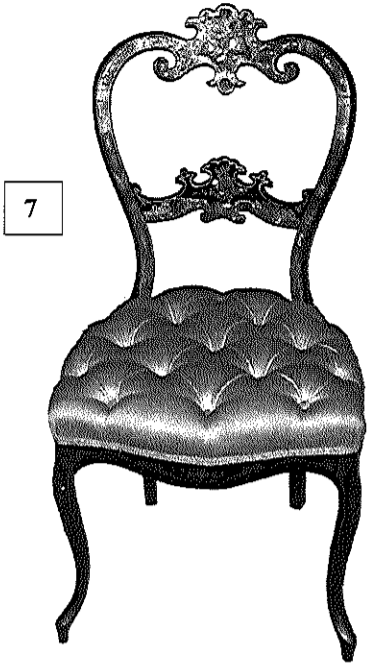
Ci-dessous, inscrivez les
particularités de chacun des
éléments

Piètement avant :
 Piètement arrière :

Quel est le nom des éléments rembourrés au dessus des accotoirs ?

CAP MENUISIER en SIEGES	Code 50 23411	Sujet	Session Juin 2011
Epreuve : EP4 Etude des Styles et des Techniques dans l'Ameublement	Durée 1 h	Coefficient 1	Page 1 / 2

Ne rien inscrire dans ce cadre



Quel est le nom de cette chaise ?

Quel est son style ?

Comment s'appelle le recouvrement de son assise ?



Quel est le style de cette chaise ?




Quelle est la source de son esthétique ?



Quel est le nom de ce siège qui vient de l'antiquité romaine ?

Quel est son style ?

Associez les meubles présentés avec les sièges en inscrivant le chiffre qui correspond dans le petit cadre .



CAP MENUISIER en SIEGES	Code 50 23411	Sujet	Session Juin 2011
Epreuve : EP4 Etude des Styles et des Techniques dans l'Ameublement	Durée 1 h	Coefficient 1	Page 2 / 2