

**Sujet à insérer et à agraffer dans une copie modèle E.N**

**CAP DEMENAGEUR PROFESSIONNEL**

**EP2**

**Technologie Professionnelle**

**Durée : 1 H 30**

**NOTE : ..... / 20**

Le sujet comporte : 12 pages (numérotées de 1 à 12)

1<sup>e</sup> PARTIE : Le déménagement: 24 points

2<sup>e</sup> PARTIE : Les documents du déménagement : 10 points

3<sup>e</sup> PARTIE : Véhicule et matériel: 12 points

4<sup>e</sup> PARTIE : Géographie et lecture de carte: 14 points

**TOTAL : ...../ 60 points**

CAP Déménageur professionnel		Session Juin 2011	
EP.2 : Technologie professionnelle		Coefficient : 2	Page 1/12
Dossier réponses	Durée 1 h 30	N° de candidat .....	

## 1<sup>e</sup> PARTIE : Le déménagement

A) Répondez aux questions en cochant la ou les bonnes réponses :

**1. Le chargement d'un véhicule implique certaines règles. Parmi ces 4 propositions laquelle faut-il appliquer?**

A. Le lourd devant, le léger derrière.

B. Le lourd en bas, le léger en haut.

C. Le léger devant, le lourd derrière.

D. Le léger en bas, le lourd en haut.

**2. Lors du portage d'un piano droit en chandelle,**

A. Il est recommandé de démonter le clavier en premier

B. Il est recommandé de faire une couronne avec une sangle coton.

C. Le piano est couché sur le dos.

D. L'utilisation des sangles devient inutile.

**3. La mise en penderie des vêtements sur cintre est fonction**

A. Du contrat passé entre l'entreprise et le client.

B. De la qualité des vêtements.

C. Du nombre de vêtements.

D. La mise en penderie est réservée aux vêtements de marque.

CAP Déménageur professionnel		Session Juin 2011	
EP.2 : Technologie professionnelle		Coefficient : 2	Page 2/12
Dossier réponses	Durée 1 h 30	N° de candidat .....	

**4. Le service vaisselle en porcelaine doit être conditionné dans :**

- A. Un carton de type « barrel ».
- B. Une valise de type « démécrin ».
- C. Un bac PVC et du papier blanc.
- D. Un carton de type « standard » et du papier blanc.

**5. Une armoire chevillée :**

- A. Est une armoire indémontable.
- B. Se démonte de préférence couchée sur le côté.
- C. Fait l'objet d'un repérage avant le démontage.

**6. La livraison en garde meuble est assimilée à la livraison à domicile et met fin au contrat de déménagement.**

- A. Vrai
- B. Faux

**7. Le carton de type « Barrel » sert à conditionner**

- A. Des assiettes.
- B. Des verres.
- C. Des jouets.
- D. Des tableaux.

CAP Déménageur professionnel		Session Juin 2011	
EP.2 : Technologie professionnelle		Coefficient : 2	Page 3/12
Dossier réponses	Durée 1 h 30	N° de candidat .....	

**8. La lettre de voiture de déménagement est la preuve du contrat conclu avec le client.**

A. Vrai

B. Faux

**9. La lettre de voiture de déménagement doit renseigner sur :**

A. Les adresses de chargement et de livraison

B. L'itinéraire à suivre

C. Le nom du client

D. La date de chargement

**10. Lors d'une opération de déménagement, il est interdit de charger dans le véhicule :**

A. Du nettoyant à peinture (Diluant)

B. Un décapeur thermique

C. Dix litres d'essence pour la tondeuse

D. Des cartouches pour fusils de chasse

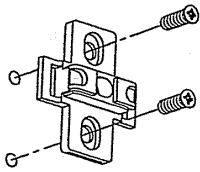
**11. Avant d'utiliser pour la première fois un monte-meubles, une formation à la sécurité est obligatoire.**

A. Vrai

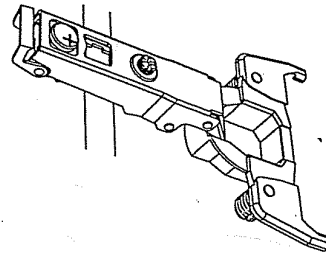
B. Faux

CAP Déménageur professionnel		Session Juin 2011	
EP.2 : Technologie professionnelle		Coefficient : 2	Page 4/12
Dossier réponses	Durée 1 h 30	N° de candidat .....	

**12. Ces deux pièces forment une charnière de porte pour armoire**



1



2




A. Vrai

B. Faux.

C. La pièce 1 va sur la porte et la pièce 2 sur l'armoire.

D. La pièce 2 va sur la porte et la pièce 1 sur l'armoire.

**B) Calculez le volume total des objets ci-dessous:**

	<p>Un lave-linge</p> <p>Dimensions Hauteur 0,84 m ; Longueur 0,52 m ; Largeur 0.60 m.</p> <p>Calcul :</p>
	<p>Un lot de 8 cartons</p> <p>Dimensions Hauteur 0,30 m ; Longueur 0,50 m ; Largeur 0.30 m</p> <p>Calcul :</p>
	<p>Un meuble TV et un téléviseur LCD</p> <p>Dimensions Hauteur 52 cm ; Longueur 120 cm ; Largeur 57 cm Hauteur 70 cm ; Longueur 100 cm ; Largeur 5 cm</p> <p>Calcul :</p>

CAP Déménageur professionnel		Session Juin 2011	
EP.2 : Technologie professionnelle		Coefficient : 2	Page 5/12
Dossier réponses	Durée 1 h 30	N° de candidat .....	

## 2<sup>e</sup> PARTIE : Les documents du déménagement

À l'aide du devis ci-dessous, renseignez la lettre de voiture de déménagement page 7 / 12 de ce document

Transport de déménagement  
& Garde-meubles  
Ets VIKING  
27 Rue de la tour  
50100 Cherbourg  
Tel : 02 33 01 05 99

M. Duroy Mathieu  
8 Rue du Prince  
75013 Paris  
Tel : 01 42 12 80 12

DEVIS CONTRAT N°2010-15

Code client : 1 007 2010

Date : 04-01-2010

	Chargement	Livraison
Adresse	40 rue du Pont 50100 Cherbourg	5 Rue de la forêt 35000 Rennes
Accès	Rez-de-chaussée	Rez-de-chaussée
Véhicule	261 ZW 14	Volume évalué : 35 m <sup>3</sup>

### Détail du prix en euros

Notre prix pour la prestation convenue	2100,00
Garantie responsabilité contractuelle Valeur globale 200 000 €	
Total HT	2100,00
TVA	411,60
Total TTC	2511,60 €
30% à la commande, le solde à la livraison	
En cas de difficultés non signalées, suppléments éventuels :	
Monte-meubles la demi-journée 240 € TTC	1 personne supplémentaire 1/2 journée 100 €
	Véhicule léger (1/2 journée) 150 €

CONDITIONS GENERALES : voir au verso  
CONDITIONS PARTICULIERES :

Pour l'acceptation du présent devis et des conditions générales et particulières, veuillez signer au recto et au verso.  
Retournez un exemplaire à l'entreprise.

Les : 04 / 01 / 2010

*J. Reverdi*

CAP Déménageur professionnel		Session Juin 2011	
EP.2 : Technologie professionnelle		Coefficient : 2	Page 6/12
Dossier réponses	Durée 1 h 30	N° de candidat .....	



Déménagement de particuliers

NOM, ADRESSE ET N° SIREN OU N° D'IDENTIFICATION INTRACOMMUNAUTAIRE DE L'ENTREPRISE

**exemplaire A**  
constituant la souche  
à conserver par l'entreprise  
pendant 2 ans

CLIENT \_\_\_\_\_  
DEVIS N° \_\_\_\_\_

# LETTRÉ DE VOITURE DE DÉMÉNAGEMENT

Document obligatoire par l'arrêté du 9/11/1999

Nom du client <b>M</b> Adresse	VOYAGE SPÉCIAL <input type="checkbox"/> DISTANCE _____ km VOYAGE ORGANISÉ <input type="checkbox"/> ENTREPRISE EXÉCUTANTE
-----------------------------------	--

	CHARGEMENT	LIVRAISON
Dates ou Périodes		
Adresses		
Tél.		
Bâtiment Accès	Etage _____ Porte _____	Etage _____ Porte _____
	Ascenseur : <input type="checkbox"/> oui <input type="checkbox"/> non    Monte-charge : <input type="checkbox"/> oui <input type="checkbox"/> non	Ascenseur : <input type="checkbox"/> oui <input type="checkbox"/> non    Monte-charge : <input type="checkbox"/> oui <input type="checkbox"/> non
	Portage : <input type="checkbox"/> oui <input type="checkbox"/> non    Transbordement : <input type="checkbox"/> oui <input type="checkbox"/> non	Portage : <input type="checkbox"/> oui <input type="checkbox"/> non    Transbordement : <input type="checkbox"/> oui <input type="checkbox"/> non
	Passage par fenêtre : <input type="checkbox"/> oui <input type="checkbox"/> non    Monte-meubles : <input type="checkbox"/> oui <input type="checkbox"/> non	Passage par fenêtre : <input type="checkbox"/> oui <input type="checkbox"/> non    Monte-meubles : <input type="checkbox"/> oui <input type="checkbox"/> non

**MODE D'EXÉCUTION**     Route     Fer     Mer     Air

Volume prévu : \_\_\_\_\_ m<sup>3</sup> (ou poids évalué : \_\_\_\_\_ kg)     après visite chez le client par \_\_\_\_\_ le \_\_\_\_\_  
 suivant inventaire établi par le client le \_\_\_\_\_

**DESCRIPTION ET DÉTAIL DES PRESTATIONS suivant devis N° \_\_\_\_\_ en date du \_\_\_\_\_**

<input type="checkbox"/> <b>GARANTIE DE RESPONSABILITÉ CONTRACTUELLE</b>	<input type="checkbox"/> <b>OPTION ASSURANCE DOMMAGE</b>
Rappel de la déclaration de valeur :	Rappel de la déclaration de valeur :
• valeur totale du mobilier _____ €	• valeur totale du mobilier _____ €
• valeurs individuelles des objets listés _____ €	• valeurs individuelles des objets listés _____ €
• valeur maximale par objet non listé _____ €	

<b>PRIX ET MODALITÉS DE PAIEMENT</b>	<b>PAYABLE A LA COMMANDE :</b>
PRIX HT _____ €	_____
TVA _____ % _____ €	_____
PRIX TTC _____ €	_____

• Le déménagement s'effectuera aux conditions générales de vente du contrat de déménagement approuvées par le client et figurant au dos, ainsi qu'aux conditions particulières énoncées ci-dessus.

A \_\_\_\_\_ le \_\_\_\_\_  
Signature du client                      Signature de l'entreprise

Etablir un duplicata de l'exemplaire **A** pour chaque véhicule transportant une partie du même mobilier.

**A REMPLIR LORS DE L'EXÉCUTION**

Véhicule (s) N° d'immatriculation	Date d'inscription au registre des transporteurs et des loueurs
_____	_____

2001 - Modèle déposé - Reproduction interdite

CAP Déménageur professionnel		Session Juin 2011	
EP.2 : Technologie professionnelle		Coefficient : 2	Page 7/12
Dossier réponses	Durée 1 h 30	N° de candidat .....	

### 3<sup>e</sup> PARTIE : Véhicule et matériel



A) Identifiez et désignez les matériels proposés ci-dessous, reportez leur nom dans le rectangle correspondant.

Chariot élévateur ; caisse mobile ; camion fourgon ; monte-meubles autoporté ; monte-meubles tracté.


CAP Déménageur professionnel		Session Juin 2011	
EP.2 : Technologie professionnelle		Coefficient : 2	Page 8/12
Dossier réponses	Durée 1 h 30	N° de candidat .....	



B) Identifiez et nommez les différents éléments numérotés de 1 à 10.



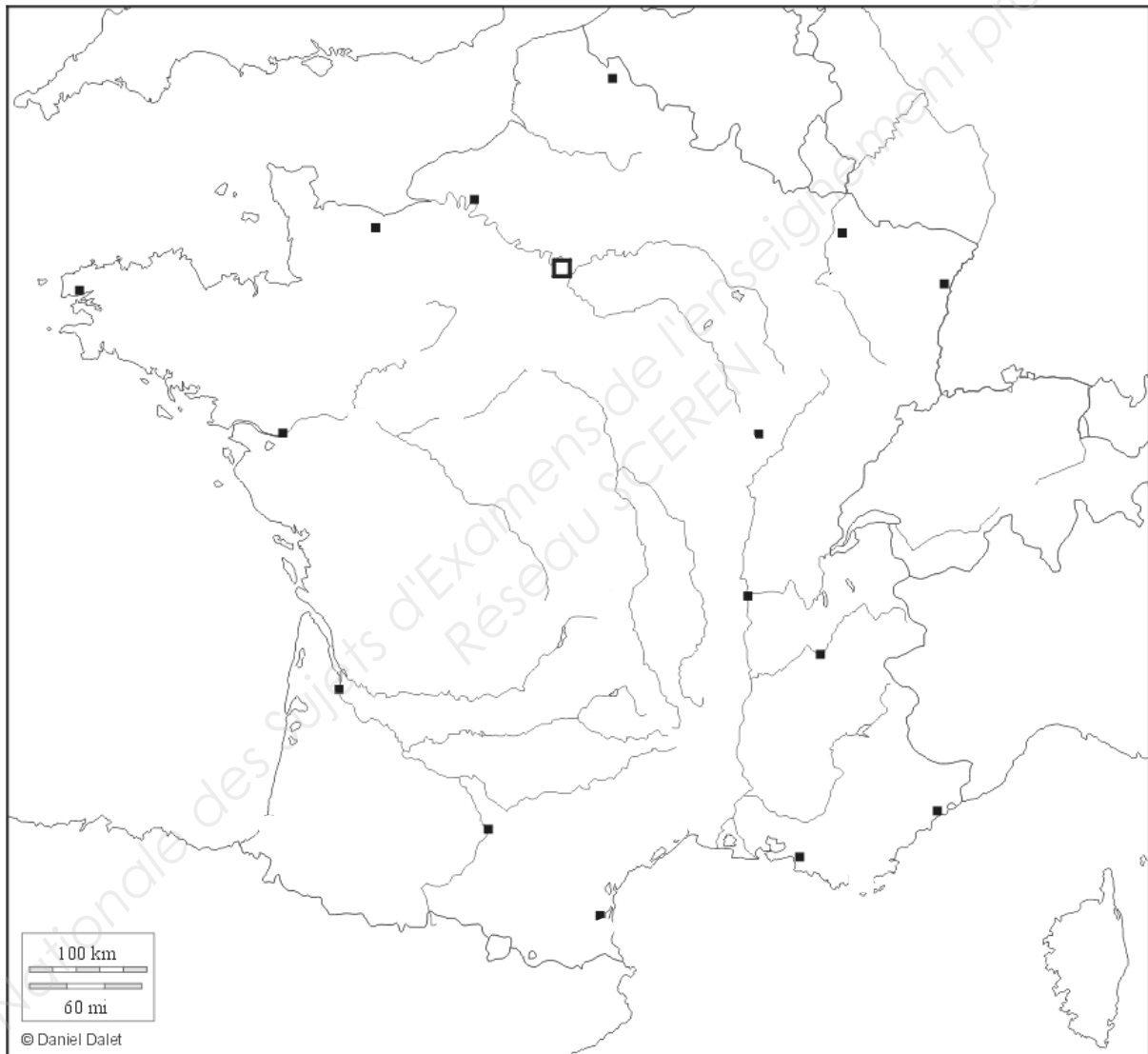
1	
2	
3	
4	
5	
6	
7	
8	
9	
10	

CAP Déménageur professionnel		Session Juin 2011	
EP.2 : Technologie professionnelle		Coefficient : 2	Page 9/12
Dossier réponses	Durée 1 h 30	N° de candidat .....	

## 4<sup>e</sup> PARTIE : GEOGRAPHIE et LECTURE DE CARTE

**A) Situez et inscrivez le nom des villes nommées à l'emplacement qui convient sur la carte ci-dessous. (Chaque ville est inscrite une seule fois).**

Marseille, Nice, Brest, Lille, Strasbourg, Paris, Lyon, Caen, Bordeaux, Nantes, Toulouse, Grenoble.



CAP Déménageur professionnel		Session Juin 2011	
EP.2 : Technologie professionnelle		Coefficient : 2	Page 10/12
Dossier réponses	Durée 1 h 30	N° de candidat .....	

B) A l'aide du devis contrat à la page 6/12, la carte routière à la page 12/12 et des propositions d'itinéraire A et B ci-dessous :

- Déterminez et entourez l'itinéraire le plus rapide pour cette mission.

Pour l'itinéraire choisi, dans les tableaux ci-dessous:

- Reportez l'identification des routes utilisées.
- Notez les distances partielles relevées.
- Totalisez ces distances.
- Calculez le temps de conduite à prévoir.
- Justifiez le choix avec au minimum 3 arguments concrets.

**Itinéraire A (vitesse 55 Km/h)**

Cherbourg ; Valognes ; Lessay ; Coutances ; Granville ; Avranches ; Rennes

**Itinéraire B (vitesse 65 Km/h)**

Cherbourg ; Valognes ; Carentan ; St Jean de Daye ; St-Lô ; Torgni ; A 84 ; Avranches ; Rennes

Entourez l'itinéraire choisi	Identification des routes	Distances partielles
Itinéraire A		
Itinéraire B		
<b>Distance Totale</b>		.....KM

<b>Temps de conduite à prévoir</b>	.....H .....M
Détail du calcul :	

**Justification du choix avec au minimum 3 arguments concrets.**

- 
- 
- 
- 

CAP Déménageur professionnel		Session Juin 2011	
EP.2 : Technologie professionnelle		Coefficient : 2	Page 11/12
Dossier réponses	Durée 1 h 30	N° de candidat .....	





CAP Déménageur professionnel		Session Juin 2011	
EP.2 : Technologie professionnelle		Coefficient : 2	Page 12/12
Dossier réponses	Durée 1 h 30	N° de candidat .....	