

DANS CE CADRE

Académie :	Session :
Examen :	Série :
Spécialité/option :	Repère de l'épreuve :
Epreuve/sous épreuve :	
NOM :	
<small>(en majuscule, suivi s'il y a lieu, du nom d'épouse)</small>	
Prénoms :	
Né(e) le :	N° du candidat <input type="text"/>

(le numéro est celui qui figure sur la convocation ou liste d'appel)

NE RIEN ÉCRIRE

Appréciation du correcteur

Note :

Il est interdit aux candidats de signer leur composition ou d'y mettre un signe quelconque pouvant indiquer sa provenance.

SESSION 2011

Certificat d'Aptitude Professionnelle

ORTHOPROTHESISTE

EP2-4 : Recherche Graphique Esthétique

Aucun matériel autorisé.

Dès que le sujet est remis, assurez-vous qu'il soit complet.
(S'il est incomplet, demandez un autre exemplaire au chef de salle.)

Le sujet comporte 5 pages, numérotées de 1 à 5
(y compris la page de garde)

Tous les documents sont à rendre par le candidat

- Page de garde : feuille numérotée 1 / 5
- Document de présentation et barème : feuille numérotée : 2 / 5.
- Document ressources : feuille numérotée 3 / 5.
- Document de travail : feuille numérotée : 4 / 5 et 5 / 5.

Note : / 10 points

CAP OTHOPROTHESISTE	Code : 500 33 106	Session 2011	SUJET
EPREUVE EP2 - Partie EP2-4 : Recherche graphique esthétique	Durée total EP2 : 4 h	Coefficient : 6	Page 1 / 5

NE RIEN ÉCRIRE DANS CETTE PARTIE

RECHERCHE GRAPHIQUE

Un fabricant de chaussures orthopédiques vous confie la réalisation de la décoration d'un nouveau modèle de basket pour la saison en cours.

Vous devez, pour y parvenir, vous inspirer des motifs des documents page 3/5.

Dans un premier exercice, vous effectuerez des recherches de rythme (répétition, alternance, superposition ou imbrication) en reprenant les principes de base d'animation de surface (à réaliser page 4/5).

Dans un second exercice, tout en exploitant vos recherches, vous composerez votre décor final en utilisant les couleurs de votre choix ainsi que les outils que vous considérez les mieux appropriés (à réaliser page 5/5).


Barème de notation :

- Expression graphique : 4 points
- Exploitation des documents : 4 points
- Soins et propreté : 2 points

CAP OTHOPROTHESISTE	Code : 500 33 106	Session 2011	SUJET
EPREUVE EP2 - Partie EP2-4 : Recherche graphique esthétique	Durée total EP2 : 4 h	Coefficient : 6	Page 2 / 5

NE RIEN ÉCRIRE DANS CETTE PARTIE

DOCUMENT RESSOURCE






CAP OTHOPROTHESISTE	Code : 500 33 106	Session 2011	SUJET
EPREUVE EP2 - Partie EP2-4 : Recherche graphique esthétique	Durée total EP2 : 4 h	Coefficient : 6	Page 3 / 5

NE RIEN ÉCRIRE DANS CETTE PARTIE

RECHERCHES GRAPHIQUES

En vous inspirant des documents page 2 proposez 3 décors différents.



CAP OTHOPROTHESISTE	Code : 500 33 106	Session 2011	SUJET
EPREUVE EP2 - Partie EP2-4 : Recherche graphique esthétique	Durée total EP2 : 4 h	Coefficient : 6	Page 4 / 5

NE RIEN ÉCRIRE DANS CETTE PARTIE

DOCUMENT DE TRAVAIL.

Composition du décor final en couleur.



CAP OTHOPROTHESISTE	Code : 500 33 106	Session 2011	SUJET
EPREUVE EP2 - Partie EP2-4 : Recherche graphique esthétique	Durée total EP2 : 4 h	Coefficient : 6	Page 5 / 5