



SERVICES CULTURE ÉDITIONS
RESSOURCES POUR
L'ÉDUCATION NATIONALE

**Ce document a été numérisé par le CRDP de Montpellier pour la
Base Nationale des Sujets d'Examens de l'enseignement professionnel**

Ce fichier numérique ne peut être reproduit, représenté, adapté ou traduit sans autorisation.

**BACCALURÉAT PROFESSIONNEL
TISEC**

**Technicien en Installation des Systèmes Energétiques
et Climatiques**

E. 2 - ÉPREUVE TECHNIQUE

Analyse scientifique et technique d'une installation

SESSION 2012

Durée de l'épreuve : 4 heures

Coefficient : 3

BACCALAURÉAT PROFESSIONNEL TISEC Technicien en Installation des Systèmes Energétiques et Climatiques	SESSION 2012
E. 2 - ÉPREUVE TECHNIQUE	
Analyse scientifique et technique d'une installation	Unité U.2
<i>Dossier sujet</i>	4h Coef 3

DOSSIER SUJET

DOCUMENTS REMIS AU CANDIDAT :

- Un dossier sujet comportant **10** pages, numérotées de **1/10** à **10/10**.
- Un dossier ressources comportant **17** pages, numérotées de **1/17** à **17/17**.
- Un dossier réponses comportant **12** pages, numérotées de **1/12** à **12/12**.

Le candidat doit s'assurer que chaque dossier remis est complet.

Le candidat doit rendre uniquement le dossier réponses.

L'usage de la calculatrice est autorisé (circulaire n°99-186 du 16 novembre 1999).

	Note / 160 points	Temps conseillé
Lecture du sujet		20 minutes
Question 1	/20	20 minutes
Question 2	/25	30 minutes
Question 3	/20	25 minutes
Question 4	/20	30 minutes
Question 5	/15	30 minutes
Question 6	/20	35 minutes
Question 7	/20	30 minutes
Question 8	/20	20 minutes

Note : /20

BACCALAURÉAT PROFESSIONNEL TISEC Technicien en Installation des Systèmes Energétiques et Climatiques	SESSION 2012
E. 2 - ÉPREUVE TECHNIQUE	
Analyse scientifique et technique d'une installation	Unité U.2
<i>Dossier sujet</i>	4h Coef 3

Contexte :

Le sujet concerne un ensemble composé d'un immeuble de bureaux d'une entreprise internationale de recyclage de piles et batteries et d'un complexe immobilier résidentiel dédié aux employés de l'entreprise.

Le site se trouve dans la ville de Vaujours, dans la région parisienne.

L'immeuble de bureau est de type R+3.

- La production de chauffage est assurée par une pompe à chaleur.
- La production de froid est quant à elle assurée par des groupes d'eau glacée.

Concernant le complexe immobilier résidentiel allant de R+0 à R+2 :

- 2 chaudières gaz à condensation basse température assurent le chauffage et la production d'ECS par un système semi instantané.
- La production ECS solaire est assurée par des panneaux solaires en toiture, des ballons de stockage en chaufferie, l'appoint est assuré par la production semi instantanée.

BACCALAURÉAT PROFESSIONNEL TISEC Technicien en Installation des Systèmes Energétiques et Climatiques	SESSION 2012
E. 2 - ÉPREUVE TECHNIQUE	
Analyse scientifique et technique d'une installation	Unité U.2
<i>Dossier sujet</i>	4h Coef 3

Question 1 : Analyse technique du schéma hydraulique sur 20 points

Contexte :

Vous devez réaliser deux constructions, l'une concerne 27 logements sociaux à Vaujours et l'autre la construction d'un bâtiment accueillant des bureaux. Vous devez, avant votre intervention sur le chantier, étudier le schéma hydraulique de ces deux chantiers, afin d'analyser le fonctionnement des différents réseaux à réaliser.

Vous disposez : (conditions ressources)

- Des schémas de principe de l'installation SG1, SG3 et SG4, pages 2/17, 4/17 et 5/17 du dossier ressources.

<u>Vous devez :</u>	<u>Réponses à reporter sur le dossier réponses :</u>
<p>a) Surligner les différents circuits :</p> <ul style="list-style-type: none"> - En bleu les réseaux d'eau glacée alimentant la centrale de traitement d'air CTA05 à partir du groupe d'eau glacée. - En rouge le circuit secondaire d'eau chaude sanitaire depuis le préparateur d'eau chaude sanitaire sur stockage primaire (ballon 750L) avec son bouclage. 	DR1 et DR2 (page 2/12 et page 3/12)
<p>b) Indiquer par des flèches le sens des fluides dans les différents circuits.</p>	DR1 et DR2 (page 2/12 et page 3/12)
<p>c) Analyser le schéma de principe SG1 et compléter le tableau.</p>	DR 3 (page 4/12)

Critères d'évaluation :

- Les circuits sont correctement repérés.
- Le sens de circulation du fluide caloporteur est juste.
- Le nom et le rôle de chaque appareil sont correctement identifiés.

Notation

sur 10 points
sur 4 points
sur 6 points

BACCALAURÉAT PROFESSIONNEL TISEC Technicien en Installation des Systèmes Energétiques et Climatiques	SESSION 2012
E. 2 - ÉPREUVE TECHNIQUE	
Analyse scientifique et technique d'une installation	Unité U.2
<i>Dossier sujet</i>	4h Coef 3

Question 2 : Combustion

sur 25 points

Contexte :

Lors de la 1^{ère} mise en service du brûleur gaz de la chaudière n°1, vous devez effectuer un contrôle de combustion.

L'analyse des fumées a donné les résultats suivants :

- Pourcentage en dioxyde de carbone (CO₂) = 9%.
- Pourcentage en oxygène (O₂) = 2%.

Vous disposez : (conditions ressources)

- Du CCTP, à partir de la page 6/17 du dossier ressources.
- De la notice technique de la chaudière gaz Vitocrossal 200 type CM2, page 8/17 du dossier ressources.

<u>Vous devez :</u>	<u>Réponse à reporter sur le dossier réponses :</u>
a) Déterminer les caractéristiques de la chaudière et de son brûleur.	- DR 4 (page 4/12)
a) Déterminer le type de combustion obtenue à l'aide du diagramme de combustion.	- DR5 (page 5/12)
c) Déterminer le pourcentage de monoxyde de carbone dans les fumées.	- DR6 (page 6/12)
d) Déterminer en pourcentage, l'excès ou le défaut d'air.	- DR6 (page 6/12)
e) Citer deux problèmes qu'engendre ce type de combustion au niveau de la chaudière, et citer deux conséquences liées à l'environnement.	- DR6 (page 6/12)

Critères d'évaluation :

- Les caractéristiques sont exactes.
- Le type de combustion est reconnu sans erreur.
- Le pourcentage de CO est estimé avec une incertitude <20%.
- Le pourcentage d'excès ou défaut d'air est estimé avec une incertitude <25%.
- Les problèmes posés par cette combustion et leurs conséquences sur la sécurité et l'environnement sont exposés.

Notation

sur 5 points
sur 5 points
sur 5 points
sur 5 points
sur 5 points

BACCALAURÉAT PROFESSIONNEL TISEC Technicien en Installation des Systèmes Energétiques et Climatiques	SESSION 2012
E. 2 - ÉPREUVE TECHNIQUE	
Analyse scientifique et technique d'une installation	Unité U.2
<i>Dossier sujet</i>	4h Coef 3

Question 3 : Énergies Renouvelables

sur 20 pts

Contexte :

Vous devez installer les panneaux solaires du réseau ECS des logements.

Vous disposez : (conditions ressources)

- Du schéma de principe de l'installation – SG3, page 4/17 du dossier ressources.
- De l'extrait du CCTP, page 6/17 du dossier ressources.
- De la fiche technique des capteurs solaires Viessmann VITOSOL 200F, page 10/17 du dossier ressources.

• On définit :

- Besoin d'eau chaude sanitaire : $B = 37$ litres d'ECS (50°C)/jour/personne
- Nombre de personnes en moyenne par logement = 2
- Surface totale des capteurs (à l'absorbeur) =

Volume total de stockage ballon solaire (50°C)/54 litres de volume de stockage ballon solaire (50°C)

- Nombre de capteurs =
Surface totale des capteurs (à l'absorbeur)/Surface de l'absorbeur d'un capteur
- Type de panneau solaire thermique : Vitosol 200F Type SV2

<p><u>Vous devez :</u></p> <p>Déterminer le besoin total d'eau chaude sanitaire pour 27 logements.</p> <p>Vérifier par le calcul, le nombre de capteurs solaires à prévoir.</p> <p>Expliquer le rôle du SYSTÈME DRAIN BACK.</p>	<p><u>Réponses à reporter sur le dossier réponses :</u></p> <p>DR7 (page 6/12)</p> <p>DR7 (page 6/12)</p> <p>DR7 (page 6/12)</p>
---	---

Critères d'évaluation :

- Les calculs sont exacts.
- Le nombre de capteurs est exact.
- Le rôle du système est identifié.

Notation

sur 5 points
sur 10 points
sur 5 points

BACCALAURÉAT PROFESSIONNEL TISEC Technicien en Installation des Systèmes Energétiques et Climatiques	SESSION 2012
E. 2 - ÉPREUVE TECHNIQUE	
Analyse scientifique et technique d'une installation	Unité U.2
<i>Dossier sujet</i>	4h Coef 3

Question 4 : Climatisation

sur 20 points

Contexte :

Vous êtes chargé d'implanter la centrale de traitement d'air en vue de sa mise en service aux conditions hiver.

Vous disposez : (conditions ressources)

- Du schéma de principe de la CTA SG4, page 5/17 du dossier ressources.
- De la documentation technique de la CTA, pages 12/17 à 13/17 du dossier ressources.
- Du diagramme psychrométrique, page 8/12 du dossier réponses.
- Des relevés suivants :

Conditions du local (L) : 21°C / 50 % HR.

Préchauffage de l'air neuf de 8 K par l'intermédiaire de l'échangeur à plaque.

- On définit :
 - Débit d'air soufflé de la centrale 10 000m³/h.
 - La largeur de la centrale n'excédera pas 1400 mm.
 - La vitesse de l'air n'excédera pas 2,5m/s.
 - Puissance batterie = $q_{mas} \cdot \Delta h$.

<u>Vous devez : (travail demandé)</u>	<u>Réponses à reporter sur le dossier réponses :</u>
a) Sélectionner la centrale de traitement d'air (dimension).	DR8 (page 7/12)
b) Tracer l'évolution de l'air à travers cette CTA en situant les points suivants et en indiquant le sens de l'évolution Air neuf : point AN ; Sortie échangeur/entrée batterie chaude : point B ; Air soufflé : point S.	DR9 (page 8/12)
c) Calculer la puissance de la batterie chaude.	DR8 (page 7/12)
d) Expliquer le rôle de l'échangeur à plaques ECOPLAT.	DR8 (page 7/12)

Critères d'évaluation :

- a) La centrale est correctement choisie.
- b) Le tracé est juste.
- c) La puissance est juste à ± 2 kW, la justification est correcte.
- d) Le rôle de l'échangeur est clairement exprimé.

Notation

- Sur 5 points
Sur 6 points
Sur 5 points
Sur 4 points

BACCALAURÉAT PROFESSIONNEL TISEC Technicien en Installation des Systèmes Energétiques et Climatiques	SESSION 2012
E. 2 - ÉPREUVE TECHNIQUE	
Analyse scientifique et technique d'une installation	Unité U.2
<i>Dossier sujet</i>	4h Coef 3

Question 5 : Électricité

sur 15 points

Contexte :

Vous devez raccorder électriquement la pompe double du circuit radiateur.

Vous disposez : (conditions ressources)

- Du schéma de principe de l'installation SG3, page 4/17 du dossier ressources.
- De la documentation technique de la pompe, page 14/17 du dossier ressources.

<u>Vous devez : (travail demandé)</u>	<u>Réponses à reporter sur le dossier réponses :</u>
a) Compléter le tableau des caractéristiques électriques de la pompe double.	DR10 (page 9/12)
b) Compléter le schéma électrique afin d'assurer le bon fonctionnement de la pompe double.	DR11 (page 10/12)
c) On souhaite déterminer laquelle des 2 pompes fonctionnent. Implanter sur le schéma de commande un voyant « Marche P1 » et « Marche P2 » pour chacune des 2 pompes de la pompe double.	DR11 (page 10/12)

Critères d'évaluation :

Notation

- | | |
|--|---------------------|
| a) <i>Les caractéristiques de la pompe sont correctement relevées.</i> | <i>sur 3 points</i> |
| b) <i>Le schéma réalisé permet le bon fonctionnement de la double pompe.</i> | <i>sur 7 points</i> |
| c) <i>Les voyants sont correctement implantés et câblés.</i> | <i>sur 5 points</i> |

BACCALAURÉAT PROFESSIONNEL TISEC Technicien en Installation des Systèmes Energétiques et Climatiques	SESSION 2012
E. 2 - ÉPREUVE TECHNIQUE	
Analyse scientifique et technique d'une installation	Unité U.2
<i>Dossier sujet</i>	4h Coef 3

Question 6 : Hydraulique

sur 20 points

Contexte :

On vous demande de choisir la pompe double circuit radiateur.

Vous disposez : (conditions ressources)

- Du schéma de principe de l'installation SG1, page 2/17 du dossier ressources.
- Des pertes de charge du circuit radiateur : 4500 mmCE.
- Du débit volumique de la pompe double : $Q_v = 14,3 \text{ m}^3/\text{h}$.
- De la documentation technique d'une pompe double monophasée, page 14/17 du dossier ressources.

<p><u>Vous devez :</u></p> <p>a) Expliquer le fonctionnement de cette pompe double. b) Expliquer quel est l'intérêt de choisir une pompe à ΔP VARIABLE. c) Positionner le point de fonctionnement théorique sur le document constructeur. d) Choisir la pompe en ΔP VARIABLE. e) Compléter le tableau.</p>	<p style="text-align: center;"><u>Réponses à reporter sur le dossier réponses :</u></p> <p>DR12 (page 11/12) DR12 (page 11/12) DR12 (page 11/12) DR12 (page 11/12) DR12 (page 11/12)</p>
--	--

Critères d'évaluation :

- Les explications sont claires et concises.
- Le point de fonctionnement de la pompe est correct.
- Les calculs sont détaillés.

Notation

sur 10 points
sur 5 points
sur 5 points

BACCALAURÉAT PROFESSIONNEL TISEC Technicien en Installation des Systèmes Energétiques et Climatiques	SESSION 2012
E. 2 - ÉPREUVE TECHNIQUE	
Analyse scientifique et technique d'une installation	Unité U.2
<i>Dossier sujet</i>	4h Coef 3

Question 7 : Traitement de l'eau

sur 20 points

Contexte :

Vous devez intervenir sur la programmation de l'adoucisseur.

Vous disposez : (conditions ressources)

- Du dossier Ressources page 15/17.
- Du type d'adoucisseur installé : 6050.
- Des caractéristiques de l'adoucisseur.
- De la consommation journalière d'eau douce : 710 litres / jour.
- Du TH de l'eau brut : 47°f, TH de l'eau douce souhaité : 6°f.
- De la formule sur la capacité d'échange et les régénérations :
capacités d'échanges / ΔTH x le volume d'eau en m³.

<u>Vous devez :</u>	<u>Réponses à reporter sur le dossier réponses :</u>
a) Donner la fonction des vannes qui composent l'installation de l'adoucisseur.	DR 13 (page 12/12)
b) Calculer le ΔTH .	DR 13 (page 12/12)
c) Définir le nombre de jours entre deux régénérations.	DR 13 (page 12/12)
d) Déterminer le nombre de sacs de 25 kg à prévoir pour 6 mois d'utilisation.	DR 13 (page 12/12)

Critères d'évaluation :

- Les explications sont claires et concises.
- Les calculs sont justes et détaillés.
- Les unités sont justes.

Notation

sur 8 points
sur 8 points
sur 4 points

BACCALAURÉAT PROFESSIONNEL TISEC Technicien en Installation des Systèmes Energétiques et Climatiques	SESSION 2012
E. 2 - ÉPREUVE TECHNIQUE	
Analyse scientifique et technique d'une installation	Unité U.2
<i>Dossier sujet</i>	4h Coef 3

Question 8 : Gestion des déchets

sur 20 points

Contexte :

Vous devez gérer les déchets de ce chantier en construction neuve et estimer le coût de leurs éliminations.

Vous disposez : (conditions ressources)

- Des documents « Mieux gérer les déchets de chantier de bâtiment », pages 16/17 et 17/17 du dossier ressources.
- De la SHOB estimée à 6 000 m².

<u>Vous devez :</u>	<u>Réponses à reporter sur le dossier</u> <u>Réponses :</u>
a) Citer les trois catégories de déchets à gérer sur un chantier.	DR 14 (page 12/12)
b) Calculer la masse de déchets inertes produite par ce chantier.	DR 14 (page 12/12)
c) Calculer le coût maxi de l'élimination de ces déchets en décharge.	DR 14 (page 12/12)

Critères d'évaluation :

Notation

- Les trois catégories de déchets sont citées et justes.
- Les calculs sont justes et détaillés.
- Les unités sont justes.

sur 6 points
sur 10 points
sur 4 points

DANS CE CADRE

Académie :	Session :
Examen :	Série :
Spécialité/option :	Repère de l'épreuve :
Epreuve/sous épreuve :	
NOM :	
<small>(en majuscule, suivi s'il y a lieu, du nom d'épouse)</small>	
Prénoms :	N° du candidat <input type="text"/>
Né(e) le :	<small>(le numéro est celui qui figure sur la convocation ou liste d'appel)</small>

NE RIEN ÉCRIRE

NE RIEN ÉCRIRE DANS CETTE PARTIE

DOSSIER RÉPONSES

Base Nationale des Sujets d'Examens de l'enseignement professionnel
Réseau SCEREN

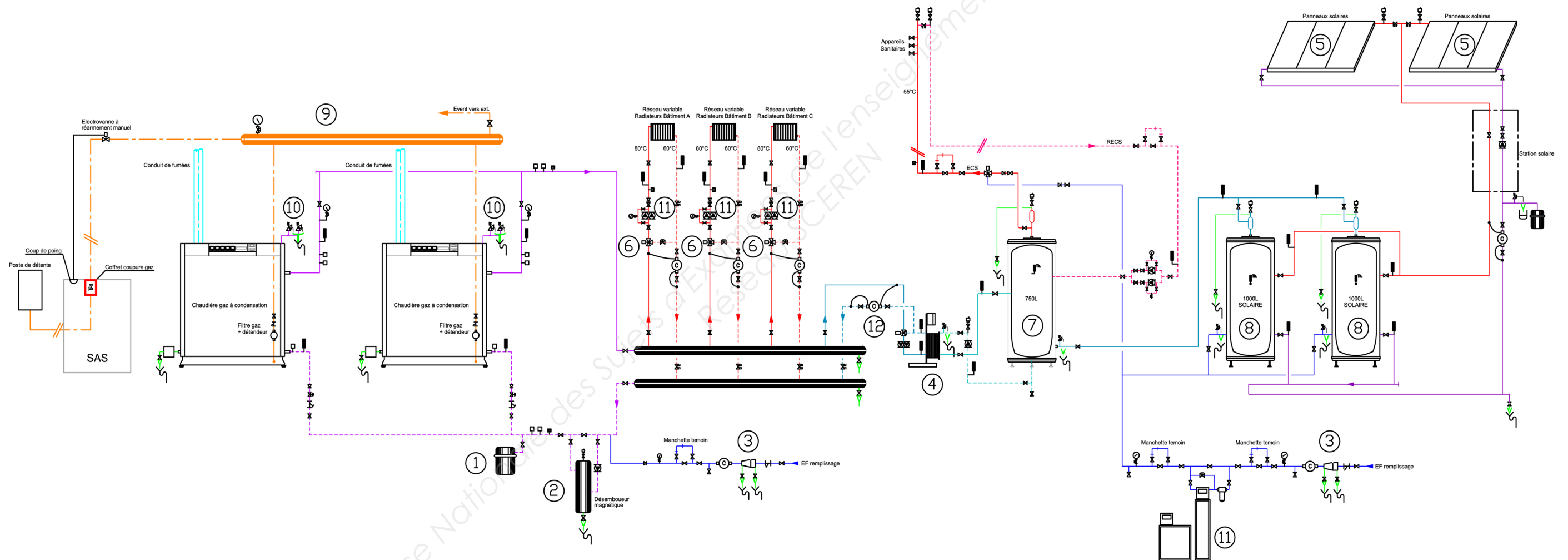
Le candidat doit rendre uniquement le dossier réponses.

BACCALAURÉAT PROFESSIONNEL TISEC Technicien en Installation des Systèmes Énergétiques et Climatiques	Code :	Session 2012	Dossier RÉPONSES
E.2 – ÉPREUVE TECHNIQUE Analyse scientifique et technique d'une installation	Durée : 4h	Coefficient : 3	Page 1 / 12

NE RIEN ÉCRIRE DANS CETTE PARTIE

NE RIEN ÉCRIRE DANS CETTE PARTIE

Question 1 :
Document réponses DR1 Analyse technique

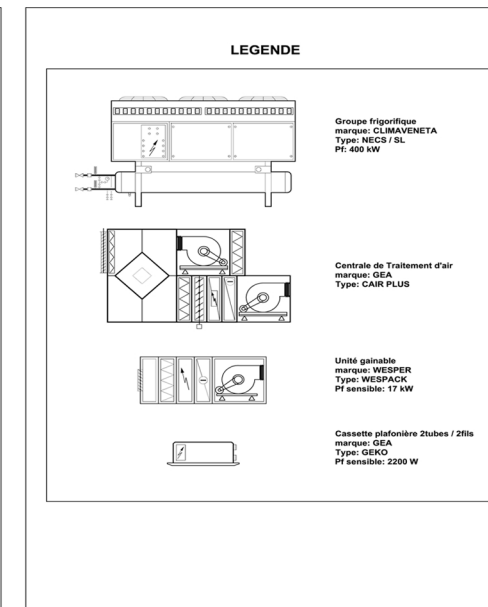
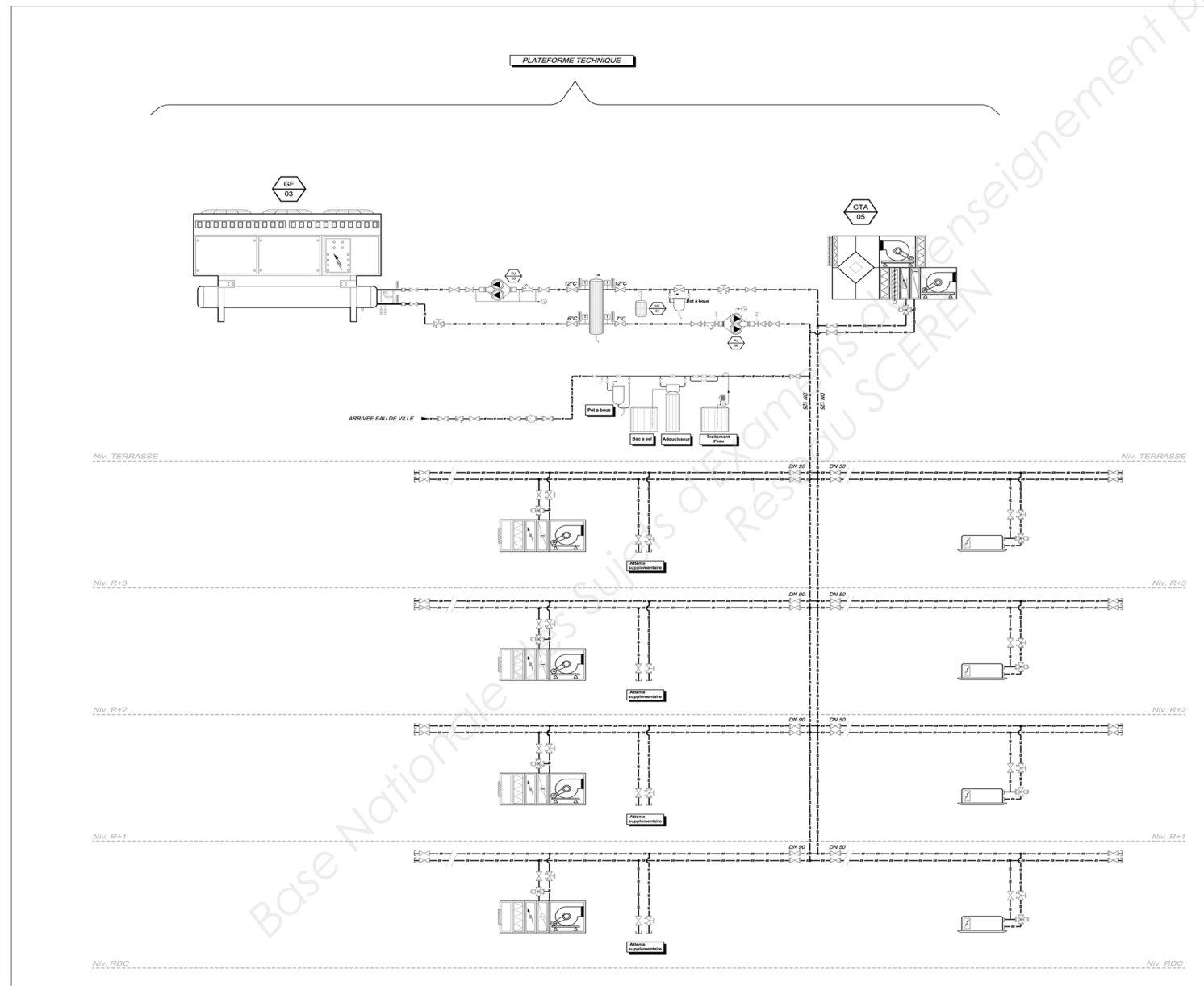


BACCALAURÉAT PROFESSIONNEL TISEC Technicien en Installation des Systèmes Énergétiques et Climatiques E.2 – ÉPREUVE TECHNIQUE Analyse scientifique et technique d'une installation	Code :	Session 2012	Dossier RÉPONSES
	Durée : 4h	Coefficient : 3	Page 2 / 12

NE RIEN ÉCRIRE DANS CETTE PARTIE

NE RIEN ÉCRIRE DANS CETTE PARTIE

Question 1 :
Document réponses DR2: Analyse technique



BACCALAURÉAT PROFESSIONNEL TISEC Technicien en Installation des Systèmes Énergétiques et Climatiques E.2 – ÉPREUVE TECHNIQUE Analyse scientifique et technique d'une installation	Code :	Session 2012	Dossier RÉPONSES
	Durée : 4h	Coefficient : 3	Page 3 / 12

NE RIEN ÉCRIRE DANS CETTE PARTIE

Question 1 :

Document réponses DR3 : Analyse technique

c) Analyser le schéma de principe et compléter le tableau.

Repère	Nom	Fonction
1		
2		
3		
4		
5		
6		
7		
8		
9		
10		
11		
12		

NE RIEN ÉCRIRE DANS CETTE PARTIE

Question 2 :

Document Réponses DR 4 : Combustion

a) Compléter le tableau des caractéristiques techniques ci-dessous :

Justifier par le calcul le choix de la puissance nominale de la chaudière :

MARQUE chaudière		
MODÈLE chaudière		
Puissance nominale chaudière		
Régime d'eau chaudière	TD/TR = 50/30°C	TD/TR = 80/60°C
Rendement global annuel (%) avec régime 75/60°C		

NE RIEN ÉCRIRE DANS CETTE PARTIE

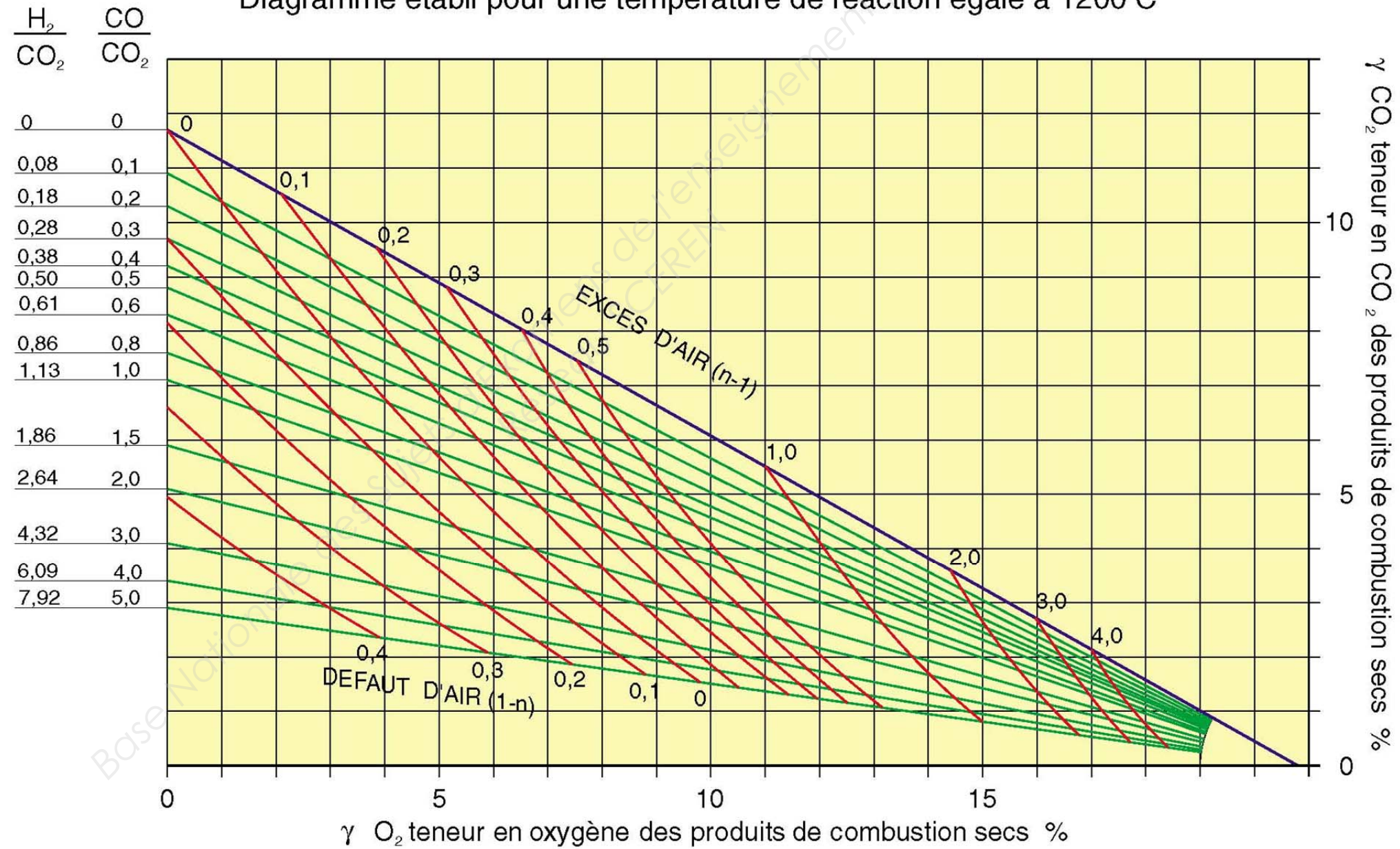
NE RIEN ÉCRIRE DANS CETTE PARTIE

Question 2 :

Document Réponses DR 5 : Combustion

Diagramme de combustion du gaz naturel de Lacq

Diagramme établi pour une température de réaction égale à 1200°C



BACCALAURÉAT PROFESSIONNEL TISEC Technicien en Installation des Systèmes Énergétiques et Climatiques E.2 – ÉPREUVE TECHNIQUE Analyse scientifique et technique d'une installation	Code :	Session 2012	Dossier RÉPONSES
	Durée : 4h	Coefficient : 3	Page 5 / 12

NE RIEN ÉCRIRE DANS CETTE PARTIE

NE RIEN ÉCRIRE DANS CETTE PARTIE

Question 4 :

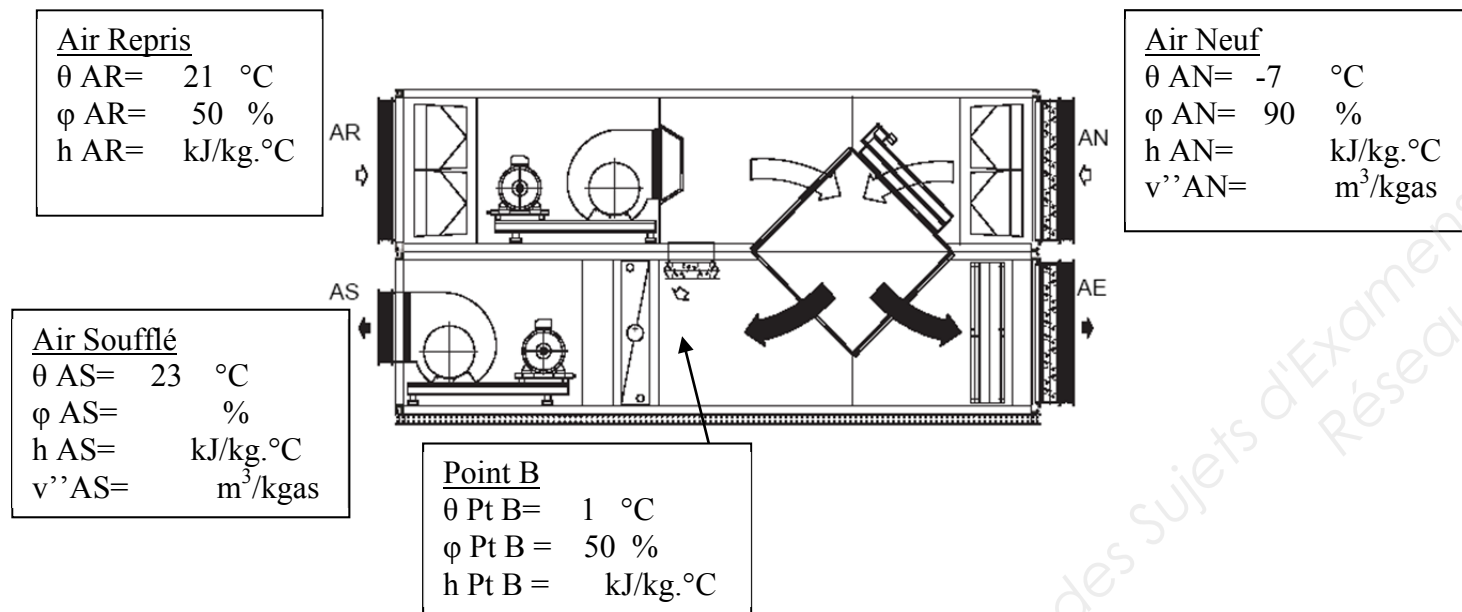
Document Réponse DR8 : Climatisation

Question a) Sélectionner la centrale de traitement d'air.

Type CAIR plus

Dimension de la centrale de traitement d'air =

Question b) Tracer l'évolution de l'air à travers cette CTA en situant les points caractéristiques sur le diagramme de l'air humide en indiquant le sens de l'évolution et compléter ci-dessous :



Question c) Calculer la puissance de la batterie chaude.

$Q_{mas} = q_{vas} / v''_{AN}$ $Q_{mas} = \dots\dots\dots$

$P = q_{mas} \cdot \Delta h$ $P = \dots\dots\dots$

Question d) Expliquer le rôle de l'échangeur à plaques ECOPLAT.

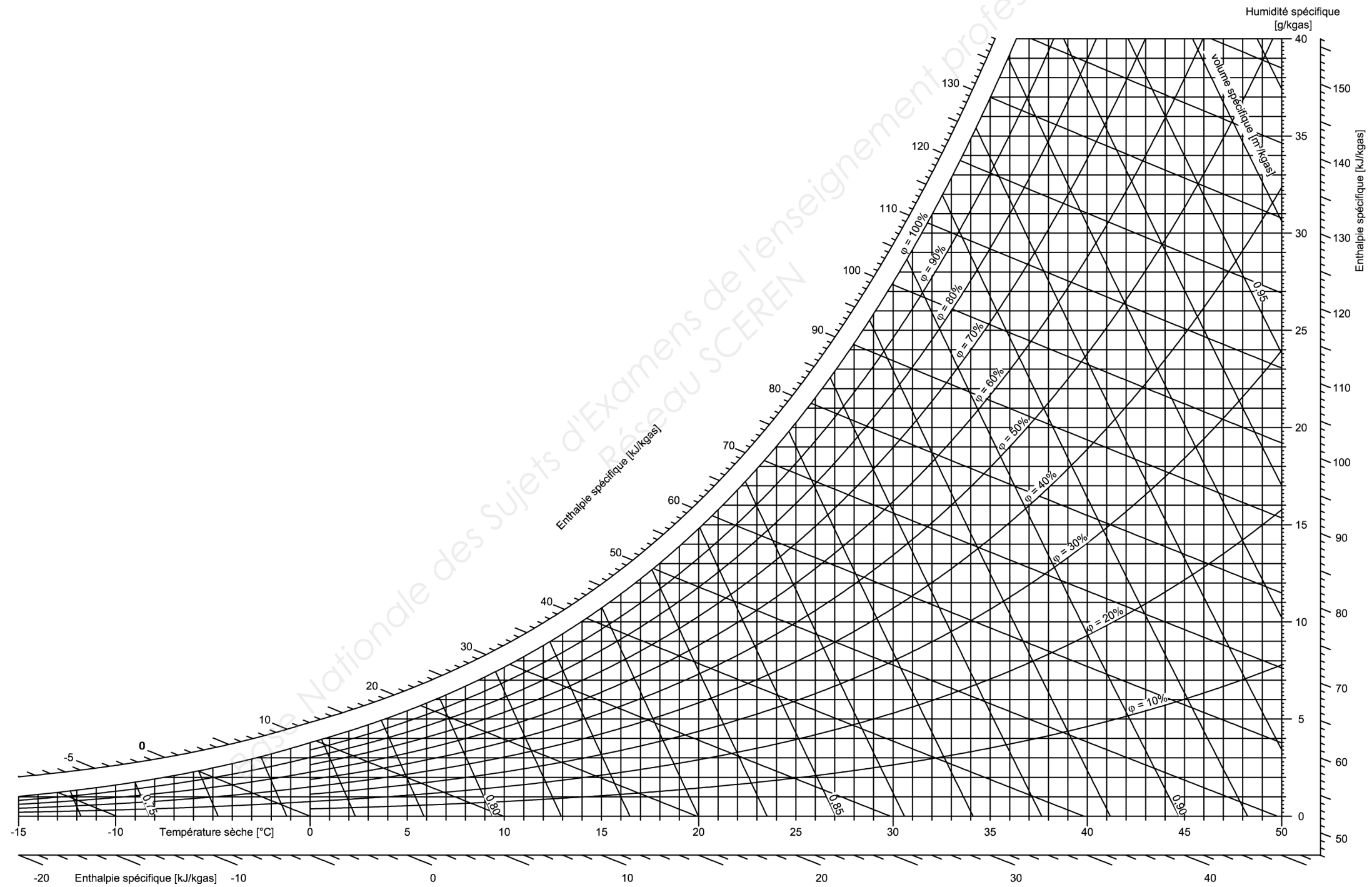
.....

BACCALAURÉAT PROFESSIONNEL TISEC Technicien en Installation des Systèmes Énergétiques et Climatiques E.2 – ÉPREUVE TECHNIQUE Analyse scientifique et technique d'une installation	Code :	Session 2012	Dossier RÉPONSES
	Durée : 4h	Coefficient : 3	Page 7 / 12

NE RIEN ÉCRIRE DANS CETTE PARTIE

NE RIEN ÉCRIRE DANS CETTE PARTIE

Question 4 :
Document Réponse DR9 : Climatisation



BACCALAURÉAT PROFESSIONNEL TISEC Technicien en Installation des Systèmes Énergétiques et Climatiques	Code :	Session 2012	Dossier RÉPONSES
E.2 – ÉPREUVE TECHNIQUE Analyse scientifique et technique d'une installation	Durée : 4h	Coefficient : 3	Page 8 / 12

NE RIEN ÉCRIRE DANS CETTE PARTIE

NE RIEN ÉCRIRE DANS CETTE PARTIE

Question 5 :

Document réponse DR10 : Étude électrique

- a) Compléter le tableau des caractéristiques électriques de la pompe double.

Marque	Type	P nominale (W)	Intensité max (A)
Salmson	SIRUS D40-80		

- b) Compléter le schéma électrique afin d'assurer le bon fonctionnement de la double pompe.
- c) Implanter sur le schéma de commande un voyant « Marche » pour chacune des 2 pompes de la double pompe.

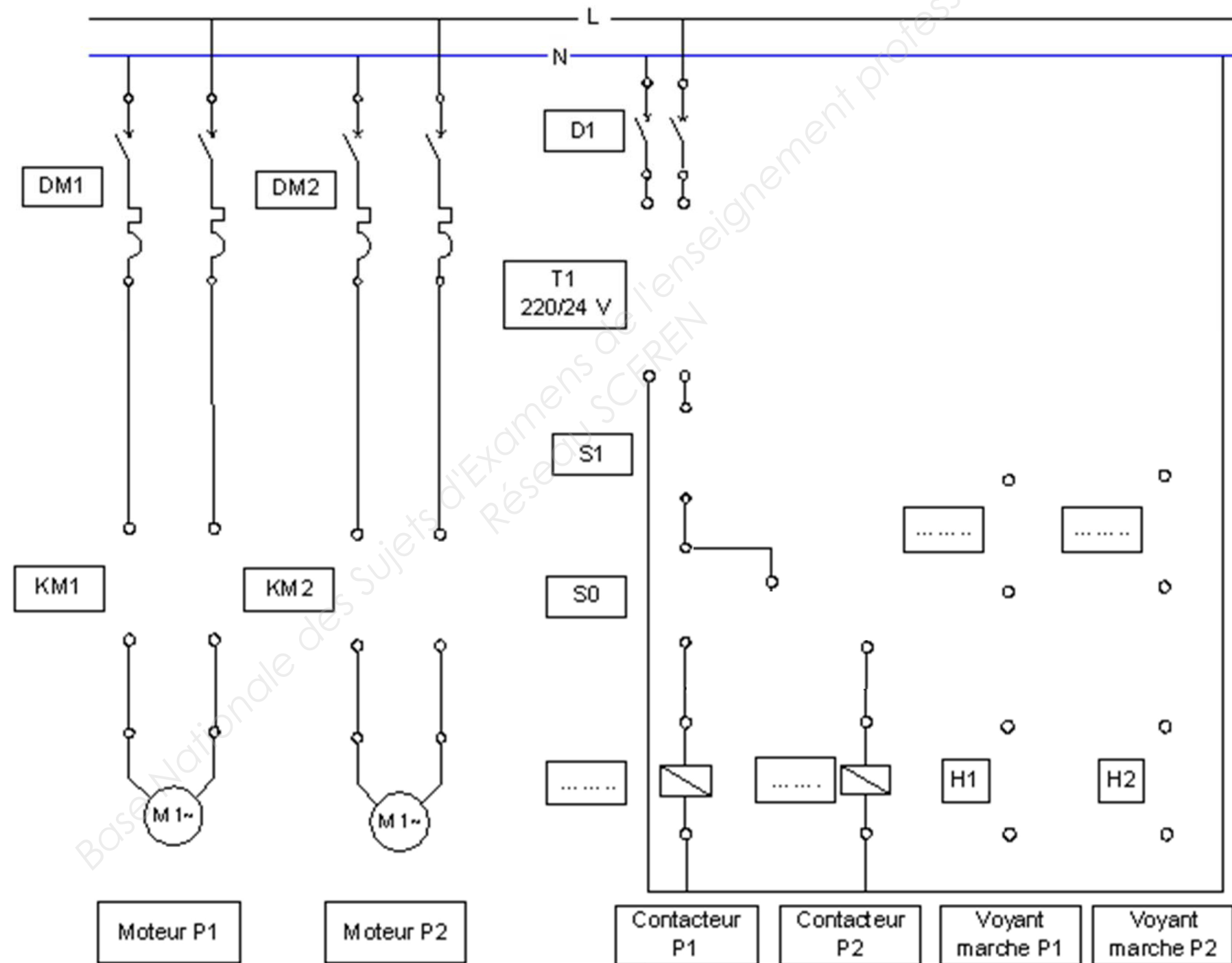
BACCALAURÉAT PROFESSIONNEL TISEC Technicien en Installation des Systèmes Énergétiques et Climatiques	Code :	Session 2012	Dossier RÉPONSES
E.2 – ÉPREUVE TECHNIQUE Analyse scientifique et technique d'une installation	Durée : 4h	Coefficient : 3	Page 9 / 12

NE RIEN ÉCRIRE DANS CETTE PARTIE

NE RIEN ÉCRIRE DANS CETTE PARTIE

Question 5:

Document réponse DR11 : Étude électrique



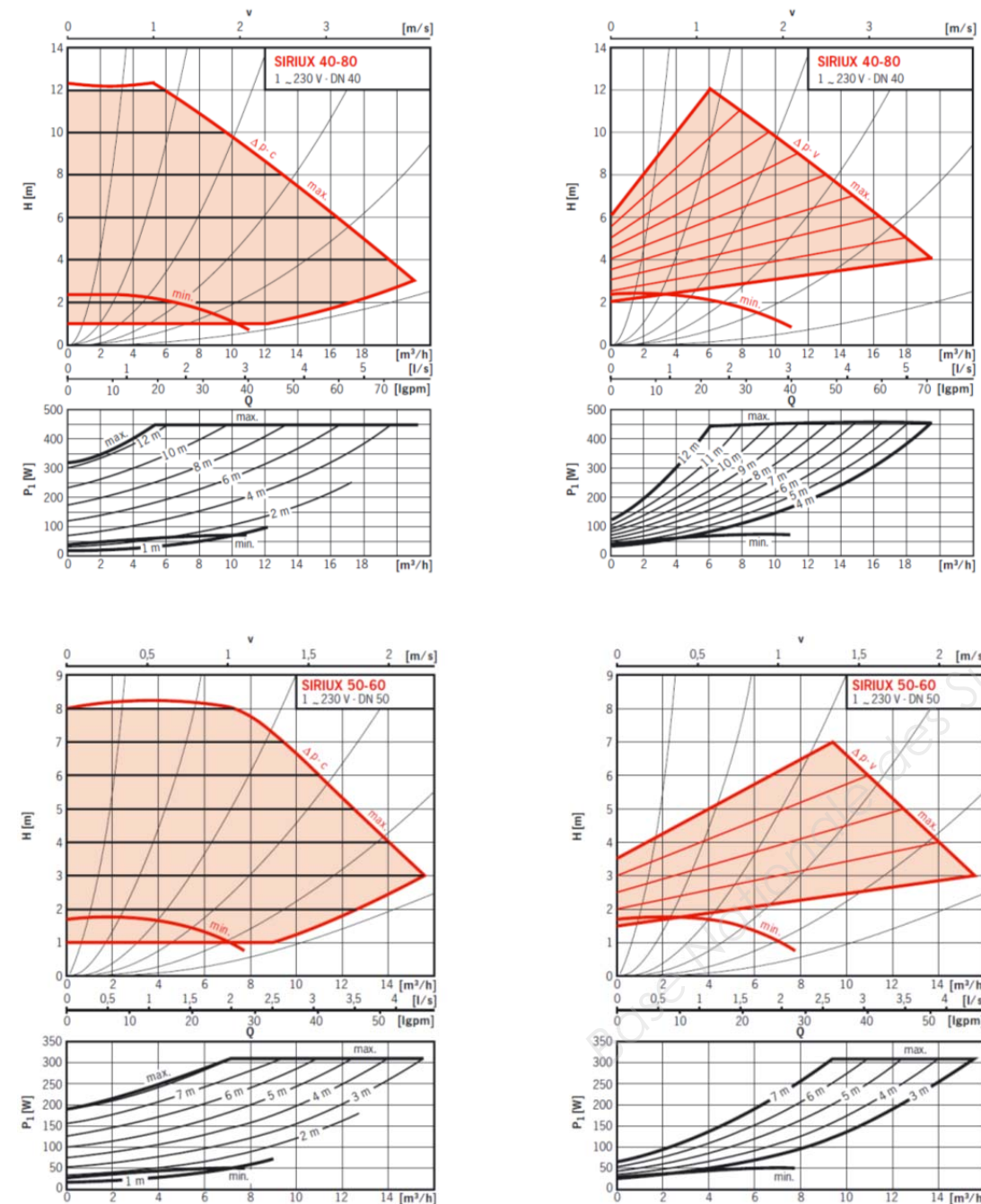
BACCALAURÉAT PROFESSIONNEL TISEC Technicien en Installation des Systèmes Énergétiques et Climatiques E.2 – ÉPREUVE TECHNIQUE Analyse scientifique et technique d'une installation	Code :	Session 2012	Dossier RÉPONSES
	Durée : 4h	Coefficient : 3	Page 10 / 12

NE RIEN ÉCRIRE DANS CETTE PARTIE

NE RIEN ÉCRIRE DANS CETTE PARTIE

Question 6 :
Document réponse DR12 : Étude hydraulique
 Question c)

PERFORMANCES HYDRAULIQUES DES SIRIUX 40-80 ET SIRIUX 50-60



Question a)

Fonctionnement de la pompe double.

.....

Question b)

Intérêt du choix de la pompe.

.....

Question c) (ci-contre)

Question d)

Choix de la pompe.

.....

Question e)

Marque	Type	DN	Hmt (mCe)	Qv (m³/h)	dp-v ou dp-c

NE RIEN ÉCRIRE DANS CETTE PARTIE

NE RIEN ÉCRIRE DANS CETTE PARTIE

Question 7 :

Document réponses DR 13 : Traitement de l'eau

Question a)

Fonction de la vanne V40 :

.....

.....

Fonction de la vanne RS20 :

.....

.....

Fonction de la vanne PE :

.....

.....

Question b)

Calcul de ΔTH :

.....

Question c)

Nombre de jours entre deux régénérations :

.....

Question d)

Déterminer le nombre de sacs de sel de 25 Kg qu'il sera nécessaire d'approvisionner sur le site pour

6 mois d'utilisation :

.....

Question 8 :

Document réponses DR 14 : Gestion des déchets

Question a)

Les 3 catégories de déchets :

.....

.....

.....

Question b)

Calcul de la masse inerte de déchets :

.....

.....

.....

Question c)

Calcul du coût maximum de l'élimination des déchets :

.....

.....

.....

BACCALAURÉAT PROFESSIONNEL TISEC Technicien en Installation des Systèmes Énergétiques et Climatiques	Code :	Session 2012	Dossier RÉPONSES
E.2 – ÉPREUVE TECHNIQUE Analyse scientifique et technique d'une installation	Durée : 4h	Coefficient : 3	Page 12 / 12