



SERVICES CULTURE ÉDITIONS  
RESSOURCES POUR  
L'ÉDUCATION NATIONALE

**Ce document a été numérisé par le CRDP de Lille pour la  
Base Nationale des Sujets d'Examens de l'enseignement professionnel**

Ce fichier numérique ne peut être reproduit, représenté, adapté ou traduit sans autorisation.

# BREVET DES MÉTIERS D'ART

## BACCALAURÉAT PROFESSIONNEL

Maintenance des Systèmes Mécaniques Automatisés  
Option Systèmes Ferroviaires

# HISTOIRE-GÉOGRAPHIE

SESSION 2012

Le candidat traitera au choix le sujet 1 **OU** le sujet 2

L'usage de la calculatrice n'est pas autorisé  
Aucun document personnel n'est autorisé.

**Coefficient : 1,5 (BMA)**

**Coefficient : 2 (BCP MSMA option SF)**

**Durée : 2 heures**

# BREVET DES MÉTIERS D'ART

## BACCALAURÉAT PROFESSIONNEL

Maintenance des Systèmes Mécaniques Automatisés  
Option Systèmes Ferroviaires

### HISTOIRE

SESSION 2012

### Sujet 1

**Coefficient : 1,5** (BMA)

**Coefficient : 2** (BCP MSMA option SF)

**Durée : 2 heures**

## Territoires et nations d'Europe au XXème siècle

**Document n°1 :** Les modifications territoriales en Europe centrale et orientale après la Première Guerre mondiale (cartes)

**Document n°2 :** Un avion américain ravitaille la population de Berlin-Ouest durant le blocus soviétique de juin 1948-mai 1949 (photographie)

**Document n°3 :** La reconnaissance des frontières de l'Allemagne réunifiée, traité de Moscou, 1990 (texte)

**Document n°4 :** Le conflit entre Serbes et Croates vu par le dessinateur Plantu, 1991 (caricature)

**Document n°5 :** La partition de la Tchécoslovaquie (texte)

### Questions

**Question 1 :** (Document 1) (2 points)

Pourquoi peut-on dire que l'empire austro-hongrois est, en 1914, un empire multinational ? Quelles sont les conséquences territoriales de la Première Guerre mondiale pour cet empire et les divers peuples qui le composaient ?

**Question 2 :** (Document 2) (2 points)

Pourquoi un avion américain ravitaille-t-il ici Berlin-Ouest ? En quoi cette situation illustre-t-elle le nouveau découpage territorial de l'Allemagne à l'issue de la Seconde Guerre mondiale ?

**Question 3 :** (Documents 2 et 3) (3 points)

Quel est l'objet du traité de Moscou ? Pourquoi les signataires considèrent-ils qu'il constitue « un élément essentiel de paix [...] en Europe » ?

**Question 4 :** (Documents 1 et 4) (2 points)

En vous appuyant sur des éléments précis de cette caricature, donnez au moins trois caractéristiques de la guerre ayant opposé les Serbes aux Croates.

**Question 5 :** (Documents 1, 4 et 5) (3 points)

Pourquoi l'unité de l'Etat tchécoslovaque était-elle fragile dès sa création ? En quoi la partition de la Tchécoslovaquie est-elle différente de l'éclatement de la Yougoslavie ?

**Question 6 :** (8 points)

A partir de vos connaissances, des documents et des réponses aux questions, vous rédigerez un texte sur le sujet suivant :

### « Territoires et nations d'Europe au XXème siècle »

Vous pourrez, par exemple, organiser votre réponse à partir du plan suivant :

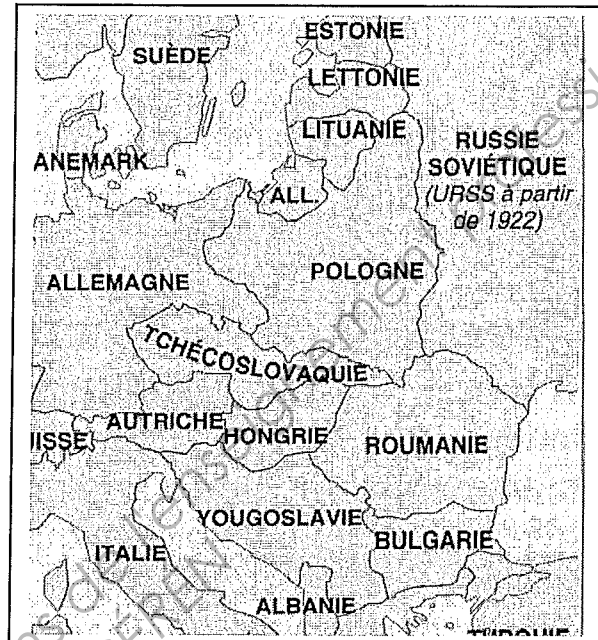
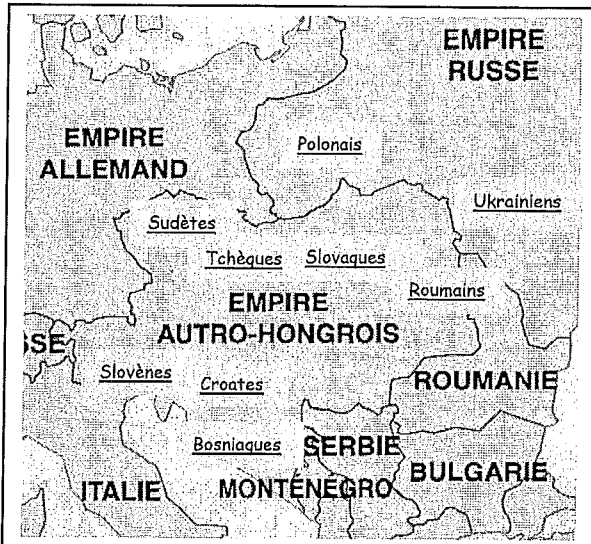
- La situation à la fin du XIXème siècle
- La situation à la suite de la Première Guerre mondiale
- La situation après 1945
- La situation après la chute du mur

Document 1 :

**Les modifications territoriales en Europe centrale et orientale après la Première Guerre mondiale.**

L'Europe centrale et orientale avant 1914

L'Europe centrale et orientale en 1923



Échelle : 0 400 Km

Échelle : 0 400 Km

Source : Manuel HATIER 3<sup>ème</sup>, Édition 2001, page 41

## Document 2 :

Un avion américain ravitaille la population de Berlin-Ouest durant le blocus soviétique de juin 1948 à mai 1949



Source : Crédit photographique : Keystone

## Document 3 :

La reconnaissance des frontières de l'Allemagne réunifiée, traité de Moscou, 1990

La République fédérale d'Allemagne, la République démocratique allemande, les États-Unis d'Amérique, la République française, le Royaume-Uni de Grande-Bretagne et d'Irlande du Nord et l'Union des Républiques socialistes soviétiques [...];

Ayant à l'esprit les changements historiques survenus récemment en Europe, qui permettent de surmonter la division du continent ; [...]

Désireux de conclure le règlement définitif concernant l'Allemagne ;

Reconnaissant que, par là et avec l'unification de l'Allemagne en tant qu'État démocratique et pacifique, les droits et responsabilités des Quatre Puissances relatifs à Berlin et à l'Allemagne dans son ensemble perdent leur fonction ; [...]

Sont convenus ce qui suit :

Article 1

1. L'Allemagne unie comprendra le territoire de la RFA, de la RDA et de l'ensemble de Berlin. Ses frontières extérieures seront les frontières de la RFA et de la RDA et seront définitives à partir de la date d'entrée en vigueur du présent traité. La confirmation du caractère définitif des frontières de l'Allemagne unie constitue un élément essentiel [...] de paix en Europe.

2. L'Allemagne unie et la république de Pologne confirmeront la frontière existante entre elles par un traité [...].

3. L'Allemagne unie n'a aucune revendication territoriale quelle qu'elle soit envers d'autres États et n'en formulera pas à l'avenir [...].

Source : Extraits du Traité signé à Moscou le 12 septembre 1990 mettant fin à la conférence 4+2

#### Document 4 :

Le conflit entre Serbes et Croates vu par le dessinateur Plantu



Source : Journal *Le Monde*, 19/11/1991

#### Document 5 :

##### La partition de la Tchécoslovaquie

Le 31 décembre 1992 à minuit, la Tchécoslovaquie cédera la place à deux États distincts, après soixante-quatorze années de coexistence entre Tchèques et Slovaques. Leurs dirigeants, démocratiquement élus, en ont décidé ainsi, sans consultation des populations. Le résultat de référendums aurait d'ailleurs été incertain et probablement variable dans le temps : si les Slovaques ont commencé, dès la chute du communisme, à réclamer leur « souveraineté », leur enthousiasme tombait à mesure que les Tchèques se persuadaient, eux, que la séparation pourrait leur être finalement profitable. Contrairement à la Yougoslavie, les deux peuples n'ont ni contentieux territorial ni passé de violences, et les Parlements des deux États ont ratifié une trentaine d'accords sur leur coopération future. Mais les principaux accords - sur l'union douanière et, pour les premiers six mois, la monnaie commune - risquent d'être bousculés : l'économie des deux États diverge, la Slovaquie étant handicapée notamment par son industrie lourde. Son premier ministre Vladimir Meciar a décidé récemment de rapprocher sa politique économique de celle de son homologue tchèque Vaclav Klaus, mais doit faire face aux critiques de son style « autoritaire » et gérer le problème de la minorité hongroise. Les Tchèques, bien que partant à tous points de vue favorisés, ne sont pas à l'abri, eux non plus, d'une montée des extrémismes politiques.

Source : Journal *Le Monde*, 01/01/1993

**BREVET DES MÉTIERS D'ART**

**BACCALAURÉAT PROFESSIONNEL**

**Maintenance des Systèmes Mécaniques Automatisés  
Option Systèmes Ferroviaires**

**GÉOGRAPHIE**

**SESSION 2012**

**Sujet 2**

**Coefficient : 1,5 (BMA)**

**Coefficient : 2 (BCP MSMA option SF)**

**Durée : 2 heures**



## L'ÉLARGISSEMENT DE L'UNION EUROPÉENNE À L'EST : DE NOUVEAUX DYNAMISMES

**Document 1 :** Les axes majeurs de circulation dans l'Union européenne en 2010 (carte)

**Document 2 :** Varsovie, un nouveau pôle d'attraction (texte)

**Document 3 :** La croissance économique dans l'Union européenne en 2010 (carte)

**Document 4 :** « Zlote Tarasy » (photographie)

**Document 5 :** Le PIB par habitant dans l'Union européenne entre 1997 et 2010 (tableau)

---

### QUESTIONS

**Question 1** (Document 1) **3 points**

Quelle est la place des pays nouvellement intégrés à l'Est dans les réseaux de transports de l'Union européenne ?

**Question 2** (Documents 2 et 3) **3 points**

À l'aide des deux documents, précisez quels sont les atouts géographiques et économiques de Varsovie et de la Pologne dans l'élargissement de l'Union européenne à l'Est.

**Question 3** (Documents 2 et 4) **3 points**

Quelles sont les conséquences, pour Varsovie, de l'adhésion de la Pologne à l'Union européenne ?

**Question 4** (Documents 3 et 5) **3 points**

Présentez à l'aide des documents deux signes du dynamisme économique des pays de l'Est nouvellement intégrés à l'Union européenne.

**Question 5** **8 points**

À partir de vos connaissances, des documents et des réponses aux questions, vous rédigerez un texte sur le sujet suivant :

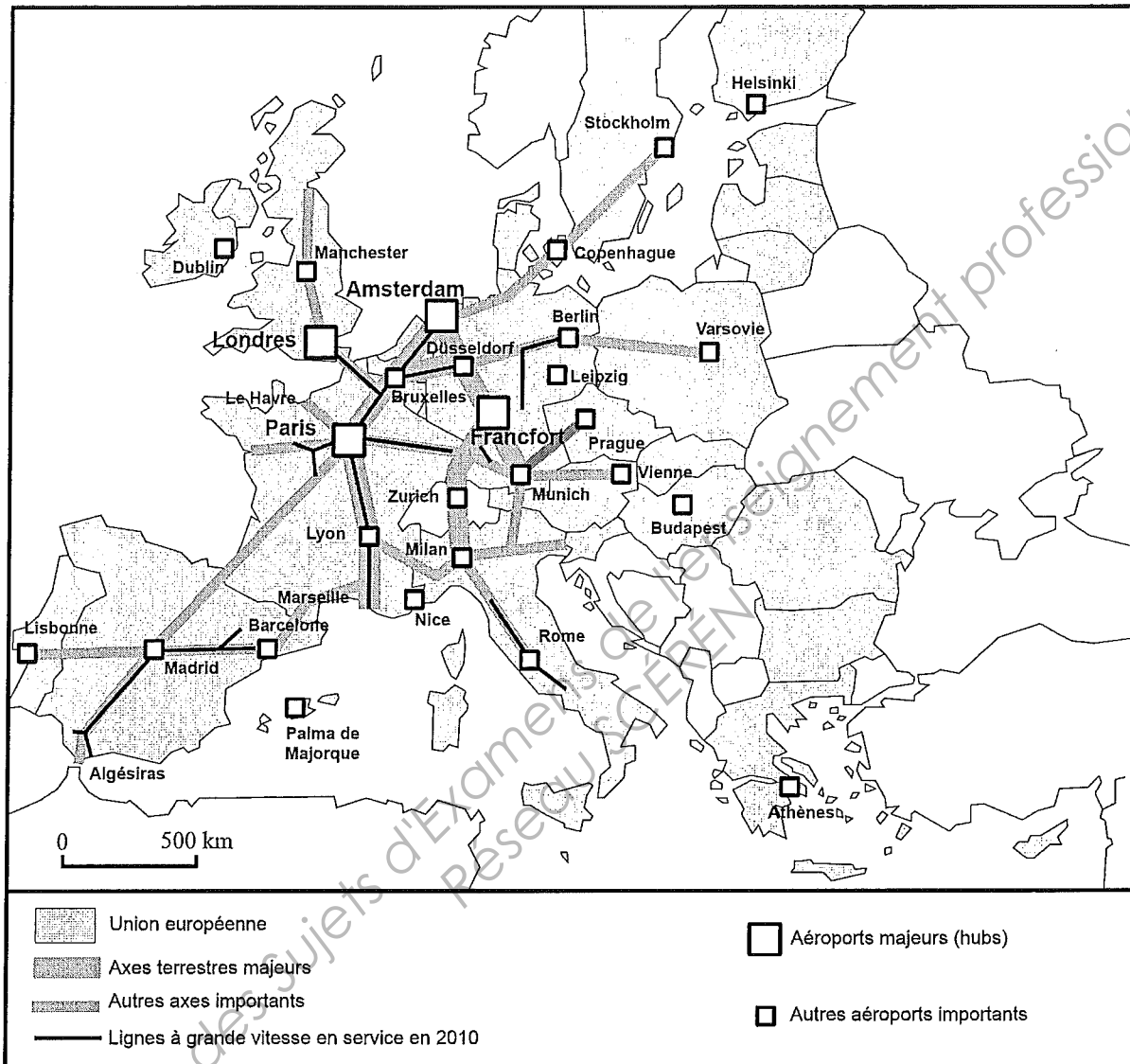
**« L'élargissement de l'Union européenne à l'Est : de nouveaux dynamismes »**

Vous pourrez, par exemple, organiser votre réponse à partir des éléments suivants :

- Faiblesses des pays de l'Est nouvellement intégrés ;
- Atouts de ces pays ;
- Conséquences, pour ces pays, de l'élargissement à l'Est de l'Union européenne.

**Document 1 :**

**Les axes majeurs de circulation dans l'Union européenne en 2010**



**Source :** Division des Examens et Concours de l'académie pilote

## Document 2 :

### Varsovie, un nouveau pôle d'attraction

« A force de côtoyer les mutations qui ont lieu dans leur ville depuis vingt ans, les Varsoviens ne semblent parfois même plus réaliser à quel point la capitale polonaise s'est profondément transformée. [...] Aujourd'hui, le mélange des genres est étonnant. Les gratte-ciel joutent les bâtiments classés au patrimoine national comme les immeubles stalinien. [...]

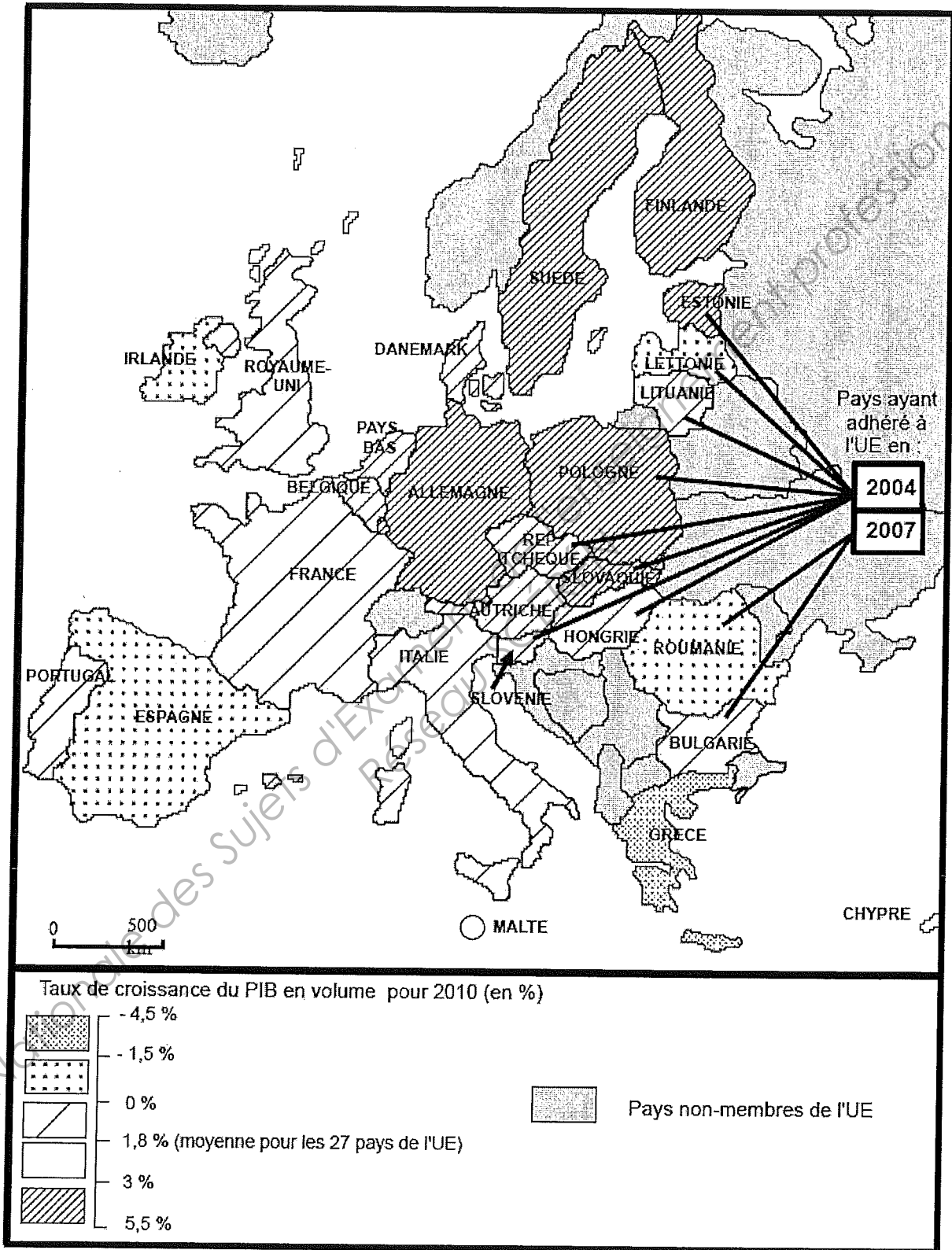
La chute du Mur de Berlin en 1989 a été un élément déclencheur annonçant une succession de changements en Pologne et notamment à Varsovie. [...] Ces changements ont ensuite été soutenus par l'adhésion de la Pologne à l'Union européenne en 2004. On a pu constater à ce moment-là de véritables bouleversements grâce aux subventions européennes, destinées à moderniser le pays. En ce qui concerne sa capitale, il a fallu réorganiser la ville, grande de presque 2 millions d'habitants, pour proposer des liaisons de transports fonctionnelles (amélioration du réseau routier, métro, nouvelles lignes de tramway), restées pratiquement à un stade archaïque sous le régime communiste.

D'autre part, cette réorganisation a dû être instaurée pour faciliter la venue des étrangers et favoriser les échanges. C'est aussi pour cette raison que le commerce a pu se développer. [...] Depuis 1990, environ 108 milliards de dollars ont été dépensés par des investisseurs étrangers sur le territoire polonais. Ceux-ci sont avant tout à la recherche de stabilité politique et économique, de main-d'œuvre qualifiée, de liaisons de transport commodes et aussi de réseaux de télécommunications développés. Il s'avère justement que Varsovie regroupe ces atouts. [...] Mais la capitale possède aussi d'autres qualités qui la dotent d'une valeur ajoutée notable. En effet, les Varsoviens constituent une population à fort pouvoir d'achat. Le taux de chômage y est faible (environ 3% en 2007) en comparaison avec le taux national (qui frise les 11%). [...] Mais surtout, à l'échelle nationale, la Pologne est attractive de par sa position géostratégique. Le pays absorbe ainsi une part conséquente des investissements étrangers puisque l'accès des produits polonais aux marchés de l'UE et de l'Europe de l'Est se trouve facilité. Sa position relativement centrale dans le pays fait d'elle une cible privilégiée pour les investisseurs. »

**Source :** LEFEBVRE (Delphine), « Varsovie, un nouveau pôle d'attraction », *Regards sur l'Est*, août 2009

**Document 3 :**

**La croissance économique dans l'Union européenne en 2010**



**Source :** Eurostat (extraction du 24 mai 2011)

**Document 4 :**

**« Złote Tarasy »**



« Złote Tarasy » (« Les terrasses dorées »). Vaste chantier de 225 000 m<sup>2</sup> en cours d'édification à Varsovie en 2007 (sur la partie droite, le gratte-ciel de style « stalinien » du « Palais de la culture et de la science »).

**Source :** <http://bryla.gazetadom.pl>

**Document 5 :**

**Le PIB par habitant d'achat dans l'UE entre 1997 et 2010**

(base 100<sup>1</sup> = moyenne de l'Union européenne à 27 États)

	1997	2000	2002	2004	2006	2008	2010
Zone Euro (17 pays)	113	112	111	109	109	108	108
Bulgarie	26	28	32	35	38	43	44
Pologne	47	48	48	51	52	56	62
République Tchèque	73	71	73	78	80	84	82
Slovénie	78	80	82	87	88	91	86

**Source :** D'après les tableaux des comptes nationaux annuels ; Eurostat / Commission européenne.

<sup>1</sup> Rappel : le chiffre 108 sur base 100 signifie un écart de plus 8% par rapport à la moyenne des 27 États adhérents à l'Union européenne.