



SERVICES CULTURE ÉDITIONS
RESSOURCES POUR
L'ÉDUCATION NATIONALE

**Ce document a été numérisé par le CRDP de Montpellier pour la
Base Nationale des Sujets d'Examens de l'enseignement professionnel**

Ce fichier numérique ne peut être reproduit, représenté, adapté ou traduit sans autorisation.

DANS CE CADRE	Académie :	Session :
	Examen :	Série :
	Spécialité/option :	Repère de l'épreuve :
	Epreuve/sous épreuve :	
	NOM :	
	(en majuscule, suivi s'il y a lieu, du nom d'épouse)	
	Prénoms :	N° du candidat <input type="text"/>
	Né(e) le :	(le numéro est celui qui figure sur la convocation ou liste d'appel)
NE RIEN ÉCRIRE	Appréciation du correcteur	
	<input type="text"/> Note :	

Il est interdit aux candidats de signer leur composition ou d'y mettre un signe quelconque pouvant indiquer sa provenance.


TEST THÉORIQUE N° 1

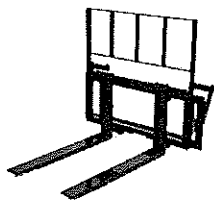
Vous répondez aux questions en cochant la (ou les) case(s) correspondant à la (ou aux) bonne(s) réponse(s) ; certaines questions nécessitent de cocher plusieurs cases pour être considérées comme correctes.

Seules les réponses totalement exactes seront prises en compte.

1. Que signifie le sigle CACES ?			
<input type="checkbox"/>	A	Certificat d'Aptitude à la Circulation d'Engins en Sécurité	<input type="checkbox"/>
<input type="checkbox"/>	B	Capacité d'Autorisation à la Conduite Express en Sécurité	<input type="checkbox"/>
	C	Certificat d'Aptitude à la Conduite d'Engins en Sécurité	
	D	Capacité d'Aptitude à la Connaissance d'Engins en Sécurité	

2. Quel est le nom du service de prévention des accidents du travail ?			
<input type="checkbox"/>	A	Organisme de Contrôle Technique	<input type="checkbox"/>
<input type="checkbox"/>	B	CARSAT (caisse d'assurance retraite et de la santé au travail)	<input type="checkbox"/>
	C	CHSCT (comité d'hygiène, de sécurité et des conditions de travail)	
	D	L'Inspection du Travail	


3. Que signifie ce symbole ?		
<input type="checkbox"/>	A	Toxique pour les poissons rouges
<input type="checkbox"/>	B	Très toxique ou toxique pour les organismes aquatiques
<input type="checkbox"/>	C	Très favorable pour la nature
<input type="checkbox"/>	D	Très toxique pour les nappes de pétrole
		

4. Quelle est l'utilité d'un dossier de charge ?	
<input type="checkbox"/>	A Empêcher de monter sur la fourche
<input type="checkbox"/>	B Empêcher la chute d'éléments de la charge sur le conducteur
<input type="checkbox"/>	C Empêcher l'accès aux organes mécaniques
<input type="checkbox"/>	D Empêcher la surcharge lors de la prise de la marchandise
	

BEP Logistique et Transport	EPREUVE EP2 phase 1	Code : 510 31106	Durée : 15 min	Session 2012
CAP AEM	EPREUVE EP1 phase 1	Code : 500 31116	Durée : 10 min	SUJET
CAP VMPREA	EPREUVE EP2 phase 1	Code : 500 31217	Durée : 10 min	Page 1/2

NE RIEN ÉCRIRE DANS CETTE PARTIE

5. Quelle catégorie de CACES correspond à ce chariot ?

<input type="checkbox"/>	A	CACES catégorie 1	
<input type="checkbox"/>	B	CACES catégorie 2	
<input type="checkbox"/>	C	CACES catégorie 4	
<input type="checkbox"/>	D	Aucune	

6. Quand faut-il ajouter du liquide hydraulique (huile) dans la batterie ?

<input type="checkbox"/>	A	Après avoir débranché la batterie	<input type="checkbox"/>	C	Après avoir attendu que la batterie soit vide
<input type="checkbox"/>	B	Après avoir attendu que la batterie soit rechargée	<input type="checkbox"/>	D	Jamais

7. Que doit faire le cariste pour connaître la capacité nominale d'un chariot ?

<input type="checkbox"/>	A	Vérifier la longueur des fourches	<input type="checkbox"/>	C	Consulter la plaque de charge
<input type="checkbox"/>	B	Faire des calculs de surface	<input type="checkbox"/>	D	Procéder à des essais de levage

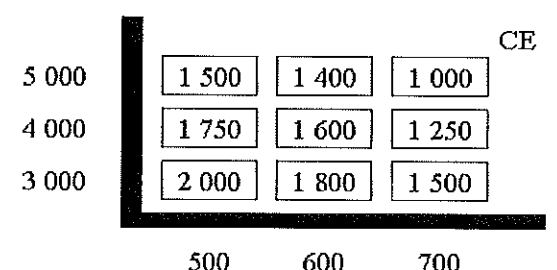
8. Quelle est la distance de sécurité à respecter avec un chariot élévateur face à une charge en palettier ou en pile ?

<input type="checkbox"/>	A	15 cm	<input type="checkbox"/>	C	30 cm
<input type="checkbox"/>	B	25 cm	<input type="checkbox"/>	D	90 cm

9. Quelle doit être l'attitude du cariste lorsqu'il aborde une « porte va-et-vient » ?

<input type="checkbox"/>	A	Accélérer en actionnant l'avertisseur sonore	<input type="checkbox"/>	C	Marquer un temps d'arrêt en actionnant l'avertisseur sonore
<input type="checkbox"/>	B	Ralentir en actionnant l'avertisseur sonore	<input type="checkbox"/>	D	Actionner l'avertisseur sonore

10. Quelle est la longueur maximum d'une charge de 1 600 kg, gerbée à 4 000 mm :

<input type="checkbox"/>	A	1000 mm	
<input type="checkbox"/>	B	1200 mm	
<input type="checkbox"/>	C	1400 mm	
<input type="checkbox"/>	D	Ce n'est pas possible	

BEP Logistique et Transport	EPREUVE EP2 phase 1	Code : 510 31106	Durée : 15 min	Session 2012
CAP AEM	EPREUVE EP1 phase 1	Code : 500 31116	Durée : 10 min	SUJET
CAP VMPREA	EPREUVE EP2 phase 1	Code : 500 31217	Durée : 10 min	Page 2/2