



SERVICES CULTURE ÉDITIONS
RESSOURCES POUR
L'ÉDUCATION NATIONALE

**Ce document a été numérisé par le CRDP de Bordeaux pour la
Base Nationale des Sujets d'Examens de l'enseignement professionnel.**

Campagne 2013

BREVET DE TECHNICIEN SUPÉRIEUR

AGENCEMENT DE L'ENVIRONNEMENT ARCHITECTURAL

Session 2013

U31 - MATHÉMATIQUES

Durée : 2 h - Coefficient 2

Dès que le sujet vous est remis, assurez-vous qu'il soit complet.

Le sujet est composé de 4 pages numérotées de 1/9 à 4/9.

D'une annexe graphique et graduée, numérotée 5/9 (à rendre avec la copie).

Le formulaire officiel de mathématiques est joint au sujet.

Il comprend 4 pages, numérotées de 6/9 à 9/9.

La clarté des raisonnements et la qualité de la rédaction interviendront pour une part importante dans l'appréciation des copies. L'usage des instruments de calcul et du formulaire officiel de mathématiques est autorisé.

CODE ÉPREUVE : 1306ADMAT		EXAMEN : BREVET DE TECHNICIEN SUPÉRIEUR	SPÉCIALITÉ: AGENCEMENT DE L'ENVIRONNEMENT ARCHITECTURAL	
SESSION 2013	SUJET	ÉPREUVE : U31 - MATHÉMATIQUES		
Durée : 2h		Coefficient : 2	SUJET N° 05ED12	Page : 1/9

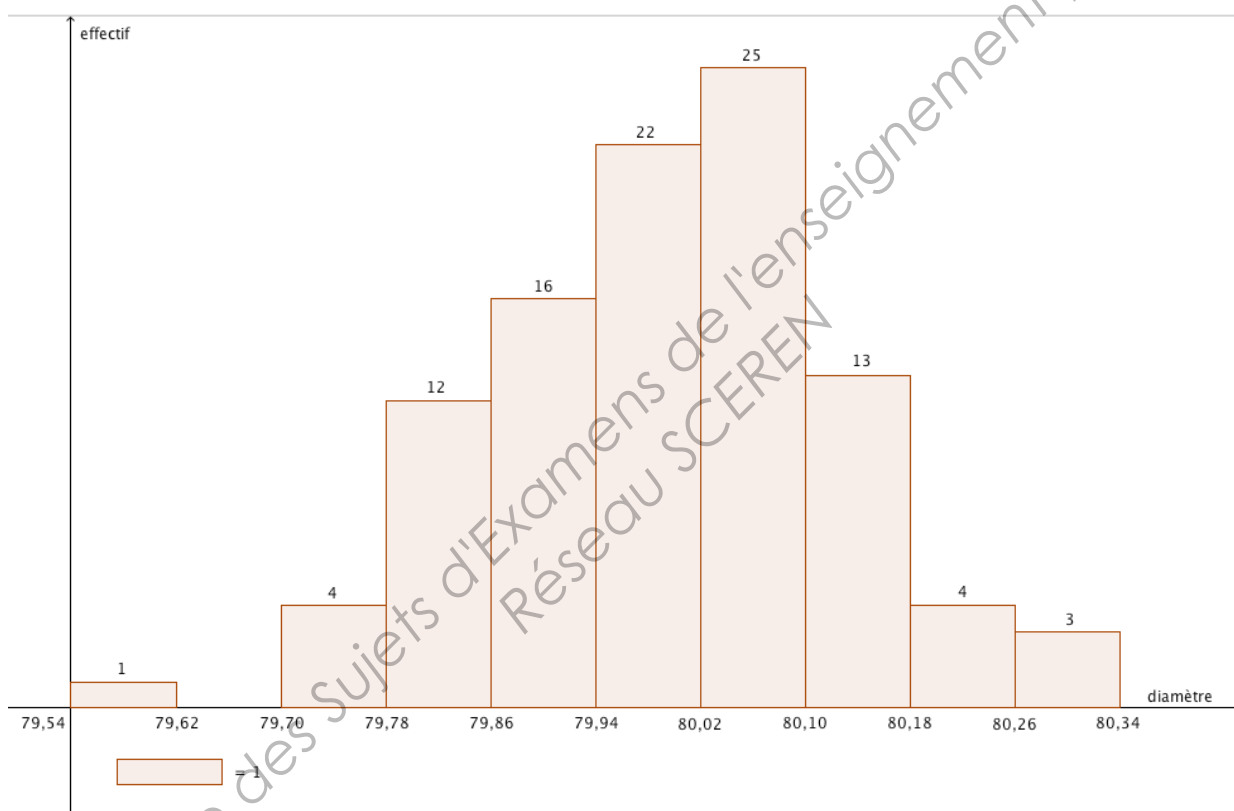
Exercice 1 : (11 points)

Partie A.

Une usine fabrique des plaques d'isolation phonique. Une machine de cette usine est chargée de percer des trous dans ces plaques de 80 mm de diamètre.

La figure ci-dessous représente l'histogramme d'un échantillon de 100 diamètres de trous choisis dans plusieurs plaques.

Exemples : - il y a un seul trou dont le diamètre appartient à la classe $[79,54 ; 79,62]$.
- il n'y en a aucun dans la classe $[79,62 ; 79,70]$.



1) Calculer à l'aide de la calculatrice la moyenne et l'écart type de cet échantillon. Arrondir les résultats au centième.

2) Calculer le pourcentage de trous de cet échantillon dont le diamètre est compris entre 79,86 mm et 80,18 mm.

Partie B.

On considère maintenant que la variable aléatoire Z qui à chaque trou associe son diamètre suit la loi normale de moyenne $m = 80$ et d'écart-type $\sigma = 0,13$.

- 1) On considère qu'un trou est conforme si son diamètre appartient à l'intervalle $[79,74 ; 80,26]$. Calculer la probabilité qu'un trou soit conforme. Donner une valeur approchée du résultat arrondie à 10^{-3} .
- 2) Calculer une nouvelle valeur de l'écart-type σ pour que la probabilité qu'un trou soit conforme soit égale à 0,99. Donner une valeur approchée du résultat arrondie au centième.

Partie C.

On décide de contrôler la qualité des trous dans la production d'une journée.

On suppose que la probabilité qu'un trou soit défectueux est 0,05.

On note X la variable aléatoire qui, à tout échantillon de 100 trous choisis au hasard, associe le nombre de trous défectueux.

La production quotidienne des plaques est suffisamment importante pour que l'on puisse assimiler le choix des 100 trous à un tirage avec remise pour assurer l'indépendance des choix.

- 1)
 - a) Quelle est la loi suivie par la variable aléatoire X (justifier votre réponse).
 - b) Donner les paramètres de cette loi.
- 2) Calculer une valeur approchée arrondie à 10^{-3} de la probabilité pour un tel échantillon :
 - a) de n'avoir aucun trou défectueux ;
 - b) d'avoir un seul trou défectueux ;
 - c) d'avoir au moins deux trous défectueux.
- 3) On admet que la loi suivie par X peut être approchée par une loi de Poisson notée Y .
 - a) Déterminer le paramètre de cette loi.
 - b) En utilisant cette loi de Poisson déterminer une valeur approchée à 10^{-3} de la probabilité de l'événement du **2)b**.
- 4) En comparant les résultats des questions **2)b**) et **3)b**) , calculer le pourcentage d'erreur commis en remplaçant la variable aléatoire X par Y pour calculer la probabilité d'avoir un seul trou défectueux. Donner une valeur approchée à 0,1% près.

Exercice 2 : (9 points)

Pour tester la résistance d'une plaque d'isolation phonique à la chaleur on porte en laboratoire sa température à 100°C et on étudie l'évolution de sa température en fonction du temps t (en minutes).

Soit $\theta(t)$ la température (en degré celsius) de la plaque à l'instant t (t exprimé en minutes).

La température ambiante du laboratoire est de 19°C et après 6 minutes la température est redescendue à 82°C .

En exploitant ces données on peut affirmer que la fonction θ est solution de l'équation différentielle :

$$(E) : y'(t) + 0,042 y(t) = 0,798.$$

où y est la fonction inconnue, de variable t , définie et dérivable sur l'intervalle $[0 ; +\infty[$.

Partie A.

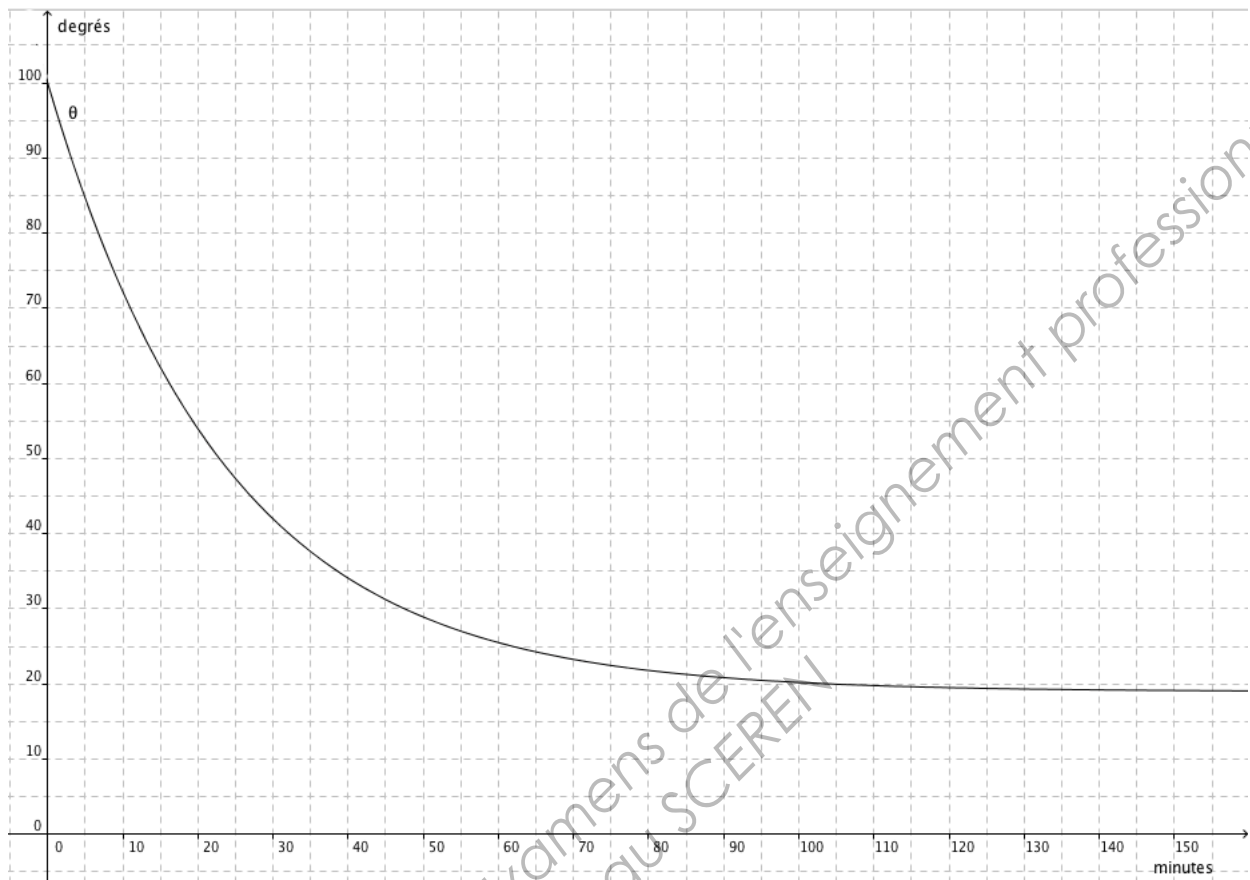
- 1) Résoudre l'équation différentielle : $y'(t) + 0,042 y(t) = 0$ sur l'intervalle $[0 ; +\infty[$.
- 2) Trouver une solution particulière de (E) constante du type $g(t) = a$, où a est un nombre réel à déterminer.
- 3) En déduire toutes les solutions de E.
- 4) D'après l'énoncé, donner $\theta(0)$, puis déterminer la solution θ de l'équation (E) vérifiant cette condition initiale.

Partie B.

On admet que pour tout réel t de l'intervalle $[0 ; +\infty[$, $\theta(t) = 81 e^{-0,042t} + 19$.

- 1) Calculer la température de la plaque après 35 minutes. Vérifier ce résultat à l'aide du graphique, en annexe, en laissant apparents les traits de construction.
- 2) Calculer la fonction dérivée θ' sur $[0 ; +\infty[$. En déduire le sens de variation de θ sur $[0 ; +\infty[$.
- 3) Calculer le temps à partir duquel la température de la plaque est inférieure à 30°C. Vérifier ce résultat à l'aide du graphique, en annexe, en laissant apparents les traits de construction.
- 4) Déterminer la limite de $\theta(t)$ lorsque t tend vers $+\infty$, et interpréter ce résultat.

Annexe : Exercice 2 – Courbe représentative de la fonction θ .



Base Nationale des Sujets d'Examens de l'enseignement professionnel
Réseau SCEREN

FORMULAIRE DE MATHÉMATIQUES

BTS AMÉNAGEMENT DE L'ENVIRONNEMENT ARCHITECTURAL

1. RELATIONS FONCTIONNELLES

$$\ln(ab) = \ln a + \ln b, \text{ où } a > 0 \text{ et } b > 0$$

$$\exp(a+b) = \exp a \times \exp b$$

$$\cos(a+b) = \cos a \cos b - \sin a \sin b$$

$$\sin(a+b) = \sin a \cos b + \cos a \sin b$$

$$\cos(2t) = 2 \cos^2 t - 1 = 1 - 2 \sin^2 t$$

$$\sin(2t) = 2 \sin t \cos t$$

2. CALCUL DIFFERENTIEL ET INTEGRAL

a) Limites usuelles

Comportement à l'infini

$$\lim_{t \rightarrow +\infty} \ln t = +\infty ;$$

$$\lim_{t \rightarrow +\infty} e^t = +\infty ;$$

$$\lim_{t \rightarrow -\infty} e^t = 0 ;$$

$$\text{Si } \alpha > 0, \lim_{t \rightarrow +\infty} t^\alpha = +\infty ; \quad \text{si } \alpha < 0, \lim_{t \rightarrow +\infty} t^\alpha = 0$$

Croissances comparées à l'infini

$$\text{Si } \alpha > 0, \lim_{t \rightarrow +\infty} \frac{e^t}{t^\alpha} = +\infty$$

$$\text{Si } \alpha > 0, \lim_{t \rightarrow +\infty} \frac{\ln t}{t^\alpha} = 0$$

Comportement à l'origine

$$\lim_{t \rightarrow 0} \ln t = -\infty$$

$$\text{Si } \alpha > 0, \lim_{t \rightarrow 0} t^\alpha = 0 ; \quad \text{si } \alpha < 0, \lim_{t \rightarrow 0} t^\alpha = +\infty$$

$$\text{Si } \alpha > 0, \lim_{t \rightarrow 0} t^\alpha \ln t = 0.$$

b) Dérivées et primitives

Fonctions usuelles

$f(t)$	$f'(t)$	$f(t)$	$f'(t)$
$\ln t$	$\frac{1}{t}$	$\sin t$	$\cos t$
e^t	e^t	$\cos t$	$-\sin t$
$t^\alpha \ (\alpha \in \mathbb{R}^*)$	$\alpha t^{\alpha-1}$	$\tan t$	$\frac{1}{\cos^2 t} = 1 + \tan^2 t$

Opérations

$$(u + v)' = u' + v'$$

$$(ku)' = k u'$$

$$(uv)' = u'v + u v'$$

$$\left(\frac{1}{u}\right)' = -\frac{u'}{u^2}$$

$$\left(\frac{u}{v}\right)' = \frac{u'v - u v'}{v^2}$$

$$(v \circ u)' = (v' \circ u)u'$$

$$(e^u)' = e^u u'$$

$$(\ln u)' = \frac{u'}{u}, \text{ } u \text{ à valeurs strictement positives}$$

$$(u^\alpha)' = \alpha u^{\alpha-1} u'$$

c) Calcul intégral

Valeur moyenne de f sur $[a, b]$: $\frac{1}{b-a} \int_a^b f(t) dt$

d) Equations différentielles

Équations	Solutions sur un intervalle I
$a(t)x' + b(t)x = 0$	$f(t) = ke^{-G(t)}$ où G est une primitive de $t \mapsto \frac{b(t)}{a(t)}$
$x'' + \omega^2 x = 0$	$x(t) = \lambda \cos(\omega t) + \mu \sin(\omega t)$

3. **PROBABILITES**

a) **Loi binomiale** $P(X = k) = C_n^k p^k q^{n-k}$ où $C_n^k = \frac{n!}{k!(n-k)!}$; $E(X) = np$; $\sigma(X) = \sqrt{npq}$

b) **Loi de Poisson**

$$P(X = k) = \frac{e^{-\lambda} \lambda^k}{k!}$$

$$E(X) = \lambda$$

$$V(X) = \lambda$$

$k \backslash \lambda$	0,2	0,3	0,4	0,5	0,6
0	0,8187	0,7408	0,6703	0,6065	0,5488
1	0,1637	0,2222	0,2681	0,3033	0,3293
2	0,0164	0,0333	0,0536	0,0758	0,0988
3	0,0011	0,0033	0,0072	0,0126	0,0198
4	0,0000	0,0003	0,0007	0,0016	0,0030
5		0,0000	0,0001	0,0002	0,0004
6			0,0000	0,0000	0,0000

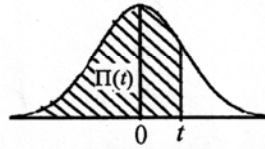
$k \backslash \lambda$	1	1.5	2	3	4	5	6	7	8	9	10
0	0.368	0.223	0.135	0.050	0.018	0.007	0.002	0.001	0.000	0.000	0.000
1	0.368	0.335	0.271	0.149	0.073	0.034	0.015	0.006	0.003	0.001	0.000
2	0.184	0.251	0.271	0.224	0.147	0.084	0.045	0.022	0.011	0.005	0.002
3	0.061	0.126	0.180	0.224	0.195	0.140	0.089	0.052	0.029	0.015	0.008
4	0.015	0.047	0.090	0.168	0.195	0.176	0.134	0.091	0.057	0.034	0.019
5	0.003	0.014	0.036	0.101	0.156	0.176	0.161	0.128	0.092	0.061	0.038
6	0.001	0.004	0.012	0.050	0.104	0.146	0.161	0.149	0.122	0.091	0.063
7	0.000	0.001	0.003	0.022	0.060	0.104	0.138	0.149	0.140	0.117	0.090
8		0.000	0.001	0.008	0.030	0.065	0.103	0.130	0.140	0.132	0.113
9			0.000	0.003	0.013	0.036	0.069	0.101	0.124	0.132	0.125
10				0.001	0.005	0.018	0.041	0.071	0.099	0.119	0.125
11				0.000	0.002	0.008	0.023	0.045	0.072	0.097	0.114
12					0.001	0.003	0.011	0.026	0.048	0.073	0.095
13					0.000	0.001	0.005	0.014	0.030	0.050	0.073
14						0.000	0.002	0.007	0.017	0.032	0.052
15							0.001	0.003	0.009	0.019	0.035
16							0.000	0.001	0.005	0.011	0.022
17								0.001	0.002	0.006	0.013
18								0,000	0.001	0.003	0.007
19									0.000	0.001	0.004
20										0.001	0.002
21										0,000	0.001
22											0.000

c) Loi normale

La loi normale centrée réduite est caractérisée par la densité de probabilité : $f(x) = \frac{1}{\sqrt{2\pi}} e^{-\frac{x^2}{2}}$

EXTRAITS DE LA TABLE DE LA FONCTION INTEGRALE DE LA LOI NORMALE CENTREE, REDUITE $\mathcal{N}(0,1)$

$$\Pi(t) = P(T \leq t) = \int_{-\infty}^t f(x) dx$$



t	0,00	0,01	0,02	0,03	0,04	0,05	0,06	0,07	0,08	0,09
0,0	0,500 0	0,504 0	0,508 0	0,512 0	0,516 0	0,519 9	0,523 9	0,527 9	0,531 9	0,535 9
0,1	0,539 8	0,543 8	0,547 8	0,551 7	0,555 7	0,559 6	0,563 6	0,567 5	0,571 4	0,575 3
0,2	0,579 3	0,583 2	0,587 1	0,591 0	0,594 8	0,598 7	0,602 6	0,606 4	0,610 3	0,614 1
0,3	0,617 9	0,621 7	0,625 5	0,629 3	0,633 1	0,636 8	0,640 6	0,644 3	0,648 0	0,651 7
0,4	0,655 4	0,659 1	0,662 8	0,666 4	0,670 0	0,673 6	0,677 2	0,680 8	0,684 4	0,687 9
0,5	0,691 5	0,695 0	0,698 5	0,701 9	0,705 4	0,708 8	0,712 3	0,715 7	0,719 0	0,722 4
0,6	0,725 7	0,729 0	0,732 4	0,735 7	0,738 9	0,742 2	0,745 4	0,748 6	0,751 7	0,754 9
0,7	0,758 0	0,761 1	0,764 2	0,767 3	0,770 4	0,773 4	0,776 4	0,779 4	0,782 3	0,785 2
0,8	0,788 1	0,791 0	0,793 9	0,796 7	0,799 5	0,802 3	0,805 1	0,807 8	0,810 6	0,813 3
0,9	0,815 9	0,818 6	0,821 2	0,823 8	0,825 4	0,828 9	0,831 5	0,834 0	0,836 5	0,838 9
1,0	0,841 3	0,843 8	0,846 1	0,848 5	0,850 8	0,853 1	0,855 4	0,857 7	0,859 9	0,862 1
1,1	0,864 3	0,866 5	0,868 6	0,870 8	0,872 9	0,874 9	0,877 0	0,879 0	0,881 0	0,883 0
1,2	0,884 9	0,886 9	0,888 8	0,890 7	0,892 5	0,894 4	0,896 2	0,898 0	0,899 7	0,901 5
1,3	0,903 2	0,904 9	0,906 6	0,908 2	0,909 9	0,911 5	0,913 1	0,914 7	0,916 2	0,917 7
1,4	0,919 2	0,920 7	0,922 2	0,923 6	0,925 1	0,926 5	0,927 9	0,929 2	0,930 6	0,931 9
1,5	0,933 2	0,934 5	0,935 7	0,937 0	0,938 2	0,939 4	0,940 6	0,941 8	0,942 9	0,944 1
1,6	0,945 2	0,946 3	0,947 4	0,948 4	0,949 5	0,950 5	0,951 5	0,952 5	0,953 5	0,954 5
1,7	0,955 4	0,956 4	0,957 3	0,958 2	0,959 1	0,959 9	0,960 8	0,961 6	0,962 5	0,963 3
1,8	0,964 1	0,964 9	0,965 6	0,966 4	0,967 1	0,967 8	0,968 6	0,969 3	0,969 9	0,970 6
1,9	0,971 3	0,971 9	0,972 6	0,973 2	0,973 8	0,974 4	0,975 0	0,975 6	0,976 1	0,976 7
2,0	0,977 2	0,977 9	0,978 3	0,978 8	0,979 3	0,979 8	0,980 3	0,980 8	0,981 2	0,981 7
2,1	0,982 1	0,982 6	0,983 0	0,983 4	0,983 8	0,984 2	0,984 6	0,985 0	0,985 4	0,985 7
2,2	0,986 1	0,986 4	0,986 8	0,987 1	0,987 5	0,987 8	0,988 1	0,988 4	0,988 7	0,989 0
2,3	0,989 3	0,989 6	0,989 8	0,990 1	0,990 4	0,990 6	0,990 9	0,991 1	0,991 3	0,991 6
2,4	0,991 8	0,992 0	0,992 2	0,992 5	0,992 7	0,992 9	0,993 1	0,993 2	0,993 4	0,993 6
2,5	0,993 8	0,994 0	0,994 1	0,994 3	0,994 5	0,994 6	0,994 8	0,994 9	0,995 1	0,995 2
2,6	0,995 3	0,995 5	0,995 6	0,995 7	0,995 9	0,996 0	0,996 1	0,996 2	0,996 3	0,996 4
2,7	0,996 5	0,996 6	0,996 7	0,996 8	0,996 9	0,997 0	0,997 1	0,997 2	0,997 3	0,997 4
2,8	0,997 4	0,997 5	0,997 6	0,997 7	0,997 7	0,997 8	0,997 9	0,997 9	0,998 0	0,998 1
2,9	0,998 1	0,998 2	0,998 2	0,998 3	0,998 4	0,998 4	0,998 5	0,998 5	0,998 6	0,998 6

TABLE POUR LES GRANDES VALEURS DE t

t	3,0	3,1	3,2	3,3	3,4	3,5	3,6	3,8	4,0	4,5
$\Pi(t)$	0,998 65	0,999 04	0,999 31	0,999 52	0,999 66	0,999 76	0,999 841	0,999 928	0,999 968	0,999 997

Nota : $\Pi(-t) = 1 - \Pi(t)$