



SERVICES CULTURE ÉDITIONS
RESSOURCES POUR
L'ÉDUCATION NATIONALE

**Ce document a été numérisé par le CRDP de Montpellier pour la
Base Nationale des Sujets d'Examens de l'enseignement professionnel**

Ce fichier numérique ne peut être reproduit, représenté, adapté ou traduit sans autorisation.

**DIPLÔME DE TECHNICIEN
DES MÉTIERS DU SPECTACLE**

**Epreuve E4, sous épreuve B4 : Histoire-Géographie
SESSION 2013**

Attention : vous traiterez au choix le sujet 1 ou le sujet 2

DIPLOME DE TECHNICIEN DES MÉTIERS DU SPECTACLE			
Epreuve écrite E4, sous-épreuve B4 : HISTOIRE-GEOGRAPHIE			
SESSION JUIN 2013	Durée : 1 h 30	Coefficient : 1	Page : 1/10

SUJET 1 : HISTOIRE

L'ALLEMAGNE, UN TERRITOIRE, UNE NATION DE 1919 À 1990

Document 1 : Affiche allemande de 1919, d'après une lithographie de Louis Oppenheim, 1919 © DHM, Berlin.

Document 2 : Carte postale allemande de 1938 célébrant l'Anschluss. - www.concoursdelaresistance.over-blog.com.

Document 3 : L'Allemagne en 1942 - d'après P. Milza et S. Bernstein, *Histoire du XX^e siècle*, tome 1, Paris, © Hatier, 1996.

Document 4 : Commémoration des « retrouvailles » en Allemagne en 2000. - Extrait du discours de M. Jacques Chirac sur la réunification de l'Allemagne et la contribution de l'Allemagne unifiée, en coopération avec la France, à la construction européenne, Dresde, Allemagne, le 3 octobre 2000 - <http://discours.vie-publique.fr>.

Questions :

Toutes vos réponses devront être rédigées. La correction de l'expression écrite sera évaluée.

Document 1

1. Dans quel contexte historique l'affiche est-elle produite ? **1 point.**
2. Dans quels buts l'affiche a-t-elle été publiée ? Justifiez votre réponse par une analyse précise du document iconographique. **1,5 point.**

Document 2

3. À quel événement de 1938 la carte postale fait-elle référence ? **1 point.**
4. Comment le document représente-t-il le slogan « Ein Volk, ein Reich, ein Führer » ? **1,5 point.**

Documents 2 et 3

5. Quelle évolution du territoire allemand de 1938 à 1940 pouvez-vous constater ? Justifiez votre réponse. **1 point.**
6. Pour quelles raisons et par quels moyens cette évolution s'est-elle produite ? **2 points.**

Document 4 :

7. À quels événements historiques fait référence la phrase suivante « Il y a onze ans, le Mur tombait, Allemands de l'Est et de l'Ouest, frères séparés dans un pays déchiré, se retrouvaient enfin ». **2 points.**
8. Relevez et expliquez les oppositions contenues dans le dernier paragraphe. **1 point.**

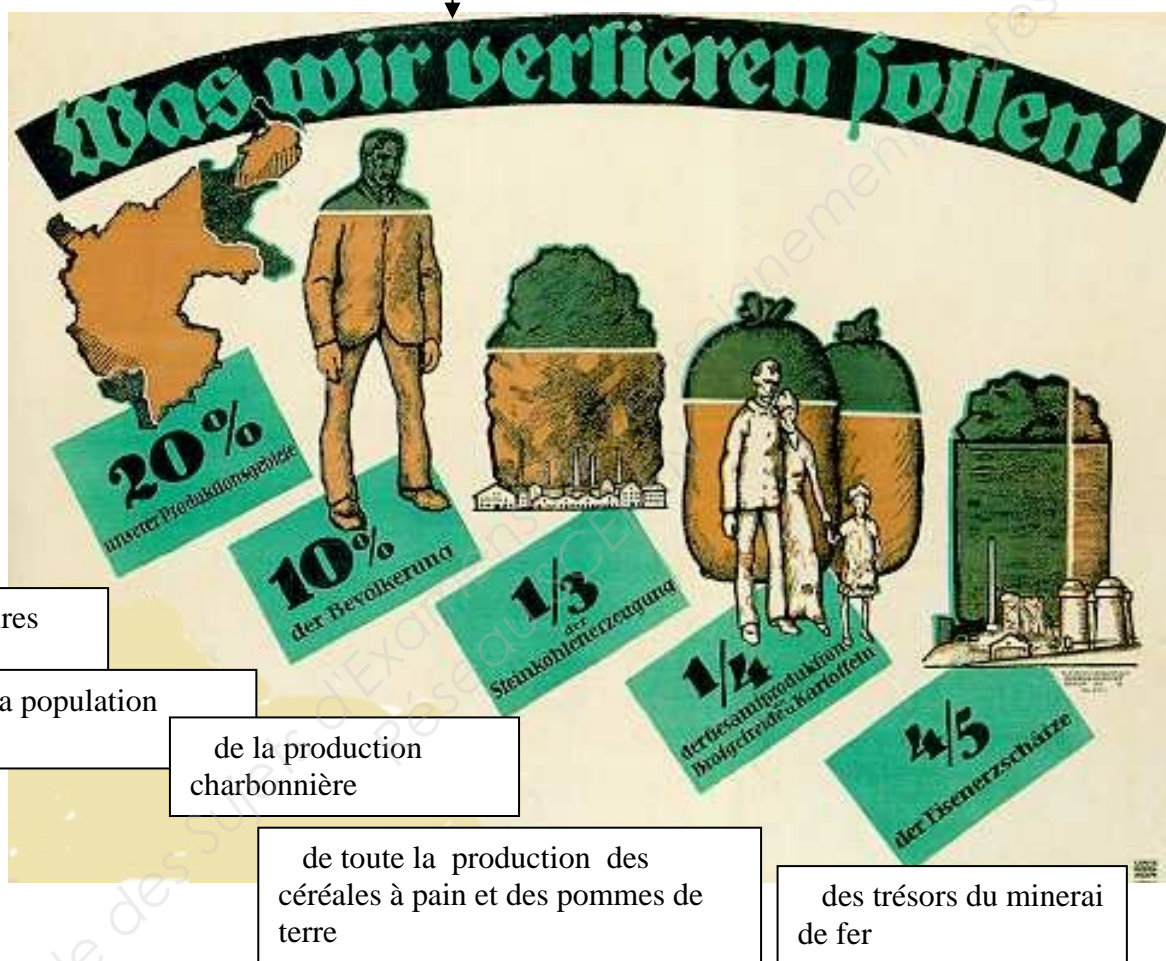
Question de synthèse : 9 points.

À partir des documents, des réponses aux questions et de vos connaissances, vous expliquerez comment nation et territoire ont évolué en Allemagne de 1919 à 1990.

DIPLOME DE TECHNICIEN DES MÉTIERS DU SPECTACLE			
SESSION JUIN 2013	Epreuve écrite E4, sous-épreuve B4 : HISTOIRE-GEOGRAPHIE		
	Durée : 1 h 30	Coefficient : 1	Page : 2/10

Document 1. Affiche allemande de 1919.

« Ce que nous devons perdre ! »



D'après une lithographie de Louis Oppenheim, 1919, 71,3 x 96 cm, © DHM, Berlin.

Document 2. Une carte postale allemande de 1938 célébrant l'Anschluss.

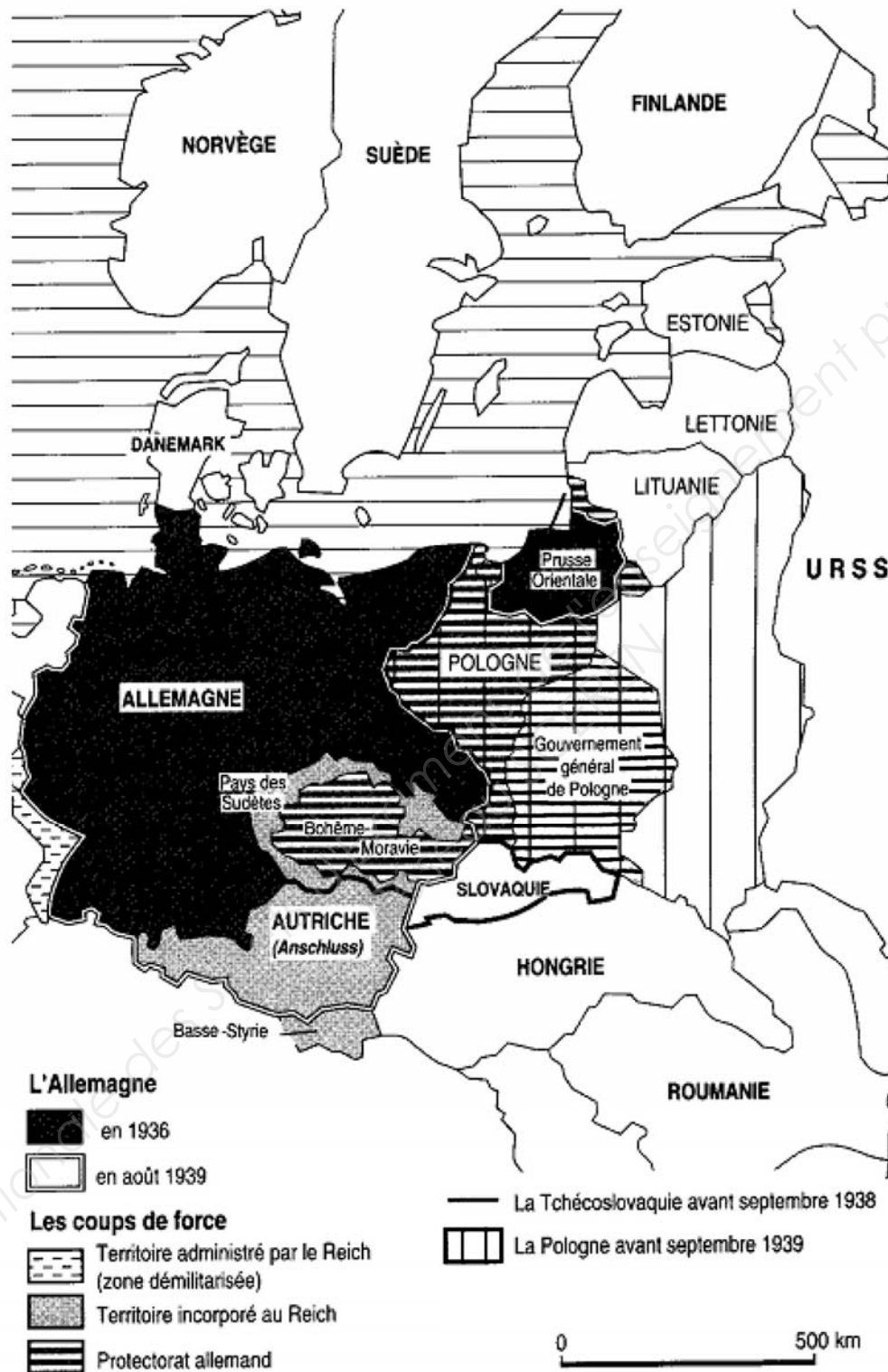


" Un peuple, un empire, un chef "

1. Wien, Innsbruck, Klagenfurt, Graz et Linz étaient auparavant des villes autrichiennes.

DIPLOME DE TECHNICIEN DES MÉTIERS DU SPECTACLE			
Epreuve écrite E4, sous-épreuve B4 : HISTOIRE-GEOGRAPHIE			
SESSION JUIN 2013	Durée : 1 h 30	Coefficient : 1	Page : 4/10

Document 3. L'Allemagne en 1942.



D'après *Histoire du XXème siècle*, S. Berstein et P. Milza, 1996.

Document 4. Commémoration des « retrouvailles » en Allemagne en 2000.

[...]

Je veux d'abord vous dire combien je suis heureux et fier de fêter avec vous ce grand moment de votre histoire et de l'histoire de toute l'Europe. Il y a onze ans, le Mur tombait, Allemands de l'Est et de l'Ouest, frères séparés dans un pays déchiré, se retrouvaient enfin. Ils lançaient le grand signal de l'émancipation et du rassemblement à toute cette partie de notre continent demeurée si longtemps interdite d'Europe. [...]

Dix ans déjà. Pourtant l'émotion demeure au souvenir de ces moments intenses, de ce bonheur indicible, qui marquèrent et suivirent la chute du Mur. L'insupportable rideau de fer qui divisait Berlin, l'Allemagne et l'Europe tout entière s'écroulait enfin. Sous les coups d'abord de celles et ceux qui, au long de ces années, dans cette partie de l'Allemagne, se dressèrent, aux prix de leur vie, pour reconquérir la liberté. L'implacable répression n'avait pu avoir raison de la conscience, de la patience, de la fierté de ces hommes et de ces femmes qui aspiraient, comme leurs frères au cœur de l'Europe, à la démocratie et à la dignité.

Ici, à Dresde, comme à Leipzig, ils eurent le courage d'opposer à l'arbitraire la force de la liberté. Ici, à Dresde, ils lancèrent : "Wir sind das Volk, nous sommes le peuple ; le peuple, c'est nous" pour proclamer ensuite : " Wir sind ein Volk, nous sommes un seul peuple". Ici, le peuple renouait avec cette tradition démocratique de la révolution de 1848¹ qui liait la liberté de l'Allemagne à son destin national. [...]

Discours de M. Jacques Chirac, Président de la République, sur la réunification de l'Allemagne et la contribution de l'Allemagne unifiée, en coopération avec la France, à la construction européenne, Dresde, Allemagne, le 3 octobre 2000.

1. La révolution de 1848 fait référence aux mouvements populaires voulant l'unité nationale, la recherche démocratique en Europe et notamment en Allemagne.

	DIPLOME DE TECHNICIEN DES MÉTIERS DU SPECTACLE		
SESSION JUIN 2013	Epreuve écrite E4, sous-épreuve B4 : HISTOIRE-GEOGRAPHIE		
	Durée : 1 h 30	Coefficient : 1	Page : 6/10

SUJET 2 : GEOGRAPHIE

LE BRICS : EMERGENCE D'UN NOUVEL ORDRE ÉCONOMIQUE MONDIAL ?

DOCUMENT 1 : Le BRICS. Photographie et tableau statistique concernant la place du BRICS dans le monde.

DOCUMENT 2 : Evolution du Produit Intérieur Brut du BRIC et du G3 entre 1980 et 2017 (prévisions).

DOCUMENT 3 : Le BRICS et la crise européenne. Chronique radiodiffusée du 13/09/2011.

DOCUMENT 4 : Derrière les beaux chiffres du BRICS. Article de presse du 2/11/2010.

QUESTIONS

Toutes vos réponses devront être rédigées. La correction de l'expression écrite sera évaluée.

DOCUMENT 1

1. Qu'est-ce que le BRICS ? Constitue-t-il un ensemble homogène ? Justifiez votre avis. (3 points)

DOCUMENT 2

2. Quelles évolutions de l'économie mondiale constatez-vous depuis 1980 ? (3 points)

DOCUMENT 3

3. Quelles sont, d'après le journaliste, les différentes motivations de l'intervention du BRICS dans la crise européenne ? (2 points)

DOCUMENT 4

4. Le journaliste écrit « [...] *On aurait tort de considérer le BRIC comme un énorme rouleau compresseur qui bouleversera l'économie mondiale [...]* ». Quels arguments avance-t-il ? (4 points)

QUESTION DE SYNTHÈSE : (8 points)

A l'aide des documents, de vos réponses et de vos connaissances, rédigez une synthèse d'une vingtaine de lignes : **vous montrerez la place des pays émergents - le BRICS - dans l'ordre économique mondial, en ce début du XXIème siècle, en mettant en évidence leurs points forts et leurs limites.**

	DIPLOME DE TECHNICIEN DES MÉTIERS DU SPECTACLE		
SESSION JUIN 2013	Epreuve écrite E4, sous-épreuve B4 : HISTOIRE-GEOGRAPHIE		
	Durée : 1 h 30	Coefficient : 1	Page : 7/10

DOCUMENT 1 : Le BRICS



LE FIGARO.fr - 29/03/2012

4^{ème} Sommet du BRICS à New-Delhi le 29/03/2012

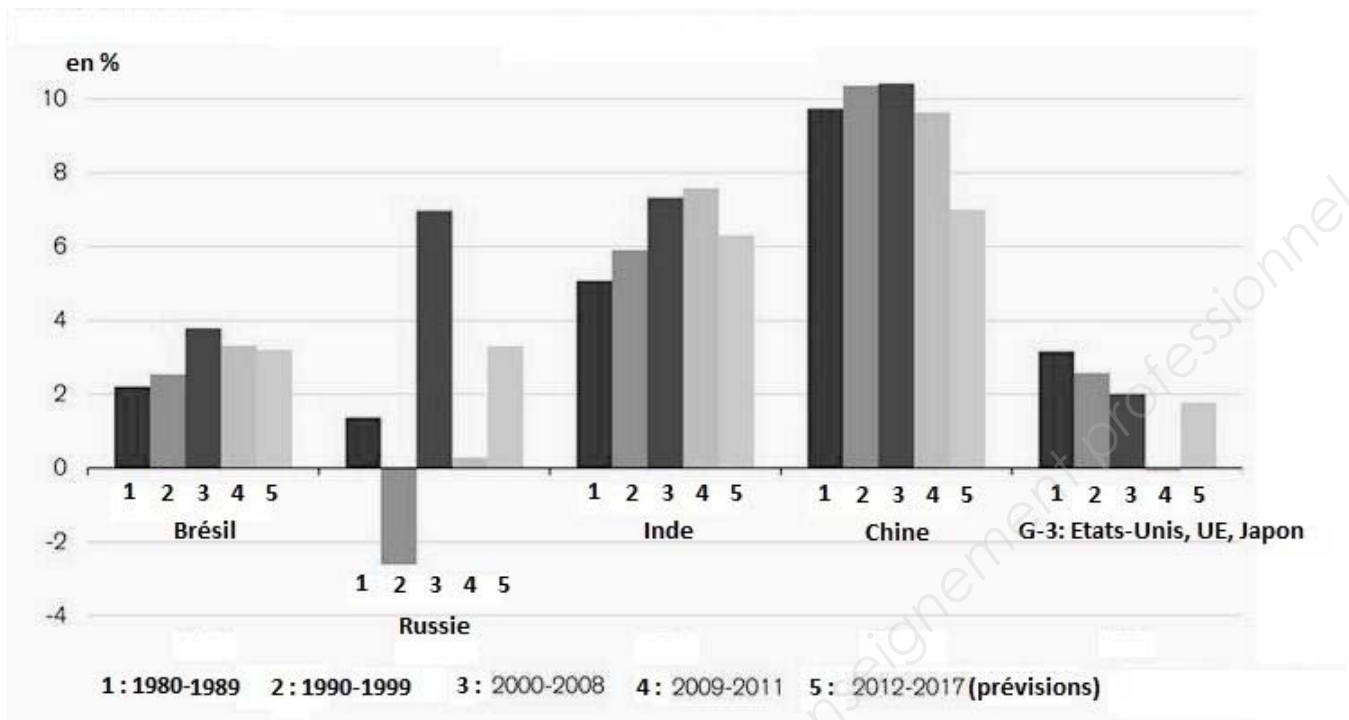
De gauche à droite : - **Dilma Rousseff**, présidente du Brésil / **Dimitri Medvedev**, président de Russie / **Manmohan Singh**, 1^{er} ministre de l'Inde / **Hu Jintao**, président de la République populaire de Chine / **Jacob Zuma**, président d'Afrique du Sud.

Quelques caractéristiques du BRICS*			
	Territoire en km²	Population (2012)	PIB / HAB en US dollars (2011)
*Brésil	8 511 965	205 716 890	11 900
*Russie	17 098 242	138 082 178	17 000
*Inde	3 287 590	1 205 073 612	3 700
*Chine	9 596 560	1 343 239 923	8 500
Afrique du Sud (*South Africa)	1 219 912	48 810 427	11 100
États-Unis	9 631 420	314 192 965	49 000
Monde	149 400 000	7 003 000 000	(2010) 9056

Sources : www.statistiques-mondiales.com / CIA World Factbook (version de Janvier 2012) sur www.indexmundi.com / Fonds monétaire international, World Economic Outlook Database (données pour l'année 2010).

SESSION JUIN 2013	DIPLOME DE TECHNICIEN DES MÉTIERS DU SPECTACLE		
	Epreuve écrite E4, sous-épreuve B4 : HISTOIRE-GEOGRAPHIE		
	Durée : 1 h 30	Coefficient : 1	Page : 8/10

DOCUMENT 2 : Évolution du Produit Intérieur Brut (en %)



Source : Bloomberg, FMI, Crédit Suisse

D'après un histogramme extrait d'un dossier intitulé Marchés émergents, daté du 14/11/2012, et proposé sur le site internet du Crédit Suisse.

DOCUMENT 3 : Le BRICS et la crise européenne

« Revenons ce matin sur la crise européenne... hier, on a vu les marchés financiers se ressaisir... les opérateurs ont visiblement été rassurés par la mobilisation internationale pour venir en aide à l'Europe. Oui, alors que la faillite de la Grèce semble ne plus faire de doute, il faut désormais penser à l'après. Il y a d'abord la mobilisation des acteurs internes à l'Europe. [...] On voit également des pays plus éloignés monter au créneau, Etats-Unis en tête. Pas plus tard que lundi soir devant le Congrès à Washington, Barack Obama a en effet déclaré que si l'Europe ne se relevait pas rapidement, ce serait toute l'économie mondiale qui en pâtirait [...] Et puis, hier, ce sont les pays émergents qui se sont invités à la table. Les fameux BRICS [...] se sont dits prêts à aider les européens englués dans la crise. On devrait en savoir plus sur leurs intentions dès la semaine prochaine. Pourquoi les BRICS s'intéressent-ils ainsi à nous, et que peuvent-ils faire pour nous aider ? Et bien c'est dans leur intérêt bien compris. D'abord, comme les Etats-Unis, ces pays savent qu'ils ont tout à perdre, sur le plan commercial, d'une déroute européenne qui leur couperait les vivres. De plus, ces pays émergents ont déjà acheté de la dette européenne. Ils veulent donc, à terme, récupérer leur mise. Et puis c'est sans compter avec les excédents financiers, les réserves de change, dont certains disposent en masse et qu'il leur faut placer (je pense notamment à la Chine qui dispose de quelque 3000 milliards de dollars). En achetant notre dette, ils placent leur argent et nous aident à surmonter notre propre crise. N'y a-t-il pas aussi une dimension politique ? Si bien sûr : ils veulent montrer qu'ils pèsent de plus en plus dans le G20... que le monde bouge et qu'il serait peut-être bon de compter enfin avec eux [...]

Emmanuel Cugny, journaliste à la radio France Infos
Chronique radiodiffusée du mardi 13/09/2011

SESSION JUIN 2013	DIPLOME DE TECHNICIEN DES MÉTIERS DU SPECTACLE		
	Epreuve écrite E4, sous-épreuve B4 : HISTOIRE-GEOGRAPHIE		
	Durée : 1 h 30	Coefficient : 1	Page : 9/10

DOCUMENT 4 : Derrière les beaux chiffres du BRIC*

[...] Au premier coup d'œil, les chiffres donnent le vertige. Les quatre pays du BRIC (Brésil, Russie, Inde, Chine) sont en train de prendre une position dominante dans l'économie mondiale. [...] Le fait est que la croissance économique des pays du BRIC, surtout ces dernières années, tient du prodige. Depuis quatre ans, le produit intérieur brut combiné des quatre pays est passé de 5,6 à 8,6 mille milliards de dollars (américains), un bond impressionnant de 53%. Pendant la même période, aux États-Unis, la progression du PIB n'atteignait que 10%.

Pourtant, on aurait tort de considérer le BRIC comme un énorme rouleau compresseur qui bouleversera l'économie mondiale, pour un certain nombre de raisons.

D'abord, une réalité : le BRIC, c'est d'abord la Chine. À elle seule, la taille de l'économie chinoise est plus importante que celles des trois autres pays réunis. Le volume des exportations chinoises dépasse également ceux du Brésil, de l'Inde et de la Russie réunis. Autrement dit, sans la Chine, le BRI ne serait qu'un trio de pays émergents ; pas parmi les plus petits, certes, mais avec un poids nettement moins important.

D'autre part, le BRIC demeure une créature floue. Ce n'est pas (du moins, pas encore) une organisation internationale structurée, on peut à peine parler d'association. Ce n'est que l'an dernier, en 2009, que les dirigeants politiques du BRIC ont convenu d'organiser leur premier sommet.

Sur les plans culturel, politique, économique et social, on peut difficilement imaginer partenaires plus mal assortis. En fait, on retrouve de tout dans ces quatre pays : l'Inde et le Brésil tiennent des élections libres, la Chine et la Russie ne font pas grand cas des droits humains ; l'économie russe, et en grande partie celle du Brésil, reposent sur l'exploitation des ressources, alors que l'Inde et la Chine comptent sur l'exportation de produits finis.

Au bout du compte, les quatre pays n'ont vraiment que deux choses en commun. La première, c'est que tous les quatre sont des économies émergentes. La seconde, c'est qu'ils sont tous minés par le fléau de la corruption. Selon le dernier classement de Transparency International*, qui fait autorité en la matière, le Brésil ne peut faire mieux qu'une 69^{ème} place (sur 178 pays étudiés) au palmarès de la corruption. Et le Brésil est le moins corrompu du groupe. La Chine arrive au 78^{ème} rang, l'Inde au 87^{ème}, et la Russie figure parmi les pires dépotoirs de corruption de la planète avec la 154^{ème} place. Ce ne sont pas précisément les endroits les plus reposants pour faire des affaires.

Malgré la rapide croissance économique, les inégalités subsistent, surtout en Chine, où on compte maintenant, le long de la côte, quelques provinces riches alors que l'intérieur du pays continue de vivre dans la misère. Même lorsque la Chine, probablement aux environs de 2020 si on en croit certaines projections, deviendra la première économie de la planète, son produit intérieur brut par habitant, exprimé en parité de pouvoir d'achat, restera quatre fois inférieur à celui des États-Unis.

Enfin et surtout, la croissance rapide des économies du BRIC, en Chine en particulier, a entraîné une importante augmentation des émissions de gaz à effet de serre. Les parcs automobiles de la Chine et de l'Inde augmentent à toute vitesse, et ce n'est pas fini : on compte actuellement 15 voitures pour 1000 habitants en Inde, 27 voitures en Chine, 200 au Brésil... contre 800 aux États-Unis. On voit le potentiel, d'autant plus que le constructeur indien Tata offre maintenant des voitures à des prix sensationnels.

Tout cela va entraîner une hausse sans précédent de la demande de pétrole. Et ce n'est pas tout : les installations industrielles des pays émergents auront de plus en plus besoin de pétrole, mais aussi de charbon, de gaz naturel, d'uranium. Il y a une limite à ce que la Terre peut fournir, et peut-être verra-t-on, bien avant 2025, la pénurie de matières premières déjouer les plus savantes prévisions.

Claude Picher ; LA PRESSE (MONTREAL, CANADA), 2/11/10.

**L'Afrique du Sud n'a intégré officiellement le BRICS qu'en 2011.*

**Transparency International est une ONG d'origine allemande ayant pour principale vocation la lutte contre la corruption*

DIPLOME DE TECHNICIEN DES MÉTIERS DU SPECTACLE			
Epreuve écrite E4, sous-épreuve B4 : HISTOIRE-GEOGRAPHIE			
SESSION JUIN 2013	Durée : 1 h 30	Coefficient : 1	Page : 10/10