


CORRIGE

Ces éléments de correction n'ont qu'une valeur indicative. Ils ne peuvent en aucun cas engager la responsabilité des autorités académiques, chaque jury est souverain.


PARTIE A : ARTS, TECHNIQUES ET CIVILISATIONS.

1) VOUS RELIEREZ ENTRE EUX LES ÉLÉMENTS QUI APPARTIENNENT À LA MÊME ÉPOQUE. 3 X 2 PTS




2) VOUS NOMMEREZ CHACUN DES MONUMENTS CI-DESSOUS ET PRÉCISEREZ QUELLE ÉTAIT LEUR FONCTION.

0,5 PT PAR BONNE RÉPONSE




PYRAMIDES DE GUIZEH

TOMBEAU



COLISÉE DE ROME

ARÈNE DE JEUX




PORTE D' ISHTAR

ENTRÉE DE VILLE

3) VOUS DONNEREZ LE NOM DE CHACUN DES ÉLÉMENTS ARCHITECTURAUX SUIVANTS.

0,5 PT PAR BONNE RÉPONSE




A

A *ROSE OU ROSACE*




B

B *ARC -BOUTANT*




C

C *GARGUILLE*



D

D *FRONTON*




E


E *CARIATIDE*

Examen : CAP STAFFEUR ORNEMANISTE	CORRIGÉ	Durée : 3h	Session : 2013
Epreuve : EP1 ARTS APPLIQUÉS – Partie A	Code : 5023311	Coeff : 12 (avec Réalisation)	Page : 1/2

4) A QUEL STYLE CES SIÈGES APPARTIENNENT-ILS ? 2 X 0,5 PT



A LOUIS XV




B LOUIS XIV

VOUS DÉCRIREZ POUR CHACUN D'ENTRE EUX LEURS CARACTÉRISTIQUES : LIGNES, FORMES, MATÉRIAUX, MOTIFS ET COULEURS. 2 X 1,5 PT

A LIGNES COURBES, FORMES ARRONDIES ET SOUPLES, BOIS PEINT EN BLANC ET TISSU VERT PASTEL AVEC RÉPÉTITION D'UN MOTIF RÉGULIER ET DISCRET

B LIGNES À ANGLES DROITS, FORMES TORSADÉES, BOIS DE COULEUR NATURELLE BRUN FONÇÉ TAPISSERIE COMPORTANT DES FRANGES ET À MOTIFS DE FLEURS DANS DES TONS ORAGES ET VERTS



5) CE MOTIF DÉCORATIF EST REPRÉSENTATIF D'UN STYLE ET D'UNE ÉPOQUE, VOUS DONNEREZ LE NOM DE CE MOUVEMENT.

IL S'AGIT DU STYLE ROCAILLE. 1 PT

QUELLE EST LA PRINCIPALE SOURCE D'INSPIRATION DE CE STYLE ? CE SONT LES FORMES VÉGÉTALES. 1 PT

6) COMMENT CE MONUMENT (D) SE NOMME-T-IL ? 1 PT


L'ARC DE TRIOMPHE DE L'ÉTOILE

QUELLE EST SA FONCTION ? 0,5 PT


MONUMENT MILITAIRE

SUR QUELLE PLACE EST-IL SITUÉ ? 0,5 PT

IL EST SITUÉ PLACE DE L'ÉTOILE



D



E

7) A QUEL MOUVEMENT CETTE PORTE (E) PEUT-ELLE ÊTRE APPARENTÉE ? 1 PT

AU MOUVEMENT ART NOUVEAU

COMMENT POUVEZ-VOUS DÉCRIRE LES FORMES EMPLOYÉES ? 1 PT

CE SONT DES LIGNES SINUEUSES ET ONDULÉES QUI S'INSPIRENT DE LA NATURE, LES FORMES SONT ASYMÉTRIQUES

Examen : CAP STAFFEUR ORNEMANISTE	CORRIGÉ	Durée : 3h	Session : 2013
Epreuve : EP1 ARTS APPLIQUÉS - Partie A	Code : 5023311	Coeff : 12 (avec Réalisation)	Page : 2/2