



SERVICES CULTURE ÉDITIONS
RESSOURCES POUR
L'ÉDUCATION NATIONALE

**Ce document a été mis en ligne par le CRDP de Strasbourg pour la
Base Nationale des Sujets d'Examens de l'enseignement professionnel**

Ce fichier numérique ne peut être reproduit, représenté, adapté ou traduit sans autorisation.

Partie A : ARTS, TECHNIQUES ET CIVILISATIONS.


1) Vous reliez entre eux les éléments qui appartiennent à la même époque.

2) Vous numérez chacun des monuments ci-dessous et précisez quelle était leur fonction.


3) Vous donnez le nom de chacun des éléments architecturaux suivants : gargouille, arc-boutant, fronton, cariatide, rose.

IMPORTANT : POUR L'ANONYMAT, INSÉRER CE DOSSIER DANS UNE COPIE EN.

4) À quel style ces sièges appartiennent-ils ? Empire Louis XIV Louis XV ?



A.....



B.....

Vous décrivez pour chacun d'entre eux leurs caractéristiques : lignes, formes, matériaux, motifs et couleurs.

A.....

B.....




5) Ce motif décoratif est représentatif d'un style et d'une époque, vous donnez le nom de ce mouvement.

Quelle est la principale source d'inspiration de ce style ?

6) Comment ce monument (D) se nomme-t-il ?

Quelle est sa fonction ?

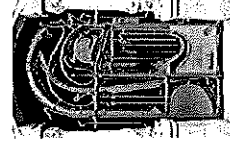
Sur quelle place est-il situé ?



D

7) A quel mouvement cette porte (E) peut-elle être apparentée ? Art décoratif art nouveau baroque ?

Comment pouvez-vous décrire les formes employées ?



E

Examen : CAP STAFFEUR ORNEMANISTE	SUJET	Durée : 3h	Session : 2013
Epreuve : EPI ARTS APPLIQUÉS	Code : 5023311	Coef : 12 (avec Réalisation)	Page : 1/5

Héraldique


L'héraldique étudie les armoiries qui sont les emblèmes de communautés et de familles. Elle est apparue au 13^{ème} siècle et constitue un art par l'extrême richesse de son écriture et de sa symbolique.

En observant les visuels représentés ci-contre et dans les cases prévues à cet effet :


- 1) Vous exprimerez par un schéma les lignes principales qui structurent la composition de chacune des armoiries.
- 2) Vous effectuerez un relevé graphique de trois éléments symboliques caractéristiques de chaque blason et vous les nommerez.

Utilisation du crayon noir uniquement.


Composition	Relevé graphique
1 Schéma	1
2	2
3	3



1




2




3

Partie B : analyse


Examen : CAP STAFFEUR ORNEMANISTE	SUJET	Durée : 3h	Session : 2013
Epreuve : EP1 ARTS APPLIQUÉS	Code : 5023311	Coef. : 12 (avec Réalisation)	Page : 2/5




Nantes



Brest



Tours



Examen : CAP STAFFEUR ORNEMANISTE	SUJET	Durée : 3h	Session : 2013
Epreuve : EP1 ARTS APPLIQUÉS	Code : 5023311	Coef : 12 (avec Réalisation)	Page : 3/5

Partie C : réalisation

Ligne verte Une des lignes du TGV Atlantique qui conduit en Bretagne dessert les villes de Tours, Nantes et Brest.

Afin de mettre en valeur les qualités écologiques du mode de transport rapide que représente le train, il est demandé de réaliser en staff plusieurs éléments décoratifs qui figureront dans la gare Montparnasse, point de départ de cette ligne.

Cahier des charges

- Un élément représentatif de chacune des armoiries des villes desservies (planche A) figurera sur les propositions.
- L'ensemble de ces éléments (3), chacun étant différent, sera associé à des représentations issues de la nature (feuillages), la planche a vous servant de base d'inspiration.
- Vous travaillerez pour chacune de vos réalisations, en associant les deux types d'éléments (Armoirie et nature).

2 phases

1) Réalisation de deux propositions (recherches) pour le grand panneau rectangulaire ainsi que pour le panneau circulaire.



2) Sélection et développement d'une des propositions.

Vous disposerez des outils suivants:



Pour les recherches : crayon noir.
Pour la proposition finale : crayons et feutres de couleurs.

Recherches

Recherches



Examen : CAP STAFFEUR ORNEMANISTE	SUJET	Durée : 3h	Session : 2013
Epreuve : EPI ARTS APPLIQUÉS	Code : 5023311	Coef : 12 (avec Réalisation)	Page : 4/5



Base Nationale des Sujets d'Examens de l'enseignement professionnel
Réseau SCEREN

Examen : CAP STAFFEUR ORNEMANISTE	SUJET	Durée : 3h	Session : 2013
Epreuve : EP1 ARTS APPLIQUÉS	Code : 50233311	Coef : 12 (avec Réalisation)	Page : 5/5