



SERVICES CULTURE ÉDITIONS
RESSOURCES POUR
L'ÉDUCATION NATIONALE

**Ce document a été numérisé par le CRDP de Montpellier pour la
Base Nationale des Sujets d'Examens de l'enseignement professionnel**

Ce fichier numérique ne peut être reproduit, représenté, adapté ou traduit sans autorisation.

DANS CE CADRE

NE RIEN ÉCRIRE

Académie :	Session :
Examen :	Série :
Spécialité/option :	Repère de l'épreuve :
Epreuve/sous épreuve :	
NOM :	
(en majuscule, suivi s'il y a lieu, du nom d'épouse)	
Prénoms :	N° du candidat <input type="text"/>
Né(e) le :	(le numéro est celui qui figure sur la convocation ou liste d'appel)

Appréciation du correcteur

Note :

Il est interdit aux candidats de signer leur composition ou d'y mettre un signe quelconque pouvant indiquer sa provenance.

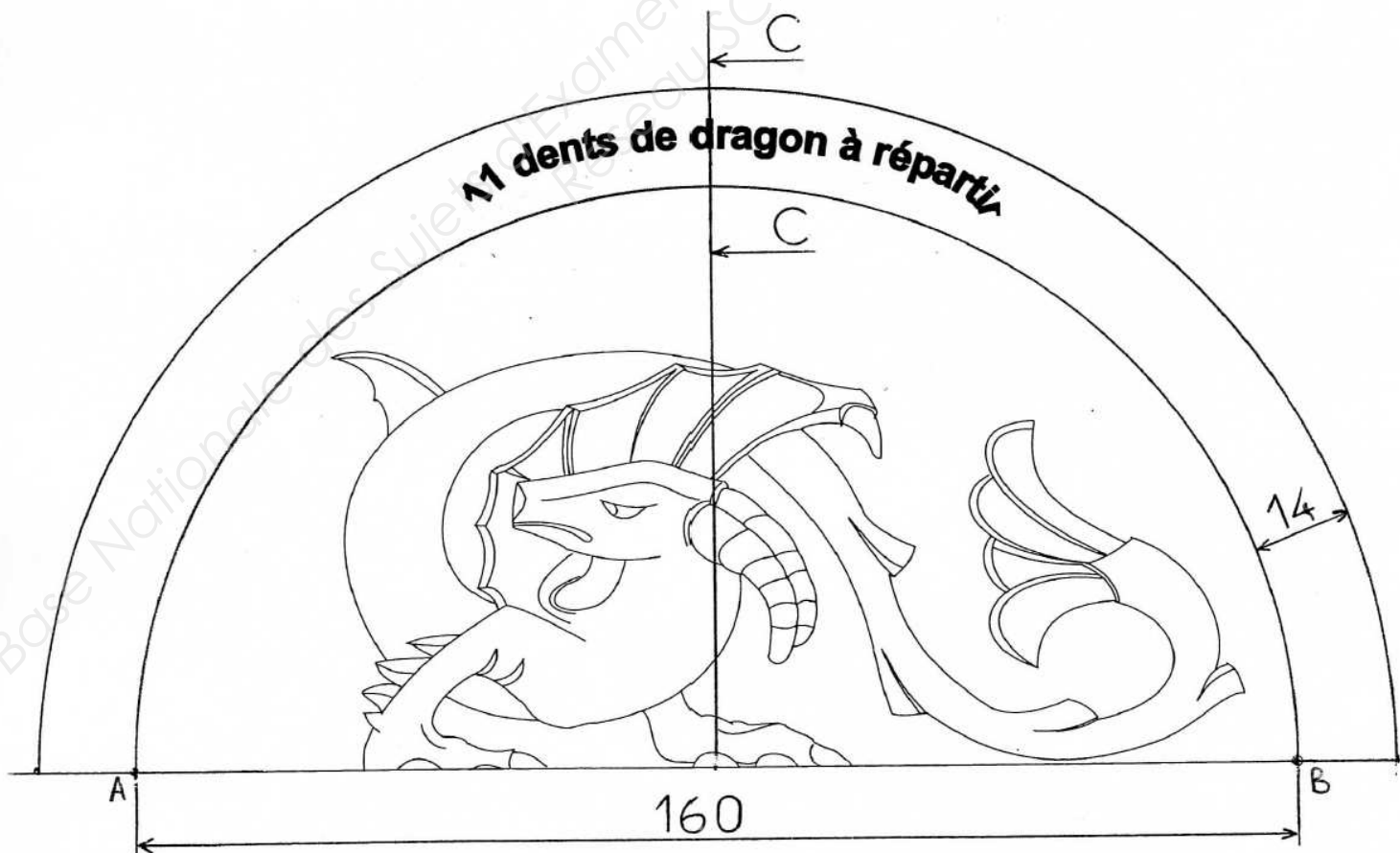
Le sujet se compose de 3 pages numérotées de 1/3 à 3/3.
Dès que le sujet vous est remis, assurez-vous qu'il est complet

Calculatrice autorisée, conformément à la circulaire 99-186 du 16 novembre 1999.

LE SUJET EST À RENDRE DANS SONS INTÉGRALITÉ

SUJET

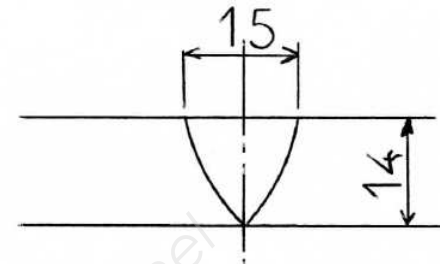
« Dragon roman »



CAP ARTS DU BOIS Options A – SCULPTEUR ORNEMANISTE	SUJET	Durée : 1 heure 30	Session 2013
EPREUVE EP2 : DESSIN EP2 B : DESSIN TECHNIQUE	Code : 500 234 30	Coef. : 1	Page 1 / 3

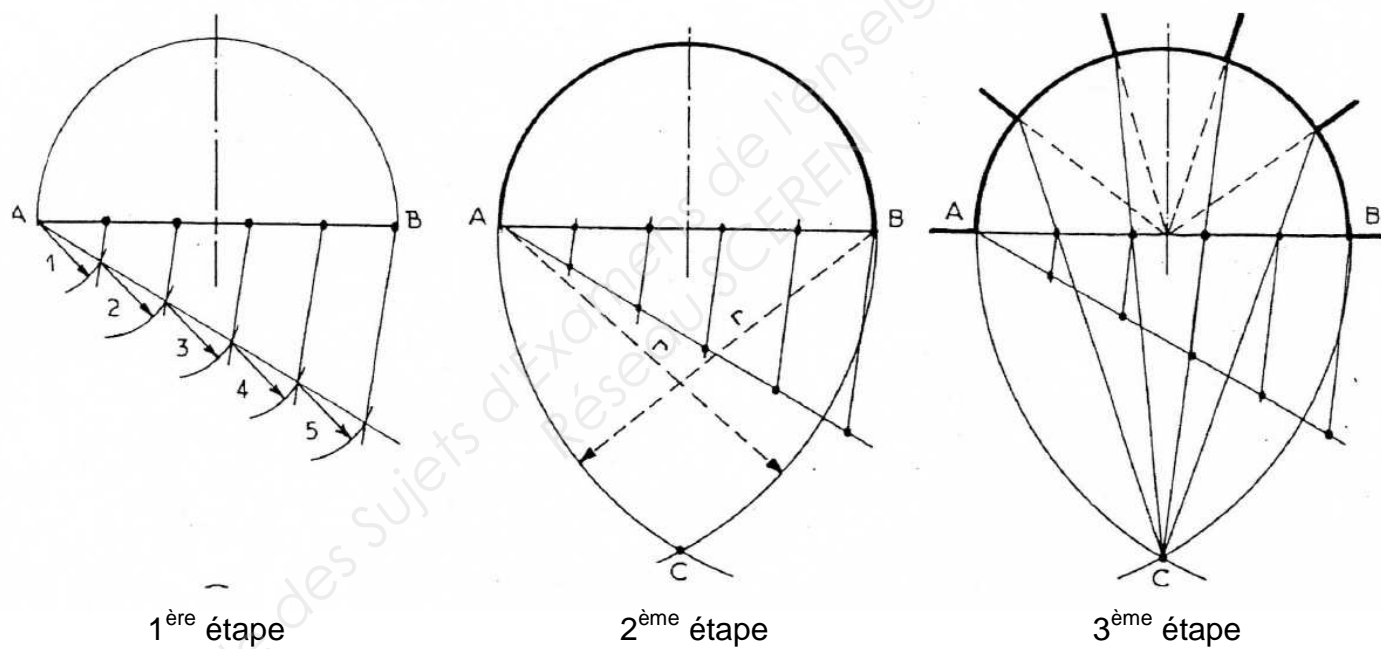
NE RIEN ÉCRIRE DANS CETTE PARTIE

Mise en situation : Pour agrémenter la sculpture du dragon roman page 1/3, le client vous demande de proposer une frise en demi-cercle avec 11 « dents de dragon », réparties proportionnellement sur le contour et avec des dimensions respectant le modèle échelle 1 : 1 ci-contre.



Travail demandé :

1 – Vous complèterez, au crayon, le document à rendre (échelle 1 : 1) fourni en page 3/3 en traçant la frise en demi-cercle et les 11 dents de dragon, réparties parfaitement. Vous pouvez vous aider du schéma méthode ci-dessous : (exemple pour 5 espaces donc 4 dents à tracer, à adapter pour les 11 dents demandées par l'énoncé).



Vous devez laisser les étapes de tracés apparents, en trait fin, au crayon.

2- Vous dessinerez la section rabattue CC à l'échelle 1 : 1 d'une épaisseur de 10 mm, afin de détailler la dent de dragon centrale.

Barème de notation sur 20 points :

Justesse du tracé de la frise, précision	4 points
Tracé des 11 motifs, répartition	10 points
Tracé de la section rabattue CC	4 points
Propreté	2 points

CAP ARTS DU BOIS Option A – SCULPTEUR ORNEMANISTE		SUJET	Durée : 1 heure 30	Session 2013
EPREUVE EP2 : DESSIN	EP2 B : DESSIN TECHNIQUE	Code : 500 234 30	Coef. : 1	Page 2 / 3

NE RIEN ÉCRIRE DANS CETTE PARTIE



CAP ARTS DU BOIS Option A – SCULPTEUR ORNEMANISTE	SUJET	Durée : 1 heure 30	Session 2013
EPREUVE EP2 : DESSIN EP2 B : DESSIN TECHNIQUE	Code : 500 234 30	Coef. : 1	Page 3 / 3