



**LE RÉSEAU DE CRÉATION
ET D'ACCOMPAGNEMENT PÉDAGOGIQUES**

**Ce document a été mis en ligne par le Canopé de l'académie de Montpellier
pour la Base Nationale des Sujets d'Examens de l'enseignement professionnel.**

Ce fichier numérique ne peut être reproduit, représenté, adapté ou traduit sans autorisation.

Brevet d'Etudes Professionnelles Spécialité

ETUDES du BATIMENT

Session



EPREUVE EP2

UP2

**EPREUVE DE FINALISATION D'UN DOSSIER, PREPARATION
ET SUIVI DE REALISATION**

DOSSIER REPONSES


SOMMAIRE

DOSSIER REPONSES

Pages DR 1.1, DR 1.2, DR2, DR 3, DR 4, DR 5.1
Page DR 5.2 et DR6 ajoutés par le candidat

Brevet d'Etudes Professionnelles Spécialité ETUDES du BATIMENT	Maison à Ossature Bois dans le Périgord		
	EPREUVE EP2 : EPREUVE DE FINALISATION DU DOSSIER, PREPARATION ET SUIVI DE REALISATION		DOSSIER REPONSES
Session 2014	DUREE : 6 H 00	COEFFICIENT : 8	1/7

RELEVÉ D'UN LOCAL



DR1.1

Brevet d'Etudes Professionnelles Spécialité ETUDES du BATIMENT	Maison à Ossature Bois dans le Périgord		
	EPREUVE EP2 : EPREUVE DE FINALISATION DU DOSSIER, PREPARATION ET SUIVI DE REALISATION		DOSSIER REPONSES
Session 2014	DUREE : 6 H 00	COEFFICIENT : 8	2/7

NOTICE DESCRIPTIVE

FONCTION DE L'OUVRAGE :

ETAT DES LIEUX DE L'OUVRAGE :

SOLS

MURS

PLAFONDS

OBSERVATIONS DIVERSES

Base Nationale des Sujets d'Examens de l'enseignement professionnel
Réseau Canopé

DR1.2

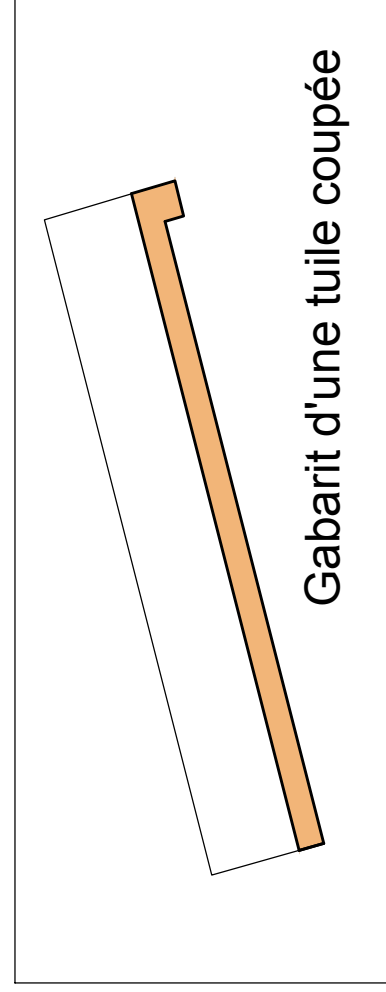
Brevet d'Etudes Professionnelles Spécialité ETUDES du BATIMENT	Maison à Ossature Bois dans le Périgord		
	EPREUVE EP2 : EPREUVE DE FINALISATION DU DOSSIER, PREPARATION ET SUIVI DE REALISATION		DOSSIER REPONSES
Session 2014	DUREE : 6 H 00	COEFFICIENT : 8	3/7

Fermacell 12,5 mm

Bardage mélèze + lattage

Chevron

Panne



Echelle : 1/5

DR2

Brevet d'Etudes Professionnelles Spécialité ETUDES du BATIMENT	Maison à Ossature Bois dans le Périgord		
SESSION 2014	EPREUVE EP2 : EPREUVE DE FINALISATION DU DOSSIER PREPARATION ET SUIVI DE REALISATION		
	DOSSIER REPONSES		
	DUREE : 6 H 00	COEFFICIENT : 8	4/7

DOCUMENTS DE RECEPTION

1. Définir une réception de travaux :

.....

.....

.....

2. Quels sont les effets de la réception de travaux ?

.....

.....

.....

3. Quelle est la différence entre les 2 documents présentés sur la page **DT 2** ?

.....

.....

.....

.....

.....

4. **DT 2** : Quelle procédure le Maître d’Ouvrage a-t-il suivi pour les Lots 2 et 4 ?
Ces lots ont-ils fait l’objet de réserves ?

.....

.....

.....

.....

.....

5. **DT 3** : La réception du Lot 5 a-t-elle fait l’objet de réserves ? Si oui, citer 4 points

.....

.....

.....

.....

6. A quelle date l’entreprise doit-elle avoir exécuté les travaux permettant la levée des réserves ?

DR 4

Brevet d’Etudes Professionnelles Spécialité ETUDES du BATIMENT	Maison à Ossature Bois dans le Périgord		
	EPREUVE EP2 : EPREUVE DE FINALISATION DU DOSSIER, PREPARATION ET SUIVI DE REALISATION		DOSSIER REPONSES
Session 2014	DUREE : 6 H 00	COEFFICIENT : 8	6/7

CARACTERISTIQUES DE L'ESCALIER BOIS

1. Calculer la hauteur **H** à franchir ?

H =

2. Identifier le nombre de **h**auteurs de marche de cet escalier ?

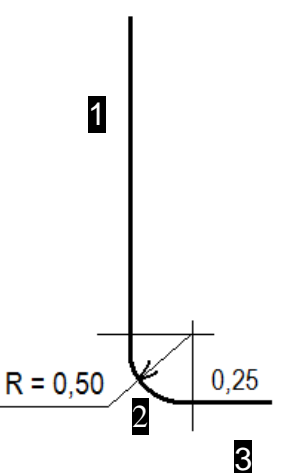
3. Calculer la valeur de cette **h**auteur de marche ? (en cm, à 1 décimale)

h =

4. Où se situe la ligne de foulée sur l'escalier ?

.....

5. Etant donnée la forme de la ligne de foulée, calculer sa longueur :



1

2

3

TOTAL =

6. Combien y a-t-il de **G**irons ?.....

7. Calculer la valeur d'un **G**iron :

G =

.....

8. A partir de la *Formule de BLONDEL*, qualifieriez-vous cet escalier de « confortable » ? Justifiez votre réponse.

.....

.....

.....

DR5.1

Brevet d'Etudes Professionnelles Spécialité ETUDES du BATIMENT	Maison à Ossature Bois dans le Périgord		
	EPREUVE EP2 : EPREUVE DE FINALISATION DU DOSSIER, PREPARATION ET SUIVI DE REALISATION		DOSSIER REPONSES
Session 2014	DUREE : 6 H 00	COEFFICIENT : 8	7/7