



**LE RÉSEAU DE CRÉATION
ET D'ACCOMPAGNEMENT PÉDAGOGIQUES**

**Ce document a été mis en ligne par le Canopé de l'académie de Montpellier
pour la Base Nationale des Sujets d'Examens de l'enseignement professionnel.**

Ce fichier numérique ne peut être reproduit, représenté, adapté ou traduit sans autorisation.

SESSION 2015

Baccalauréat professionnel

CONDUCTEUR TRANSPORT ROUTIER MARCHANDISES

DOSSIER SUJET

E2 - ÉTUDE DE CAS

Préparation d'une activité de transport routier

Il est demandé aux candidat(e)s :

- de ne pas dégrafer les feuilles ;
- de prendre connaissance des documents remis ;
- d'effectuer le travail sur le dossier « sujet » ;
- de vérifier que toutes les feuilles sont remplies à la fin de l'épreuve.

Sommaire

Dossier SUJET pages 1 à 16

Compétences visées : C1.3 – C2.1 – C2.2 – C2.3 – C2.4 – C2.5

Documents et matériels nécessaires et/ou autorisés

- | | |
|---|---|
| <input checked="" type="checkbox"/> Calculatrice | <input type="checkbox"/> Carte d'Europe |
| <input checked="" type="checkbox"/> Stylos de couleur | <input type="checkbox"/> Atlas routier France |
| <input type="checkbox"/> Carte de France | <input type="checkbox"/> Atlas routier Europe |

Ce document est remis dans sa totalité en fin d'épreuve.

BAC PRO CONDUCTEUR TRANSPORT ROUTIER MARCHANDISES	Session 2015	SUJET
E2 – ÉTUDE DE CAS : préparation d'une activité de transport routier	Durée : 3 h	1 / 16
Code épreuve : 1506-CTR T 2	Coefficient : 3	

MISE EN SITUATION

Vous êtes conducteur routier, dénommé Pascal DULONG, employé depuis 6 ans dans l'entreprise de transport public suivante :

TRANSPORTS GME **Le spécialiste du transport**

Adresse : ZAC DE LA COBRELLE
CHAVELOT
88155 THAON LES VOSGES
Tél : +33 (0)3 29 68 10 10
Fax : +33 (0)3 29 31 15 67



Les transports GME, société originaire de l'Est de la France depuis 1882, dont le siège social est à THAON-LES-VOSGES, assure les transports dans toute l'Europe. Ils proposent :

- le transport par route en Europe ;
- le transport multimodal ;
- les activités logistiques ;
- les activités auxiliaires.

Les caractéristiques du véhicule qui vous est affecté sont dans le dossier ressources page 3.

Ce lundi, après avoir effectué un transport le matin, vous vous présentez au service exploitation de l'entreprise à 14 heures, votre responsable vous donne votre ordre de mission (dossier ressources p. 2).

BAC PRO CONDUCTEUR TRANSPORT ROUTIER MARCHANDISES	Session 2015	SUJET
E2 – ÉTUDE DE CAS : préparation d'une activité de transport routier	Durée : 3 h	2 /16
Code épreuve : 1506-CTR T 2	Coefficient : 3	

DOSSIER TRAVAIL

Vous devez laisser votre semi-remorque à l'atelier afin d'effectuer des réparations.

Question 1 :

On vous demande de choisir l'une des 2 semi-remorques disponibles sur le parc, celle qui sera comptable avec le chargement (dossier ressources pp. 4 et 5).

Justifiez clairement votre choix.

Critères de réussite

La compatibilité est clairement et correctement contrôlée au niveau :

- du type du véhicule ;
- des poids.

Réponse

BAC PRO CONDUCTEUR TRANSPORT ROUTIER MARCHANDISES	Session 2015	SUJET
E2 – ÉTUDE DE CAS : préparation d'une activité de transport routier	Durée : 3 h	3 /16
Code épreuve : 1506-CTR T 2	Coefficient : 3	

Après avoir choisi votre remorque, vous contrôlez la conformité du véhicule par rapport à la visite technique.

Question 2

Complétez le tableau ci-dessous.

Critères de réussite
<i>La vérification est complète et sans erreur.</i>

	Conforme à ce jour (oui / non)	Date limite de validité :
Tracteur		
Semi-remorque		

Vous êtes chez votre client, vous avez terminé de charger et d'arrimer les 25 bobines de papier.

Question 3

Sélectionnez et complétez le document de transport (pages 5 ou 6), tel qu'il devrait l'être en partant de chez l'expéditeur.


Critères de réussite
<i>Le choix du document de transport est correct.</i>
<i>L'ensemble des rubriques est complété avec exactitude.</i>

BAC PRO CONDUCTEUR TRANSPORT ROUTIER MARCHANDISES	Session 2015	SUJET
E2 – ÉTUDE DE CAS : préparation d'une activité de transport routier	Durée : 3 h	4 /16
Code épreuve : 1506-CTR T 2	Coefficient : 3	

LETTRE DE VOITURE NATIONALE

005076

DATE : _____

TRANSPORTEUR CARRIER	INSTRUCTIONS INSTRUCTIONS		DONNEUR D'ORDRE PRINCIPAL	
 <p>Transports et Auxiliaires ZAC de la Cobrelle - CHAVELOT 88155 THAON-LES-VOSGES Cedex Tél. 03 29 68 10 10 Fax 03 29 31 15 67 S.A. à directoire et conseil de surveillance au capital de 3 780 000 € Siret 305 751 778 00021 - APE 4941A N° TVA : FR 66 305751778</p>	Conducteur Driver : _____ MAT : _____		Donneur d'ordre : _____ <small>Name</small>	
	DISTANCE : _____		Adresse : _____ <small>Headquarter address</small>	
	IMMAT. : _____		Tél. : _____ Fax : _____	
	CODE : _____		Commande du / / 20 Confirmé : lettre - fax - mail* Date et heure d'arrivée demandées <small>Wanted date and time for delivery</small> au (dé)chargement : le / / 20 à h *rayer les mentions inutiles	
Formalités Douane Customs formalities : _____				
NOMBRE	NATURE DES MARCHANDISES		POIDS - VOLUME - LONGUEUR	
<small>Number</small>	<small>Nature of the Goods</small>		<small>Weight</small>	<small>Running meter</small>
			Prévu	Réel
DOCUMENTS ANNEXES à la lettre de voiture <small>Documents attached</small>				
MARCHANDISES	DANGEREUSES <input type="checkbox"/>	N° ONU : UN	GROUPE D'EMBALLAGE	
SUPPORTS DE MANUTENTION				
Palettes 80x120 <input type="checkbox"/>	100x120 <input type="checkbox"/>	Europe <input type="checkbox"/>	Type	
Rolls <input type="checkbox"/>	Bacs <input type="checkbox"/>	Autres _____	Palettes 80x120 <input type="checkbox"/>	
Rolls <input type="checkbox"/>	Bacs <input type="checkbox"/>	Autres _____	Rolls <input type="checkbox"/>	
Enlevés <input type="checkbox"/>	Rendus <input type="checkbox"/>	Mouvements	Livrés <input type="checkbox"/>	
Tackled away	Given back		Repris <input type="checkbox"/>	
Tackled away	Given back		Tackled back	
CHARGEMENT LOADING	DOCUMENT DE SUIVI FOLLOW UP DOCUMENT		DÉCHARGEMENT DELIVERY	
Raison sociale : _____ <small>Name</small>	Raison sociale : _____ <small>Name</small>		Raison sociale : _____ <small>Name</small>	
Adresse : _____ <small>Address</small>	Adresse : _____ <small>Address</small>		Adresse : _____ <small>Address</small>	
Ville : _____	Dépt. : _____	Ville : _____		Dépt. : _____
<small>City</small>	<small>Area code</small>	<small>City</small>		<small>Area code</small>
Pays : _____ <small>Country</small>	Pays : _____ <small>Country</small>		Pays : _____ <small>Country</small>	
Date : _____	Arrivée prévue : _____ h	Date : _____		Arrivée prévue : _____ h
<small>Date</small>	<small>Arrival</small>	<small>Date</small>		<small>Arrival</small>
Arrivée réelle : le / / 20 à h	Arrivée réelle : le / / 20 à h		Arrivée réelle : le / / 20 à h	
<small>Date and time of departure</small>	<small>Date and time of departure</small>		<small>Date and time of departure</small>	
Départ du véhicule chargé libéré : le / / 20 à h	Départ du véhicule libéré : le / / 20 à h		Départ du véhicule libéré : le / / 20 à h	
<small>Date and time of departure</small>	<small>Date and time of departure</small>		<small>Date and time of departure</small>	
Observations ou réserves : _____ <small>Observations or reservations</small>	Observations ou réserves : _____ <small>Observations or reservations</small>		Observations ou réserves : _____ <small>Observations or reservations</small>	
Le Conducteur : _____ <small>Driver</small>	Le Remettant : _____ <small>Sender</small>	Le Conducteur : _____ <small>Driver</small>	Le Destinataire : _____ <small>Consignee</small>	
<small>(signature et identification)</small>	<small>(signature et identification obligatoires)</small>	<small>(signature et identification)</small>	<small>(signature et identification obligatoires)</small>	
Prestations annexes prévues : _____ <small>Planned extra services</small>	Prestations annexes prévues : _____ <small>Planned extra services</small>		Prestations annexes prévues : _____ <small>Planned extra services</small>	
Non prévues : _____ <small>No planned extra services</small>	Non prévues : _____ <small>No planned extra services</small>		Non prévues : _____ <small>No planned extra services</small>	
Le refus de signer non motivé par le remettant, le destinataire, engage leur responsabilité. Any unjustified refusal to sign involve the sender or the consignee's liability.				

EXEMPLAIRE VERT (EXPÉDITEUR Sendeur) - JAUNE (Expéditeur) (TRANSPORTEUR Carrier) - ROSE (Pink) (LIVRAISON Delivery) - BLEU (Blue) (CONTRÔLE Control) - BLANC (White) (SOUCHE Carrier)

BAC PRO CONDUCTEUR TRANSPORT ROUTIER MARCHANDISES	Session 2015	SUJET
E2 – ÉTUDE DE CAS : préparation d'une activité de transport routier	Durée : 3 h	5 / 16
Code épreuve : 1506-CTR T 2	Coefficient : 3	

1 Exemple de l'expéditeur

Copy for shipper

NT - E 0185366

LETTRE DE VOITURE INTERNATIONALE INTERNATIONAL CONSIGNMENT NOTE

CMR

DROIT DE
TIMBRE PAYE SUR
ETAT
Autorisation du
13-avr-93

Ce transport est soumis, nonobstant toute clause contraire, à la convention relative au contrat de transport international de marchandises par route (CMR)

This carriage is subject, notwithstanding any clause to the contrary, to the Convention on the contract for the international Carriage of goods by road (CMR)

1 Expéditeur (nom, adresse, pays) Sender (name, address, contry)				16 Transporteur (nom, adresse, pays) Carrier (name, address, pays)			
2 Destinataire (nom, adresse, pays) Consignee (name, address, contry)				GME TRANSPORT ZAC DE LA COBRELLE FR - 88155 THAON LES VOSGES			
3 Lieu prévu pour la livraison de la marchandise (lieu, pays) Place of delivery of the goods (place, contry)				Immat. Remorque :			
4 Lieu et date de la prise en charge de la marchandise (lieu, pays, date) Place and date of taking over the goods (place, country, date)				17 Transporteur successifs (nom, adresse, pays) Successive carrier (name, address, country)			
5 Documents annexés Documents attached				18 Réserves et observations du transporteur Carrier's reservations and observations			
6 Marques et numéros Marks and Nos	7 Nombre de colis Number of packages	8 Mode d'emballage Method of packing	9 Nature de la marchandise Nature of the goods	10 N° statistique Statistical number	11 Poids brut, Kg Gross weight in KG	12 Cubage m ³ Volume in m ³	
Classe Class			Chiffre Number	Lettre Letter	(ADR)*		
13 Instructions de l'expéditeur Sender's instructions				19 Conventions particulières Special agreements			
14 Prescriptions d'affranchissement Instructions as to payment for carriage				20 A payer par To be paid by			
<input type="checkbox"/> Franco / Carriage paid <input type="checkbox"/> Non Franco / Carriage forward				Expéditeur Sender		Monnaie / Currency	
				Destinataire Consignee			
21 Etablie à Established in				le on		20	
				15 Remboursement / Cash on delivery			
22				23		24 Marchandises reçues / Goods received	
Signature et timbre de l'expéditeur Signature and stamp of the sender				Signature et timbre du transporteur Signature and stamp of the carrier		Signature et timbre du destinataire Signature and stamp of the consignee	

Les parties encadrées de lignes grasses doivent être remplies par le transporteur
The space framed with heavy lines must be filled in by the carrier

Y compris et incluant au 19 + 21 + 22.

A remplir sous la responsabilité de l'expéditeur
To be completed on the sender's responsibility

In case of dangerous goods mention, besides the possible certification, on the last line of the column the particulars of the class, the number and the letter, if any.

BAC PRO		Session 2015	SUJET
CONDUCTEUR TRANSPORT ROUTIER MARCHANDISES		Durée : 3 h	6 / 16
E2 – ÉTUDE DE CAS : préparation d'une activité de transport routier		Coefficient : 3	
Code épreuve : 1506-CTR T 2			

Question 4

À qui reviennent les différents feuillets du document de transport ?

Critères de réussite
<i>Les différents services sont nommés.</i>

Réponse

BAC PRO CONDUCTEUR TRANSPORT ROUTIER MARCHANDISES	Session 2015	SUJET
E2 – ÉTUDE DE CAS : préparation d'une activité de transport routier	Durée : 3 h	7 /16
Code épreuve : 1506-CTR T 2	Coefficient : 3	

Pour des raisons d'organisation, l'expéditeur vous demande votre jour et heure d'arrivée au plus tôt chez le destinataire afin de prévoir le créneau horaire de livraison.

Informations complémentaires :

- vitesse moyenne est de 65 km/h ;
- rendez-vous de chargement : 14 h 30 ;
- temps de chargement et douane départ : 1 heure ;
- temps de dédouanement à Bâle : 1 h 30 ;
- distancier : Épinal – Bâle : 130 km.
Bâle – Lugano : 292 km.











Question 5

Complétez le Livret individuel de contrôle (LIC) ci-dessous, sans utiliser les aménagements de la Réglementation sociale européenne (RSE), en tenant compte des activités déjà effectuées.

Critères de réussite	
<i>Les documents relatifs aux activités du conducteur sont renseignés sans erreur ni omission.</i>	
<i>La gestion des activités est conforme à la RSE et au code du travail français.</i>	

Jour et date : lundi 25 mai																								
	1		2		3		4		5		6		7		8		9		10		11		12	
	13		14		15		16		17		18		19		20		21		22		23		24	

BAC PRO	Session 2015	SUJET
CONDUCTEUR TRANSPORT ROUTIER MARCHANDISES		
E2 – ÉTUDE DE CAS : préparation d'une activité de transport routier	Durée : 3 h	8 /16
Code épreuve : 1506-CTR T 2	Coefficient : 3	

Jour et date : mardi 26 mai												
	1	2	3	4	5	6	7	8	9	10	11	12
												
												
												
												
	13	14	15	16	17	18	19	20	21	22	23	24
												
												
												
												

Donnez votre jour et heure d'arrivée au plus tôt chez le destinataire :

Réponse :

BAC PRO CONDUCTEUR TRANSPORT ROUTIER MARCHANDISES	Session 2015	SUJET
E2 – ÉTUDE DE CAS : préparation d'une activité de transport routier	Durée : 3 h	9 /16
Code épreuve : 1506-CTR T 2	Coefficient : 3	

Avant de partir, vous contrôlez votre pochette de documents.

Question 6

Dans le tableau suivant, cochez les documents nécessaires à la réalisation de votre transport.

Critères de réussite	
<i>Les documents sont sélectionnés de manière correcte.</i>	

Carte grise tracteur		Original licence communautaire	
Permis Ec valide		Carte grise remorque	
Eurovignette		Autorisation bilatérale de transport	
DAU T1		Carnet TIR	
Autorisation multilatérale CEMT		Copie conforme licence communautaire	
Copie conforme licence transport intérieur		Assurance tracteur	
Taxe à l'essieu		Carte CQC	
Certificat agrément TIR		Attestation de formation ADR	
Carte conducteur		Assurance remorque	
Lettre de voiture		Vignette	
Carte d'identité conducteur		DAU T2	

BAC PRO CONDUCTEUR TRANSPORT ROUTIER MARCHANDISES	Session 2015	SUJET
E2 – ÉTUDE DE CAS : préparation d'une activité de transport routier	Durée : 3 h	10 /16
Code épreuve : 1506-CTR T 2	Coefficient : 3	

Après avoir déchargé à Lugano, vous recevez un message informatique de votre exploitation pour le rechargement (dossier ressources p 6).

Avant votre départ vous effectuez quelques vérifications et vous remarquez une très légère fuite d'huile sous votre véhicule tracteur.


Question 7.1

Nommez et localisez (sur la photo ci-dessous) les différents éléments de la chaîne cinématique pouvant provoquer des fuites :

Critères de réussite

Les différents éléments de chaîne cinématique pouvant provoquer des fuites sont nommés Précisément.

Réponse



BAC PRO CONDUCTEUR TRANSPORT ROUTIER MARCHANDISES	Session 2015	SUJET
E2 – ÉTUDE DE CAS : préparation d'une activité de transport routier	Durée : 3 h	11 /16
Code épreuve : 1506-CTR T 2	Coefficient : 3	





Vous localisez la fuite au niveau du moteur, vous décidez de prévenir le chef d'atelier de votre entreprise. Après avoir effectué 2 contrôles sous sa demande, il vous autorise à reprendre la route et vous demande de passer à l'atelier dès votre retour.

Question 7.2

Entourez le voyant signalant un dysfonctionnement du même type mais n'autorisant pas la reprise de la route.

Donnez sa signification.

Critères de réussite
<i>Le voyant est choisi de façon logique et précise.</i>
<i>Sa signification est exacte.</i>

Voyants	Signification	Voyants	Signification
			
			

BAC PRO CONDUCTEUR TRANSPORT ROUTIER MARCHANDISES	Session 2015	SUJET
E2 – ÉTUDE DE CAS : préparation d'une activité de transport routier	Durée : 3 h	12 /16
Code épreuve : 1506-CTR T 2	Coefficient : 3	

Vous venez d'effectuer votre rechargement à Alessandria, votre informatique embarquée vous propose plusieurs itinéraires de retour (dossier ressources p. 7 et 8).

Question 8 :

Choisissez l'itinéraire le mieux adapté au transport à réaliser. Justifiez votre réponse.

Critères de réussite
<i>La proposition d'itinéraire est adaptée.</i>

Réponse

Peu de temps après être parti de votre lieu de chargement à Alessandria, vous recevez un message informatique vous signalant que le client destinataire est en rupture de stock et qu'il attend la marchandise avec impatience.

Votre exploitation vous demande d'adapter votre itinéraire en conséquence.

Vous décidez de prendre l'autoroute ferroviaire Novara (Italie) – Freiburg (Allemagne) pour livrer plus rapidement (dossier ressources p. 9).

BAC PRO CONDUCTEUR TRANSPORT ROUTIER MARCHANDISES	Session 2015	SUJET
E2 – ÉTUDE DE CAS : préparation d'une activité de transport routier	Durée : 3 h	13 /16
Code épreuve : 1506-CTR T 2	Coefficient : 3	

Question 9

À l'aide du dossier ressources p. 10, déterminez le coût supplémentaire de cette modification d'itinéraire par rapport à votre 1^{er} choix (vous arrondirez vos résultats à 2 chiffres après la virgule). Justifiez votre réponse.

Critères de réussite

La proposition d'itinéraire est adaptée et prend en compte la maîtrise des coûts.

Réponse

Coût du passage par votre 1^{er} choix d'itinéraire :

Coût du passage par l'autoroute ferroviaire :

Coût supplémentaire :

BAC PRO CONDUCTEUR TRANSPORT ROUTIER MARCHANDISES	Session 2015	SUJET
E2 – ÉTUDE DE CAS : préparation d'une activité de transport routier	Durée : 3 h	14 /16
Code épreuve : 1506-CTR T 2	Coefficient : 3	

Lors du déchargement à Bruyères, le cariste accroche un poteau de votre semi-remorque et déchire la bâche sur 1 m.

Question 10.1 :

Suite à cet incident et à l'aide du dossier ressources p. 11, quelle personne de votre entreprise allez-vous prévenir ?

Critères de réussite
<i>L'incident est signalé au service compétent.</i>

Réponse

Question 10.2

Complétez le constat amiable relatif à cet incident (p. 16) à l'aide du dossier ressources p. 12 et 13.

Critères de réussite
<i>Le constat amiable est renseigné contradictoirement et il est exploitable.</i>

BAC PRO CONDUCTEUR TRANSPORT ROUTIER MARCHANDISES	Session 2015	SUJET
E2 – ÉTUDE DE CAS : préparation d'une activité de transport routier	Durée : 3 h	15 /16
Code épreuve : 1506-CTR T 2	Coefficient : 3	

CONSTAT AMIABLE D'ACCIDENT AUTOMOBILE

Feuillet 1/2

1 Date de l'accident	Heure	2 Localisation : Pays :	Lieu :	3 Blessé(s) même léger(s) non <input type="checkbox"/> oui <input type="checkbox"/>
4 Dégâts matériels à des véhicules autres que A et B non <input type="checkbox"/> oui <input type="checkbox"/>			objets autres que des véhicules non <input type="checkbox"/> oui <input type="checkbox"/>	
5 Témoins : noms, adresses et tél.				

VÉHICULE A

6 Preneur d'assurance/assuré (voir attestation d'assurance)
NOM :
Prénom :
Adresse :
Code postal : Pays :
Tél. ou e-mail :


7 Véhicule

À MOTEUR	REMORQUE
Marque, type	
N° d'immatriculation	N° d'immatriculation
Pays d'immatriculation	Pays d'immatriculation

8 Société d'assurance (voir attestation d'assurance)
NOM :
N° de contrat :
N° de carte verte :
Attestation d'assurance
ou carte verte valable du : au :
Agence (ou bureau, ou courtier) :
NOM :
Adresse :
..... Pays :
Tél. ou e-mail :
Les dégâts matériels au véhicule sont-ils assurés par le
contrat ? non oui

9 Conducteur (voir permis de conduire)
NOM :
Prénom :
Date de naissance :
Adresse :
..... Pays :
Tél. ou e-mail :
Permis de conduire n° :
Catégorie (A, B, ...) :
Permis valable jusqu'au :

10 Indiquer le point de choc initial au véhicule A par une flèche →



11 Dégâts apparents au véhicule A :
.....
.....

14 Mes observations :
.....
.....

12. CIRCONSTANCES

↓ Mettre une croix dans chacune des cases utiles pour préciser le croquis ↓

A	Mettre une croix dans chacune des cases utiles pour préciser le croquis <small>* Rayer la mention inutile</small>	B
<input type="checkbox"/> 1	* en stationnement / à l'arrêt	<input type="checkbox"/> 1
<input type="checkbox"/> 2	* quittait un stationnement / ouvrait une portière	<input type="checkbox"/> 2
<input type="checkbox"/> 3	prenait un stationnement	<input type="checkbox"/> 3
<input type="checkbox"/> 4	sortait d'un parking, d'un lieu privé, d'un chemin de terre	<input type="checkbox"/> 4
<input type="checkbox"/> 5	s'engageait dans un parking, un lieu privé, un chemin de terre	<input type="checkbox"/> 5
<input type="checkbox"/> 6	s'engageait sur une place à sens giratoire	<input type="checkbox"/> 6
<input type="checkbox"/> 7	roulait sur une place à sens giratoire	<input type="checkbox"/> 7
<input type="checkbox"/> 8	heurtaît à l'arrière, en roulant dans le même sens et sur une même file	<input type="checkbox"/> 8
<input type="checkbox"/> 9	roulait dans le même sens et sur une file différente	<input type="checkbox"/> 9
<input type="checkbox"/> 10	changeait de file	<input type="checkbox"/> 10
<input type="checkbox"/> 11	doublait	<input type="checkbox"/> 11
<input type="checkbox"/> 12	virait à droite	<input type="checkbox"/> 12
<input type="checkbox"/> 13	virait à gauche	<input type="checkbox"/> 13
<input type="checkbox"/> 14	reculait	<input type="checkbox"/> 14
<input type="checkbox"/> 15	empiétait sur une voie réservée à la circulation en sens inverse	<input type="checkbox"/> 15
<input type="checkbox"/> 16	venait de droite (dans un carrefour)	<input type="checkbox"/> 16
<input type="checkbox"/> 17	n'avait pas observé un signal de priorité ou un feu rouge	<input type="checkbox"/> 17
<input type="checkbox"/>	← indiquer le nombre de cases marquées d'une croix →	<input type="checkbox"/>

13 Croquis de l'accident au moment du choc **13**
Préciser : 1. le tracé des voies - 2. la direction (par des flèches) des véhicules A, B - 3. leur position au moment du choc - 4. les signaux routiers - 5. le nom des rues (ou routes).

15 Signature des conducteurs **15**

A B

BAC PRO CONDUCTEUR TRANSPORT ROUTIER MARCHANDISES	Session 2015	SUJET
E2 – ÉTUDE DE CAS : préparation d'une activité de transport routier	Durée : 3 h	16 /16
Code épreuve : 1506-CTR T 2	Coefficient : 3	