



**LE RÉSEAU DE CRÉATION
ET D'ACCOMPAGNEMENT PÉDAGOGIQUES**

**Ce document a été mis en ligne par le Canopé de l'académie de Montpellier
pour la Base Nationale des Sujets d'Examens de l'enseignement professionnel.**

Ce fichier numérique ne peut être reproduit, représenté, adapté ou traduit sans autorisation.

DANS CE CADRE

Académie :	Session :
Examen :	Série :
Spécialité/option :	Repère de l'épreuve :
Epreuve/sous épreuve :	
NOM :	
(en majuscule, suivi s'il y a lieu, du nom d'épouse)	
Prénoms :	N° du candidat
Né(e) le :	(le numéro est celui qui figure sur la convocation ou liste d'appel)

NE RIEN ÉCRIRE

Appréciation du correcteur

Note :

Il est interdit aux candidats de signer leur composition ou d'y mettre un signe quelconque pouvant indiquer sa provenance.

Ce sujet comporte 5 pages numérotées de 1/5 à 5/5.

Assurez-vous que cet exemplaire est complet.

S'il est incomplet, demandez un autre exemplaire au chef de salle.

Calculatrice autorisée, conformément à la circulaire 99-186 du 16 novembre 1999.

LE SUJET EST A RENDRE DANS SON INTEGRALITÉ

- Sujet -

Question N° 1 : LAME DE SCIE A RUBAN

Vous devez commander une lame de scie à ruban, que devez vous fournir comme renseignements au fabricant :

/ 6 pts

-
-
-

Question N° 2 : LES RACCORDEMENTS DES LAMES DE SCIE A RUBAN :

Citez tous les raccordements que vous connaissez et classez les par catégories

/ 5 pts

1).....

2).....

.....

.....

.....

.....

CAP MECANICIEN CONDUCTEUR DES SCIERIES ET DES INDUSTRIES MECANQUES DU BOIS Option B : mécanicien affûteur de sciage, tranchage, déroulage	SUJET	Code : 500 226 09	Session 2015
EPREUVE EP3 – TECHNOLOGIE GENERALE ET DE LA SPECIALITE Sous-épreuve EP3 B – TECHNOLOGIE DE LA SPECIALITE	Durée : 1 h	Coef : 4	Page 1 / 5

NE RIEN ÉCRIRE DANS CETTE PARTIE

Question N° 3 : But du tensionnage d'une lame de scie à ruban :

/ 3pts

Question N° 4 : les meules :

/ 5 pts

4.1) Donnez la signification des éléments ci-dessous figurants sur une meule plate

19 A 60 N 6 VBE

4.2) Vous devez commander une meule plate. Citez tous les éléments que vous devez fournir au vendeur :

/ 5 pts



CAP MECANICIEN CONDUCTEUR DES SCIERIES ET DES INDUSTRIES MECANIKQUES DU BOIS Option B : mécanicien affûteur de sciage, tranchage, déroulage	SUJET	Code : 500 226 09	Session 2015
EPREUVE EP3 – TECHNOLOGIE GENERALE ET DE LA SPECIALITE Sous-épreuve EP3 B – TECHNOLOGIE DE LA SPECIALITE	Durée : 1 h	Coef. : 4	Page 2 / 5

NE RIEN ÉCRIRE DANS CETTE PARTIE

Question N° 5 : les tronçonneuses

Principaux Organes : Complétez les deux schémas ci-dessous :

/5 pts

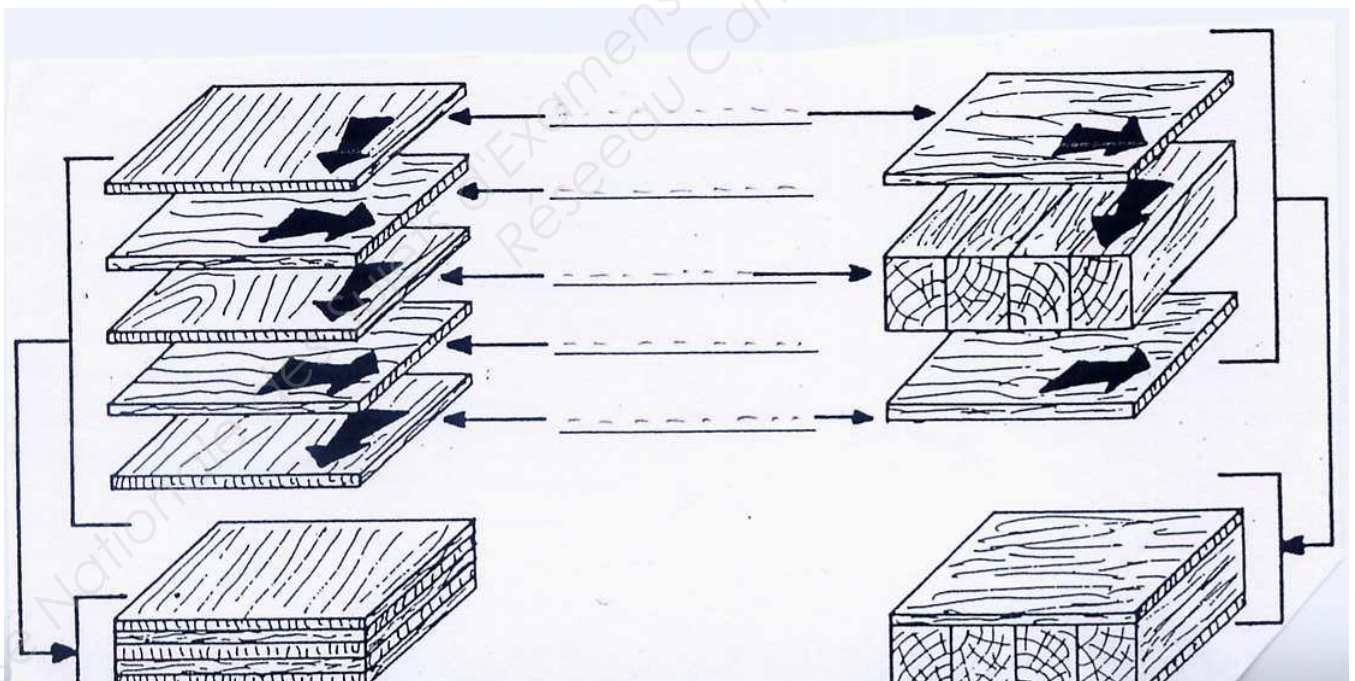
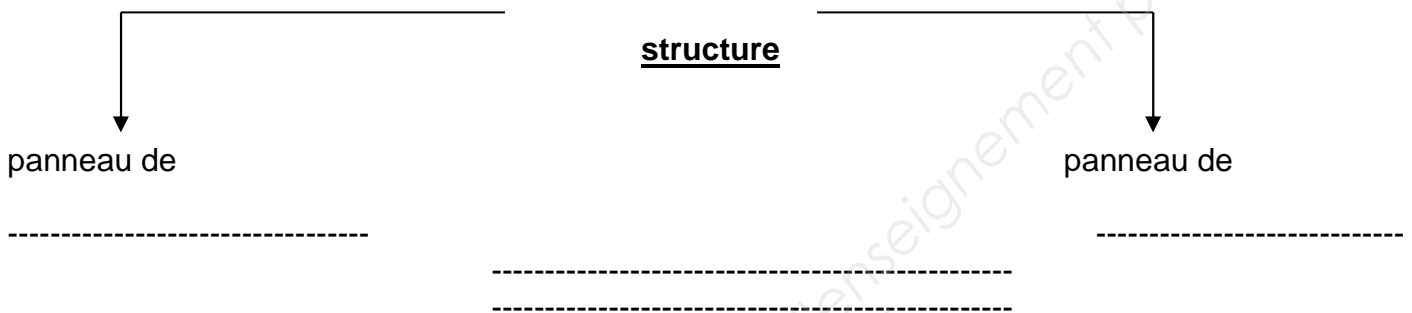


NE RIEN ÉCRIRE DANS CETTE PARTIE

Question N° 6 : dérivés du bois

/ 5pts

Caractéristiques des panneaux ci-dessous. Complétez les schémas



NE RIEN ÉCRIRE DANS CETTE PARTIE

Question N° 7 : Déroulage

/6 pts

Sur le schéma ci-dessous, veuillez placer la côte de passage = C.P
Placez également la côte verticale = C.V et complétez le schéma

