



**LE RÉSEAU DE CRÉATION  
ET D'ACCOMPAGNEMENT PÉDAGOGIQUES**

**Ce document a été mis en ligne par le Canopé de l'académie de Montpellier  
pour la Base Nationale des Sujets d'Examens de l'enseignement professionnel.**

**Ce fichier numérique ne peut être reproduit, représenté, adapté ou traduit sans autorisation.**

# **SUJET**

## **CAP maroquinerie**

### **EP1 préparation du travail et technologie**

***Le dossier comprend 7 pages numérotées de 1/7 à 7/7. Vérifier qu'il soit complet.  
Après composition, rendre le dossier sujet en totalité dans une copie modèle EN.***

CAP : maroquinerie	Sujet	Code : 24 317	Session 2015
ÉPREUVE : EP1 préparation du travail et technologie	Durée : 5h00	Coefficient : 6	Page 1 / 7

## TRAVAIL DEMANDÉ

### COMPÉTENCES ÉVALUÉES

C1-1 Collecter les données de la demande

C1-2 Lire, analyser, classer et sélectionner les documents

C2-1 Proposer un choix technologique et esthétique

C2-3 Proposer un plan de travail

C3-1 Participer à la construction du modèle

C4-1 Émettre et recevoir des informations

### PARTIE ARTS APPLIQUÉS – Temps conseillé 2 heures

- Identifier et exploiter les documents.
- Proposer un choix esthétique.

### PARTIE PRÉPARATION DU TRAVAIL – Temps conseillé 3 heures

À partir du dossier de définition et du dossier technique ressources:

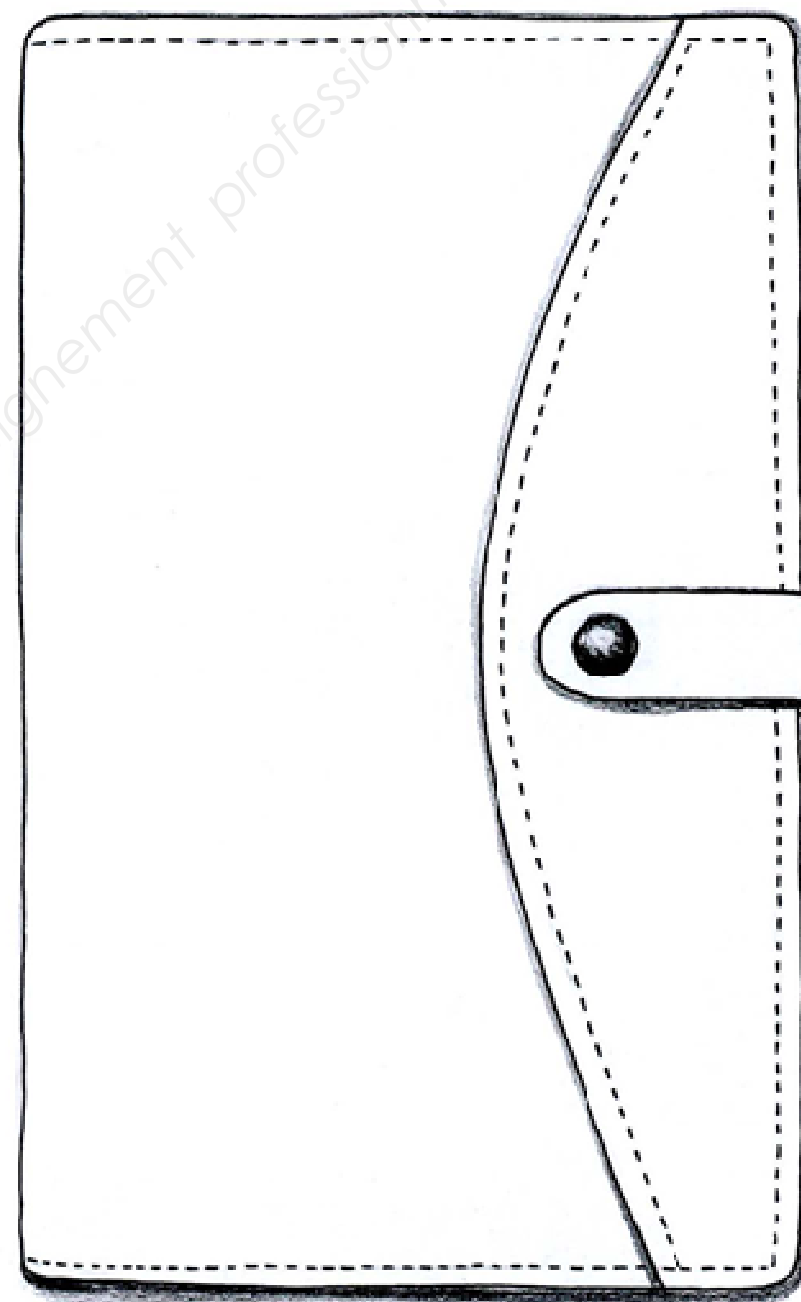
- effectuer des choix de matériaux,
- réaliser des gabarits de travail et de coupe,
- proposer un plan de travail,
- sélectionner le matériel.

### DOSSIER DE DÉFINITION DU PRODUIT

Il est réalisé dans un cuir pleine fleur.

Il est rebordé :

- sur le haut de la visite porte chéquier,
- sur le haut de la visite billet de transport,
- sur le haut du porte-cartes de crédits,
- sur le haut du porte-photo.



CAP : maroquinerie	Sujet	Code : 24 317	Session 2015
ÉPREUVE : EP1 préparation du travail et technologie	Durée : 5h00	Coefficient : 6	Page 2 / 7

## PARTIE ARTS APPLIQUÉS

### Mise en situation :

A l'occasion de la sortie de la collection "Voyage", l'entreprise "Yellowbag" souhaite **créer un décor sur le devant du portefeuille** portant le même nom.

Elle dispose de ressources proposant divers visuels sur le thème de la peau animale.

### ACTIVITÉ 1 : ANALYSE

- Observer les différents « visuels » du dossier ressources et en relever trois avec des **organisations** différentes (lignes, formes, rythmes...).
- Faire des relevés au crayon de papier dans les cadres A, B et C.
- Relever une gamme colorée.

### ACTIVITÉ 2 : RECHERCHE DE COMPOSITION

- En s'inspirant de l'analyse précédente, **imaginer** et élaborer un décor de surface pour chaque partie du portefeuille, (patte, corps...) au crayon dans les cadres D et E.
- Prendre soin de mettre en place **des principes d'organisation** nouvelle en combinant les différentes analyses.
- Effectuer des recherches au crayon de papier (noir).

### ACTIVITÉ 3 : ADAPTATION

- Réaliser un décor sur la représentation du portefeuille ouvert (DS 4/7) en reprenant les principes d'organisation.
- Mettre la proposition en couleurs en respectant celles observées sur les documents et en travaillant les contrastes de tonalités (clair/foncé).

## ACTIVITÉ 1 : ANALYSE

<b>A</b>	<b>B</b>	<b>C</b>

### Gamme colorée


--	--	--	--	--	--

## ACTIVITÉ 2 : RECHERCHE DE COMPOSITION

<b>D</b>	<b>E</b>

CAP : maroquinerie	Sujet	Code : 24 317	Session 2015
ÉPREUVE : EP1 préparation du travail et technologie	Durée : 5h00	Coefficient : 6	Page 3 / 7

### ACTIVITÉ 3: ADAPTATION



CAP : maroquinerie	Sujet	Code : 24 317	Session 2015
ÉPREUVE : EP1 préparation du travail et technologie	Durée : 5h00	Coefficient : 6	Page 4 / 7

## PARTIE PRÉPARATION DU TRAVAIL

### Mise en situation :

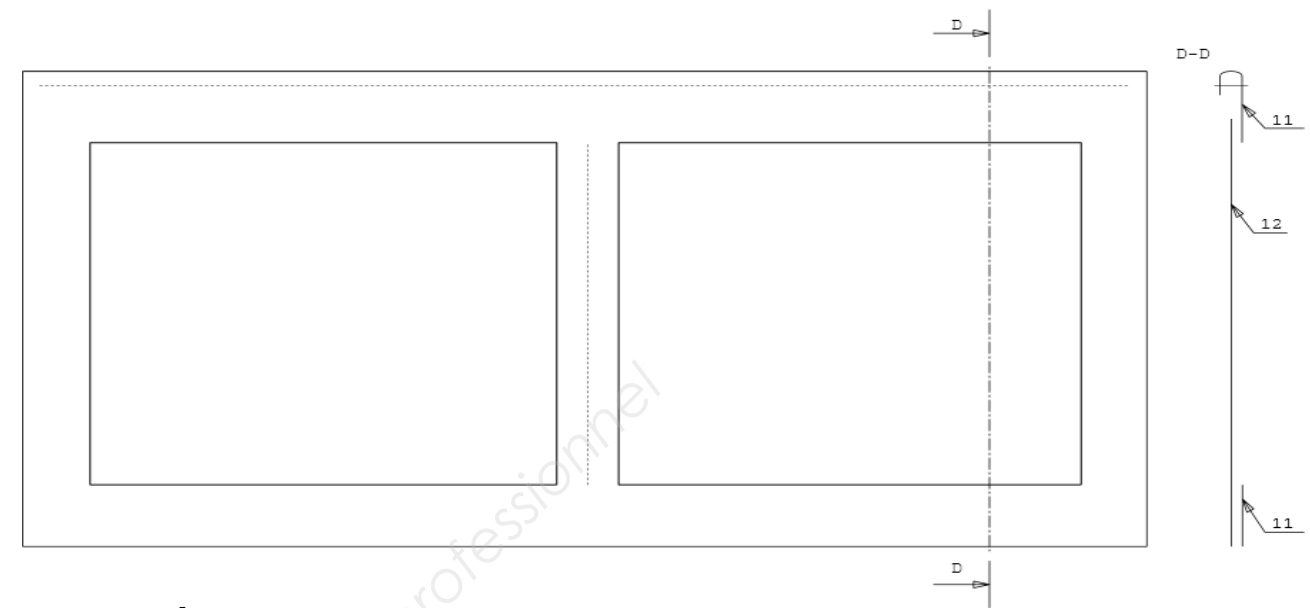

L'entreprise "Yellowbag" est spécialisée dans la maroquinerie de luxe.

Elle souhaite relancer la production du compagnon « Voyage ». Malgré ses recherches, il semble évident que les gabarits des éléments 4 et 11 ont été égarés. La date de livraison client est toute proche, les gabarits doivent être modifiés et le choix de la matière reste à définir.

Pour réaliser les activités ci-dessous, on donne :

- le dossier technique et ressources
- la représentation des éléments égarés
- de la carte à gabarits :
  - carte fine pour les gabarits de travail
  - carte forte pour les gabarits de coupe
- le matériel nécessaire à la réalisation des gabarits
- une partie technologie à compléter

### Représentation des éléments égarés



### **ACTIVITÉ N°1 :**

Afin de procéder à la réalisation du compagnon :

- réaliser en carte fine les gabarits de travail des éléments porte cartes de crédit Rp 4 et visite porte-photo Rp 11.
- d'indiquer les pointages et d'inscrire les indications sur les gabarits (RS,CN ou RA).
- de nommer les gabarits.

### **ACTIVITÉ N°2 :**

Afin d'effectuer la coupe des éléments, réaliser les gabarits de coupe (GC) en carte forte à partir des gabarits de travail (GT).

**RAPPEL :** - Ajouter 10 mm pour les rebords et 5 mm pour les coupes nettes ou bords rognés.

### **ACTIVITÉ N°3:**

En vue de la réalisation du compagnon de « Voyage », compléter la gamme opératoire du porte photo (DS 7/7) en fonction de la réponse en question 2 du DS 6/7.

CAP : maroquinerie	Sujet	Code : 24 317	Session 2015
ÉPREUVE : EP1 préparation du travail et technologie	Durée : 5h00	Coefficient : 6	Page 5 / 7

## **PARTIE TECHNOLOGIE**

L'entreprise désire réaliser un portefeuille haut de gamme et demande la modification des rebords.

### **QUESTION 1 :**

Proposer un choix de finition de bords pour remplacer la finition des éléments rebordées

Choix 1 : .....

Choix 2 : .....

### **QUESTION 2 :**

Parmi les deux choix de finition proposés, lequel est le plus adapté au critère de qualité de l'entreprise et pourquoi ?

.....  
.....  
.....  
.....  
.....

### **QUESTION 3 :**

Parmi la liste ci-dessous, faire un choix de matière pour le portefeuille « Voyage » en respectant le critère de qualité de l'entreprise et justifier ce choix :

- Chèvre
- Autruche
- Agneau
- Crocodile
- Box calf

Choix de la matière : .....

Justifier ce choix.

.....  
.....  
.....  
.....  
.....

### **QUESTION 4 :**

Relier par une flèche chaque animal au type de famille qui lui correspond :

- |                              |           |
|------------------------------|-----------|
| Vachette pleine fleur •      | • Caprin  |
| Box calf •                   | • Porcin  |
| Cuir d'anaconda •            | • Reptile |
| Croûte de veau grain croco • | • Poisson |
| Galuchat •                   | • Bovin   |
| Croûte de porc •             | • Oiseau  |
| Cuir d'autruche •            | • Ovin    |
| Agneau plongé •              |           |
| Chèvre •                     |           |

CAP : maroquinerie	Sujet	Code : 24 317	Session 2015
ÉPREUVE : EP1 préparation du travail et technologie	Durée : 5h00	Coefficient : 6	Page 6 / 7

N°	OPÉRATION	SCHÉMA	DIRECTIVE COMPLÉMENTAIRE

Base Nationale des Sujets d'Examens de l'enseignement professionnel  
Réseau Canopé

CAP : maroquinerie	Sujet	Code : 24 317	Session 2015
ÉPREUVE : EP1 préparation du travail et technologie	Durée : 5h00	Coefficient : 6	Page 7 / 7