



**LE RÉSEAU DE CRÉATION
ET D'ACCOMPAGNEMENT PÉDAGOGIQUES**

**Ce document a été mis en ligne par le Réseau Canopé
pour la Base Nationale des Sujets d'Examens de l'enseignement professionnel.**

Ce fichier numérique ne peut être reproduit, représenté, adapté ou traduit sans autorisation.

SESSION 2016

CERTIFICAT D'APTITUDE PROFESSIONNELLE
FLEURISTE

EP1
PRATIQUE PROFESSIONNELLE EN
ATELIER DE PRODUCTION

Sous-épreuve

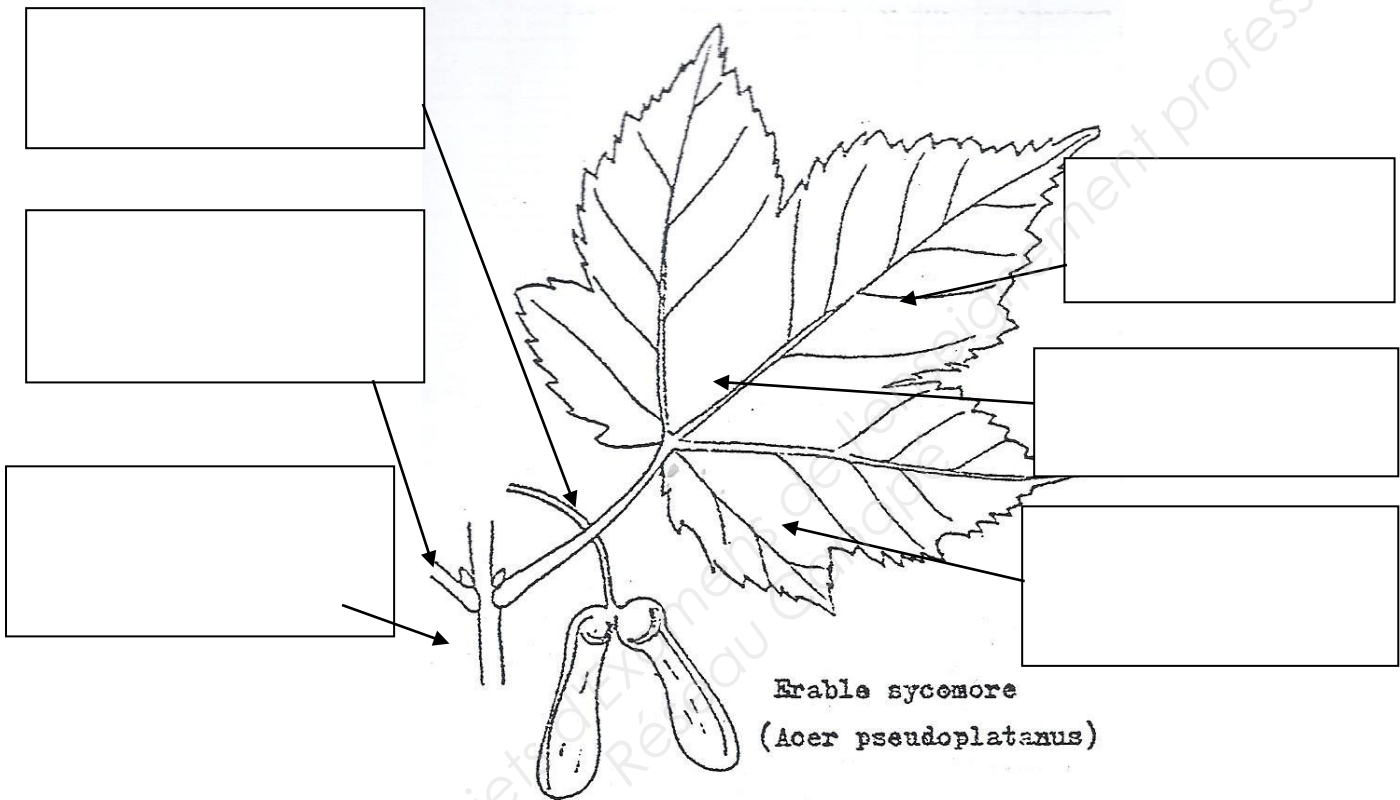
Botanique

(20 points)

CERTIFICAT D'APTITUDE PROFESSIONNELLE FLEURISTE	Code examen : 16 EP1
EP1 (U1) – Pratique professionnelle en Atelier de Production	Session 2016
Botanique (0h45)	 sujet Coefficient : 11 page 1/4

Botanique

1. Mettre la légende. (3 points)



2. Compléter avec les termes appropriés dans le texte ci-dessous : (2 pts)

a/ Certains végétaux ne perdent pas leurs feuilles chaque année. On dit qu'ils possèdent des feuilles

b/ A l'opposé, certains végétaux perdent leurs feuilles chaque année. On dit que leurs feuilles sont

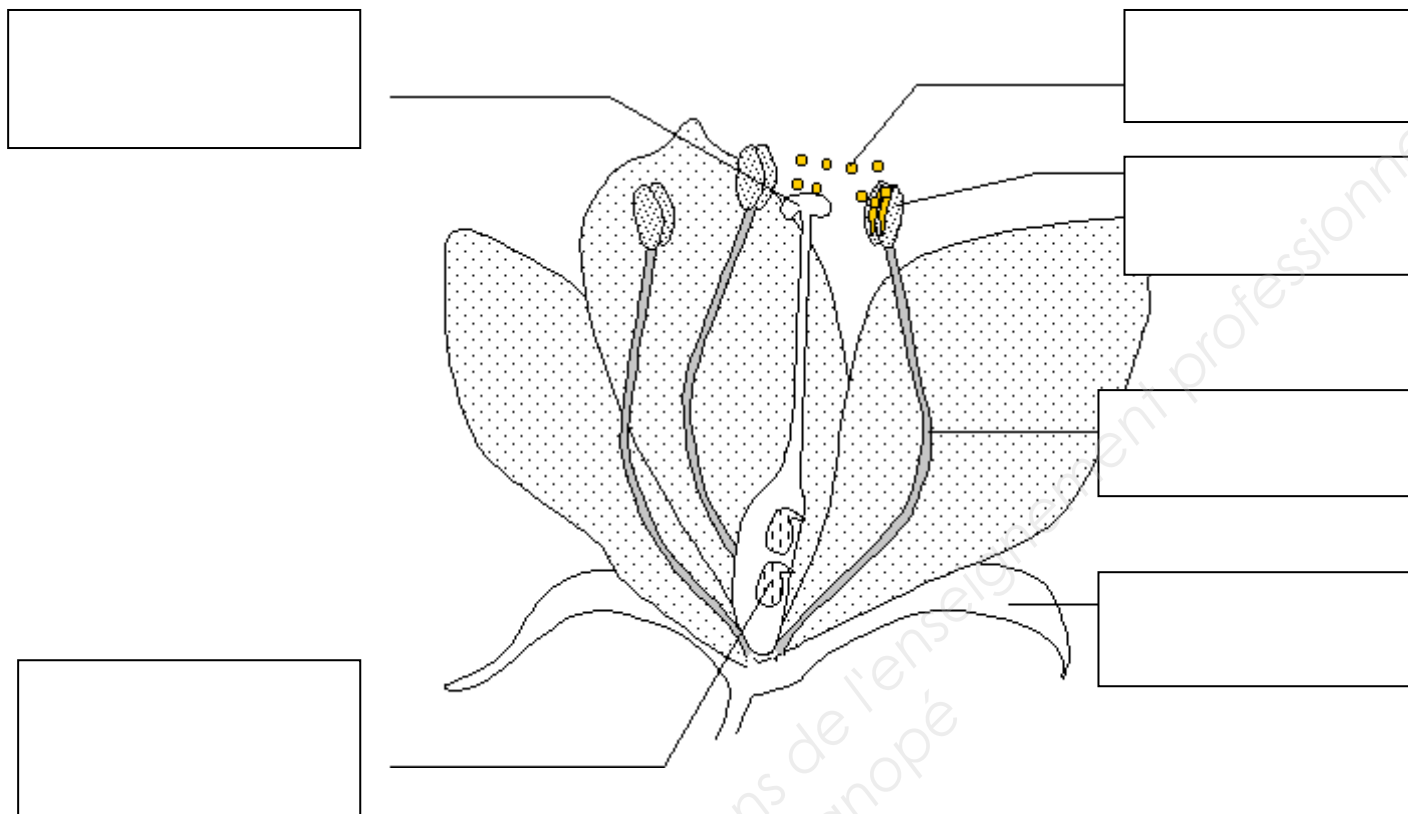
3/ Citer 2 fonctions principales d'une feuille (2 pts)

.....

.....

CERTIFICAT D'APTITUDE PROFESSIONNELLE FLEURISTE		Code examen : 16 EP1	
EP1 (U1) – Pratique professionnelle en Atelier de Production		Session 2016	
Botanique (0h45)	sujet	Coefficient : 11	page 2/4

4/ Compléter la légende de la fleur. (3 points)



5/ Citer 2 agents pollinisateurs des fleurs (1 pt)

6/ Citer le type de racines des orchidées ci-dessous : (1 pt)

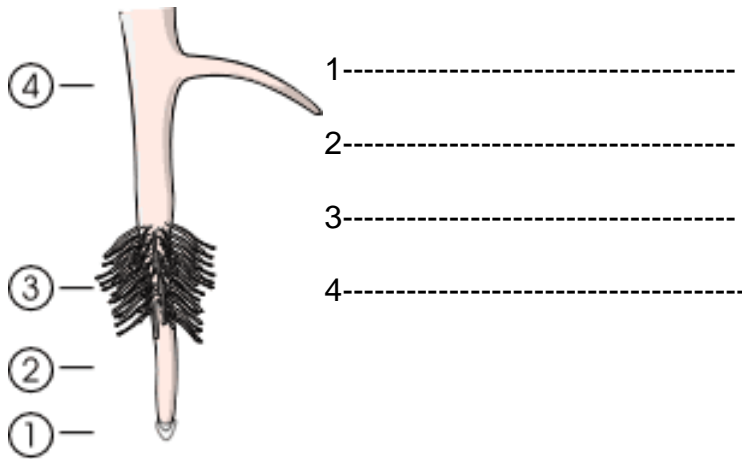


7/ Préciser quel est le rôle principal de ce type de racines ? (1 pt)

.....

CERTIFICAT D'APTITUDE PROFESSIONNELLE FLEURISTE		Code examen : 16 EP1	
EP1 (U1) – Pratique professionnelle en Atelier de Production		Session 2016	
Botanique (0h45)	sujet	Coefficient : 11	page 3/4

8/ Légender les différentes parties d'une racine. 2 pts






9/ Citer deux éléments absorbés par la racine et qui permettent le développement de la plante ? (2 pts)

.....

.....

10/ Citer le type de racine correspondant à chaque photo dans le tableau ci-dessous. (3x1pt= 3 pts)

Photo	Type de racine
 <p>Lierre</p>	<p>.....</p>
 <p>Jacinthe d'eau</p>	<p>.....</p>
 <p>Gui</p>	<p>.....</p>