



**LE RÉSEAU DE CRÉATION
ET D'ACCOMPAGNEMENT PÉDAGOGIQUES**

**Ce document a été mis en ligne par le Réseau Canopé
pour la Base Nationale des Sujets d'Examens de l'enseignement professionnel.**

Ce fichier numérique ne peut être reproduit, représenté, adapté ou traduit sans autorisation.

DANS CE CADRE	Académie :	Session :
	Examen :	Série :
	Spécialité/option :	Repère de l'épreuve :
	Epreuve/sous épreuve :	
	NOM :	
	(en majuscule, suivi s'il y a lieu, du nom d'épouse)	
	Prénoms :	N° du candidat <input type="text"/>
Né(e) le :	(le numéro est celui qui figure sur la convocation ou liste d'appel)	
NE RIEN ÉCRIRE	Appréciation du correcteur	
	<input style="width: 100px; height: 40px;" type="text"/>	

Il est interdit aux candidats de signer leur composition ou d'y mettre un signe quelconque pouvant indiquer sa provenance.

Baccalauréat Professionnel « Maintenance des Équipements Industriels »

ÉPREUVE E2 : Analyse et préparation d'une activité de maintenance

SESSION 2019

A partir d'un dysfonctionnement identifié sur un bien industriel pluritechnologique, l'épreuve permet de vérifier que le candidat a acquis tout ou partie des compétences suivantes :

- CP 2.3 **Analyser les solutions de gestion, de distribution, de conversion des énergies pneumatique, hydraulique et électrique,**
- CP 3.1 **Préparer son intervention,**
- CP 3.2 **Emettre des propositions d'améliorations d'un bien.**

Les supports retenus sont liés à la spécialité Maintenance des Équipements Industriels

Ce sujet comporte : 16 pages

Dossier présentation

pages 2/16 à 3/16

Dossier questions-réponses

pages 4/16 à 16/16

Matériel autorisé :

- L'usage de tout modèle de calculatrice, avec ou sans mode examen, est autorisé.

BAC PRO MEI	Code : 1906-MEI 2	Session 2019	Dossier Questions-Réponses
EPREUVE E2	Durée : 4 h	Coefficient : 4	DQR : 1/16

NE RIEN ÉCRIRE DANS CETTE PARTIE

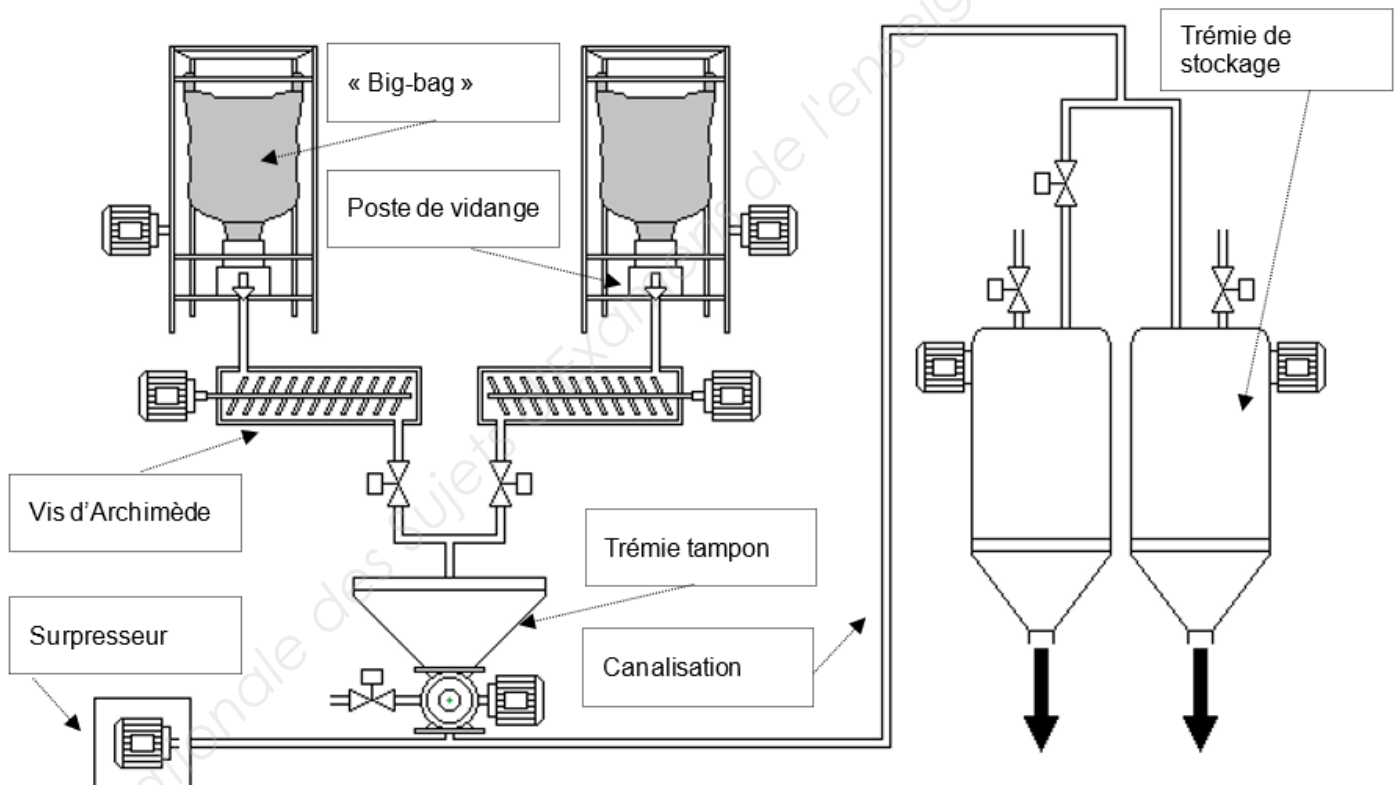
DOSSIER PRÉSENTATION

Présentation de l'entreprise :

L'entreprise agro-alimentaire est spécialisée dans les desserts lactés. Ses usines mondialement implantées élaborent des laitages de différents parfums : caramel, vanille, au fruits, nature, ...

La chaîne sur laquelle se déroule l'intervention est utilisée pour la réalisation de crème dessert au chocolat. La poudre de cacao arrive par « big-bag » de 700 kg, elle est déchargée au niveau du poste de vidange puis acheminée vers la trémie tampon par une vis d'Archimède. Elle est ensuite envoyée dans une trémie de stockage, par une canalisation de 120 m de longueur, par l'intermédiaire d'un surpresseur.

Notre étude porte sur la ligne « Big choco ».

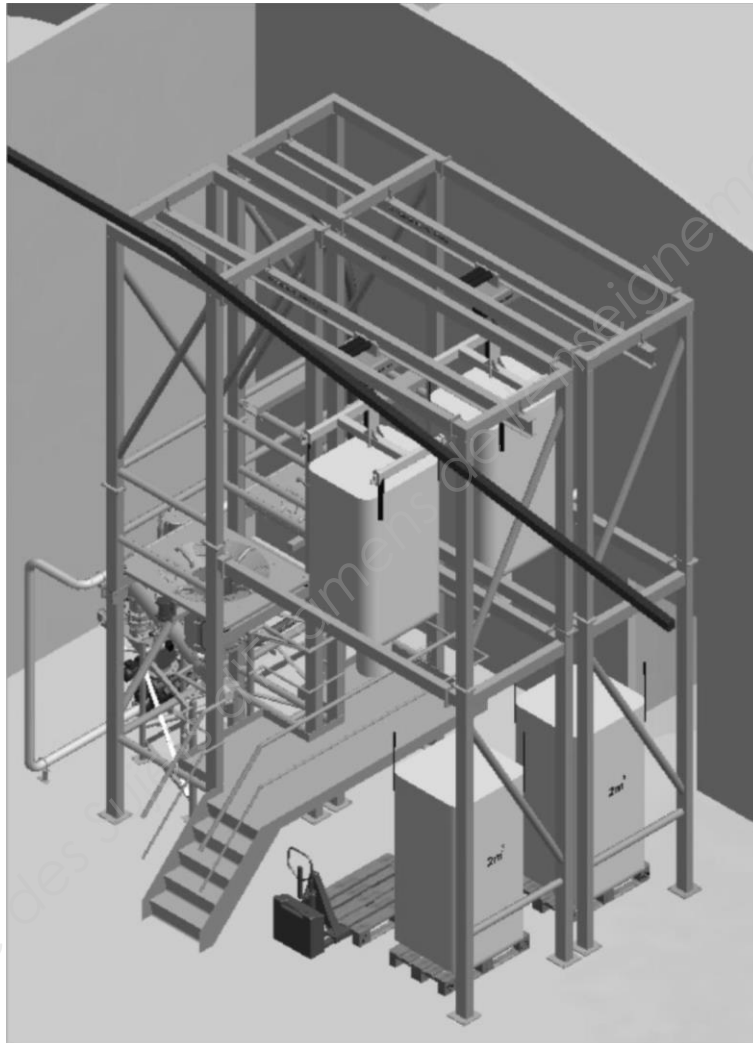


BAC PRO MEI	Code : 1906-MEI 2	Session 2019	Dossier Questions-Réponses
EPREUVE E2	Durée : 4 h	Coefficient : 4	DQR : 2/16

NE RIEN ÉCRIRE DANS CETTE PARTIE

Présentation de la ligne « Big choco » :

La ligne « Big choco » permet de distribuer la poudre de chocolat vers les trémies de stockage dans la partie conditionnement de l'entreprise.



Chaque « big-bag » est acheminé au poste de chargement par un transpalette. Il est ensuite transféré au poste de vidange par l'intermédiaire d'un palan.

Un opérateur met en place l'extrémité du « big-bag » au poste de vidange, puis la poudre de chocolat est déversée pour être acheminée vers une trémie de stockage.

La ligne « Big-choco » est doublée afin d'avoir une distribution de la poudre de cacao en continue.

Des vues détaillées des sous-ensembles sont représentées dans le Dossier Technique et Ressources.

BAC PRO MEI	Code : 1906-MEI 2	Session 2019	Dossier Questions-Réponses
EPREUVE E2	Durée : 4 h	Coefficient : 4	DQR : 3/16

NE RIEN ÉCRIRE DANS CETTE PARTIE

DOSSIER QUESTIONS-RÉPONSES

PROBLEMATIQUE GENERALE :

Des arrêts intempestifs de la ligne de conditionnement de crème dessert au chocolat proviennent de la ligne « Big choco ». Des améliorations sont nécessaires sur cette ligne afin de ne plus pénaliser le conditionnement.

Note explicative destinée au candidat pour l'utilisation du dossier complet				
N° de la question	Intitulé de la question	Document utile pour résoudre la problématique	Temps conseillé au candidat pour répondre à la problématique	Nombre de points pour la totalité de la problématique

Problématique n°1 :

Le responsable maintenance décide de faire **l'analyse de l'historique des pannes sur deux ans** afin de programmer les différentes améliorations.

Q1	Analyse de l'historique des pannes	DTR 2/14 et 3/14	Temps conseillé : 30 min	Nbre de pts : ... / 30
----	------------------------------------	------------------	--------------------------	------------------------

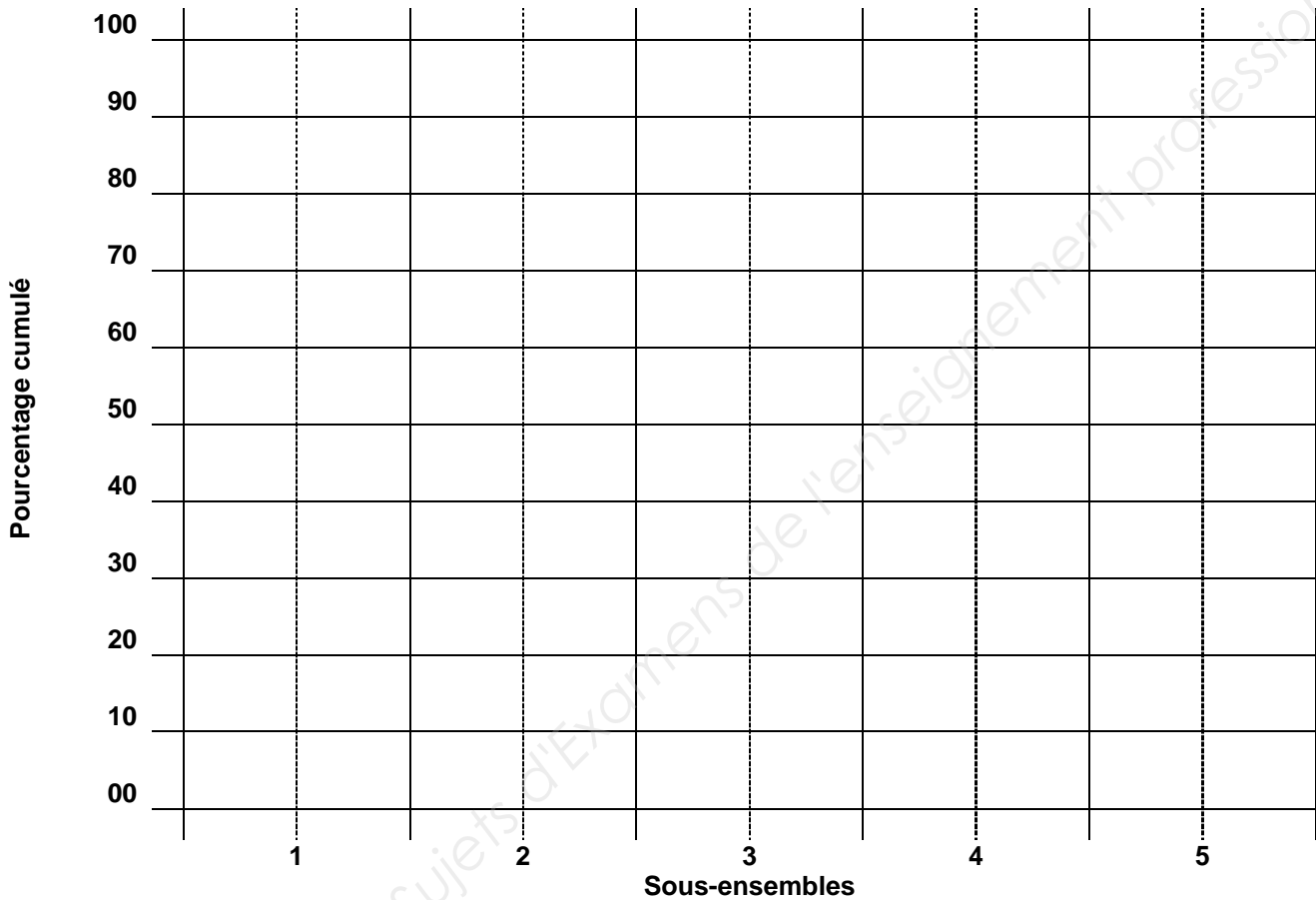
Q1.1 : **Calculer** à partir de l'historique des pannes, la **somme des temps d'arrêts** par sous-ensemble, puis les **classer par ordre décroissant**. Vous complétez les pourcentages de chaque sous-ensemble, ainsi que les temps d'arrêt et pourcentages cumulés

Repère	Sous-ensembles classés par ordre décroissant	Temps d'arrêts en heure	%	Temps d'arrêts cumulés	% cumulé
1					
2					
3					
4					
5					
	TOTAL				

BAC PRO MEI	Code : 1906-MEI 2	Session 2019	Dossier Questions-Réponses
EPREUVE E2	Durée : 4 h	Coefficient : 4	DQR : 4/16

NE RIEN ÉCRIRE DANS CETTE PARTIE

Q1.2 : Réaliser sur le graphique suivant, la courbe ABC de PARETO.



Q1.3 : Définir les trois zones A, B et C sur le graphique ci-dessus et donner les noms des sous-ensembles par zone.

Zone A :

Zone B :

Zone C :

Q1.4 : Déterminer les types de maintenance à mettre en place afin de diminuer le nombre d'arrêts de la zone A de la ligne « Big-choco ».

.....

.....

BAC PRO MEI	Code : 1906-MEI 2	Session 2019	Dossier Questions-Réponses
EPREUVE E2	Durée : 4 h	Coefficient : 4	DQR : 5/16

NE RIEN ÉCRIRE DANS CETTE PARTIE

Le service maintenance et les opérateurs machine ont analysé plus finement l'historique des pannes, notamment les sous-ensembles « poste de vidange » et « vis d'Archimède ». Ils ont remarqué que **50 % des temps d'arrêts** du « poste de vidange » était dû au nettoyage lors du **changement de big-bag**.

Afin de remédier au problème, le service maintenance décide d'équiper la ligne big-choco d'une trémie vibrante avec système de massage.

Problématique n°2 :

Le système de massage équipé de 4 plateaux de massage, va venir « taper » le « big-bag » afin de faire tomber le reste de poudre de chocolat, ce qui permettra d'éliminer les opérations de nettoyage. Les 4 plateaux seront animés par **4 actionneurs pneumatique**.

Q2	Implantation pneumatique du système de massage	DTR 4/14 à 6/14	Temps conseillé : 50 min	Nbre de pts : ... / 35
----	--	-----------------	--------------------------	------------------------

Pour un décollement efficace de la poudre de cacao des parois du « big-bag », il a été décidé d'installer des **vérins pneumatiques d'une course de 100 mm, à amortissement réglable, avec détection magnétique**. Ils doivent développer un **effort réel de 210 daN** avec un **temps de réalisation de 0,8 s**.

Q2.1 : **Calculer l'effort théorique** et déterminer le diamètre des actionneurs pneumatiques afin de développer un **effort réel de 210 daN** en sortie de tige. **La pression** de service est de **6 bars** et le **taux de charge est de 75 %**. Vous détaillerez vos calculs (arrondi à 2 chiffres après la virgule).

Effort théorique =

Déterminer le diamètre du vérin à partir du tableau « Efforts développés par les vérins » (DTR 5/14)

∅ du vérin (piston) =

Q2.2 : **Déterminer la référence** des vérins pneumatiques à commander.

Référence des vérins :

Q2.3 : Donner la **référence des détecteurs de position** à implanter sur chaque actionneur pneumatique, le **code des kits de fixation** ainsi que le **code des accessoires**.

Données : Mini détecteur de position (**ILS**) pour vérin **PES** à connecteur **mâle intégré** et son **allonge de 5 m**.

Référence du détecteur :

Référence du kit de fixation :

Référence accessoire (allonge) :

BAC PRO MEI	Code : 1906-MEI 2	Session 2019	Dossier Questions-Réponses
EPREUVE E2	Durée : 4 h	Coefficient : 4	DQR : 6/16

NE RIEN ÉCRIRE DANS CETTE PARTIE

Q2.4 : Calculer la vitesse de sortie d'un vérin pneumatique. (Arrondi à 3 chiffres après la virgule).

Vitesse de sortie :

Q2.5 : Déterminer le débit nécessaire afin de répondre à la problématique. La surface du piston des vérins est de **50,3 cm²**. Vous détaillerez vos calculs (arrondi à 2 chiffres après la virgule).

Débit pour un vérin =

Débit pour les 4 plateaux de massage =

Le débit du groupe de conditionnement est-il suffisant pour alimenter le nouveau circuit ? Vous tiendrez compte de la consommation initiale d'air par les différents circuits déjà existants, en plus de la modification que vous êtes en train d'effectuer.

Cocher la bonne réponse : Oui Non

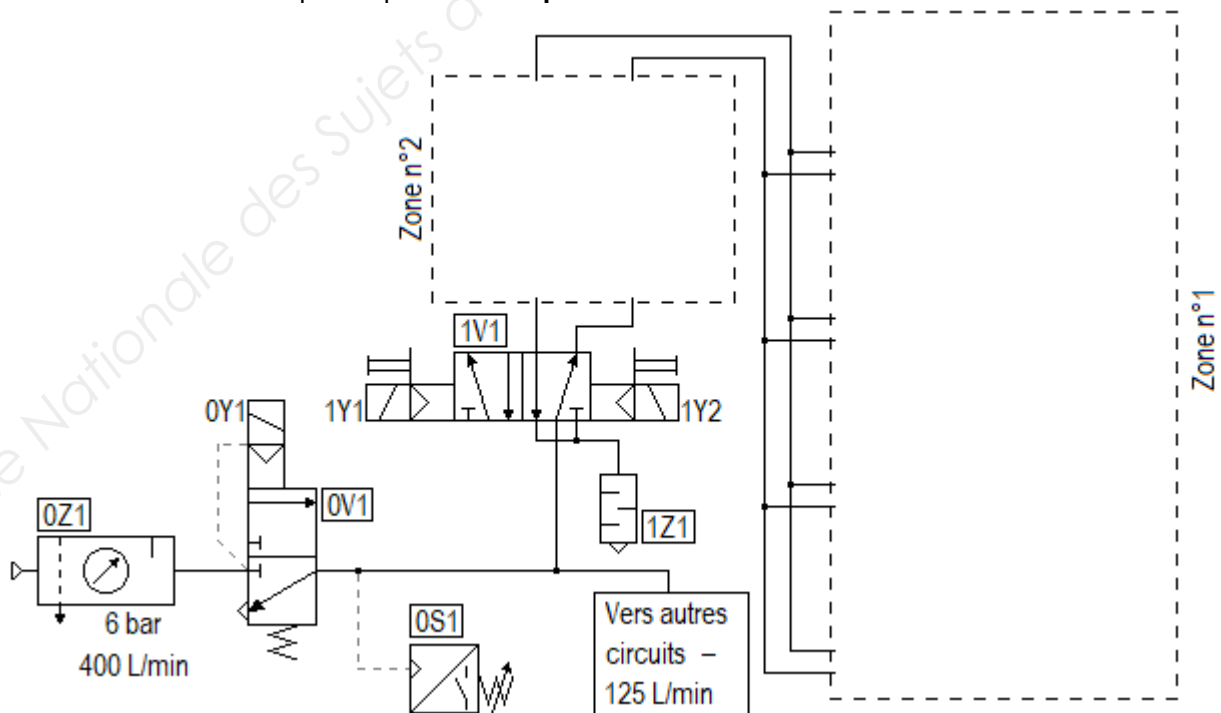
Justifiez votre réponse :

Q2.6 : Donner la référence des réducteurs de débit encastrable afin d'avoir une vitesse régulière des vérins pneumatiques.

Référence :

Q2.7 : Insérer dans la zone 1 du schéma pneumatique suivant, les 4 actionneurs pneumatiques (1A1, 1A2, 1A3 et 1A4) avec leurs dimensions, et dans la zone 2, les réducteurs de débit (1V2 et 1V3) afin de régler les vitesses de rentrée et de sortie de tige.

Les 4 actionneurs seront pilotés par le même préactionneur.



BAC PRO MEI	Code : 1906-MEI 2	Session 2019	Dossier Questions-Réponses
EPREUVE E2	Durée : 4 h	Coefficient : 4	DQR : 7/16

NE RIEN ÉCRIRE DANS CETTE PARTIE

Q2.8 : Compléter la nomenclature suivante en indiquant la désignation complète et la fonction des composants du circuit pneumatique afin de faciliter les futures interventions.

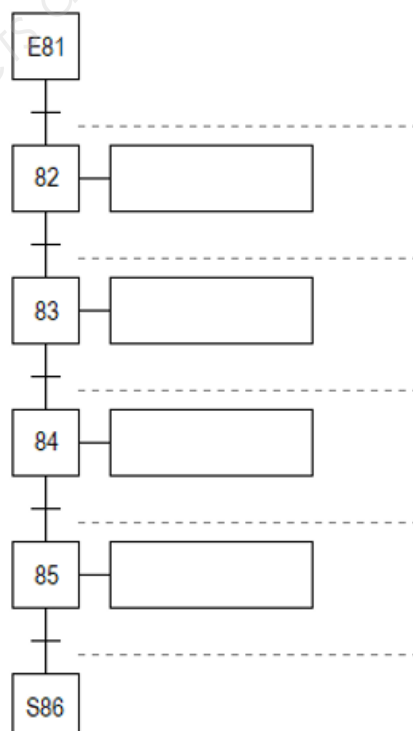
Repère	Désignation	Fonction sur le système
0Z1		
0V1		
0S1		
1Z1	Silencieux d'échappement	Diminuer le bruit de l'air sortant des vérins
1V1		

Problématique n°3 :

L'intégration des systèmes de massage nécessite une modification du programme et du câblage des cartes d'entrées et sorties de l'automate.

Q3	Modification de la partie commande	DTR 6/14 à 8/14	Temps conseillé : 30 min	Nbre de pts : ... / 31
----	------------------------------------	-----------------	--------------------------	------------------------

Q3.1 : Compléter, ci-contre, le GRAFCET point de vue automate de la tâche 8 : Massage du « big-bag ».

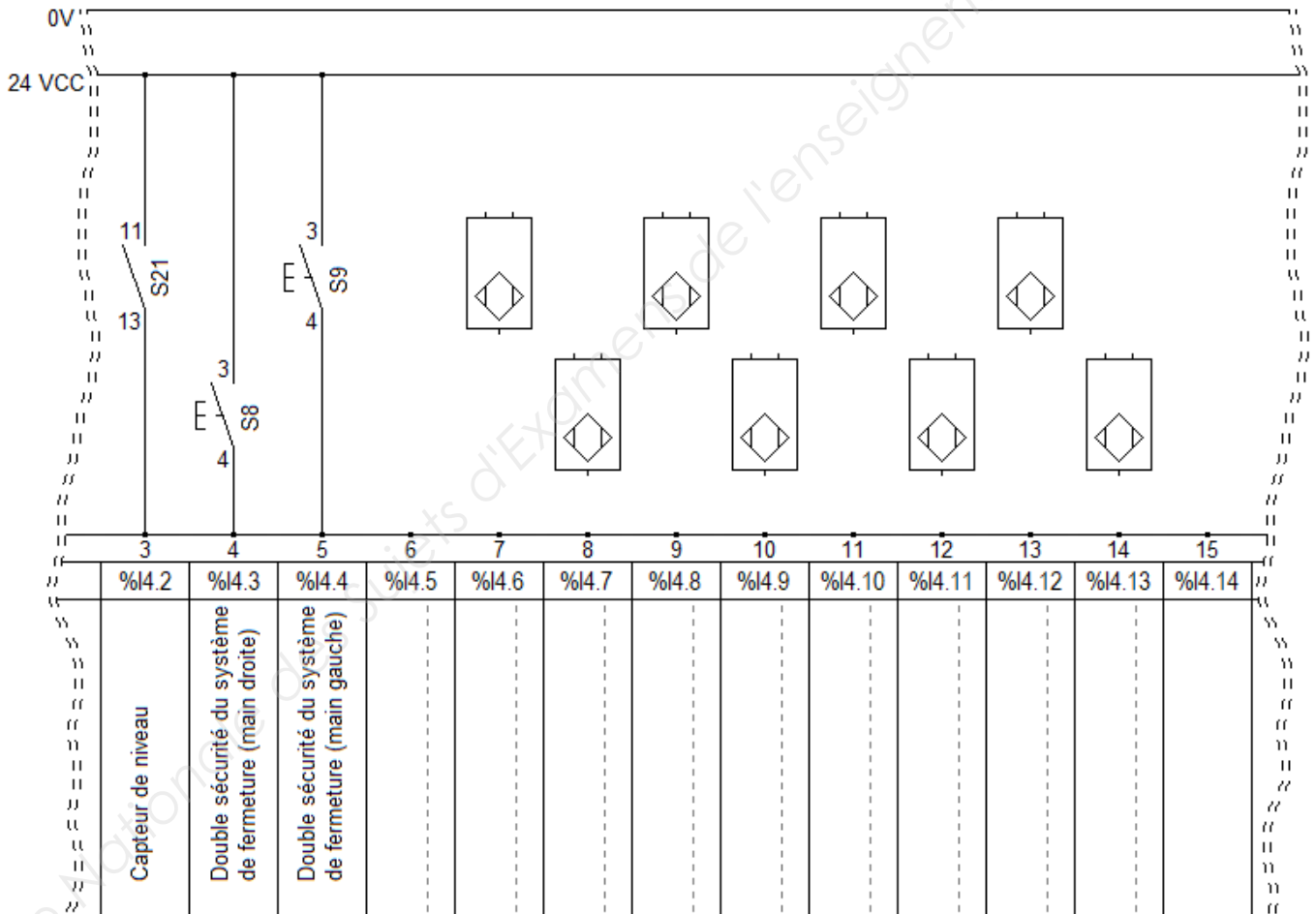


BAC PRO MEI	Code : 1906-MEI 2	Session 2019	Dossier Questions-Réponses
EPREUVE E2	Durée : 4 h	Coefficient : 4	DQR : 8/16

NE RIEN ÉCRIRE DANS CETTE PARTIE

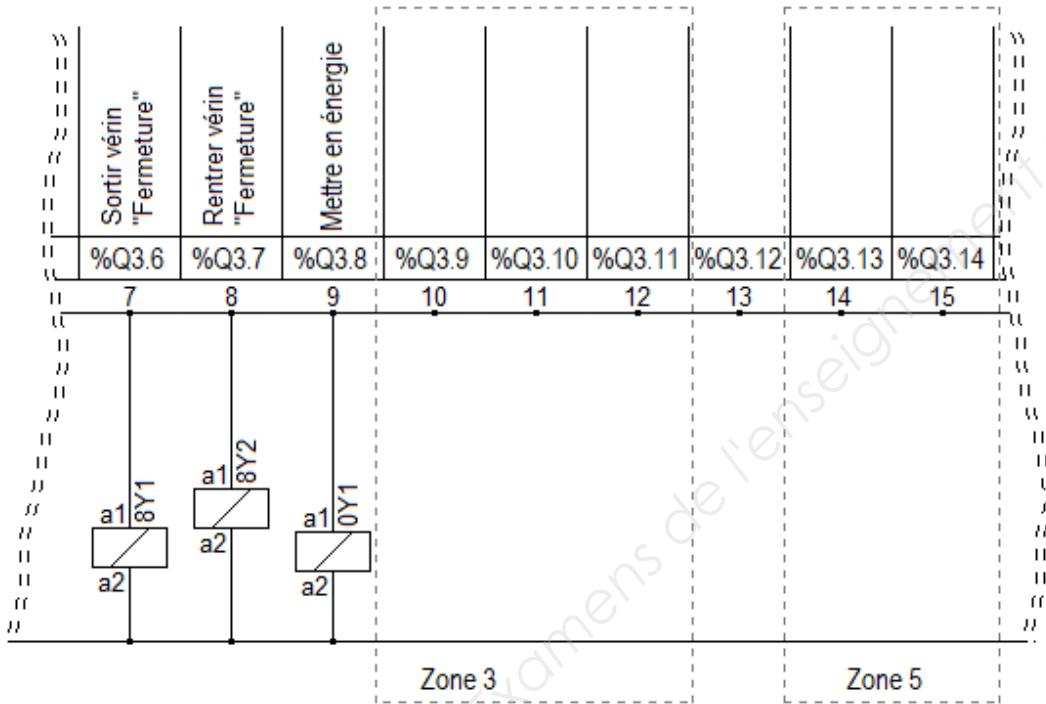
Q3.2 : Réaliser les raccordements sur l'extrait de carte d'entrée n°4 de l'automate ci-contre, des détecteurs de position des actionneurs pneumatiques des 4 plateaux du système de massage et du pressostat 0S1-contact NO (voir DQR 7/16).

- Compléter la représentation des détecteurs.
- Indiquer les repères des détecteurs.
- Indiquer les repères de la connectique.
- Indiquer les mnémoniques de la carte d'entrée.



NE RIEN ÉCRIRE DANS CETTE PARTIE

Q3.3 : Réaliser dans la zone 3 de l'extrait de carte de sortie n°3 de l'automate ci-dessous, les raccordements des électrovannes du préactionneur « 1V1 » du système de massage. Indiquer les repères des électrovannes et les mnémoniques de la carte de sortie.



Problématique n°4 :

Un grand nombre d'arrêt oblige le service maintenance à moderniser et à modifier le mode de marche du moteur de la vis d'Archimède. Il décide de modifier la protection et d'installer un double sens de rotation de cette vis afin d'éliminer les bourrages de poudre. Vous devez choisir les composants et compléter les différents schémas.

Q4	Modifications électriques	DTR 8/14 à 11/14	Temps conseillé : 40 min	Nbre de pts : ... / 27
----	---------------------------	------------------	--------------------------	------------------------

Q4.1 : Calculer l'intensité nominale absorbé par le moteur asynchrone triphasé de référence « LS 90 L ». Vous détaillerez vos calculs (arrondi à 2 chiffres après la virgule).

$$Pa = U \times I \times \sqrt{3} \times \cos \varphi \qquad \eta = Pu \div Pa$$

.....

.....

.....

Q4.2 : Donner la référence du disjoncteur-moteur magnétothermique « Q4 » avec contacts auxiliaires latéral « F + O » à commander afin d'uniformiser les composants dans l'armoire électrique et de faciliter les opérations de maintenance.

Référence du disjoncteur-moteur magnétothermique :

Référence du bloc de contacts auxiliaires :

BAC PRO MEI	Code : 1906-MEI 2	Session 2019	Dossier Questions-Réponses
EPREUVE E2	Durée : 4 h	Coefficient : 4	DQR : 10/16

NE RIEN ÉCRIRE DANS CETTE PARTIE

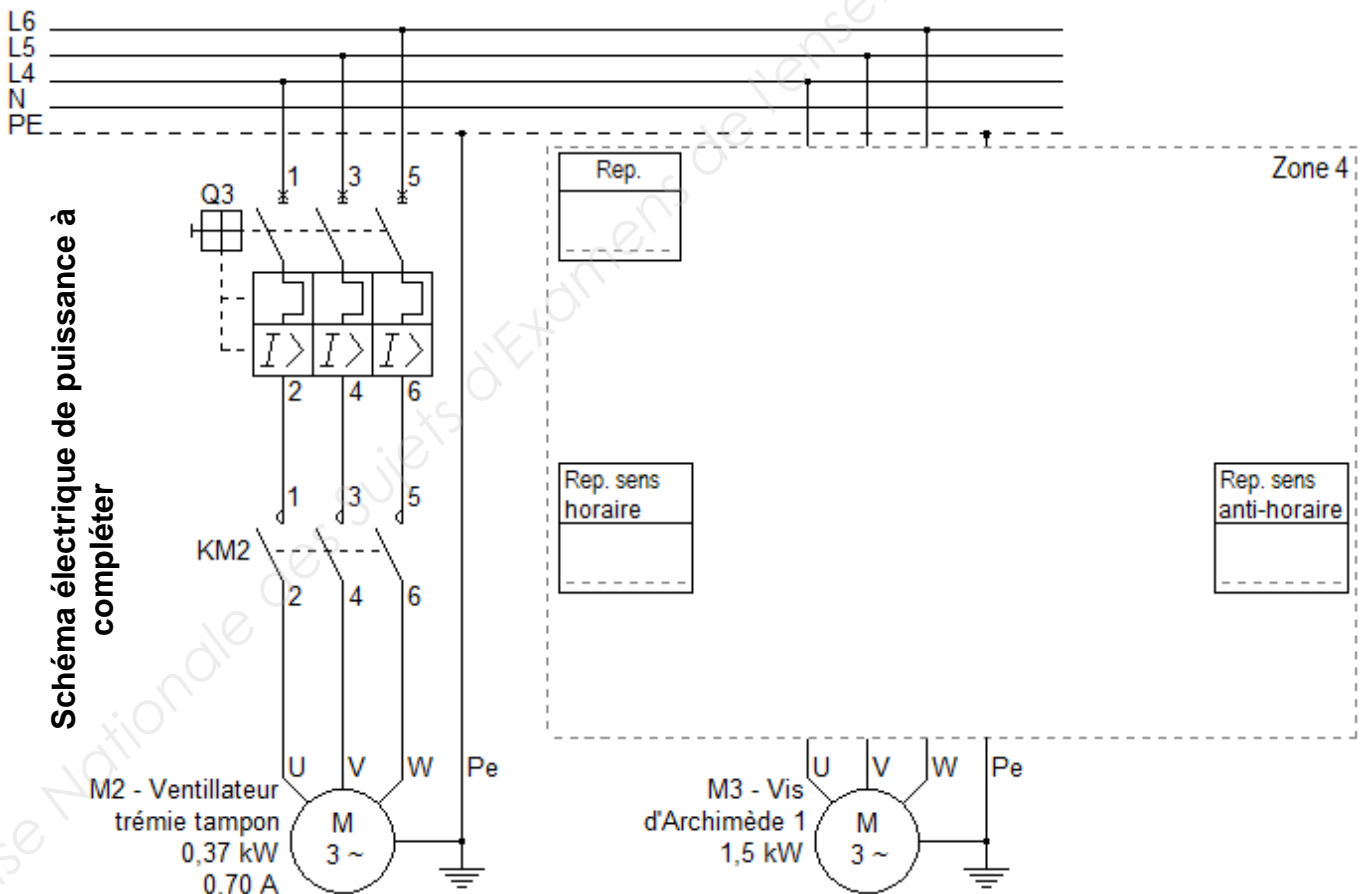
Q4.3 : Indiquer le rôle et la protection assurée par le disjoncteur-moteur magnétothermique.

.....

Q4.4 : Donner la référence complète du contacteur-inverseur à raccordement par bornes à ressort.

Référence du contacteur-inverseur :

Q4.5 : Compléter le schéma électrique de puissance suivant en implantant le disjoncteur-moteur magnétothermique et le contacteur-inverseur dans la zone 4 (sans oublier les repérages).
 KM30 : sens horaire – KM31 : sens anti-horaire



BAC PRO MEI	Code : 1906-MEI 2	Session 2019	Dossier Questions-Réponses
EPREUVE E2	Durée : 4 h	Coefficient : 4	DQR : 11/16

NE RIEN ÉCRIRE DANS CETTE PARTIE

Q4.6 : Réaliser dans la zone 5 de l'extrait de carte de sortie n°3 de l'automate du DQR 10/16, **les raccordements des bobines du contacteur inverseur**.

(Indiquez les repères et les mnémoniques).

Q4.7 : Représenter dans la zone 6 du câblage du module de sécurité du DQR 13/16, **le contact de sécurité (NC)** du nouveau disjoncteur-moteur magnétothermique.

Problématique n°5 :

Après un contrôle de sécurité, le CHSCT informe le service maintenance que le poste de chargement des « big-bags » est une zone dangereuse. Lors du contrôle, plusieurs opérateurs ont emprunté cette zone pour se rendre directement à la porte d'accès qui mène vers un autre service.

Après étude, le service maintenance décide de mettre en place des barrières immatérielles afin de sécuriser cette zone.

Q5	Sécurisation de la zone de chargement	DTR 11/14 à 12/14	Temps conseillé : 30 min	Nbre de pts : ... / 23
----	---------------------------------------	-------------------	--------------------------	------------------------

Pour une sécurisation efficace de la zone de chargement, Nous installerons une barrière immatérielle.

Afin de protéger la zone du passage du corps d'une personne, l'espacement sur chaque faisceau devra être compris entre 0,30 et 0,35 m. Elle devra être de type 4, avec une portée de 5 m et un temps de réponse maxi de 5 ms.

Q5.1 : Donner la référence complète des **barrières immatérielles** de sécurité.

Référence des barrières immatérielles :

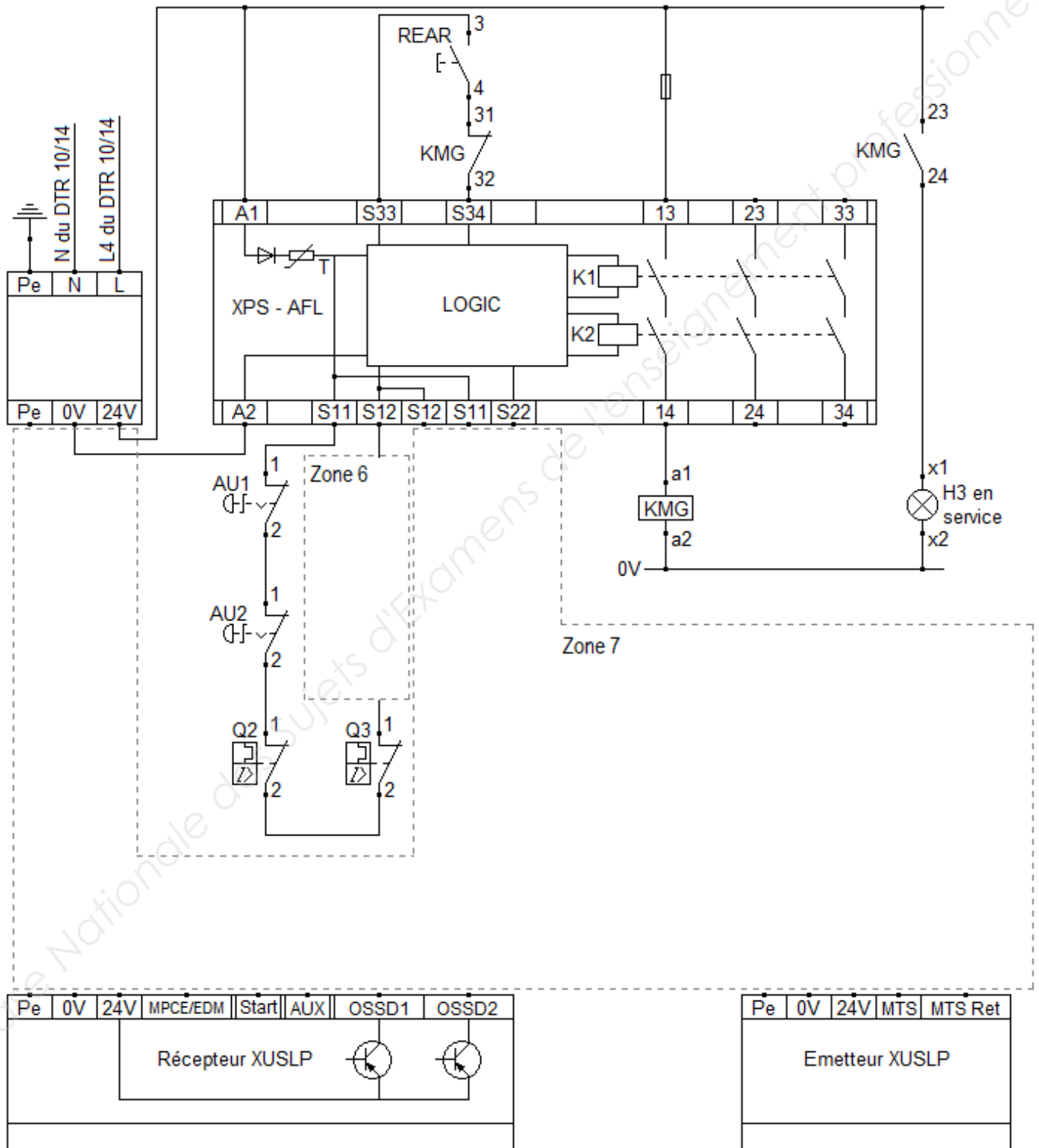
Q5.2 : Le **module de sécurité** utilisé initialement par le système big-choco est-il **compatible** avec les barrières immatérielles ? Justifier votre réponse.

.....
.....

Q5.3 : Compléter dans la zone 7 du DQR 13/16, **le câblage** des barrières immatérielles de sécurité sur le module de sécurité, sachant que la fonction MTS (test) ne sera pas utilisée.

BAC PRO MEI	Code : 1906-MEI 2	Session 2019	Dossier Questions-Réponses
EPREUVE E2	Durée : 4 h	Coefficient : 4	DQR : 12/16

NE RIEN ÉCRIRE DANS CETTE PARTIE



NE RIEN ÉCRIRE DANS CETTE PARTIE

Problématique n°6 :

Afin d'installer les précédents composants, le système « big-choco » doit être consigné électriquement afin de sécuriser les intervenants (l'énergie pneumatique a été consigné en amont).

Q6	Consignation du système	DTR 10/14	Temps conseillé : 40 min	Nbre de pts : ... / 31
----	-------------------------	-----------	--------------------------	------------------------

Q6.1 : Indiquer par une croix, le **niveau d'habilitation** nécessaire pour les titres suivants.

Titre	Niveau d'habilitation				
	B0	B1V	B2	BC	BR
Chargé de consignation					
Exécutant non-électricien					
Chargé d'intervention entretien et dépannage					
Chargé de travaux					
Exécutant électricien au voisinage					

Q6.2 : Quel doit-être votre **niveau d'habilitation** afin de réaliser cette intervention et consigner pour votre propre compte le système « big-choco » ?

B0 B1V B2 BC BR

Q6.3 : Indiquer dans le tableau suivant, le **matériel nécessaire** afin de réaliser la consignation précédente pour votre propre compte ainsi que le matériel de balisage.

Poteau pour balisage et ruban de sécurité	

Q6.4 : Préciser avant d'intervenir, les **étapes de cette consignation**.

Etape	Action
1	Pré-identification
2	
3	
4	
5	
6	Mise A La Terre et Court-Circuit

BAC PRO MEI	Code : 1906-MEI 2	Session 2019	Dossier Questions-Réponses
EPREUVE E2	Durée : 4 h	Coefficient : 4	DQR : 14/16

NE RIEN ÉCRIRE DANS CETTE PARTIE

Q6.5 : Indiquer le repère du composant que vous allez manœuvrer pour consigner le système.

Repère :

Q6.6 : Compléter les valeurs attendues dans le tableau suivant lors des différentes étapes d'une V.A.T. selon la norme NFC 18-510.

Etape	Opération	Observation
1	Tester le V.A.T.	Buzzer et voyant (V.A.T. OK)
2	PE et Phase (bornes 3, 5 ou 7 de Q1) en amont de Q1	Présence de 230V
3	PE et Phase 1 (borne 4 de Q1) en aval de Q1
4	PE et Phase 2 (borne 6 de Q1) en aval de Q1
5	PE et Phase 3 (borne 8 de Q1) en aval de Q1
6	PE et Neutre (borne 2 de Q1) en aval de Q1
7	Tester le V.A.T.	Buzzer et voyant (V.A.T. OK)

Problématique n°7 :

Les temps d'arrêts important du sous-ensemble « Vis d'Archimède » obligent le service maintenance à effectuer différents contrôles. Suite à un relevé à la caméra thermique, le service constate une élévation anormale de température au niveau de l'arbre de sortie repère 7 du réducteur.

Q7	Préparation du démontage	DTR 2/14 ; 13/14 et 14/14	Temps conseillé : 20 min	Nbre de pts : ... / 23
----	--------------------------	---------------------------	--------------------------	------------------------

Le service maintenance a procédé à l'échange standard du motoréducteur pour ne pas pénaliser la production. Le motoréducteur défaillant a été déposé à l'atelier, et, vous êtes chargé de **préparer** son démontage afin de **remplacer les roulements et les éléments d'étanchéités**.

Q7.1 : Indiquer par une croix, la fonction des composants lorsque le réducteur est en position sur le système.

	Rep. 20	Rep. 59-a	Rep. 59-b	Rep. 59-c	Rep. 59-d	Rep. 59
Bouchon évent						
Bouchon de niveau						
Bouchon de remplissage						
Bouchon de vidange						

BAC PRO MEI	Code : 1906-MEI 2	Session 2019	Dossier Questions-Réponses
EPREUVE E2	Durée : 4 h	Coefficient : 4	DQR : 15/16

NE RIEN ÉCRIRE DANS CETTE PARTIE

Q7.2 : Lister les éléments à remplacer sur l'arbre de sortie Rep.7.

- 1 :
2 :
3 :
4 :

Q7.3 : Indiquer le type de montage des roulements sur l'arbre Rep.7.

- Montage serré sur l'arbre Montage glissant sur l'arbre

Q7.4 : Sélectionner par une croix l'outil adéquate afin de déposer les éléments Rep.12 et 88.



Q7.5 : Déterminer de sens d'extraction de l'arbre Rep.7 lors de sa dépose.

- Sens 1 Sens 2

Justifiez votre réponse :

Q7.6 : Lors du démontage de l'arbre Rep.7, la roue Rep.6 va-t-elle appuyer sur la roue Rep.4 ?

- Oui Non

Si oui, quelle solution préconisez-vous ?

.....
.....

Q7.7 : Donner la référence des nouveaux roulements que vous allez sortir du magasin « pièces de rechange ».

Référence :

Référence :

Q7.8 : Lors de l'opération de remontage, sur quelle partie du roulement allez-vous prendre appui afin de le monter correctement ?

- Bague extérieure Cage Eléments roulants Bague intérieure

BAC PRO MEI	Code : 1906-MEI 2	Session 2019	Dossier Questions-Réponses
EPREUVE E2	Durée : 4 h	Coefficient : 4	DQR : 16/16