



**LE RÉSEAU DE CRÉATION
ET D'ACCOMPAGNEMENT PÉDAGOGIQUES**

**Ce document a été mis en ligne par le Réseau Canopé
pour la Base Nationale des Sujets d'Examens de l'enseignement professionnel.**

Ce fichier numérique ne peut être reproduit, représenté, adapté ou traduit sans autorisation.

BACCALAURÉAT PROFESSIONNEL MAINTENANCE DES VÉHICULES

OPTION C : MOTOCYCLES

SESSION 2019

ÉPREUVE E2

ANALYSE PRÉPARATOIRE À UNE INTERVENTION

Durée : 3 heures

Coefficient : 3

DOSSIER RÉPONSES

(à insérer dans la copie d'examen du candidat)

Baccalauréat professionnel MAINTENANCE DES VÉHICULES		Option C : MC	
E2 - Analyse préparatoire à une intervention		Dossier Réponses	Session 2019
Code : 1906-MV M T	Durée : 3 heures	Coefficient : 3	DR 1/8

Partie 1 : PRÉPARATION DE LA MAINTENANCE PÉRIODIQUE

Réponse n°1 :

CERTIFICAT D'IMMATRICULATION

N° Immatriculation Date de 1^{ère} immatriculation

A. [REDACTED] B. [REDACTED]

C.1 [REDACTED]

C.4a EST LE PROPRIETAIRE DU VEHICULE

C.4.1

C.3 [REDACTED]

D.1 [REDACTED]

D.2 VERSION

D.2.1 MCT5432PY315

D.3 [REDACTED] E. [REDACTED]

F.1 1915 F.2 1915 F.3 1915

G 3030 G.1 1307

J M1 J.1 J.2 J.3

K e2*2001/116*0317*02

P.1 [REDACTED] P.2 90 P.3 [REDACTED] P.6 6

Q 0,06 S.1 5 S.2 [REDACTED] U.1 77

U.2 3000 V.7 155 V.9

X.1 VISITE AVANT LE

Y.1 178,35 Y.2

Y.3 Y.4

Y.6 Y.6 178,35

Pour le Ministère de l'Intérieur et par délégation,
le sous-directeur de la circulation
et de la sécurité routières

SPECIMEN

[Signature]

H

I

Z.1

Z.2


Z.3

Z.4

2M26000534680

Baccalauréat professionnel MAINTENANCE DES VÉHICULES		Option C : MC	
E2 - Analyse préparatoire à une intervention		Dossier Réponses	Session 2019
Code : 1906-MV M T	Durée : 3 heures	Coefficient : 3	DR 2/8

Réponse n°2 :

ESPRIT KAWA 66, Rue de la Jonckerue 99111 Essiau Les Longuy	<h2 style="margin: 0;"><u>ORDRE DE RÉPARATION</u></h2>	Date : XX/XX/XXXX	OR N° : 2019001236
Lieu de rédaction : ATELIER		Mécanicien : XXXXXXXXXXXXXXXX	
Date de réception :/...../.....		Date de retour prévu :/...../.....	
Indiquer par des flèches les éventuels sinistres, chocs, rayures du véhicule		<u>Observations (état de la moto) :</u>	
			
<u>CLIENT</u> Nom : Prénom : Adresse : Téléphone : <u>SIGNATURE CLIENT :</u> XXXXXXXXXXXXXXXXXXXX	<u>VÉHICULE</u> MATÉRIEL* : SCOOTER MOTO QUAD MARQUE : Type : N° série : Nombre de kilomètres : * rayer les mentions inutiles		
<u>TRAVAUX À EFFECTUER :</u>			

Réponse n°5 :

ÉTAPE	POSITION MOTEUR	SOUPAPES À CONTRÔLER
N°1		
N°2		

Réponse n°8 :

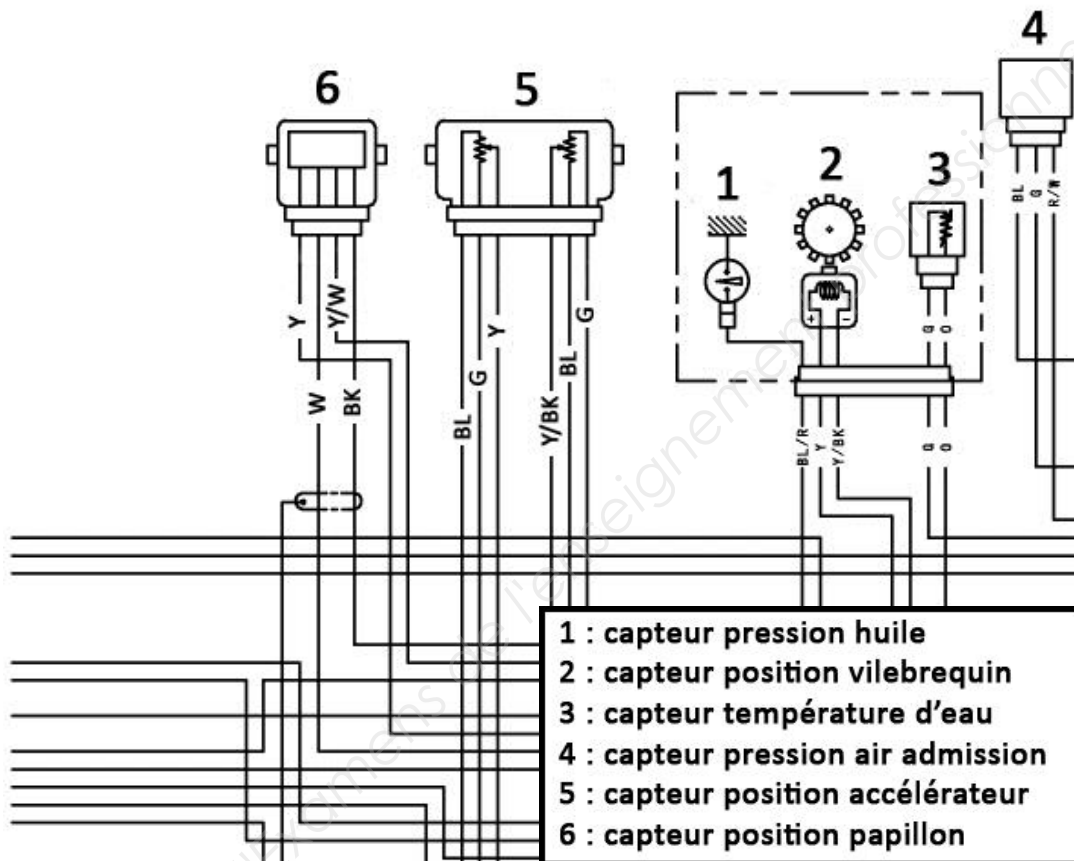
		Jeu relevé (mm)	OK ou incorrect	Repère cale en place	Repère cale à mettre
CYLINDRE N°1	Admission	0.20	OK	1400	1400
		0.15	OK	1638	1638
	Échappement	0.20	OK	1600	1600
		0.18	OK	1550	1550
CYLINDRE N°2	Admission	0.25	Incorrect	1738	
		0.20	OK	1800	1800
	Échappement	0.18	OK	1775	1775
		0.14	Incorrect	1400	
CYLINDRE N°3	Admission	0.12	Incorrect	1663	
		0.15	OK	1563	1563
	Échappement	0.18	OK	1513	1513
		0.20	OK	1525	1525
CYLINDRE N°4	Admission	0.22	OK	1475	1475
		0.20	OK	1450	1450
	Échappement	0.22	OK	1663	1663
		0.28	Incorrect	1558	

Réponse n°12 :

Comme instrument de mesure vous avez le choix entre :

Ohmmètre : Ω Voltmètre : V Ampèremètre : A

Dessinez et branchez sur le schéma électrique ci-dessous, les instruments de mesure choisis pour mesurer les tensions de sorties du capteur de position papillon.

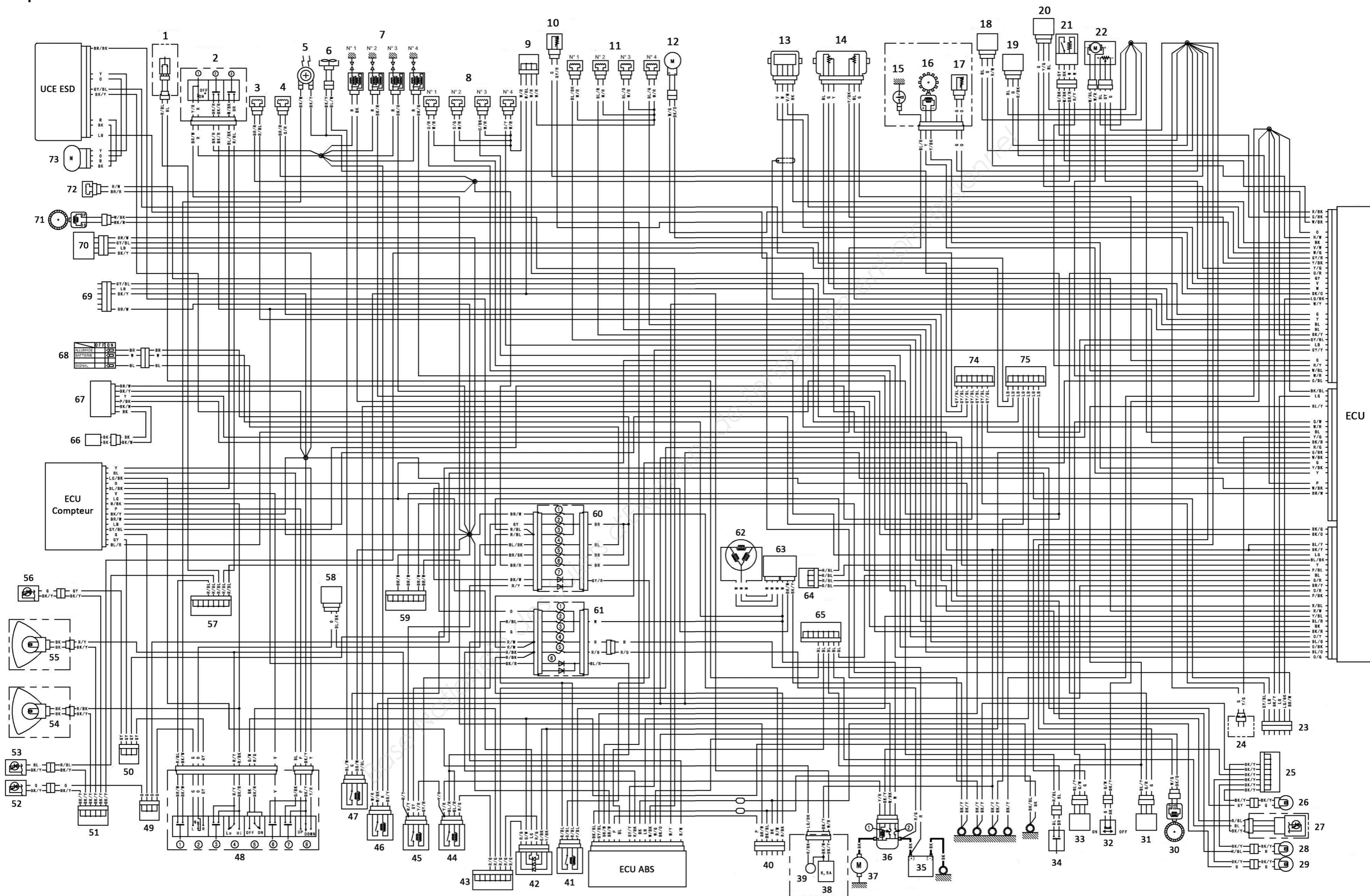


Partie 2 : PRÉPARATION DU DIAGNOSTIC

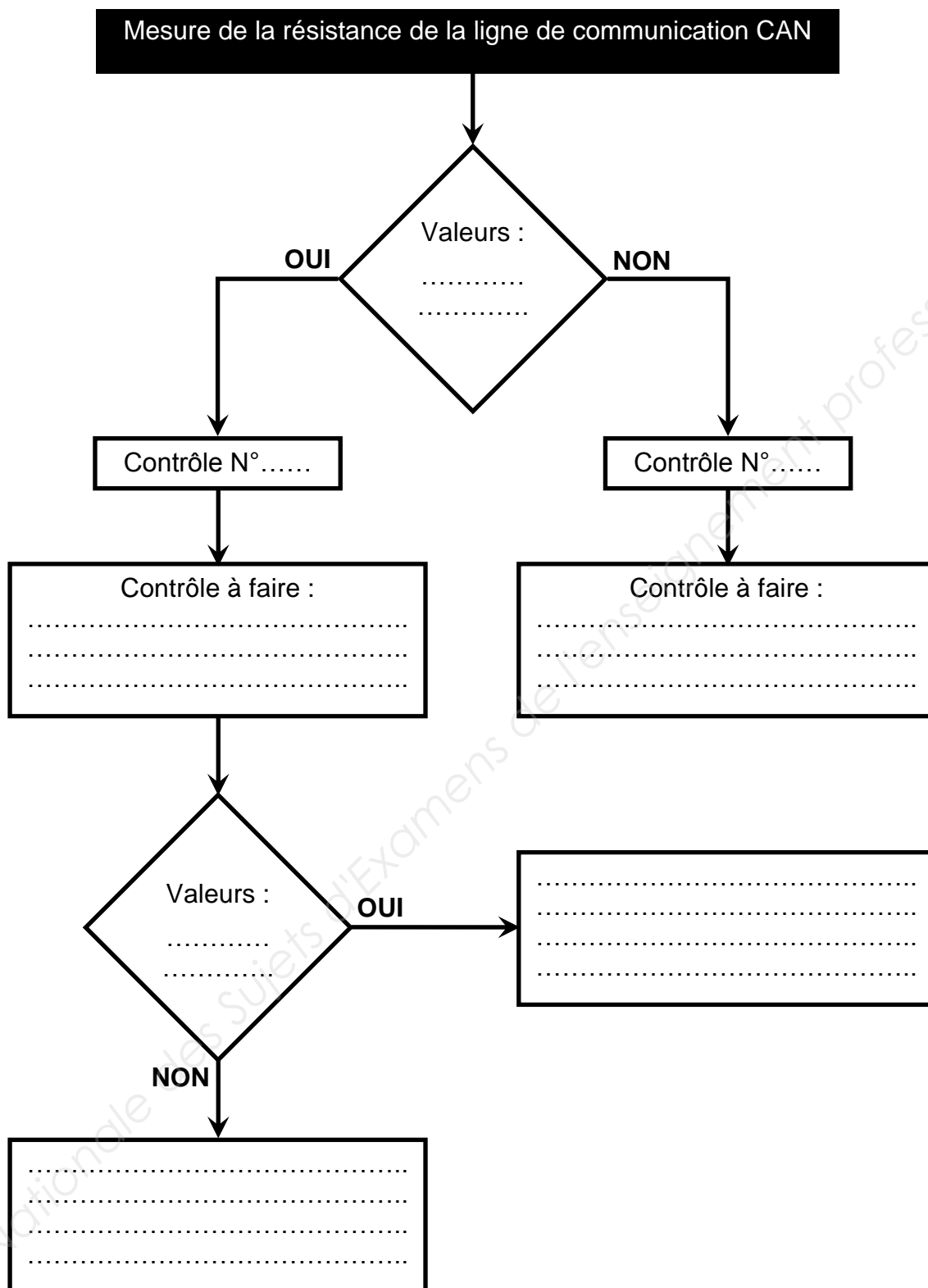
Réponse n°16 :

Nom de la prise diagnostic	Systemes électroniques avec lesquels la prise diag communique
Principale - anti démarrage	
ABS	

Réponse n°20 :



Réponse n°21 :



Baccalauréat professionnel MAINTENANCE DES VÉHICULES		Option C : MC	
E2 - Analyse préparatoire à une intervention		Dossier Réponses	Session 2019
Code : 1906-MV M T	Durée : 3 heures	Coefficient : 3	DR 7/8

