

Ce dossier comprend :

- Présentation de l'épreuve ..... document 01/06
- Transformation du chemisier " Barbara " ..... document 02/06
- Chemisier " Barbara " ..... document 03/06
- Technologie Jupe " Emeline " ..... document 04/06 à rendre
- Technologie (suite)..... document 05/06 à rendre
- Patron de base ..... document 06/06

GROUPEMENT EST	Session 2000	SUJET	Tirages
CAP COUTURE FLOU		Code	
Epreuve : EP1 Préparation, mise en œuvre, arts appliqués - Durée : 20 h coef 10		Page 1/6	
Sous-épreuve : A2 PREPARATION TECHNOLOGIE Durée : 2 h coef. 2			

## SUJET

L'atelier « AZUR » va réaliser la commande du chemisier « BARBARA » et la jupe « EMELINE ». Le responsable doit créer la patron du chemisier. Il doit informer la cliente sur l'entretien et la texture du tissu utilisé pour la jupe et doit étudier un dossier technique pour sa fabrication.

### Transformation du chemisier " Barbara" Taille 38

On vous donne:

- Un sujet
- Le patron du devant T38
- Une feuille blanche
- Une étiquette

Description:

- Chemisier avec empiècement boutonné.
- Encolure "carrée"

On vous demande : ( en vous référant au folio n° 3/6)

\*D'effectuer la transformation du devant droit (jusqu'à la taille).

- Panneau devant.
- Coté.
- Empiècement avec croisure et parementure (suivant schéma)  
(empiècement passant par le point de poitrine)

*(Méthode de transformation à votre initiative par traçage ou découpage.)*

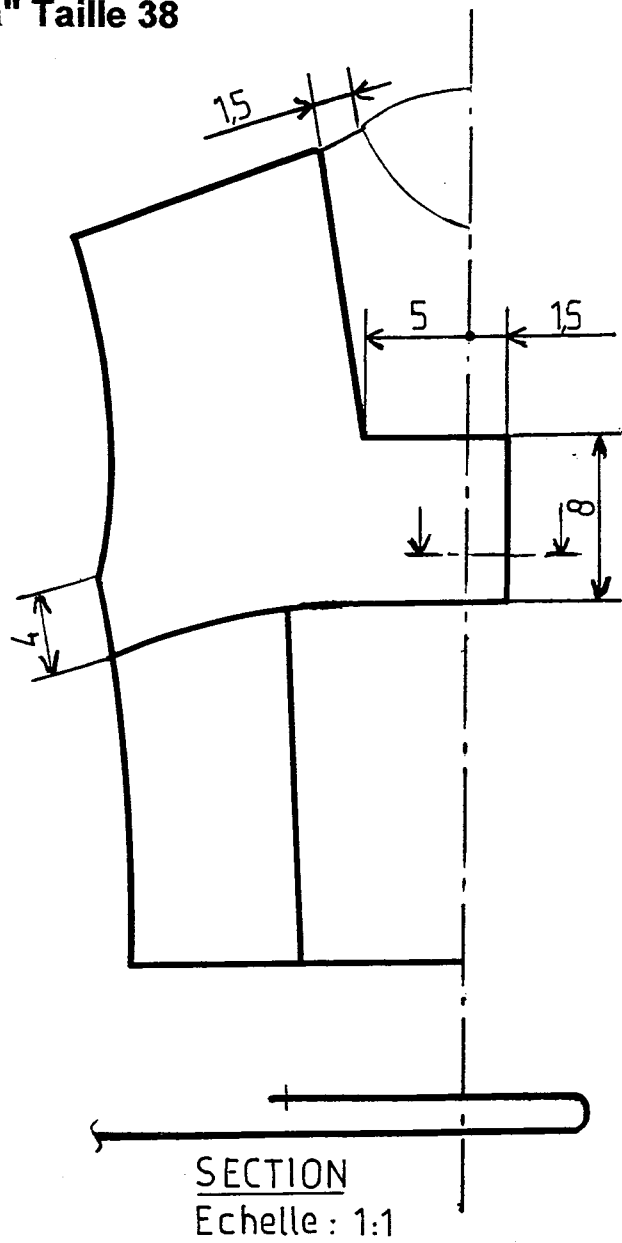

\*D'indiquer les renseignements utiles.

L'évaluation portera sur:

- Le décodage et le respect des consignes.
- L'inscription des renseignements utiles.
- La mise au point du patron.
- Le soin et la précision.

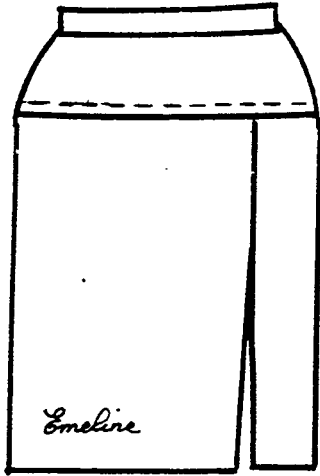
Remarque: l'étiquette du candidat sera agrafée en bas à gauche de la planche.

# Transformation du chemisier " Barbara" Taille 38




3	2	Empiècement
2	2	Coté
1	1	Panneau milieu devant
Rp	Nb	Désignation

# TECHNOLOGIE : Jupe «EMELINE »

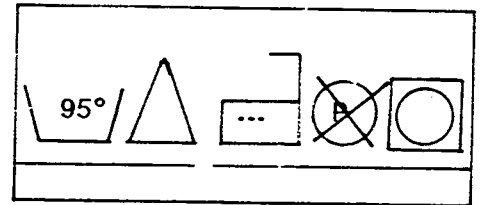
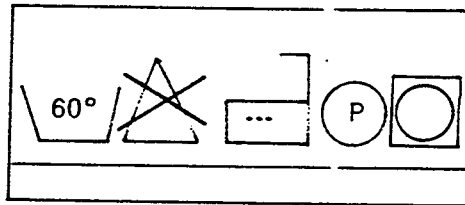
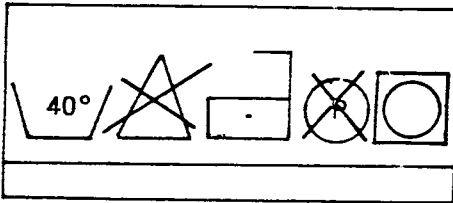


Tissu : type "lainage"

Composition : 60% laine  
40% polyester



1) Indiquer par une croix le code d'entretien correspondant à cette jupe.



2) Par rapport à la composition

- donner la où les origines

Matière	Origine

- donner le nom de l'armure ci-dessus

3) Pour réaliser cette jupe :

- Choisir les matériaux et le matériel approprié dans ce qui est proposé ci-dessous.
- Indiquer par une croix la réponse choisie.

a) Aiguille

 80

 70

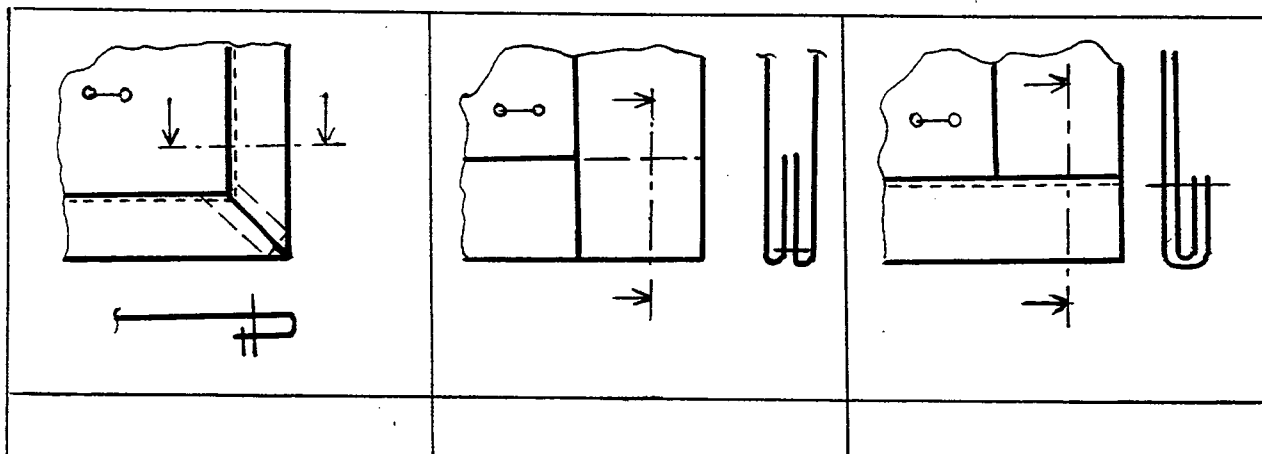
 100

b) Densité du point.

Assemblages	
<input type="checkbox"/>	8 pts / cm
<input type="checkbox"/>	5 pts / cm
<input type="checkbox"/>	4 pts / cm

Surpiqûres	
<input type="checkbox"/>	6 pts / cm
<input type="checkbox"/>	4 pts / cm
<input type="checkbox"/>	5 pts / cm

4) Choisir une des 3 solutions de finition du bas de la fente pour la jupe "Emeline" (précisez par une croix)



5) En cours de confection, le fil de l'aiguille de la piqueuse plate casse fréquemment.  
Citer deux causes de cet incident.

1 .....

2 .....

6) Citer deux précautions à prendre pour utiliser le fer à repasser à vapeur.

1 .....

2 .....

7) Sur quel fil agissez-vous pour défaire le point de surjet.


.....

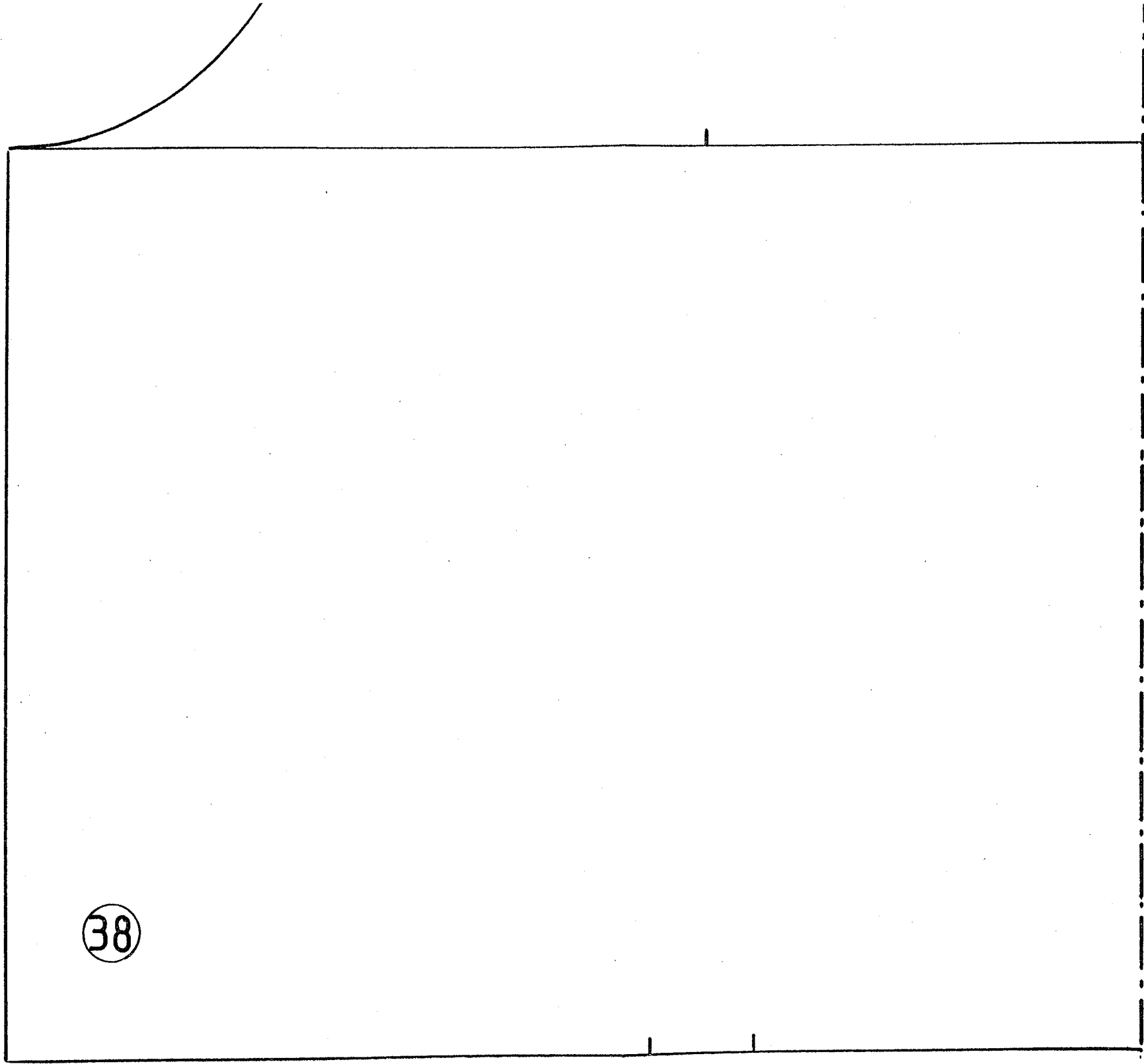
8) Indiquer par une croix les organes effecteurs de la surjeteuse raseuse.

<input type="checkbox"/>	Aiguille
<input type="checkbox"/>	Pied presseur
<input type="checkbox"/>	Griffes

<input type="checkbox"/>	Bloc tension
<input type="checkbox"/>	Plaque à aiguille
<input type="checkbox"/>	Boitier

<input type="checkbox"/>	Crochet
<input type="checkbox"/>	Boucleurs
<input type="checkbox"/>	Canette





38