

**Sujet**

N° de candidat :

Ce dossier comprend :

–Le travail demandé et le plan de traçage global de la cabine :

***Sélectionner ci-dessous la proposition qui correspond au poste de travail du candidat***

1 - mur du fond  $\geq$  2,00 m cabine côté gauche : page 2 / 7

2 - mur du fond  $\geq$  2,00 m cabine côté droit : page 3 / 7

3 - mur du fond  $<$  2,00 m cabine côté gauche : page 4 / 7

4 - mur du fond  $<$  2,00 m cabine côté droit : page 5 / 7

–Le plan de traçage du mur B : page 6 / 7

–Une proposition de mode opératoire : page 7 / 7

**Nota** : Les surveillants évaluent l'organisation et le soin du poste de travail pendant l'épreuve : 10 points


Durée de l'épreuve : 12 heures (4 heures peuvent être ajoutées en fin d'épreuve pour la remise en état des cabines. Ces heures sont indépendantes de l'épreuve)

La tenue blanche et propre est de rigueur.

Il est interdit de fumer ou de quitter l'atelier pendant la durée de l'épreuve.

Une pause de 10 minutes sera prévue par séance de 4 heures.

Groupement académique " Est "		Session 2000	SUJET
BEP FINITION dominante : Peinture – Vitrerie – Revêtements et CAP associé Peinture Vitrerie Revêtement			Secteur A : Industriel
Epreuve EP1 B « Pratique » "REALISATION ET TECHNOLOGIE"	Durée : 12 H	Coef. : BEP : 5 Coef. : CAP : 5	Page 1 / 7



- A** Pose de 2 lés de papier fibreux (ingrain) ainsi que retombée de plafond. Retombée de 25 cm.
- B** Traçage et application de peinture (voir page 6/7).
- C** Soubassement : Application de pâte à papier (type Fibrite) Teinte au choix du candidat.
- D** Application de peinture alkyde satinée Teinte plus soutenue que le soubassement
- E** Pose de papier peint à motifs - 4 lés
- F** Bande neutre (5cm) à ne pas peindre

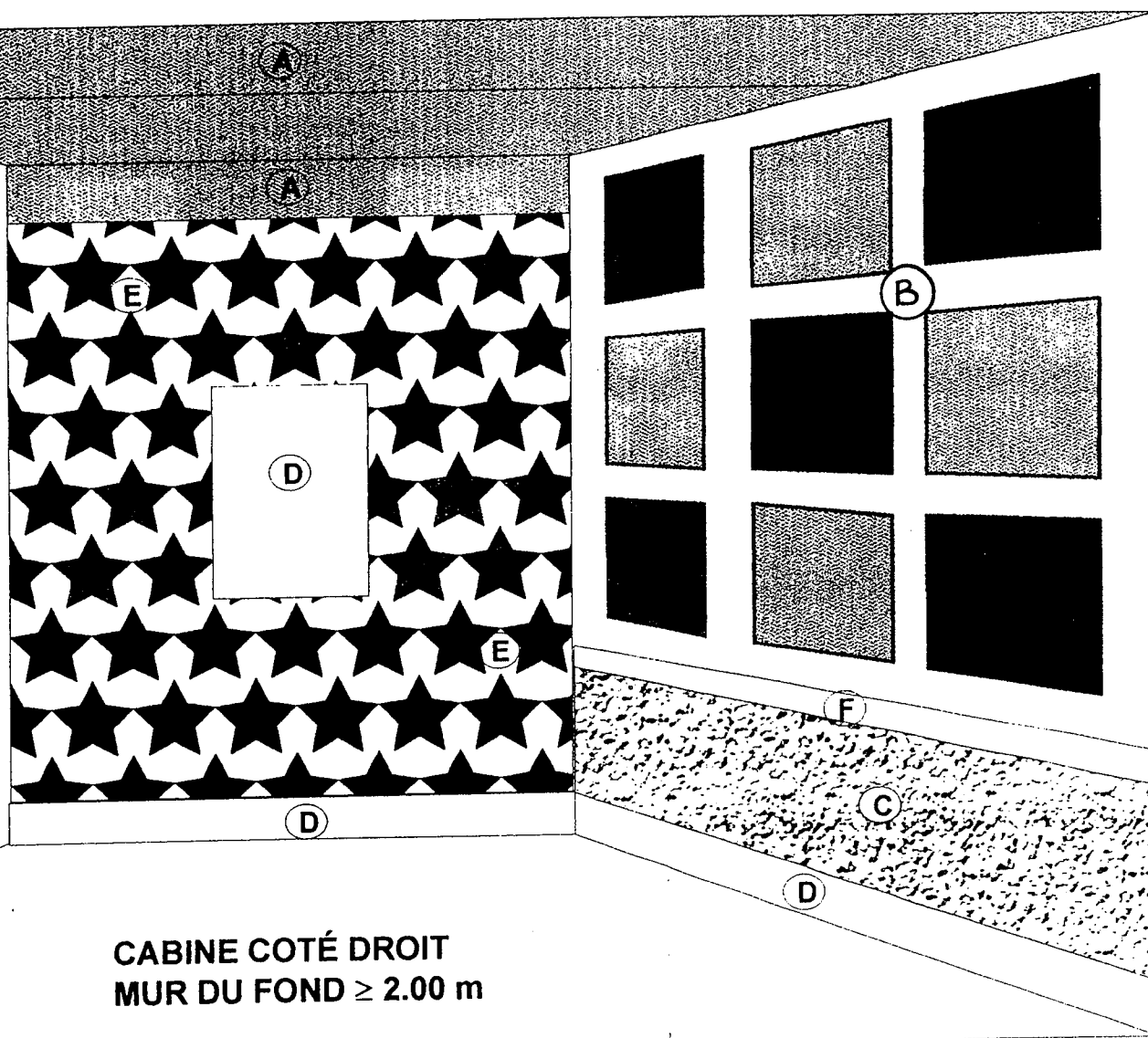
**CABINE COTÉ GAUCHE  
MUR DU FOND  $\geq 2.00$  m**

N° de candidat :

**BEP FINITION dominante : Peinture – Vitrierie – Revêtements  
et CAP associé Peinture Vitrierie Revêtement  
EP1 B « Pratique » - "REALISATION ET TECHNOLOGIE"**

**SESSION 2000  
SUJET page 2 / 7**

- A** Pose de 2 lés de papier fibreux (ingrain) ainsi que retombée de plafond. Retombée de 25 cm.
- B** Traçage et application de peinture (voir page 6/7).
- C** Soubassement : Application de pâte à papier (type Fibrite) Teinte au choix du candidat.
- D** Application de peinture alkyde satinée Teinte plus soutenue que le soubassement
- E** Pose de papier peint à motifs - 4 lés
- F** Bande neutre (5cm) à ne pas peindre

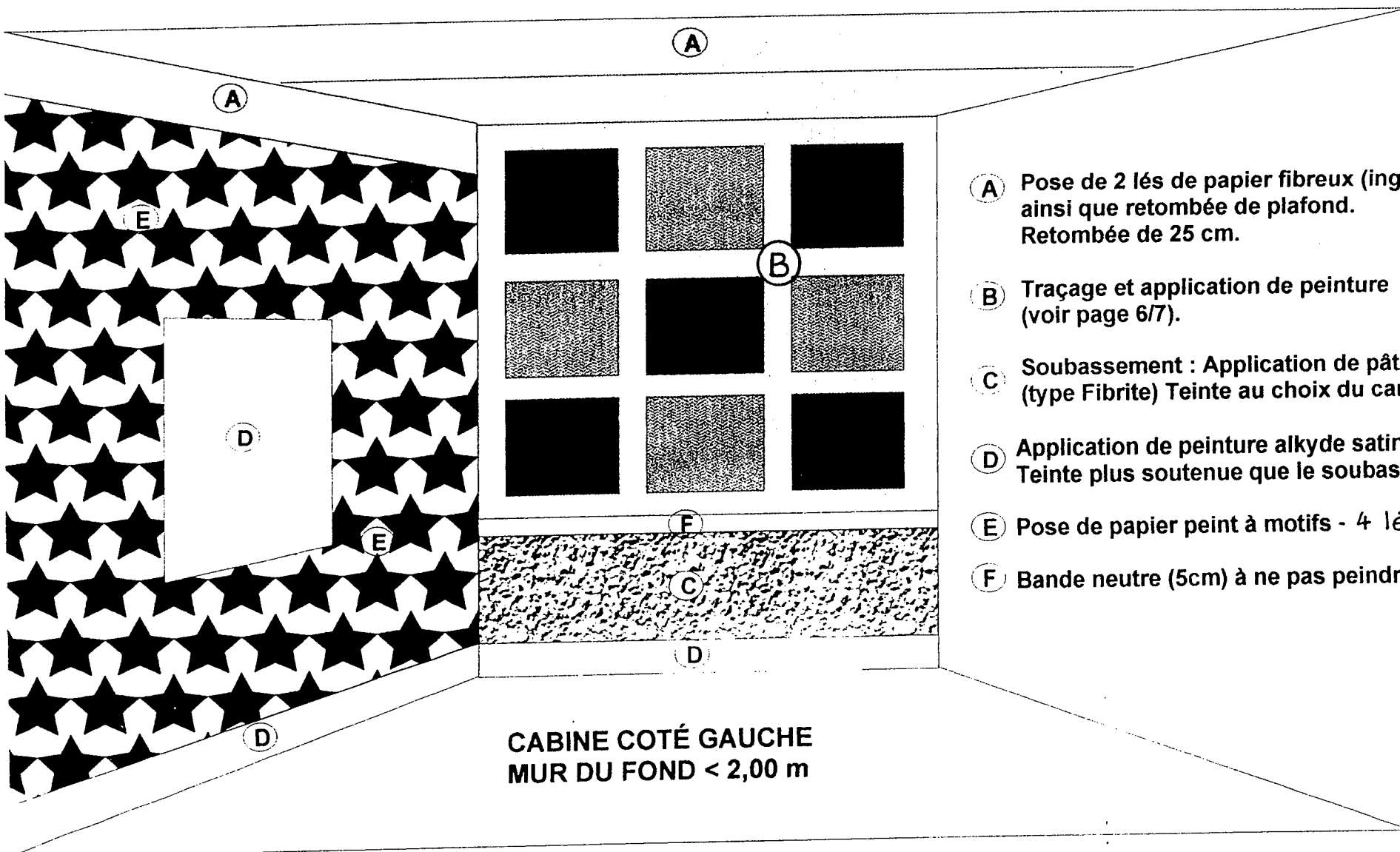


**CABINE COTÉ DROIT**  
**MUR DU FOND ≥ 2.00 m**

N° de candidat :

**BEP FINITION dominante : Peinture – Vitrierie – Revêtements**  
**et CAP associé Peinture Vitrierie Revêtement**  
**EP1 B « Pratique » - "REALISATION ET TECHNOLOGIE"**

**SESSION 2000**  
**SUJET page 3 / 7**



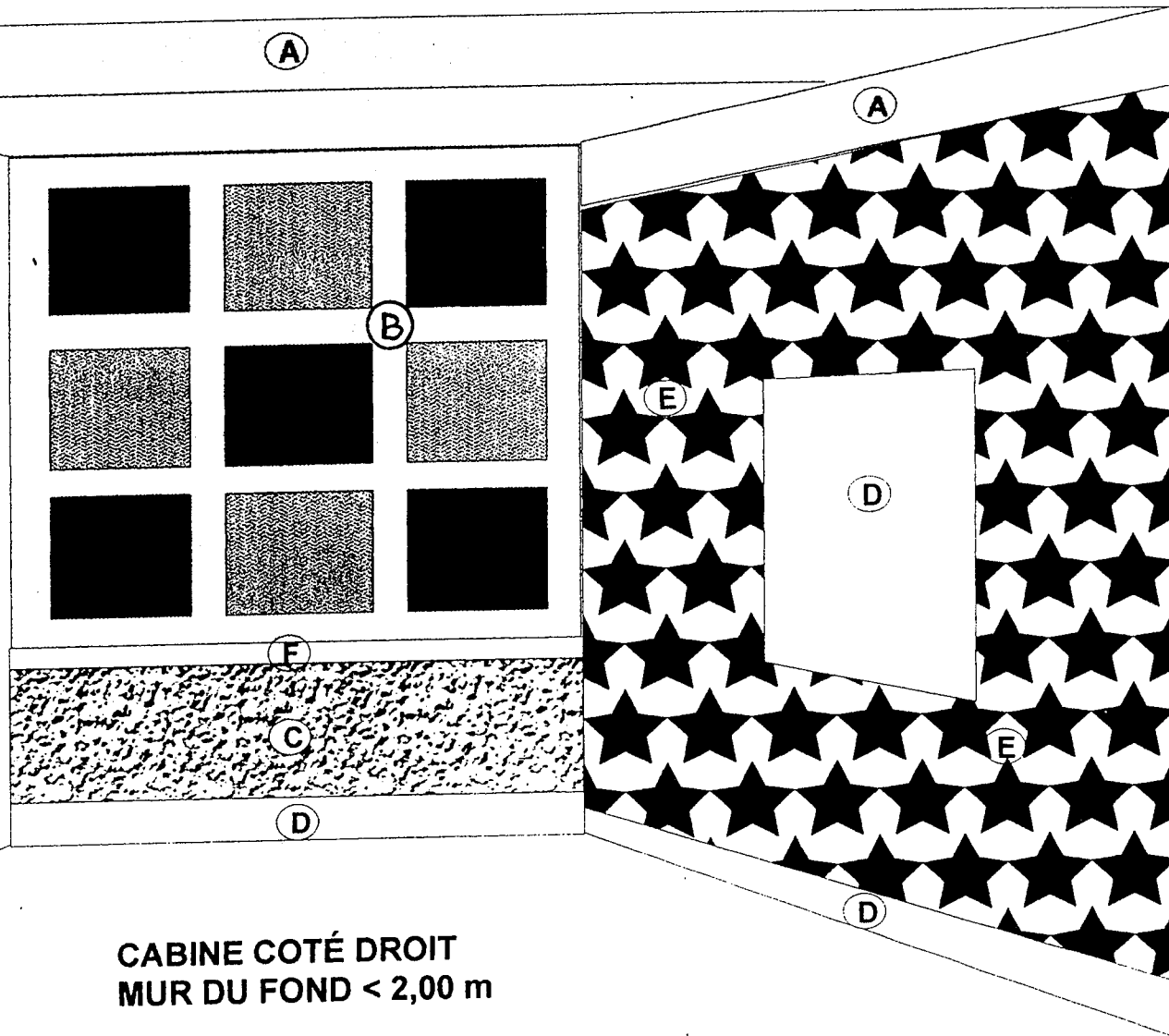
- (A)** Pose de 2 lés de papier fibreux (ingrain) ainsi que retombée de plafond. Retombée de 25 cm.
- (B)** Traçage et application de peinture (voir page 6/7).
- (C)** Soubassement : Application de pâte à papier (type Fibrite) Teinte au choix du candidat.
- (D)** Application de peinture alkyde satinée Teinte plus soutenue que le soubassement
- (E)** Pose de papier peint à motifs - 4 lés
- (F)** Bande neutre (5cm) à ne pas peindre

N° de candidat :

**BEP FINITION dominante : Peinture – Vitrierie – Revêtements**  
**et CAP associé Peinture Vitrierie Revêtement**  
**EP1 B « Pratique » - "REALISATION ET TECHNOLOGIE"**

**SESSION 2000**  
**SUJET page 4 / 7**

- A** Pose de 2 lés de papier fibreux (ingrain) ainsi que retombée de plafond. Retombée de 25 cm.
- B** Traçage et application de peinture (voir page 6/7).
- C** Soubassement : Application de pâte à papier (type Fibrite) Teinte au choix du candidat.
- D** Application de peinture alkyde satinée Teinte plus soutenue que le soubassement
- E** Pose de papier peint à motifs - 4 lés
- F** Bande neutre (5cm) à ne pas peindre

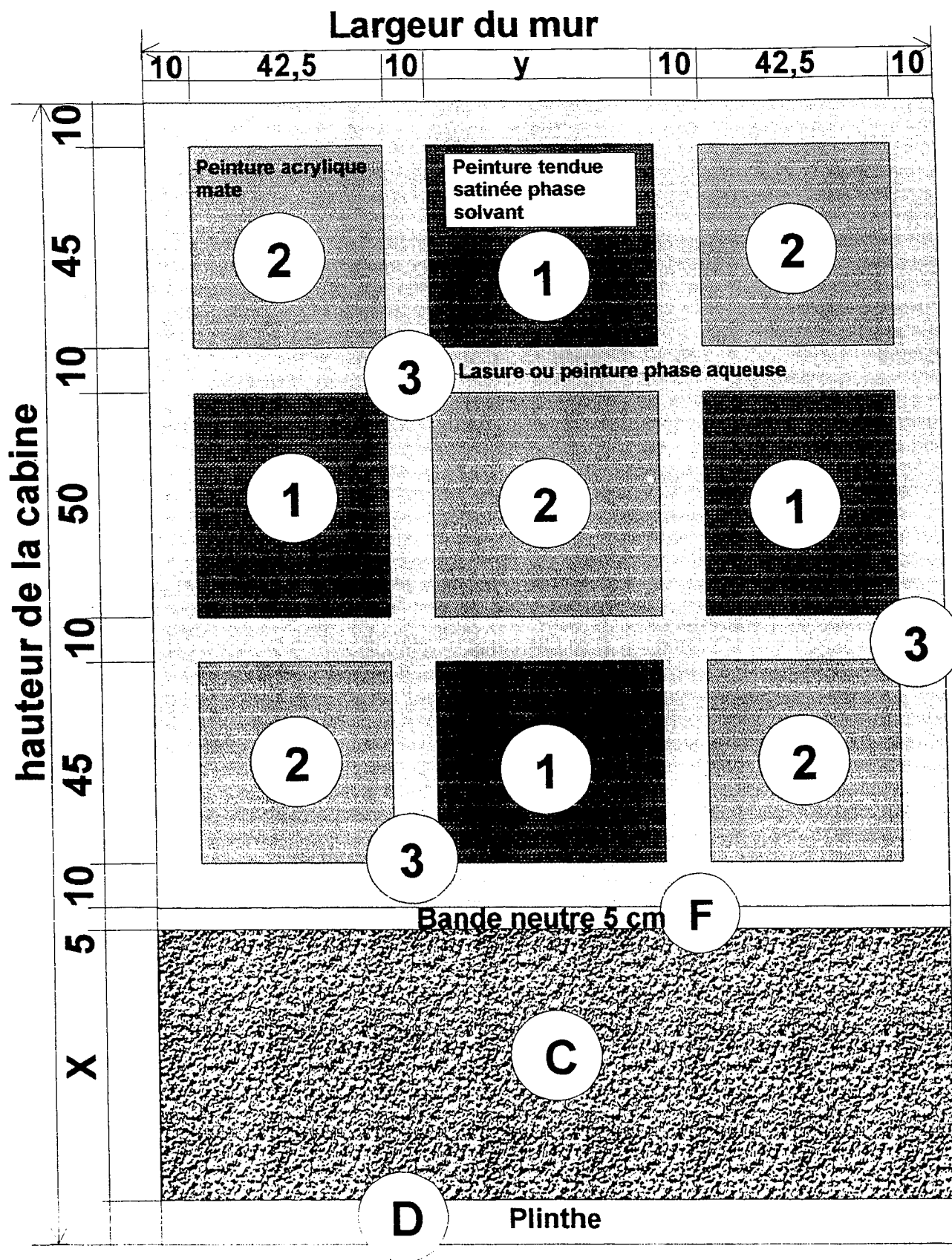


N° de candidat :

BEP FINITION dominante : Peinture – Vitrierie – Revêtements  
 et CAP associé Peinture Vitrierie Revêtement  
 EP1 B « Pratique » - "REALISATION ET TECHNOLOGIE"

SESSION 2000  
 SUJET page 5 / 7

# Plan de traçage du mur B



N° de candidat :

# MODE OPÉRATOIRE

N°	Opération	Repères		Renseignements techniques	Temps	Note
		Pages 2,3,4,5	Page 6			
	ORGANISER			le poste de travail Notation en cours d'épreuve		/ 10
1	IMPLANTER	A-B-C- D-F	1-2-3	les surfaces à réaliser	2h	/ 10
2	RÉALISER			les travaux préparatoires et les apprêts	1h	
3	APPLIQUER	B	2	une peinture mate en phase aqueuse à la brosse et au petit rouleau. <b><i>Adhésif interdit !</i></b>	1 h	/ 10
4	APPLIQUER	D		une peinture alkyde satinée sur la plinthe et la fenêtre. Teinte plus soutenue que le soubassement.	1h	/ 10
5	APPLIQUER	B	3	une lasure phase aqueuse opaque ou une peinture phase aqueuse sur la simulation de poutres du colombage. Ton brun foncé.	1 h	/ 10
6	APPLIQUER	C		un enduit à base de pâte à papier à la brosse rectangulaire. Produit à teinter dans la masse au choix du candidat.	1h	/ 10
7	POSER	A		le papier fibreux (ingrain). 2 lés en plafond, dans le sens de la longueur ; plus la retombée de 25 cm	1h30	/ 15
8	POSER	E		le papier peint à motifs sur le mur avec passage de fenêtre.	2 h	/ 15
9	APPLIQUER	B	1	la peinture alkyde satinée tendue. Le ton devra être en contraste avec les autres panneaux du mur B.	1h	/ 10
10	NETTOYER RANGER -			l'ensemble de la cabine.	0h30	

N° de candidat :