

SUJET ART APPLIQUE




A quel style appartient cette table en marqueterie avec des ornements de bronze ?


Réponse :

A quel siècle cela correspond-t-il ?


Réponse :



A




B



C



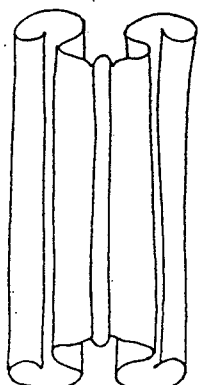
D



E

Vous sélectionnerez parmi ces cinq sièges celui qui appartient au même style que la table.

Réponse en entourant la lettre concernée :A.....B.....C.....D.....E.....



Quel est le nom de ce motif ?

Réponse :
.....

A quelle époque correspond-t-il ?


Réponse :
.....

Barème de notation : 5 histoire des styles
6 pertinence et qualité de la stylisation géométrique
6 cohérence de l'intégration dans une surface
3 soin


RECHERCHE GRAPHIQUE POUR UN DECOR

Vous complèterez les dessins manquants du poisson en vous référant aux procédés employés à côté.

Travail sur la feuille de calque jointe (esquisse possible sur cette feuille Canson)
Technique: crayon puis feutre noir



Aplat noir avec œil blanc




Aplat noir avec œil blanc



Silhouette noire avec découpes anatomiques

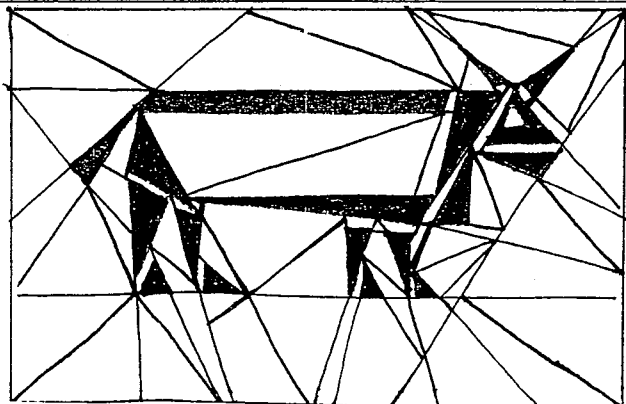


Silhouette noire avec découpes anatomiques




Stylisation avec des formes géométriques

Stylisation avec des formes géométriques



Intégration dans une surface

Intégration dans une surface



Aplat noir avec œil blanc



Silhouette noire avec découpes anatomiques

Stylisation avec des formes géométriques

Intégration dans une surface