

**BREVET D'ETUDES PROFESSIONNELLES
FINITION**

PLATRERIE : PLATRE ET PREFABRIQUES

EPREUVE ECRITE E.P.2

COEFFICIENT 6

DUREE : 4HEURES

SESSION

DOSSIER SUJET

CE DOSSIER CONTIENT LES DOCUMENTS SUJETS « DS »

1/6 2/6 3/6 4/6 5/6 6/6

ON DEMANDE	ON DONNE	ON EXIGE	REPONSES
1 - Citer la nature des matériaux employés pour les plafonds et les doublages de la chambre 1 et la chambre 2	DOSSIER RESSOURCES	Les matériaux cités sont exacts	
2 - Donner les dimensions des fenêtres de la CH2 (rep 9) et de l'escalier (rep11)	DOSSIER RESSOURCES	Pour chaque ouvrage : Dimensions exactes des hauteurs et largeurs	
3 - Pour la chambre 1 et 2 de l'étage: Calculer la surface des plafonds et des doublages	DOSSIER RESSOURCES	Le détail des calculs Les surfaces données sont justes	

Examen : BEP	Session	SUJET	Spécialité : BEP Finition Dominante Plâtrerie	Epreuve : EP2 ECRIT Analyse d'un dossier Rédaction d'un mode opératoire	Temps alloué : 4 heures	Coeff. 6	Document 1/6
--------------	---------	-------	--	---	----------------------------	----------	-----------------

REPOSES		
ON DEMANDE	ON DONNE	ON EXIGE
<p>4 - Calculer la quantité de matière d'oeuvre nécessaire à la réalisation des plafonds et doublages pour l'étage complet. La surface des plafonds et des doublages est donnée. <i>Le traitement des joints n'est pas à quantifier.</i></p>	<p>La surface des plafonds et des doublages pour l'étage Un exemple Tableau réponse Document ressource 6/6</p>	<p>Présentation conforme à la fiche technique Résultats corrects +5% erreur permis</p>

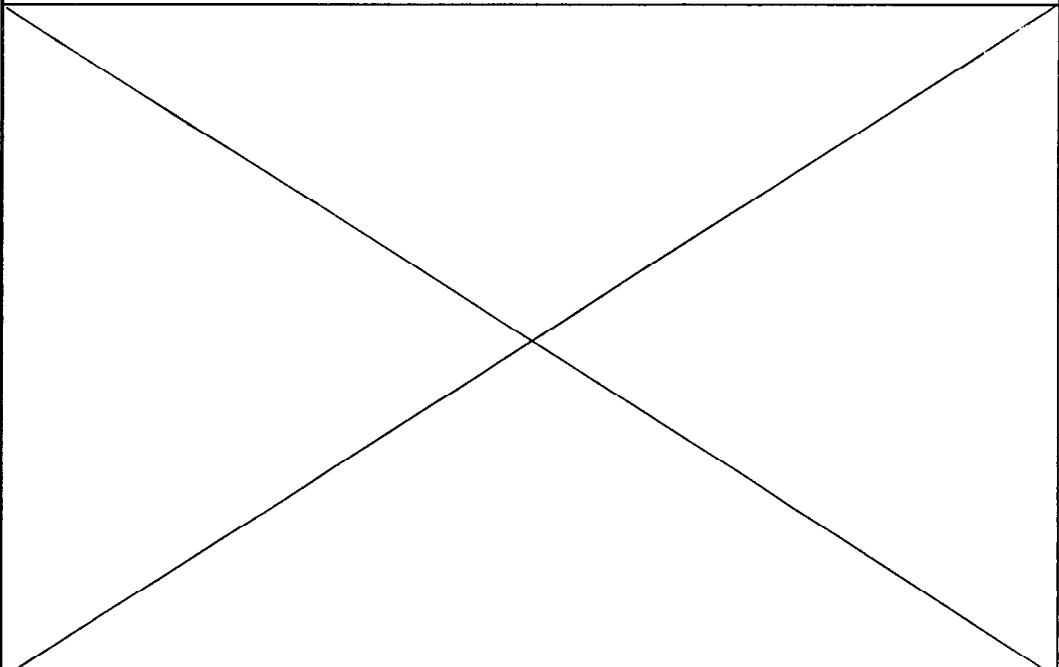
Désignation	Qté / m2	Qté réelle	Qté à commander
VIS	10	662.6	1 boîte de 1000

SURFACE DU PLAFOND : 66.26 m2

Désignation	Qté / m2	Qté réelle	Qté à commander

SURFACE DU DOUBLAGE : 69.95 m2

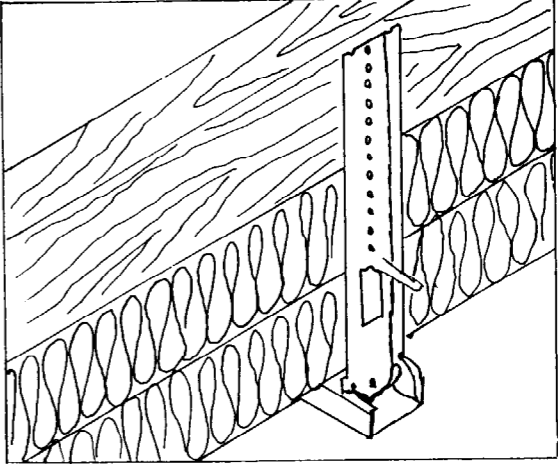
Examen : BEP	Session	SUJET	Spécialité : BEP Dominante	Epreuve : EP2 ECRIT Analyse d'un dossier Rédaction d'un mode opératoire	Temps alloué : 4 heures	Coeff. 6	Document 2/6
--------------	---------	-------	----------------------------	---	----------------------------	----------	-----------------

ON DEMANDE	ON DONNE	ON EXIGE	REPONSES
5 - Rédiger le mode opératoire pour la pose du plafond de la chambre 1	Fiches techniques Tableau réponse Document sujet 4/6	Toute les opérations sont données Le mode opératoire est conforme au descriptif et permet la réalisation du travail	

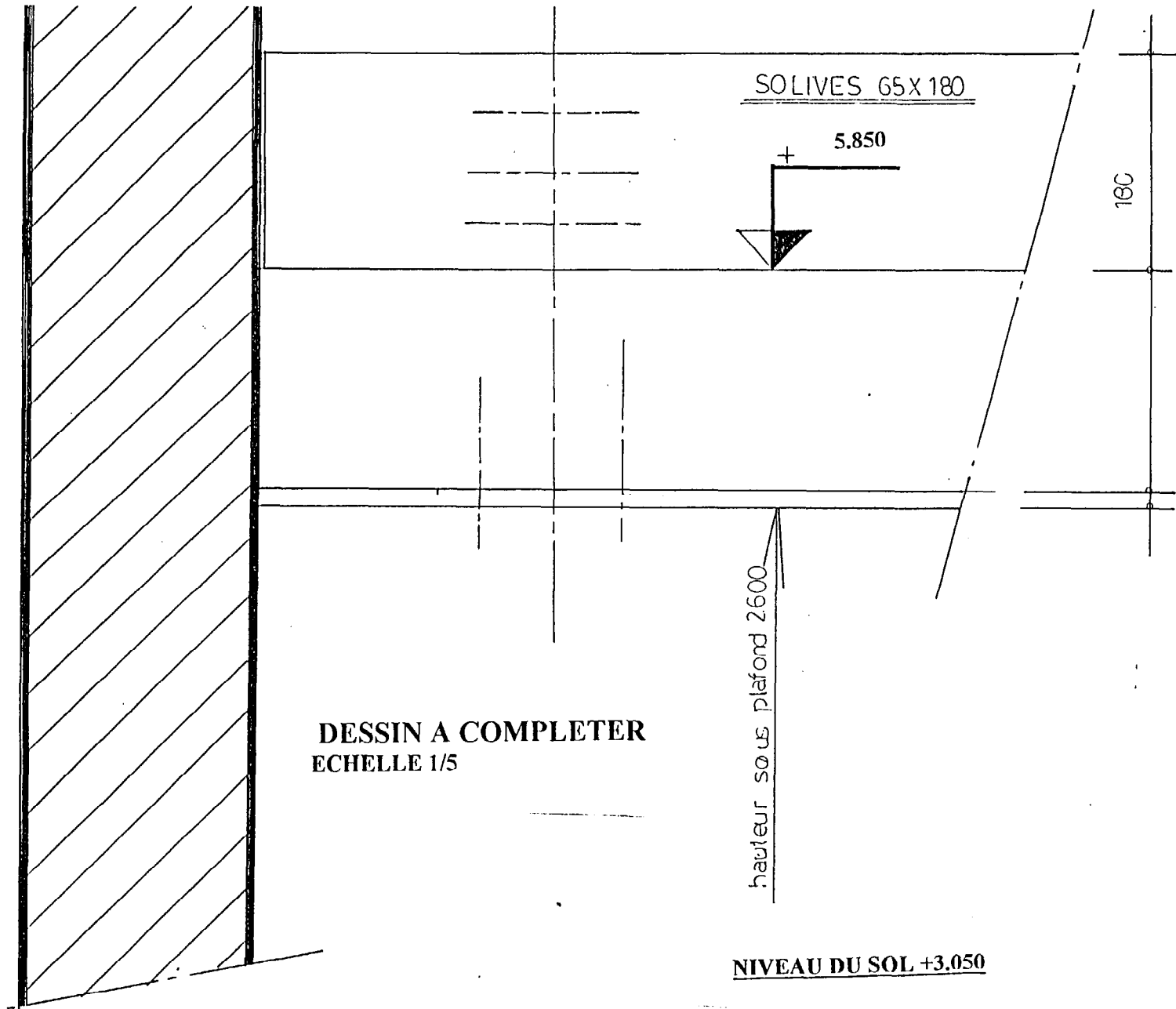
Examen : BEP	Session	SUJET	Spécialité : BEP Dominante Finition Platerie	Epreuve : EP2 ECRIT Analyse d'un dossier Rédaction d'un mode opératoire	Temps alloué : 4 heures	Coeff. 6	Document 3/6
--------------	---------	-------	--	---	----------------------------	-------------	-----------------

n°	OPERATIONS	Renseignements techniques	Croquis

Examen BEP	Session	SUJET	Spécialité BEP Finition Dominante platerie	EP2 Ecrit	Temps alloué 4 heures	Coeff. 6	Document 4/6
------------	---------	-------	---	-----------	--------------------------	----------	-----------------

ON DEMANDE	ON DONNE	ON EXIGE	REponses
<p>Réaliser une vue en coupe représentant la jonction entre le plafond et le doublage de la salle de bain (repère A)</p> <p>Le dessin est à compléter sur le document 6/6 ci joint.</p> <p>L'échelle de ce détail est au 1/5 ème et la cotation est à compléter.</p>	<p>Un plan à compléter</p> <p>La coupe verticale</p>	<p>Les différents matériaux sont représenter</p>	

Examen : BEP	Session	SUJET	Spécialité : BEP Finition Dominante Plâtrerie	Epreuve : EP2 ECRIT Analyse d'un dossier Rédaction d'un mode opératoire	Temps alloué : 4 heures	Coeff. 6	Document 5/6
--------------	---------	-------	---	---	-------------------------	----------	--------------



DESSIN A COMPLETER
ECHELLE 1/5

Examen : BEP	Session	SUJET	Spécialité : BEP Finition Dominante Plâtrerie	Epreuve : EP2 ECRIT Analyse d'un dossier Rédaction d'un mode opératoire	Temps alloué : 4 heures	Coeff. 6	Document 6/6
--------------	---------	-------	--	---	----------------------------	----------	-----------------