

Rendre la totalité du dossier et l'agrafer dans une copie modèle EN  
(anonymat à compléter)

# DOSSIER DE TRAVAIL

## EP1

FOLIO 1	Lecture de plan (Question1)
FOLIO 2	Renseignements techniques +(Question 2)
FOLIO 3	Plan schématique de l'adoucisseur pour réponse à la question 2
FOLIO 4	Plan du R de Ch pour réponse à la question 10
FOLIOS 5 et 6	Questionnaire de technologie (A complet)

Académie :	Session :
Examen ou concours :	Série* :
Spécialité/option :	Repère de l'épreuve :
Epreuve/sous-épreuve :	
NOM	
(en majuscules, suivi s'il y a lieu, du nom d'épouse)	n° du candidat <input type="text"/>
Prénoms :	(le numéro est celui qui figure sur la convocation ou liste appel)
Né(e) le :	
Examen :	Série* :
Spécialité/option :	
Repère de l'épreuve :	
Epreuve/sous-épreuve :	
Note :	Appréciation du correcteur (uniquement s'il s'agit d'un examen) :
<input type="text" value="20"/>	

Il est interdit aux candidats de signer leur composition ou d'y mettre un signe quelconque pouvant indiquer sa provenance.

**Sujet interacadémique**

**Session 2000**

**CAP Entretien des Articles Textiles  
en Entreprises Artisanales**  
Code : 500-24002

**EP1 : Préparation, mise en œuvre**

➤ **Technologie**

*Durée* : 4 h 00

*Coefficient* : 10

Les réponses sont à rédiger sur les documents.  
A l'issue de l'épreuve, vous remettrez l'ensemble de ces documents.

~~NE RIEN INSCRIRE  
DANS CETTE PARTIE~~

**L'évaluation portera sur :**

- L'exactitude des réponses
- La pertinence des réponses
- L'emploi du vocabulaire technique
- Les propositions compatibles avec les données

Les sujets que vous avez à traiter sont présentés ci-après :

- Indiquer dans les cases les réponses qui vous semblent justes
- Répondre aux questions qui vous sont posées
- Justifier vos réponses
- Compléter les tableaux ci-joints

Sujet Interacadémique	Examen :CAP	Session 2000	Sujet
Spécialité : CAP Entretien Des Articles Textiles en Entreprises Artisanales		Epreuve : EP1 Préparation, mise en oeuvre partie écrite technologie	
Temps alloué : 4 h	Coefficient : 10	Document réponse :	Document :0/4

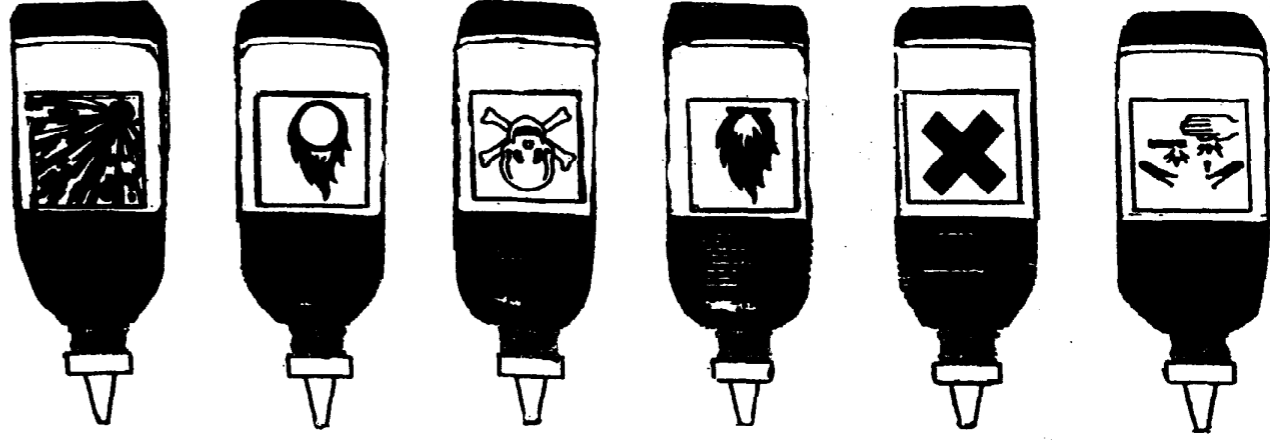
DANS CETTE PARTIE

NE RIEN INSCRIRE

Vous disposez à votre poste de détachage de six flacons sur lesquels figurent des pictogrammes concernant les étiquettes de produits chimiques.

1) Indiquez dans chaque case la signification correspondante aux pictogrammes

-Facilement inflammable  
-Toxique  
-Corrosif  
-Explosif  
-Très toxique  
-Comburant  
-Nocif  
-Inflammable



A					
B					
C					
D					
E					
F					

2) Quelles sont les précautions à prendre pour chacun de ces produits ?

**PRECAUTIONS D'EMPLOI**

A	D		
B	E		
C	F		

Sujet Interacadémique	Examen : CAP	Session 2000	Sujet
Spécialité : CAP Entretien Des Articles Textiles en Entreprises Artisanales		Epreuve : EPI Préparation, mise en œuvre partie écrite technologique	
Temps alloué : 4 h	Coefficient : 10	Document réponse :	Document : 1/4

Académie : \_\_\_\_\_ Série\* : \_\_\_\_\_

Examen ou concours : \_\_\_\_\_ Repère de l'épreuve : \_\_\_\_\_

Spécialité/option : \_\_\_\_\_

Epreuve/sous-épreuve : \_\_\_\_\_

NOM

(en majuscules, suivi s'il y a lieu, du nom d'épouse)

Prénoms : \_\_\_\_\_

Né(e) le : \_\_\_\_\_

n° du candidat

(le numéro est celui qui figure sur la convocation ou liste appel)

NE RIEN ECRIRE

Examen : \_\_\_\_\_

Série\* : \_\_\_\_\_

Spécialité/option : \_\_\_\_\_

Repère de l'épreuve : \_\_\_\_\_

Epreuve/sous-épreuve : \_\_\_\_\_

Note :

20

Appréciation du correcteur (uniquement s'il s'agit d'un examen) :

Il est interdit aux candidats de signer leur composition ou d'y mettre un signe quelconque pouvant indiquer sa provenance.

**Sujet interacadémique****Session 2000**

**CAP Entretien des Articles Textiles  
en Entreprises Artisanales**

Code : 500-24002

**EP1 : Préparation, mise en œuvre**

➤ **Technologie**

*Durée* : 4 h 00

*Coefficient* : 10

Les réponses sont à rédiger sur les documents.

A l'issue de l'épreuve, vous remettrez l'ensemble de ces documents.

~~NE RIEN INSCRIRE  
DANS CETTE PARTIE~~

**L'évaluation portera sur :**

- L'exactitude des réponses
- La pertinence des réponses
- L'emploi du vocabulaire technique
- Les propositions compatibles avec les données

Les sujets que vous avez à traiter sont présentés ci-après :

- Indiquer dans les cases les réponses qui vous semblent justes
- Répondre aux questions qui vous sont posées
- Justifier vos réponses
- Compléter les tableaux ci-joints

Sujet Interacadémique	Examen :CAP	Session 2000	Sujet
Spécialité : CAP Entretien Des Articles Textiles en Entreprises Artisanales		Epreuve : EP1 Préparation, mise en oeuvre partie écrite technologie	
Temps alloué : 4 h	Coefficient : 10	Document réponse :	Document :0/4

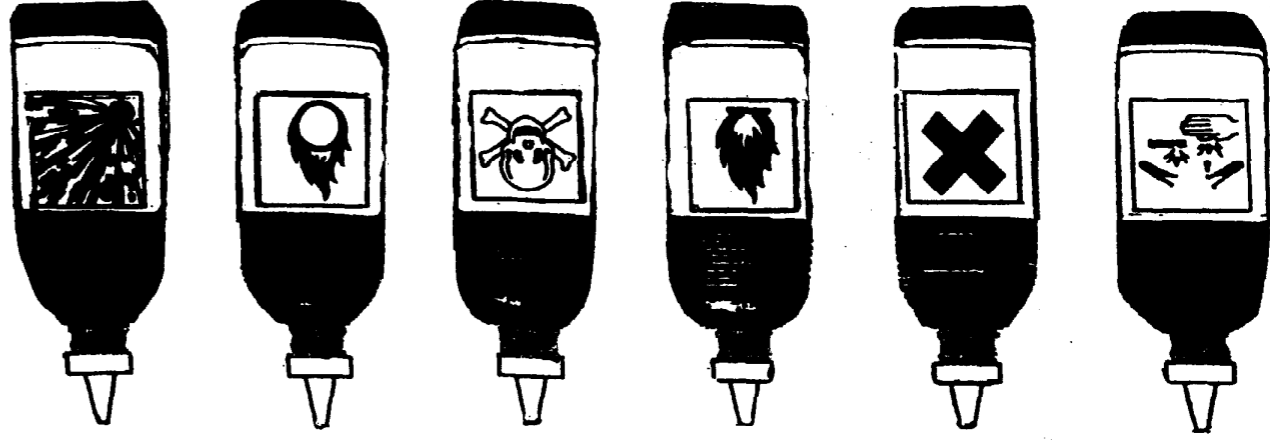
DANS CETTE PARTIE

NE RIEN INSCRIRE

Vous disposez à votre poste de détachage de six flacons sur lesquels figurent des pictogrammes concernant les étiquettes de produits chimiques.

1) Indiquez dans chaque case la signification correspondante aux pictogrammes

-Facilement inflammable  
-Toxique  
-Corrosif  
-Explosif  
-Très toxique  
-Comburant  
-Nocif  
-Inflammable



A					
B					
C					

2) Quelles sont les précautions à prendre pour chacun de ces produits ?

**PRECAUTIONS D'EMPLOI**

A	D		
B	E		
C	F		

Sujet Interacadémique	Examen : CAP	Session 2000	Sujet
Spécialité : CAP Entretien Des Articles Textiles en Entreprises Artisanales		Epreuve : EPI Préparation, mise en œuvre partie écrite technologique	
Temps alloué : 4 h	Coefficient : 10	Document réponse :	Document : 1/4

Académie :	Session :		
Examen ou concours :	Série* :		
Spécialité/option :	Repère de l'épreuve :		
Epreuve/sous-épreuve :			
NOM			
(en majuscules, suivi s'il y a lieu, du nom d'épouse)			
Prénoms :	n° du candidat <input type="text"/>		
Né(e) le :	(le numéro est celui qui figure sur la convocation ou liste appel)		
Examen :	Série* :		
Spécialité/option :			
Repère de l'épreuve :			
Epreuve/sous-épreuve :			
<table border="1"> <tr> <td style="width: 50px; height: 30px;">Note :</td> <td style="text-align: center; vertical-align: middle;">20</td> </tr> </table>	Note :	20	Appréciation du correcteur (uniquement s'il s'agit d'un examen) :
Note :	20		
Il est interdit aux candidats de signer leur composition ou d'y mettre un signe quelconque pouvant indiquer sa provenance.			

**Sujet interacadémique**

**Session 2000**

**CAP Entretien des Articles Textiles  
en Entreprises Artisanales  
Code : 500-24002**

**EP1 : Préparation, mise en œuvre**

➤ **Technologie**

*Durée : 4 h 00*

*Coefficient : 10*

Les réponses sont à rédiger sur les documents.  
A l'issue de l'épreuve, vous remettrez l'ensemble de ces documents.

Nombre de pages composant le sujet (chaque page étant obligatoirement paginée) : 6



NE RIEN INSCRIRE

DANS CETTE PARTIE

**L'évaluation portera sur :**

- L'exactitude des réponses
- La pertinence des réponses
- L'emploi du vocabulaire technique
- Les propositions compatibles avec les données

**Les sujets que vous avez à traiter sont présentés ci-après :**

- Indiquer dans les cases les réponses qui vous semblent justes
- Répondre aux questions qui vous sont posées
- Justifier vos réponses
- Compléter les tableaux ci-joints

<b>Sujet Interacadémique</b>	<b>Examen :CAP</b>	<b>Session 2000</b>	<b>Sujet</b>
<b>Spécialité : CAP Entretien Des Articles Textiles en Entreprises Artisanales</b>		<b>Epreuve : EP1 Préparation mise en oeuvre partie écrite technologie</b>	
<b>Temps alloué : 4 h</b>	<b>Coefficient : 10</b>	<b>Document réponse :</b>	<b>Document : 0/4</b>

~~NE RIEN INSCRIRE  
DANS CETTE PARTIE~~







Vous disposez à votre poste de détachage de six flacons sur lesquels figurent des pictogrammes concernant les étiquettes de produits chimiques.

1) Indiquez dans chaque case la signification correspondante aux pictogrammes


A	D				
B	E				
C	F				

Sujet Interacadémique	Examen : CAP	Session 2000	Sujet
Spécialité : CAP Entretien Des Articles Textiles en Entreprises Artisanales		Epreuve : EP1 Préparation, mise en œuvre partie écrite technologie	
Temps alloué : 4 h	Coefficient : 10	Document réponse :	Document : 1/4

1) Indiquez dans chaque case la signification correspondante aux pictogrammes

A	B	C	D	E	F
					
-Facilement inflammable	-Corrosif	- Explosif	- Très toxique	- Nocif	- Inflammable

**PRECAUTIONS D'EMPLOI**

2) Quelles sont les précautions à prendre pour chacun de ces produits ?

DANS CETTE PARTIE

NE RIEN INSCRIRE

A) Une cliente vous apporte à la réception de votre pressing une couverture de lit d'enfant, semblable à l'échantillon

ci-joint :

Echantillon



On vous demande:

1-d'indiquer la matière textile de cette couverture : .....

2-donner son origine : .....

3-décoder l'étiquette d'entretien de cet article

SYMBOLS	INDICATIONS	TRAITEMENTS

B)-Citer les conséquences de détérioration de cette couverture, lors d'une mauvaise programmation du thermostat du séchoir rotatif, liée à une température trop forte.

Conséquences:

1-.....

2-.....

Sujet Interacadémique	Examen : CAP	Session 2000	Sujet
Spécialité : CAP Entretien Des Articles Textiles en Entreprises Artisanales		Epreuve : EP1 Préparation, mise en œuvre partie écrite technologie	
Temps alloué : 4 h	Coefficient : 10	Document réponse :	Document : 2/4

Sujet Interacadémique		Examen : CAP	Session 2000	Sujet
Spécialité : CAP Entretien Des Articles Textiles en Entreprises Artisanales		Epreuve : EPI Préparation, mise en oeuvre partie écrite technologie		
Temps alloué : 4 h		Coefficient : 10	Document réponse :	Document : 3/4

Votre pressing est équipé d'une table à froid pointe à droite.  
 -Vous possédez un extrait de la notice du constructeur, document 3 / 3 bis  
 1) A l'aide du schéma ci-joint : on vous demande de compléter les numéros de la nomenclature N° 4-9-13-14  
 -Les désignations - Les fonctions.  
 2) Citer les avantages de la table à froid.

---



---



---



---

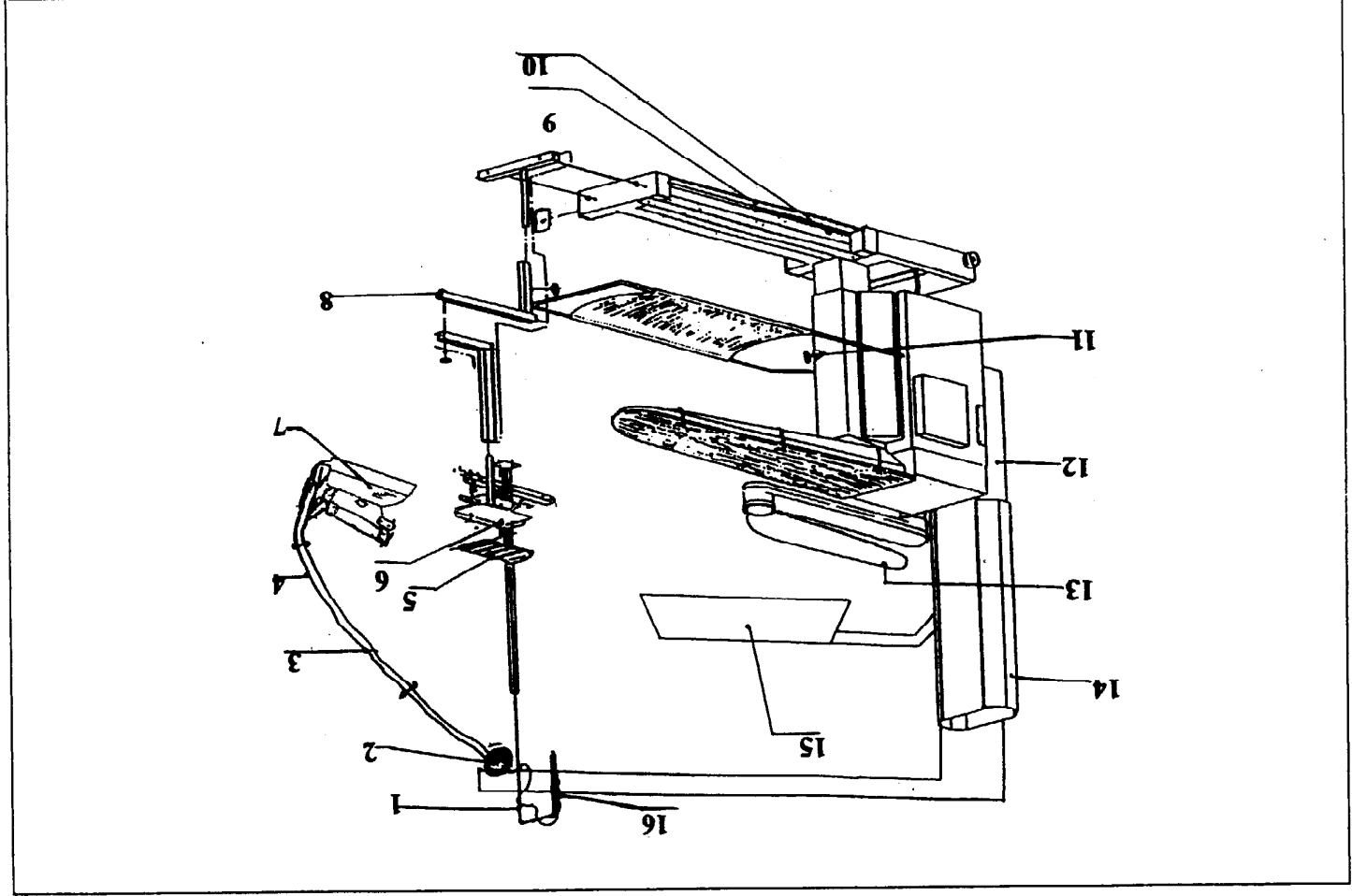


---

~~NE RIEN INSCRIRE  
 DANS CETTE PARTIE~~

NE RIEN INSCRIRE

DANS CETTE PARTIE



Document réponse	LA TABLE A FROID pointe à droite extrait de la notice du constructeur	
RP	DESIGNATION	FONCTION
1	Tige de suspension	Supporte la potence
2	Rail	Permet le déplacement du fer
3	Fil électrique	Amène l'électricité au fer
4		Amène la vapeur au fer
5	Repose fer en silicone	Protège la semelle du fer
6	Repose fer en acier	Isole le fer du N° 5
7	Fer	Permet le repassage
8	Pied articulée	-Supporte la potence
9		Maintien le tissu sur le plateau
10	Pedale de soufflerie	Commande l'arrivée de l'air sur le plateau et la jarnette
11	Bouton de réglage (hauteur de la table)	Permet le réglage en hauteur du plateau selon la taille de l'utilisateur
12	Goulotte (sortie d'air)	Permet l'évacuation de l'air
13		
14	Cheminée	
15	Eclairage	Eclaire le poste de travail
16	Ressort de suspension	Relie le fer à la tige

~~NE RIEN INSCRIRE  
DANS CETTE PARTIE~~

-Quelles sont les opérations de maintenance courante du matériel dans une entreprise artisanale de nettoyage à sec ?  
Compléter le tableau ci-dessous.

Matériel	Opérations à faire
Chaudière	
table à froid Repassage	
Fer électrique à vapeur	
Cabine de détachage	
Compresseur	

Sujet Interacadémique	Examen :CAP	Session 2000	Sujet
Spécialité : CAP Entretien Des Articles Textiles en Entreprises Artisanales		Epreuve : EPI Préparation, mise en oeuvre partie écrite technologie	
Temps alloué : 4 h	Coefficient : 10	Document réponse :	Document :4/4

**DESIGNATION DE L'EPREUVE (SUJET)**

**PREPARATION - MISE EN OEUVRE**

**EPI**

**A REMETTRE A CHAQUE CANDIDAT  
A LIRE 5 MIN AVANT LES EPREUVES  
LE DOCUMENT DOIT ETRE EMARGE**

DUREE	DESIGNATION DE L'EPREUVE		EMARGEMENT DU CANDIDAT
30 min	<ul style="list-style-type: none"> <li>- Triage et prétraitement</li> <li>- Triage d'un lot d'articles en vue du traitement. Il vous est proposé un ensemble d'articles en vue du nettoyage. En vous aidant de toutes vos connaissances, effectuer les opérations de triage.</li> <li>- Vous devez :</li> <li>- Apprécier l'état des articles à traiter</li> <li>- Rechercher et interpréter les étiquettes</li> <li>- Déterminer les traitements</li> <li>- Apprécier les difficultés de nettoyage de certains articles</li> <li>- Composer les lots sans erreur</li> </ul>		
30 min	<ul style="list-style-type: none"> <li>Nettoyage à sec</li> <li>Effectuer les différentes opérations qui vous semblent nécessaires à l'entretien d'un lot d'articles qui vous est proposé.</li> <li>Vous devez :</li> <li>- Citez les éléments et leur fonction</li> <li>- Charger et décharger rationnellement la machine</li> <li>- assurer la maintenance</li> </ul>		
1 h 30 min	<ul style="list-style-type: none"> <li>Repassage au fer d'articles provenant du nettoyage au mouillé.</li> <li>Vous devez :</li> <li>- décomposer les étapes de travail</li> <li>- organiser le poste de travail</li> <li>- respecter les règles de sécurité et d'économie de vapeur ou d'électricité</li> <li>- rendre une qualité de travail conforme au service soigné.</li> </ul>		
1 h	<ul style="list-style-type: none"> <li>Plissage :</li> <li>- jupe plissée</li> <li>Vous devez :</li> <li>- Décomposer logiquement les étapes de travail</li> <li>- Organiser le poste de travail</li> <li>- Contrôler la qualité de travail (service soigné) - Maîtriser les techniques</li> </ul>		
45 min	<ul style="list-style-type: none"> <li>Retouche - Couture</li> <li>- Remontage d'une cravate</li> <li>Vous avez à votre disposition une cravate décousue, le travail demandé, consiste à la remettre en état</li> </ul>		
1 h	<ul style="list-style-type: none"> <li>Retouche - Couture</li> <li>Vous avez à votre disposition une cravate décousue, le travail demandé, consiste à la remettre en état</li> </ul>		
<p><b>L'EVALUATION PORTERA SUR :</b></p> <ul style="list-style-type: none"> <li>- Le respect des instructions</li> <li>- Le respect des techniques</li> <li>- Le choix judicieux des produits</li> <li>- L'aspect qualitatif du travail</li> </ul>			

Sujet Interacadémique	Examen : CAP	Session 2000	Sujet
Spécialité : CAP Entretien Des Articles Textiles en Entreprises Artisanales		Epreuve : EPI Préparation mise en œuvre 2 - Partie Pratique	Document : 1/1
Temps alloué : 4h 15		Coefficient : 10	