

B.E.P.FINITION
Dominante
Solier moquettiste

SUJET

EP2 : ANALYSE ET REDACTION D'UN MODE OPERATOIRE
(partie écrite)

Durée : 4 heures

coefficient : 6

Le dossier technique est le même que pour l'épreuve EP1

Ce dossier est composé de 5 feuilles numérotées de 1/5 à 5/5 :

Feuille 1/5 à 3/5 : analyse /40

Feuille 4/5 à 5/5 : implantation et quantitatif /20

Le présent sujet est à rendre dans sa totalité en fin d'épreuve

Question n°1 : /15

Le hall de cette construction est carrelé , le client vous demande la pose d'un PVC et l'étanchéité totale du sol .

1.1 Rédiger le mode opératoire :

OPERATIONS	MATERIEL et MATIERE D'ŒUVRE
▶	▶
▶	▶
▶	▶
▶	▶
▶	▶
▶	▶
▶	▶
▶	▶
▶	▶
▶	▶
▶	▶
▶	▶
▶	▶
▶	▶
▶	▶

1.2/ Rédiger le quantitatif de matière d'œuvre pour l'exécution de ce travail :

MATIERE D'OEUVRE	SURFACE	QUANTITE
↳	↳	↳
↳	↳	↳
↳	↳	↳
↳	↳	↳

Groupement académique "Est"	Session 2001	SUJET	
BEP - CAP FINITION Sols et Moquettes			Secteur A : Industriel
Epreuve écrite : EP2 "Analyse d'un dossier et rédaction d'un mode opératoire"		Durée : 4 h	Coef.: 6
			page 1/5

1.3 Quelles sont les solutions pour l'étanchéité des sols PVC ? (5 réponses minimum)

- ✓ _____
- ✓ _____
- ✓ _____
- ✓ _____
- ✓ _____

Question n°2: / 9

Plusieurs problèmes sont apparus pendant les travaux , donner les origines possibles :

- Pouvoir collant insuffisant :
- Enduit grillé :
- Remontée de colle en surface :

Question n°3: / 3

Pour réaliser les travaux dans le hall, vous devez choisir une primaire, laquelle choisirez vous et justifiez votre choix ?

Question n°4: / 3

Quelle est la sécurité à apporter lorsque vous réalisez de la soudure à chaud ?

Groupement académique "Est"	Session 2001	SUJET	
BEP - CAP FINITION Sols et Moquettes			Secteur A : Industriel
Epreuve écrite : EP2 "Analyse d'un dossier et rédaction d'un mode opératoire"		Durée : 4 h	Coef.: 6
			page 2/5

Question n°5: /7

Sur un vieux parquet on vous demande la pose d'un pvc mince , donner le mode opératoire :

Opérations	Outils	Matière d'œuvre

Question n°6 : /3


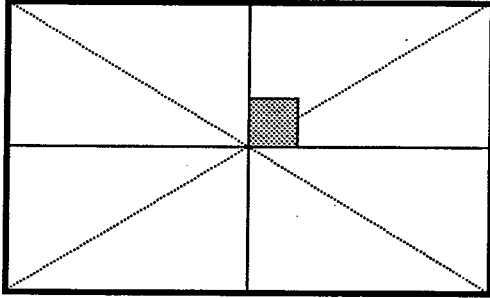
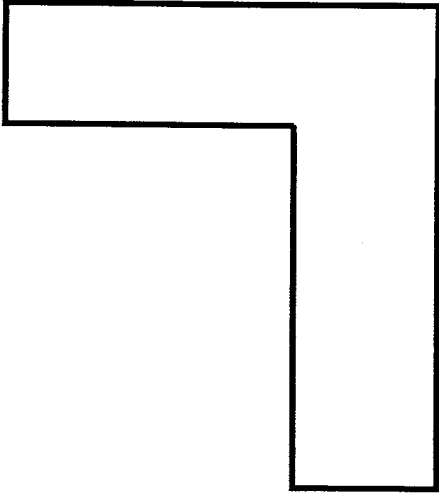
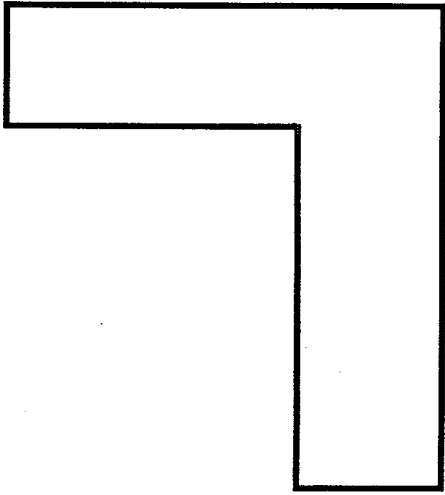
Lors de la réception d'un chantier quelles sont les tolérances admises (ouvrage fini) pour les chapes suivantes :

- Dalle préfabriquée soignée :.....
- Béton brut :.....
- Chape rapportée :.....

Groupement académique "Est"	Session 2001	SUJET	
BEP - CAP FINITION Sols et Moquettes			Secteur A : Industriel
Epreuve écrite : EP2 "Analyse d'un dossier et rédaction d'un mode opératoire"		Durée : 4 h	Coef.: 6
			page 3/5

Question n°7: /15

Pour la pose des dalles une implantation précise est nécessaire , on vous demande de tracer les équerrages et de positionner la première dalle sur le schéma des pièces suivantes.

Pose diagonale	Pose droite
	<p>EXEMPLE :</p> 
	

Groupement académique "Est"	Session 2001	SUJET	
BEP - CAP FINITION Sols et Moquettes			Secteur A : Industriel
Epreuve écrite : EP2 "Analyse d'un dossier et rédaction d'un mode opératoire"	Durée : 4 h	Coef.: 6	page 4/5

Question n°7: /5

Pour la chambre 1 (ne pas tenir compte de la cheminée), calculer le nombre de dalles pour une pose droite et une pose diagonale puis comparer les résultats :

Pose droite	Pose diagonale

Comparaison des résultats :

Groupement académique "Est"	Session 2001	SUJET	
BEP - CAP FINITION Sols et Moquettes			Secteur A : Industriel
Epreuve écrite : EP2 "Analyse d'un dossier et rédaction d'un mode opératoire"		Durée : 4 h	Coef.: 6
			page 5/5