

# EP1

## CAP CARRELAGE-MOSAIQUE

### ON DONNE :

- Le plan de l'ouvrage
- Le descriptif de l'ouvrage

### ON DEMANDE :

- D'effectuer la pose de la cloison
- De coffrer et couler les marches (béton ferme pour un démoulage rapide)
- D'effectuer l'appareillage et déterminer les coupes
- De poser le carrelage 15x15, marches et contre marches
- De jointoyer les marches et contre-marches
- De poser le revêtement sur cloison

### ON EXIGE :

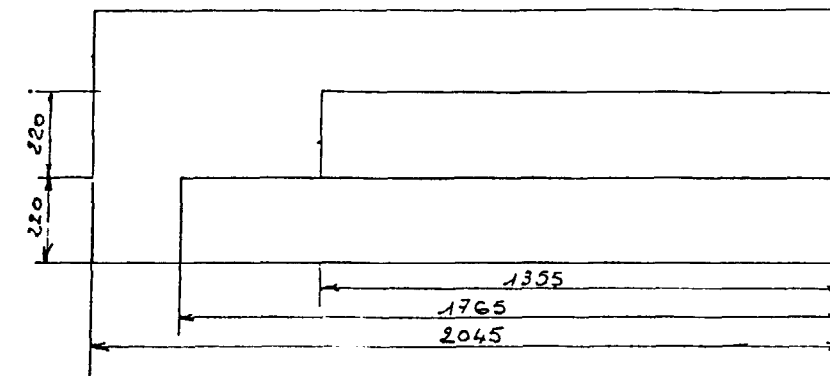
- De respecter les côtes du plan /20 pts
- la planéité (3mm sur 2m) /20 pts
- l'appareillage /20 pts
- les alignements /20 pts
- les équerrages /20 pts
- les niveaux /20 pts
- D'effectuer des joints bien remplis /20 pts
- D'effectuer les finitions avec soin /20 pts

### DESCRIPTIF DE L'OUVRAGE :

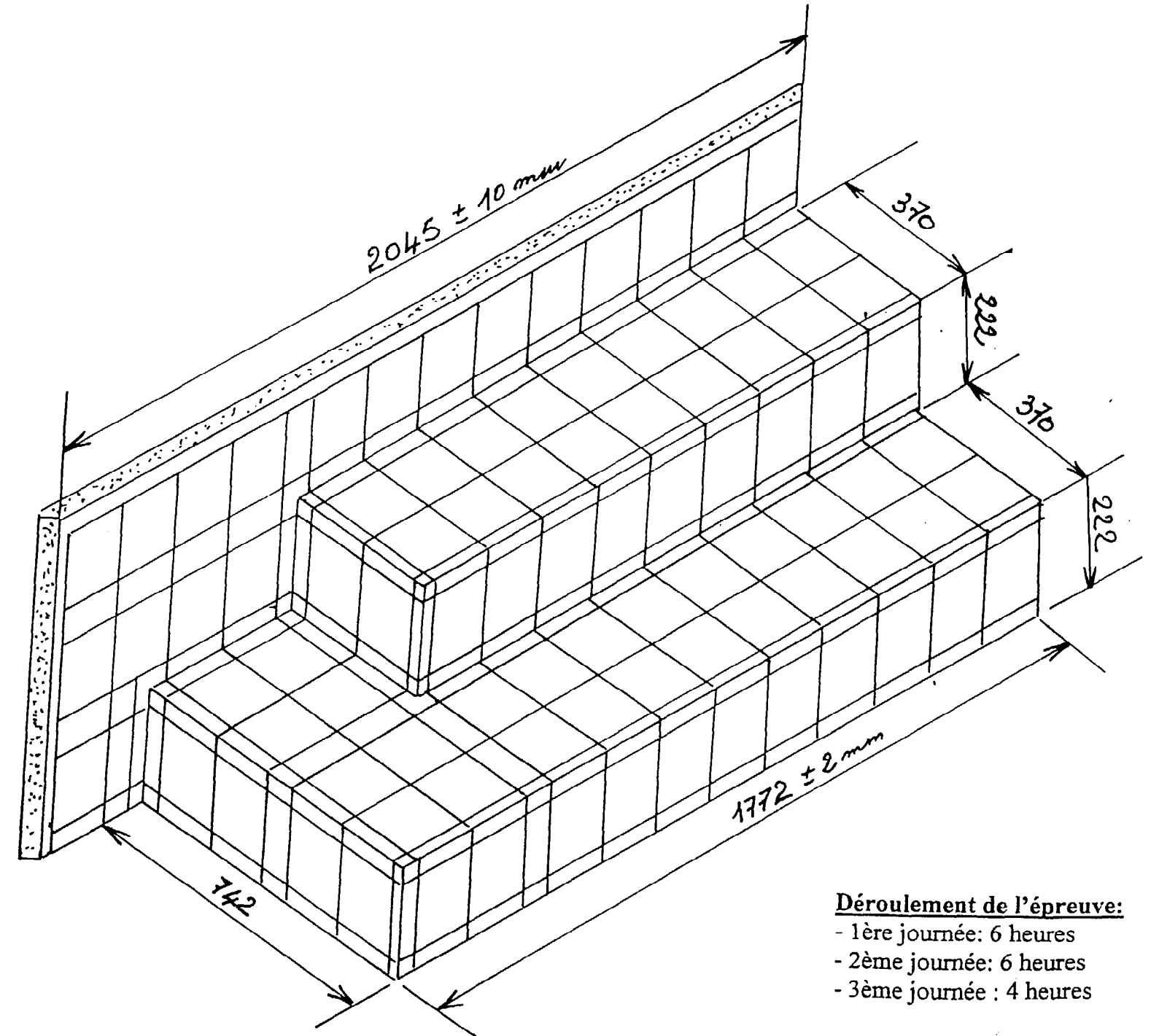
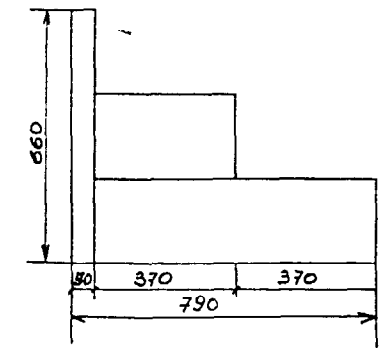
- Cloison en carreaux de plâtre 5x50x66 (pose debout)
- Façon des marches coulées au béton ferme (350 kg/m<sup>3</sup>)
- Revêtement des marches et contre-marches (grés fin émaillé 15 x 15)
- Nez de marches et angles exécutés avec coupes de couleurs assorties
- Revêtement sur cloison identique aux marches (pose à la colle en pâte)
- Joints exécutés avec le même mortier de jointoiement blanc
- Les carreaux entiers seront de couleur claire
- Les angles et les arêtes seront de couleur vive assortie

## COFFRAGE DE L'OUVRAGE

VUE DE FACE



VUE DE GAUCHE



### Déroulement de l'épreuve:

- 1ère journée: 6 heures
- 2ème journée: 6 heures
- 3ème journée : 4 heures

Code examen : 500 23315	C.A.P. CARRELAGE MOSAÏQUE	SESSION 2001
EP.1 Réalisation et technologie – Partie Pratique		
durée 16 heures	coefficient 10	SUJET
		folio 1/1