

**GROUPEMENT EST**

**SESSION: 2002**

# **C.A.P. Carrelage mosaïque**

**SUJET**

**EPREUVE EP1**

**B:**

## **Réalisation et technologie**

Pratique

**CONTENU**

**3 DOCUMENTS**

1/2

**FICHE CONTRAT**

2/2

**PLAN D'EXECUTION**

Ⓔ

**IMPORTANT**

**CONSIGNES**

**A NOTER** en cours de réalisation l'angle extérieur et le liaisonnement des blocs de béton.

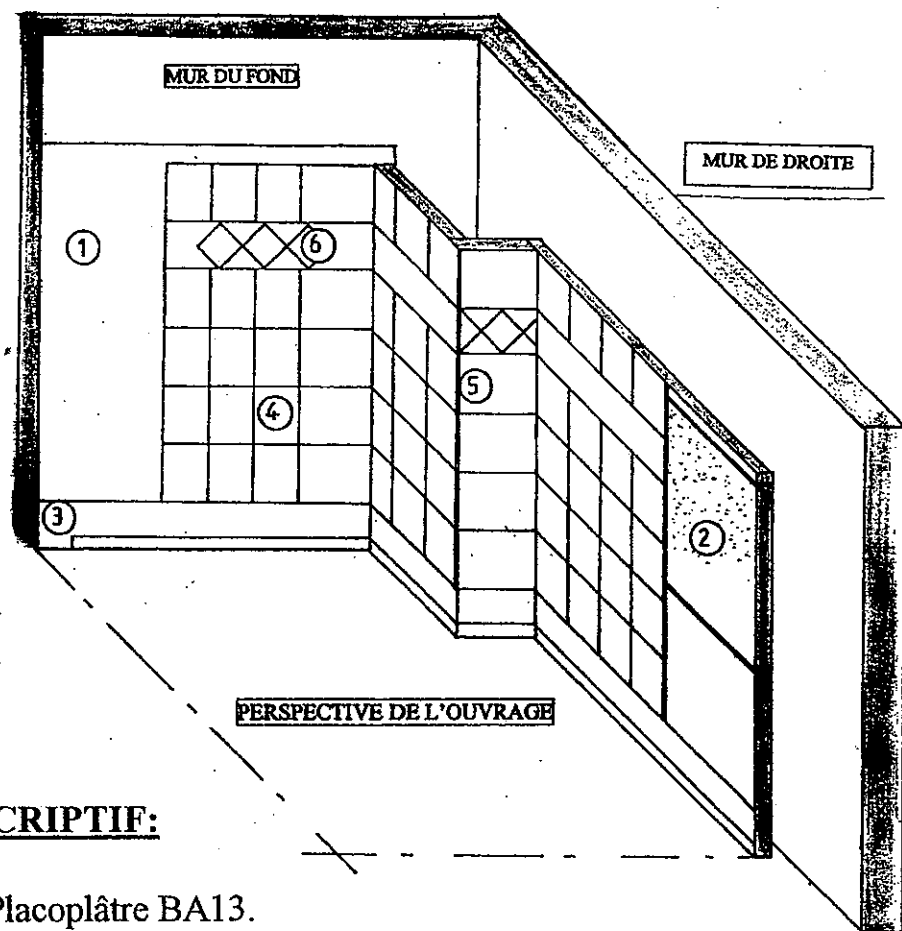
Ⓔ fiche d'évaluation en cours d'épreuve.

**DURÉE: 12 heures 30 minutes**

**Coéf.: 10**

# TRAVAUX A REALISER

**OBJECTIF: REALISER LE REVETEMENT MURAL D'UNE CUISINE**



**DESCRIPTIF:**

- ① Placoplâtre BA13.
  - ② Blocs de béton cellulaire.
  - ③ Réservation de 10 cm pour la pose des plinthes.
  - ④ Revêtement en carreaux de faïence 15 x 20 cm sur les 4 panneaux.
  - ⑤ Profil d'angle en PVC.
  - ⑥ Frise en carreaux de faïence 108 x 108 cm.
- Jointes en ciment gris.

**THEME : CUISINE DE M DUPONT**

**OUVRAGE : Partie de revêtement mural d'une CUISINE avec frise**

**ON DONNE:** Perspective de l'ouvrage

- Vue en plan
- Vue de face
- Vue de droite
- Descriptif

**ON DEMANDE :**

**PREPARATION DES SUPPORTS :**

1/ Support panneau B A 13 ou enduit au ciment (par le centre d'examen)

Tracer le trait de niveau, et implanter la cloison de séparation Implantation

2/ Réaliser une cloison en béton cellulaire de 7 cm d'épaisseur Verticalité  
Equerrage  
Liaisonnement  
Planéité  
Cueillie

A noter en cours de réalisation .../70 (E)

**REVETEMENT MURAL :**

3/ Laisser une réservation de 10 cm pour la pose d'un plinthe Réservation

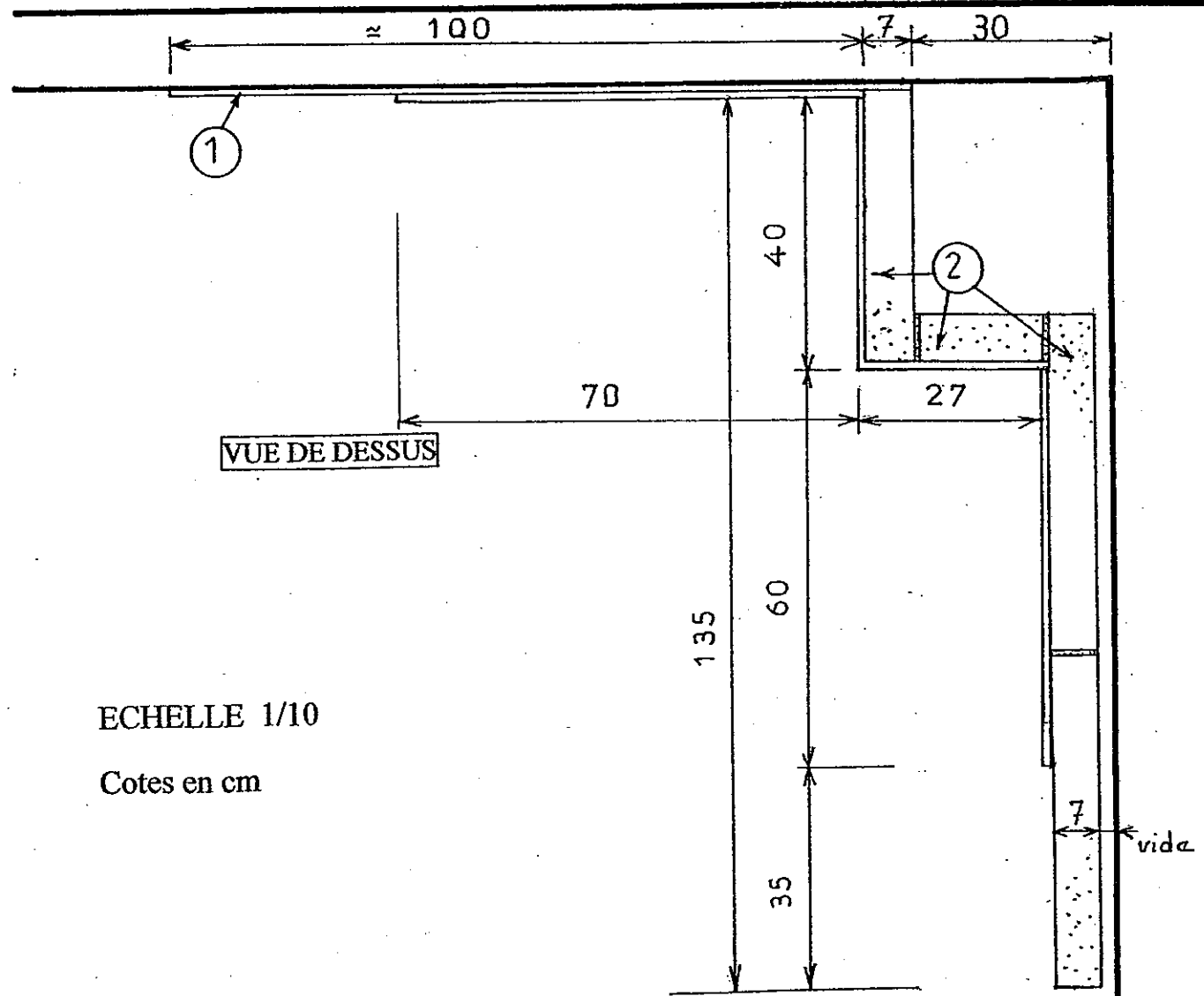
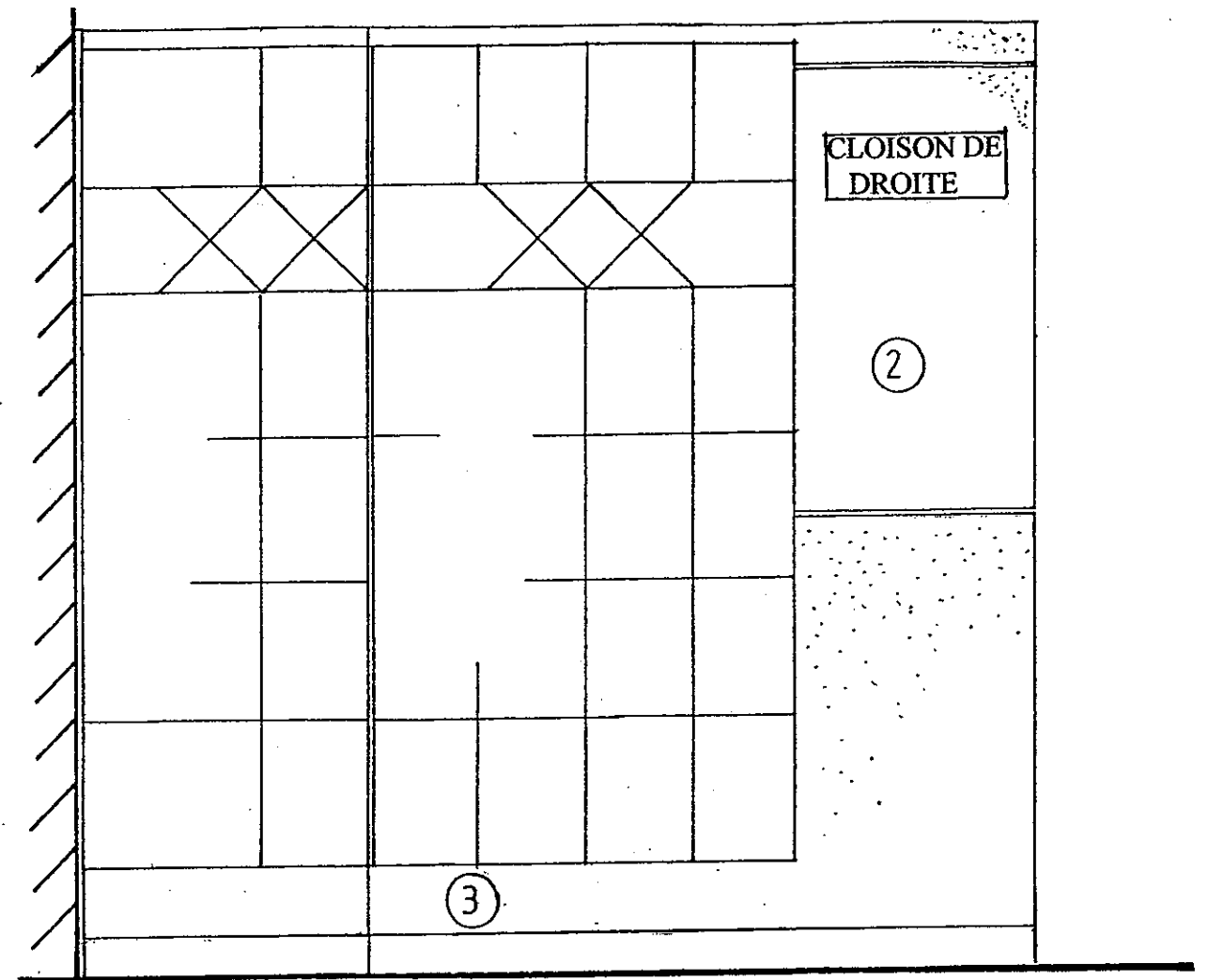
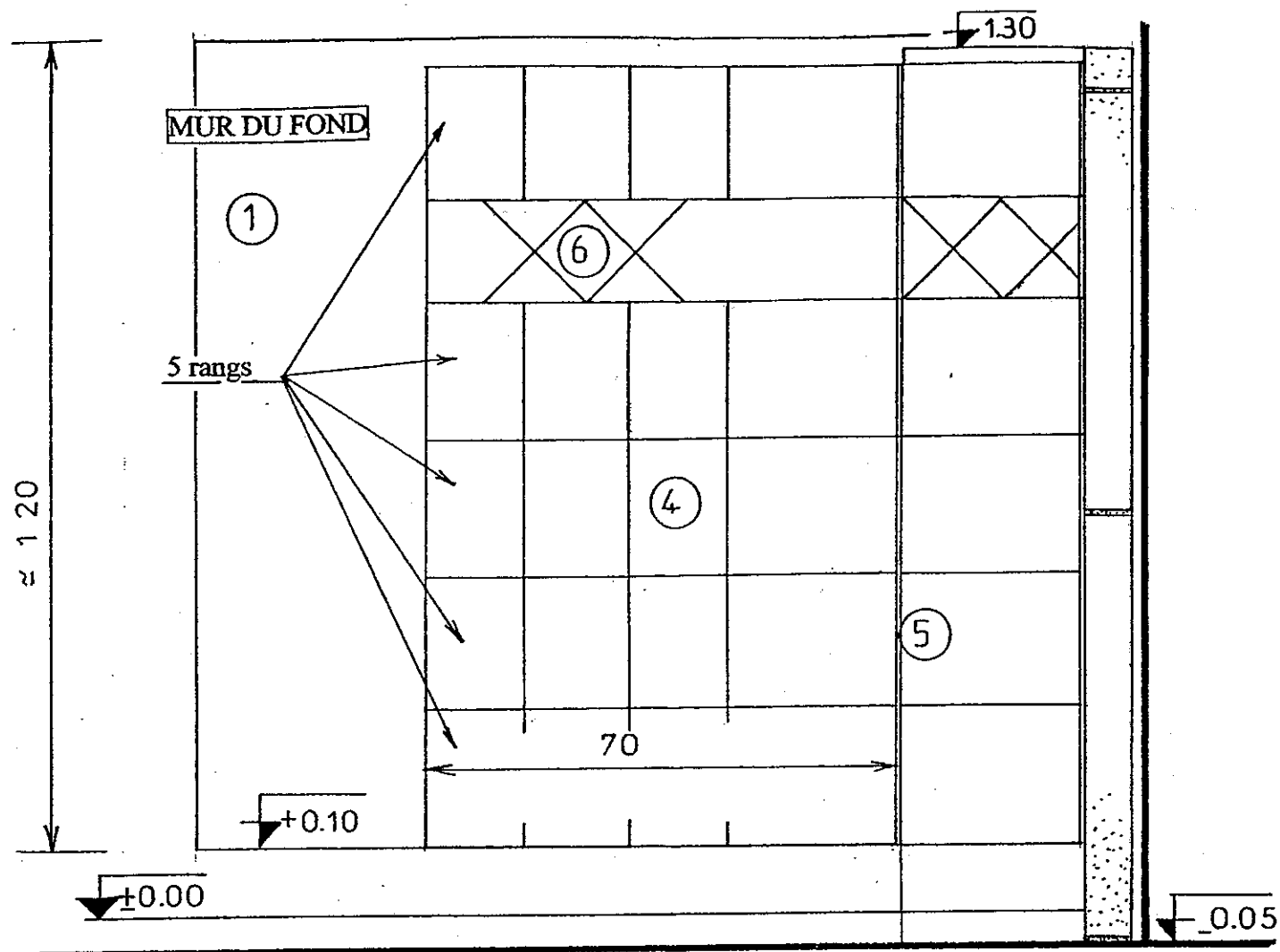
4/ Réaliser la pose d'un revêtement y compris la frise en diagonale Respect des cotes  
Planéité  
Rectitude des joints  
Coupes des cx  
Niveau  
Appareillage  
Profil d'angle  
Coupes frise  
Jointoiment

.../100

Aspect d'ensemble .../30

**TOTAL / 200**

<b>FICHE CONTRAT</b>	Groupement EST	Session 2002	<b>SUJET</b>	TIRAGES	
	C.A.P Carrelage mosaïque		Code(s) examen(s) :		
	Épreuve : EP1-B Réalisation et technologie		Durée: 12h 30	Coef.: 10	
	partie: <b>Pratique</b>		Page 1 / 2		



ECHELLE 1/10

Cotes en cm

### MODE OPERATOIRE

Les repères ① à ⑦ correspondent à ceux des plans ou des croquis

Temps alloué à titre indicatif

Temps alloué à titre indicatif
0h 30
1h 00
3h 00
4h 00
0h 10
1h 50
2h 00
<b>Total 12h 30</b>

Groupement EST	Session 2002	SUJET	TIRAGES
C.A.P. Carrelage mosaïque		Code(s) examen(s) :	
<b>PLAN D'EXECUTION</b>			
Épreuve: EP1- B Réalisation et technologie		Durée: 12h 30	Coef.: 10
partie: Pratique		Page 2/2	

# FICHE D'EVALUATION EN COURS DE REALISATION

**PARTIE D'OUVRAGE:**      Réalisation de la cloison en béton cellulaire de 7 x 50 x 62,5

BAREME	NOTE
Implantation (cloison)	/10
Liaisonnement	/10
Cueillie	/10
Verticalité	/15
Planéité	/10
Equerrage	/10
Netteté des joints	/05
<b><u>TOTAL</u></b>	<b>/70</b>
<p><b>N° de CANDIDAT:</b>.....</p> <p>Module n°:.....</p>	

<b>Groupement EST</b>	<b>Session 2002</b>	<b>S U J E T</b>	<b>TIRAGES</b>
<b>C.A.P Carrelage mosaïque</b>	Code(s) examen(s) :		
Épreuve : <b>EP1-B Réalisation et technologie</b>	Durée: <b>12h 30</b>	Coef.: <b>10</b>	
partie: <b>Pratique</b>		Page <b>(E)</b>	

# FICHE DE NOTATION

N° CANDIDAT :

## REVETEMENT MURAL D'UNE CUISINE AVEC FRISE

<b>-PREPARATION DES SUPPORTS-</b>			
- Réalisation de la cloison en béton cellulaire.			
<b>A NOTER en cours de réalisation</b>			
REPORT DE LA NOTE p. (E)			/70
<b>-REVETEMENT MURAL-</b>			
- Pose des céramiques. ( faïence )	Respect des cotes		
	Planéité		
	Rectitude des joints		
	Coupes des carreaux		
	Niveau		
	Respect de l'appareillage		
	Profil d'angle		
	Coupes frise		
	Jointoiement		
			/100
<b>- ASPECT D'ENSEMBLE</b>			/30
	<b>TOTAL</b>		<b>/200</b>

<b>Groupement EST</b>	<b>Session 2002</b>			<b>TIRAGES</b>
<b>C.A.P. Carrelage mosaïque</b>	Code(s) examen(s) :			
Épreuve : <b>EP1-B Réalisation et technologie</b>	Durée: <b>12h 30</b>	Coef.: <b>10</b>		
partie: <b>Pratique</b>		Page <b>1 / 1</b>		