

# CAP TAPISSERIE D'AMEUBLEMENT

## Option : Couture décor

Epreuve : EP1 TECHNOLOGIE ET PREVENTION

Durée : 1H30

*Objectif : Le candidat doit être capable*

- ⇒ d'analyser et décoder des documents techniques*
- ⇒ de traiter et résoudre un problème technique*
- ⇒ de répondre à des questions liées à des problèmes de prévention*

L'évaluation portera sur :

- la pertinence de l'analyse
- les choix ou solutions proposées et leur justification
- la qualité de l'expression écrite ou graphique

Ce sujet comporte 4 documents repérés de 1/4 à 4/4 :

- 1/4 : présentation de l'épreuve
  - 2/4 et 3/4 : sujet
  - 4/4 : fiche extraite du catalogue : les rubans  
fronceurs
- une feuille de coupe  
une liasse de 4 échantillons

EXAMEN : CAP TAPISSERIE D'AMEUBLEMENT - COUTURE DECOR					<b>SUJET</b>
Epreuve : Technologie - Prévention					
Session : 2002	Repère: EP1	Echelle :	Durée : 1 h 30	Coef : 2	Page : 1/4
ACADEMIE DE STRASBOURG			Epreuve Ecrite		

Un client vous commande un store bateau pour sa chambre à coucher.

1. Quelles seront les cotes à relever chez le client pour confectionner ce décor, la tringle étant déjà posée sur le mur ? (3 points)


2. A l'aide de la fiche extraite du catalogue des différents rubans fronceurs (document 4/4), sélectionnez le ruban qui vous semble le plus adapté à la réalisation d'un store bouillonné. Justifiez votre choix. (3 points)

N° du ruban choisi	Justificatif de mon choix

3. Parmi les 4 échantillons proposés sélectionnez l'étoffe qui vous semble convenir le mieux à la confection de ce store. Justifiez votre choix. (11 points)

N° de l'étoffe choisie	Justificatif de mon choix

Collez chacun des échantillons dans le tableau ci-dessous et complétez le : appellation commerciale et armure .

N°	Echantillon	Appellation commerciale	Armure

4. Pour repasser ce store, en cours de fabrication, vous utiliserez un fer à repasser familial et à vapeur. La composition de l'étoffe choisie sera : 50 % coton et 50 % polyester. (7 points)

a) Quel sera le réglage du thermostat du fer ?

b) Quelles précautions devrez vous prendre avant et pendant le repassage de cette étoffe ?

c) Citez 3 consignes de sécurité à respecter au poste de repassage.

PLIER LE PLAN DE COUPE (SENS DE LA LONGUEUR) ET LE COLLER

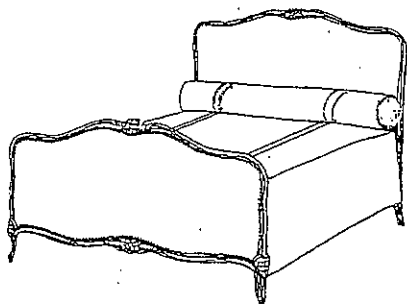
ICI

5 Ce même client désire, assorti au store, un dessus de lit non doublé : ainsi qu'un traversin à ronds plats. (16 points)

- Tissu choisi : - satin d'ameublement en coton uni, laize : 130 cm









- Dessus de lit : - Longueur plateau : 190 cm  
- 2 rabats : tête et pied, de 25 cm  
- Largeur plateau : 140 cm  
- Plateau avec 2 appiègements de 20 cm  
- 2 volants plats de 35 cm de haut

- Traversin : - Plateau avec 2 appiègements de 20 cm  
- 2 ronds plats : Ø 20 cm



On vous demande de réaliser, sur la feuille de coupe, le plan de coupe à l'échelle : 1/10, et d'indiquer le métrage nécessaire à la confection de ce décor

EXAMEN : CAP TAPISSERIE D'AMEUBLEMENT - COUTURE DECOR					<b>SUJET</b>
Epreuve : Technologie - Prévention					
Session : 2002	Repère: EP1	Echelle :	Durée : 1 h 30	Coef : 2	Page : 3/4
ACADEMIE DE STRASBOURG			Epreuve Ecrite		

N°	DESIGNATION
1	Ruban tubulaire 
2	Ruban tubulaire à poches 
3	Ruban froncéur blanc, largeur 18mm 
4	Ruban froncéur blanc, largeur 26mm 
5	Ruban froncéur blanc, largeur 35mm 
6	Ruban transparent, largeur 22mm 
7	Ruban transparent, largeur 15mm 
8	Ruban blanc, largeur 17mm 

EXAMEN : CAP TAPISSERIE D'AMEUBLEMENT - COUTURE DECOR					<b>SUJET</b>	
Epreuve : Technologie - Prévention						
Session : 2002	Repère: EP1	Echelle :	Durée : 1 h 30	Coef : 2	Page : 4/4	
ACADEMIE DE STRASBOURG			Epreuve Ecrite			