

# CORRIGE

**Ces éléments de correction n'ont qu'une valeur indicative. Ils ne peuvent en aucun cas engager la responsabilité des autorités académiques, chaque jury est souverain.**

**ENTRETIEN CAS N° 1****CONNAISSANCE ET UTILISATION DES DOCUMENTS  
USUELS RELATIFS A LA VENTE**

- 1 – Que représente le document ci-dessous et à quoi sert-il ?
- 2 – Quel est la valeur du stock final ? Indiquez votre mode de calcul ?
- 3 – Quelles sont les méthodes de valorisation des stocks ?

Article : Vase basique, verre			Unité : Pièce	
Dates	Libellés	Entrées	Sorties	Solde
01/01/02	Stock			200
15/01/02	Bon de sortie 541		50	150
31/01/02	Bon de sortie 628		70	80
02/02/02	Bon d'entrée 340	120		200
15/02/02	Bon de sortie 698		60	140
28/02/02	Bon de sortie 700		72	<b>68</b>

1 – *Le document représenté est une fiche de stock qui représente les articles Entrants et Sortants.*



2 – *La valeur du stock final est de 68 pièces.  
Mode de calcul : Stock initial – les sorties + les entrées.*

3 – *Méthode de valorisation des stocks :*  
*La méthode du « 1<sup>er</sup> entré et du 1<sup>er</sup> sorti » c'est à dire sortir en 1<sup>er</sup> les articles les plus anciens (méthode utilisée pour les articles périssables).  
 La méthode après « chaque entrée » qui consiste à recalculer le Prix Unitaire moyen des articles en stock après chaque entrée (méthode utilisée pour les articles non périssables ».*

Groupement « Est »	SESSION 2002	CORRIGE	TIRAGE
EXAMEN : C.A.P. FLEURISTE		Code examen :	
Epreuve : EP2 Vente - conseil		Durée : 1 h 15 Coef. : 2	Page : 1/10

**ENTRETIEN CAS N° 2**

**CONNAISSANCE ET UTILISATION DES DOCUMENTS  
USUELS RELATIFS A LA VENTE**

 <b>CRÉDIT LYONNAIS</b>		à rédiger exclusivement en euros 
Payez contre ce chèque non endossable sauf au profit d'une banque ou d'un organisme visé par la loi		
quatre cent cinquante quatre euros 48 <small>soixante en toutes lettres</small>		e 453,48 €
A T/SO		
Payable en France Toutes agences Compensable à Lyon	Compte n° 025200P X3088 ZEBRA 99 rue St-Georges 69005 Lyon	à Lyon le 20/09/01
Chèque n° 0000148 XE	(48)	Taboly
@0000148 @0840100029064163102520015@		SPECIMEN

- 1 – Rappelez les mentions obligatoires d'un chèque et commentez-les.
- 2 – Qu'est-ce que la « provision » d'un chèque ? Comment doit-elle être ?
- 3 - Du point de vue légal peut-on antidater un chèque ?
- 4 – Pourquoi les chèques sont « barrés » ?
- 5 – La signature au dos du chèque est-elle indispensable ? Justifiez votre réponse
- 6 – Expliquez brièvement la circulation des chèques.

Groupement « Est »	SESSION 2002	CORRIGE	TIRAGE
EXAMEN : C.A.P. FLEURISTE		Code examen :	
Epreuve : EP2 Vente - conseil		Durée : 1 h 15 Coef. : 2	Page : 2/10

1 – Mentions obligatoires du chèque :

- Le nom de la banque,
- La somme en chiffres et en lettres,
- L'ordre,
- Le lieu d'émission,
- La signature du titulaire du compte, ou de celui qui est autorisé à signer,
- Le lieu de compensation,
- Le numéro du chèque.

2 – La provision d'un chèque :

*C'est le fait d'avoir un minimum d'argent sur son compte, d'un montant au moins égal au montant du chèque.*

3 – Chèque antidaté : du pont de vue légal, il est interdit d'antidater un chèque.

4 – Chèques barrés : ils le sont pour une question de sécurité, ils ne peuvent être encaissés que par le bénéficiaire indiqué sur le chèque.

5 – Signature au dos du chèque : oui la signature au dos du chèque est indispensable pour la remise à l'encaissement, il s'agit de celle du bénéficiaire.


6 – Circulation d'un chèque :

*LE TIREUR (titulaire du compte) émet le chèque et le remet au BENEFCIAIRE qui le remet au TIRE pour encaissement (banque du bénéficiaire).*

<b>Groupement « Est »</b>	<b>SESSION 2002</b>	<b>CORRIGE</b>	<b>TIRAGE</b>
<b>EXAMEN : C.A.P. FLEURISTE</b>		Code examen :	
<b>Epreuve : EP2 Vente - conseil</b>		Durée : 1 h 15 Coef. : 2	<b>Page : 3/10</b>

**ENTRETIEN – CAS N°3**

**CONNAISSANCE ET UTILISATION DES DOCUMENTS  
USUELS RELATIFS A LA VENTE**

	<b>Pépinières Cely</b>	<b>Facture n° 00150</b>			Madame Cavenent 14 place Gabriel 18100 VIERZON			
	5 rue des Sansonnieres 45000 ORLÉANS RC 8546. 67836	Date	Client	Page				29/03/N
Mode de règlement		Échéance		N/Id CEE : Commande n° 58				
Traite à 30 jours				V/Id CEE :				
Références :								
Référence	Désignation	Quantité	PU HT	% rem.	Remise HT	Montant HT	TVA	
035	Bruyère	5	16,45	-	-	82,25	1	
736	Iris Lady	6	5,48	-	-	32,88	1	
130	Hydrangéa	6		-	-	84,00	1	
100	Rhododendron de Yakushima	1		-	-	38,05	1	
Remarque : Livraison port dû 22,90								
Base HT	Remise	TVA	% TVA	Port	Totaux	Total TTC	Acompte	Net à payer
237,18	Tx : -	46,48	19,60	22,90	HT : 260,08 TVA : 46,48	306,56	-	306,56 €

- 1 – Qui sont le vendeur et l'acheteur de la facture ci-dessus ?
- 2 – Que signifie le sigle R.C. ? Où se fait l'immatriculation au R.C. ?
- 3 – Où doit-on faire figurer le R.C. ?
- 4 – Quelles sont les mentions obligatoires sur une facture ?

<b>Groupement « Est »</b>	<b>SESSION 2002</b>	<b>CORRIGE</b>	<b>TIRAGE</b>
EXAMEN : C.A.P. FLEURISTE		Code examen :	
Epreuve : EP2 Vente - conseil		Durée : 1 h 15 Coef. : 2	
		<b>Page : 4/10</b>	

5 – Que signifie le sigle T.V.A. ? Qu'est-ce que la T.V.A. ? Par qui est-elle payée et à qui est-elle reversée ?

6 – Calculez le Net à payer de la facture ci-dessus.

1 – Le vendeur est : les « Pépinières Cely » et l'acheteur : Madame Cavenent.

2 – Le sigle R.C. signifie : *Registre du Commerce*,  
L'immatriculation se fait au greffe du Tribunal de Commerce dont dépend l'entreprise.

3 – On doit faire figurer le R.C. sur tous les documents commerciaux, publicitaires et ans toute correspondance.

4 – Mentions obligatoires sur une facture :

- Nom et adresse de l'entreprise,
- Nom et adresse de l'acheteur,
- Le R. C. si l'entreprise est immatriculée,
- Le N° et la date de la facture,
- Le mode de règlement,
- Le N° de commande,
- Tout ce qui concerne les articles achetés,
- Tout ce qui concerne le calcul du Net à payer.

5 – Le sigle T.V.A. signifie : *Taxe sur la Valeur Ajoutée*.  
La T.V.A. est un impôt indirect.  
Elle est payée par l'acheteur et est reversée à l'Etat.

6 – Net à payer : voir facture ci-dessus.

Groupement « Est »	SESSION 2002	CORRIGE	TIRAGE
EXAMEN : C.A.P. FLEURISTE		Code examen :	
Epreuve : EP2 Vente - conseil		Durée : 1 h 15 Coef. : 2	Page : 5/10

**ENTRETIEN – CAS N°4****CONNAISSANCE ET UTILISATION DES DOCUMENTS  
USUELS RELATIFS A LA VENTE**

Le 10 juin 2002, Madame DUMONT vient passer une commande pour le 12 juin vers 17 heures. Elle souhaite une composition dans un vase bleu et blanc qu'elle a choisi. Pour les fleurs, elle choisit : 1 branche d'orchidée blanche, 3 iris jaunes, une branche de tortuosa, 5 roses blanches, 5 roses bleues, 4 feuilles d'aspidistra, 3 branches de pittosporum, un peu de bears grass.

Madame DUMONT vous demande de préparer le bon de commande ci-joint (document interne au magasin le dernier bon avait le N°122) pour la personnes qui va réaliser la commande.

**BON DE COMMANDE N°123**

**DATE D'EXECUTION :** *12 juin 2002*

**SUPPORT :** *vase bleu et blanc dans la réserve au nom de la cliente*

**FLEURS CHOISIES :** *1 branche d'orchidée blanche – 3 iris jaunes –  
1 branche de tortuosa – 5 roses blanches – 4 feuilles d'aspidistra –  
3 branches de pittosporum – un peu de bear grass –*

**HEURE PREVUE POUR LA LIVRAISON :** *17 heures*

**CONSIGNES A RESPECTER :** *Respecter le style de la composition ;  
penser aux accessoires à ajouter ; le tout laissé à l'appréciation du jury.*

<b>Groupe</b> ment « Est »	<b>SESSION 2002</b>	<b>CORRIGE</b>	<b>TIRAGE</b>
<b>EXAMEN : C.A.P. FLEURISTE</b>		Code examen :	
Epreuve : <b>EP2 Vente - conseil</b>		Durée : 1 h 15 Coef. : 2	<b>Page : 6/10</b>

**ENTRETIEN – CAS N°5****CONNAISSANCE ET UTILISATION DES DOCUMENTS  
USUELS RELATIFS A LA VENTE**

Le 9 juin 2002 Madame DURAND vous téléphone pour préparer et livrer une composition d'environ 60 euros pour la naissance d'une petite fille. Cette composition doit être livrée à Madame GERMAIN Lisa à la clinique Mutualiste, 8-12 rue du Docteur Calmette, 38000 Grenoble chambre 123. Vous devez livrer dans la journée du 10 juin 2002.

Vous êtes chargé(e) de préparer le bon de livraison 228 et de faire le message de félicitations. Le montant de la commande s'élève à 53,30 euros.

<b>Groupement « Est »</b>	<b>SESSION 2002</b>	<b>CORRIGE</b>	<b>TIRAGE</b>
<b>EXAMEN : C.A.P. FLEURISTE</b>		<b>Code examen :</b>	
<b>Epreuve : EP2 Vente - conseil</b>		<b>Durée : 1 h 15 Coef. : 2</b>	<b>Page : 7/10</b>



## BON DE LIVRAISON N°...

**DATE DE LIVRAISON :** *journée du 10 juin 2002-03-28*

**NOM :** *GERMAIN*

**PRENOM :** *Lisa*

**ADRESSE :** *Clinique Mutualiste – Chambre 123 – 8-12 rue du Docteur Calmette*

**VILLE :** 38000 GRENOBLE

**ETAGE :**

**CODE :**

**N° DE TELEPHONE :**

**HORAIRE DE LIVRAISON :** *Prévue vers 14 heures*

**PRODUIT DESIRE :** *Composition*

**MESSAGE :** *Lissé à l'appréciation du jury*

**MONTANT DE LA COMMANDE :** *53,53 euros*

**Groupement « Est »**

**SESSION 2002**

**CORRIGE**

**TIRAGE**

**EXAMEN : C.A.P. FLEURISTE**

**Code examen :**

**Epreuve : EP2 Vente - conseil**

**Durée : 1 h 15 Coef. : 2**

**Page : 8/10**

**ENTRETIEN – CAS N°6****CONNAISSANCE ET UTILISATION DES DOCUMENTS  
USUELS RELATIFS A LA VENTE**

Vous travaillez chez « Lucie Fleurs » 112 avenue de la République – 38170 SEYSSINET-PARISSET - On vous demande de préparer la facture N° 341 pour le salon de coiffure « COCO » 17 rue du Commerce – 38600 FONTAINE.

La commande était la suivante : ➤ 1 bouquet composé à 17,25 euros  
➤ 10 géraniums à 10,50 euros le géranium  
➤ 1 vase à 23,70 euros

Vous devez faire ressortir la TVA

<b>Groupement « Est »</b>	<b>SESSION 2002</b>	<b>CORRIGE</b>	<b>TIRAGE</b>
<b>EXAMEN : C.A.P. FLEURISTE</b>		Code examen :	
<b>Epreuve : EP2 Vente - conseil</b>		Durée : 1 h 15 Coef. : 2	<b>Page : 9/10</b>

LUCIE FLEURS  
 112 avenue de la République  
 38170 SEYSSINET-PARISSET  
 A Seyssinet le        date du jour

**FACTURE** 341  
 M. Salon de Coiffure COCO  
17 rue du Commerce  
38600 FONTAINE  
 \_\_\_\_\_ Doit

CLAUSE DE RÉSERVE DE PROPRIÉTÉ : En application de la loi 80-335 du 12 mai 1980, les marchandises restent la propriété du vendeur jusqu'au paiement intégral de leur prix. Les risques afférents aux dites marchandises sont à la charge de l'acheteur. 0337 91 11 0001

Qté	Désignation	PU	Montant	
			HT	TTC
1	Bouquet composé	17,25		17,25
10	Géraniums	10,50		105,00
	TOTAL TTC			122,25
	TOTAL HT		115,88	
	Dont TVA 5,5% = 6,37			
1	Vase			23,70
	TOTAL TTC			23,70
	TOTAL HT		19,81	
	Dont TVA 19,60% = 3,89			
	TOTAL TTC de la facture			145,95 €
REGLEMENT pour le : _____			Conditions d'escompte pour paiement anticipé : _____	

<b>Groupement « Est »</b>	<b>SESSION 2002</b>	<b>CORRIGE</b>	<b>TIRAGE</b>
<b>EXAMEN : C.A.P. FLEURISTE</b>		Code examen :	
<b>Epreuve : EP2 Vente - conseil</b>		Durée : 1 h 15 Coef. : 2	<b>Page : 10/10</b>