

DANS CE CADRE

Académie :	Session :
Examen :	Série :
Spécialité/option :	Repère de l'épreuve :
Épreuve/sous épreuve :	
NOM	
<i>(en majuscule, suivi s'il y a lieu, du nom d'épouse)</i>	
Prénoms :	n° du candidat : <input type="text"/>
Né(e) le :	<i>(le numéro est celui qui figure sur la convocation ou liste d'appels)</i>

NE RIEN ÉCRIRE

N° BEP :

N° CAP :

NOTATION DE L'ÉPREUVE EP3

APPLICATION NUMÉRIQUE

Questionnaire / 7
Problème / 13
Total / 20

BEP X 1,5	CAP X 0,8
..... / 30 / 16

+

EXPÉRIMENTATION

Report

BEP	CAP
..... / 30 / 24

=

NOTATION EP3 :

BEP	CAP
..... / 60 / 40

Soit / 20 / 20

BEP/CAP ÉLECTROTECHNIQUE	51 25502 / 50 25508	SUJET N° 11	Session 2002
EP 3 : EXPÉRIMENTATION SCIENTIFIQUE ET TECHNIQUE	Durée : 4 H 00	Cocf. : 3 ou 2	Page 1 / 12

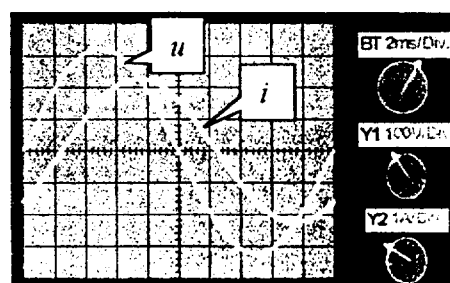
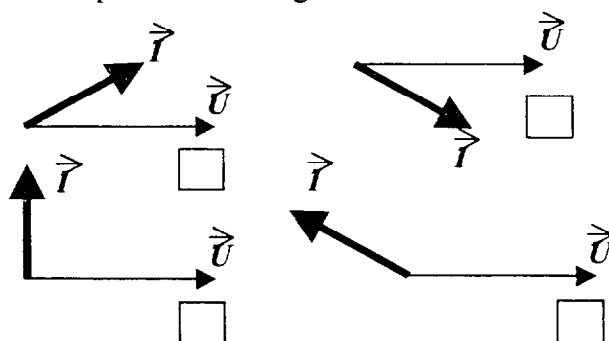
NE RIEN ECRIRE DANS CETTE PARTIE

Application numérique

Domaine S0.5 – Dipôles

QUESTIONNAIRE A CHOIX MULTIPLE

1. Cocher la représentation de Fresnel qui correspond à l'oscillogramme :



/ 1

2. Pour l'oscillogramme précédent :

- i est en avance sur u
- i est en opposition de phase
- i est en quadrature arrière de u
- i est en retard sur u
- i est en phase avec u

/ 1

3. Une bobine réelle, sous tension sinusoïdale, se comporte comme un circuit :

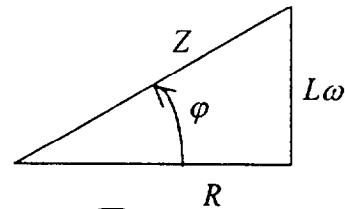
- RC série
- RC parallèle
- RL série
- RL parallèle

/ 1

NE RIEN ECRIRE DANS CETTE PARTIE

4. Le triangle des impédances du circuit RL série est :

On peut donc écrire :



$\cos \varphi = \frac{R}{Z}$: VRAI FAUX

$\tan \varphi = \frac{L\omega}{R}$: VRAI FAUX

$Z^2 = R^2 + L^2\omega^2$: VRAI FAUX

$L = \frac{\sqrt{Z^2 - R^2}}{\omega}$: VRAI FAUX

/ 1

5. Quelles que soient les valeurs relatives R et L , dans le circuit RL série, le déphasage est compris entre :

- -90° et $+90^\circ$
- -90° et 0°
- 0° et 360°
- 0° et $+90^\circ$

/ 1

NE RIEN ECRIRE DANS CETTE PARTIE

6. La puissance réactive Q s'exprime en :

watts (W)

voltampères (VA)

vars (var)

Pour un circuit RL série cette puissance réactive correspond à la relation :

$UI \sin \varphi = L\omega I^2$

$UI \cos \varphi = RI^2$

$UI = ZI^2$

/ 1

7. S'il faut qualifier le comportement du circuit RL série nous pouvons dire :

▪ C'est un circuit capacitif

▪ C'est un circuit purement résistif

▪ C'est un circuit inductif

▪ C'est un circuit résonant

/ 1

/ 7

NE RIEN ECRIRE DANS CETTE PARTIE

PROBLEME D'APPLICATION NUMERIQUE

Vous devez déterminer les caractéristiques électriques du circuit de commande d'un contacteur (demande du bureau d'étude).

La bobine porte les indications : 24 V ; 50 Hz.

Trois mesures ont été effectuées, et pour chaque situation les relevés indiquent la tension aux bornes de la bobine (U_B) et l'intensité efficace (I_B) du courant la traversant :

- Un essai en courant alternatif sinusoïdal à tension et à fréquence nominales :

<i>Etat du contacteur</i>	U_B	I_B
enclenché	24 V	48 mA

- Un essai en courant continu :

<i>Etat du contacteur</i>	U_B	I_B
Enclenché ou non enclenché	0,864 V	48 mA

- Un essai en courant alternatif sinusoïdal en tension réduite mais à fréquence nominale :

<i>Etat du contacteur</i>	U_B	I_B
Non enclenché	1,92 V	48 mA

On demande :

1. Calculer la résistance de la bobine.

/ 2

2. Calculer l'impédance et l'inductance de la bobine lorsque le circuit magnétique est fermé (contacteur enclenché).

/ 2

NE RIEN ECRIRE DANS CETTE PARTIE

3. Calculer l'impédance et l'inductance de la bobine lorsque le circuit magnétique est ouvert (contacteur non enclenché).

/ 2

4. Calculer la puissance active et la puissance apparente consommées par le circuit de commande, sous la tension nominale, lorsque le contacteur est enclenché.

/ 2

5. A l'appel (instant où le contacteur va s'enclencher) calculer l'intensité du courant sachant que la bobine sera alimentée durant cet instant sous sa tension nominale.

Déterminer les valeurs de la puissance active et de la puissance apparente alors consommées par le circuit de commande.

/ 3

6. Comparer la puissance dissipée par effet Joule durant l'appel et durant le maintien (contacteur enclenché). Commenter.

/ 2

/ 13

DEF/CAF ELECTROTECHNIQUE	51 25502 / 50 25508	SUJET N° 11	Session 2002
EP 3 : EXPERIMENTATION SCIENTIFIQUE ET TECHNIQUE	Durée : 4 H 00	Cof. : 3 ou 2	Page 6 / 12

NE RIEN ECRIRE DANS CETTE PARTIE

THÈME D'EXPÉRIMENTATION

Moteur asynchrone triphasé à cage :SO 9.

Mise en situation :

Une usine de fabrication de tubes en carton désire améliorer le facteur de puissance de son unité de production (facturation d'énergie réactive trop importante).

Cette amélioration passe par une phase de mesurage du $\cos \varphi$ des différents équipements sur le site.

Un de ces équipements est constitué d'un moteur asynchrone triphasé à cage qui entraîne en rotation un bras malaxeur situé dans une cuve contenant de la colle.

Travail à faire sur ce moteur :

A) RELEVER LE FACTEUR DE PUISSANCE

1) Identifier la plaque signalétique du moteur.

NE RIEN ECRIRE DANS CETTE PARTIE

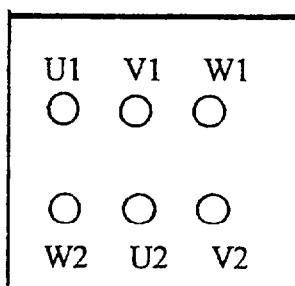
2) Coupler le moteur en fonction du réseau disponible.

Réseau :

Moteur :

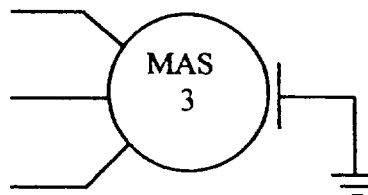
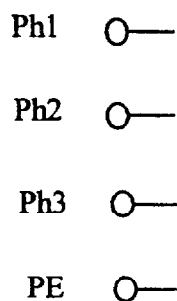
Couplage :

Tracer le couplage
sur la plaque à bornes :



3) Compléter le schéma de câblage en insérant les appareils nécessaires à la mesure des grandeurs U , I et P_a .

(la charge du moteur est câblée par le centre d'examen)



4) Câbler le montage d'après le schéma

➤ Faire vérifier le câblage par l'examineur.

DEPARTEMENT D'ÉLECTROTECHNIQUE	51 25502 / 50 25508	SUJET N° 11	Session 2002
EP - EXPERIMENTATION SCIENTIFIQUE ET TECHNIQUE	Durée : 4 H 00	Coef. : 3 ou 2	Page 8 / 12

NE RIEN ECRIRE DANS CETTE PARTIE

5) Mesurer les différentes grandeurs pour P_u variant de 0 à 125% de la P_u nominale et compléter le tableau :

Calculs préliminaires		Mesures					Résultats	
Charge en %	P_u calculée (en W)	U (V)	I (A)	P_a (W)	T_u (Nm)	n' (t/min)	$\cos\varphi$	P_u réelle (en W)
0								
25								
50								
75								
100								
125								

➤ **Appeler l'examineur pour la mise hors tension.**

6) Tracer la caractéristique $\cos\varphi = f(P_u)$ sur papier millimétré.

NE RIEN ECRIRE DANS CETTE PARTIE

B) CALCULER LA CAPACITÉ DES CONDENSATEURS

Le moteur fonctionne à 70 % de sa puissance nominale. (lire la valeur de $\cos \varphi$ et de P_u sur la caractéristique tracée).

La norme EDF impose que $\cos \varphi = 0,928$.

Le $\cos \varphi$ lu sur la caractéristique est-il correct par rapport à la valeur imposée par EDF ?

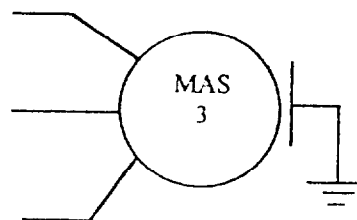
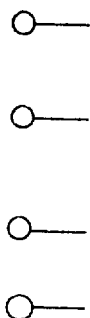
1) Calculer la valeur globale de la capacité à raccorder au moteur si le couplage des condensateurs se fait en triangle.

Relation :
$$C = \frac{P \cdot (\tan \varphi_1 - \tan \varphi_2)}{U^2 \cdot \omega}$$

C totale = _____

2) Calculer la capacité d'un des trois condensateurs que vous allez raccorder.

3) Placer les condensateurs, couplés en triangle, sur votre schéma.



NE RIEN ECRIRE DANS CETTE PARTIE

C) CONTRÔLER LE FACTEUR DE PUISSANCE APRÈS COMPENSATION.

1) Raccorder les condensateurs sur votre câblage.

▲ Faire vérifier le câblage par l'examineur.

2) Mesurer le $\cos \varphi$ pour $P_u = 70\%$ de P_u nominale.

$\cos \varphi =$

3) Comparer le $\cos \varphi$ avant et après amélioration.

NE RIEN ECRIRE DANS CETTE PARTIE

50% de la note : déroulement du TP.

50% de la note : compte rendu.

Barème	BEP	CAP
Partie A		
question 1	/ 2	/ 2
question 2	/ 2	/ 2
question 3	/ 2	/ 2
question 4	/ 3	/ 2
question 5	/ 3	/ 3
question 6	/ 4	/ 3
question 7	/ 2	/ 1
total	/ 18	/ 15
Etape B		
question 1	/ 1	/ 1
question 2	/ 1	/ 1
question 3	/ 2	/ 1
total	/ 4	/ 3
Etape C		
question 1	/ 3	/ 2
question 2	/ 3	/ 2
question 3	/ 2	/ 2
total	/ 8	/ 6
TOTAL	/ 30	/ 24