

Epreuve : *EP2*

Préparation et mise en oeuvre.

Pratique

Durée : 8 Heures

Coefficient : 6

Dossier Sujet

Ce dossier comprend : 2 pages

Contenu :

Format :

- Le document sujet et le contrat

Page 1 / 2

A3 H

- Le barème de notation

Page 2 / 2

A4 V

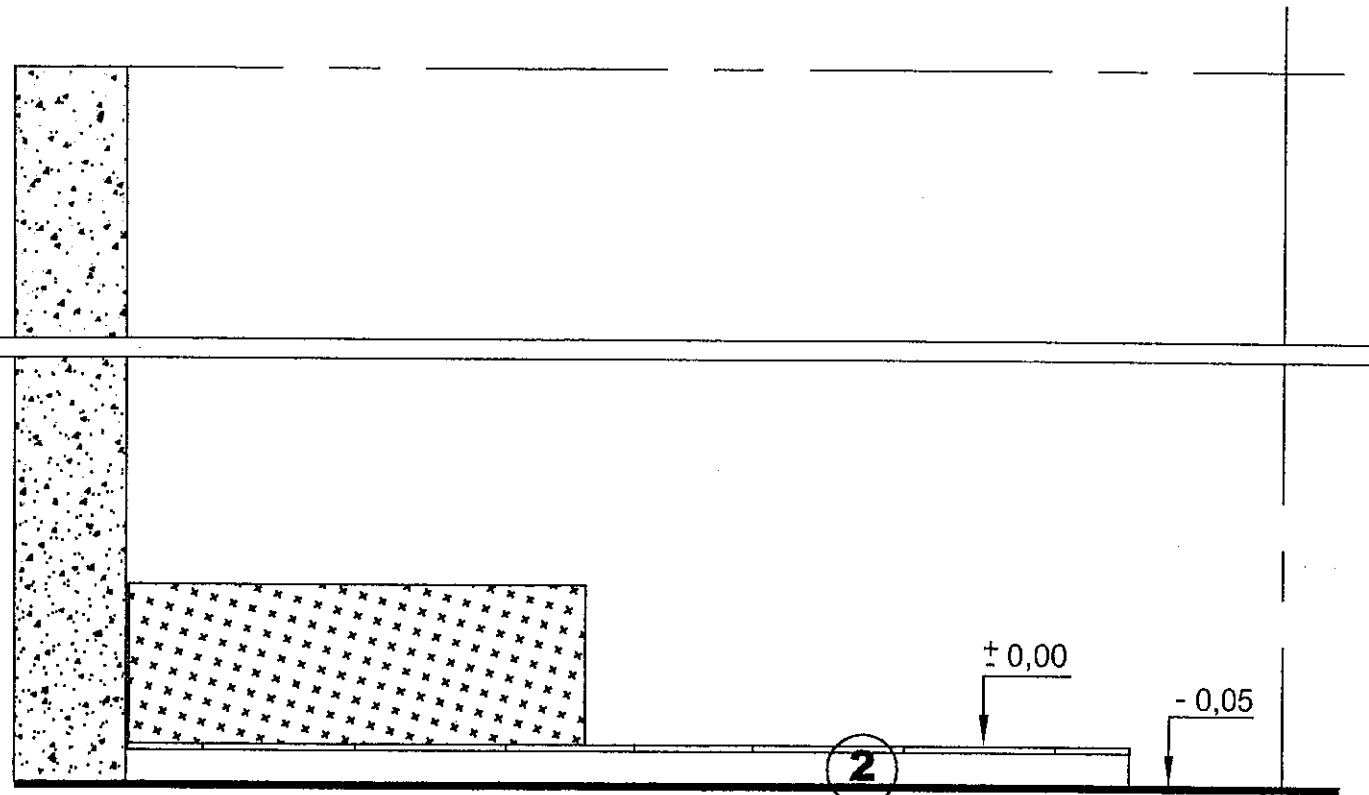
Partie de revêtement de sol avec un pan coupé

ON DONNE :

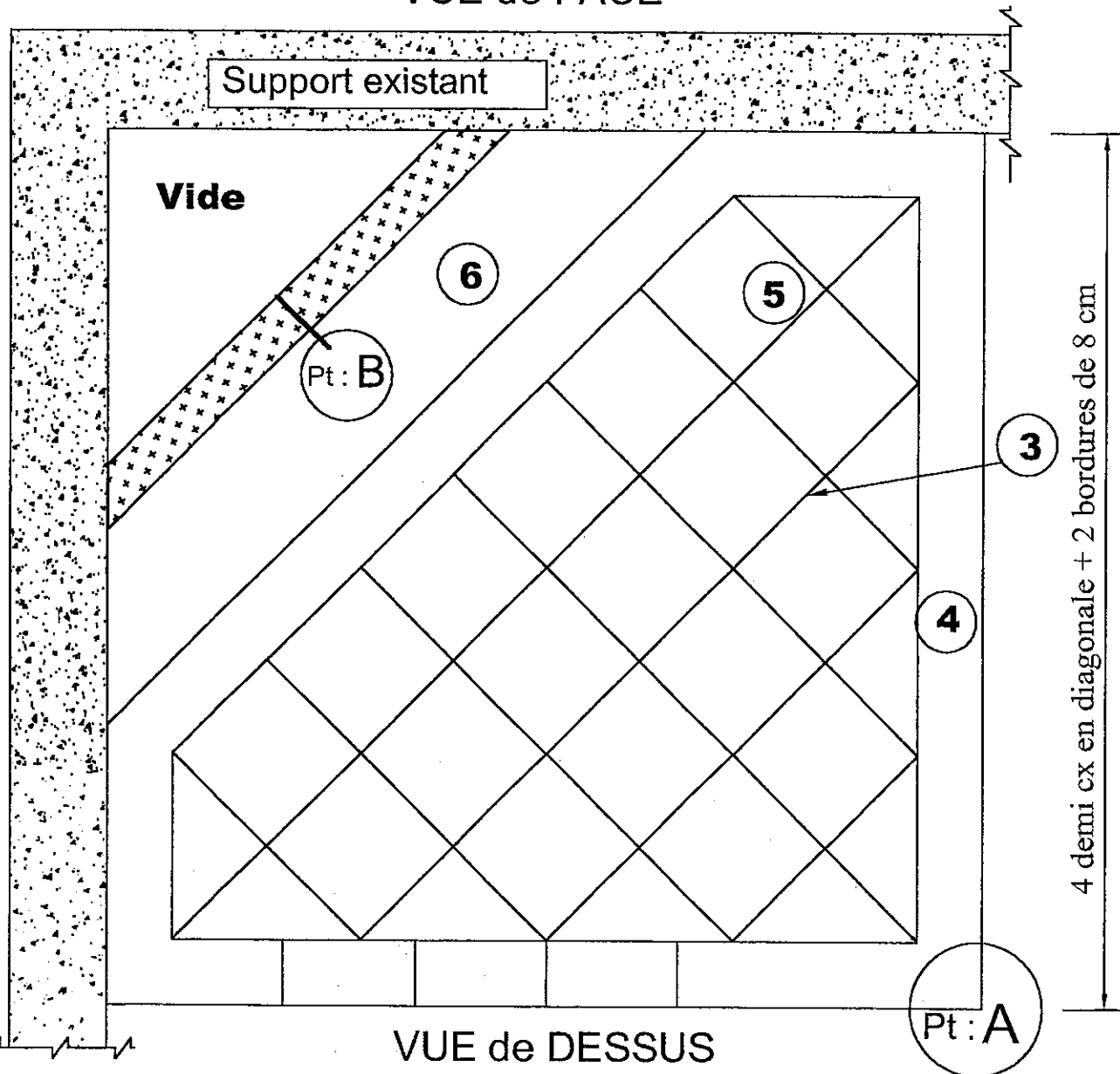
La vue de dessus, la vue de face, la vue en perspective
 Les matériaux.
 Un temps d'exécution.

ON DEMANDE :

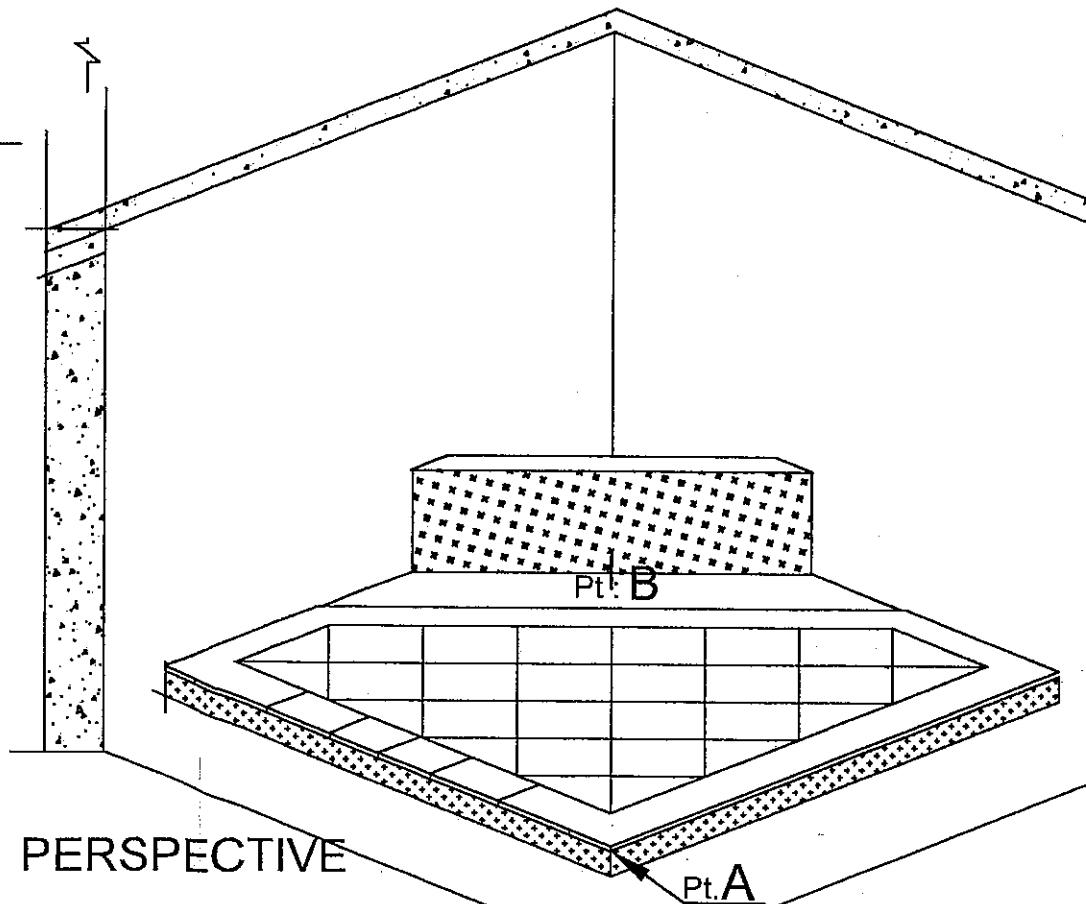
- ① D'étudier le dossier
- ② De réaliser le mortier de pose, dosé à 300 kg/m³
- ③ De réaliser l'appareillage à sec avec un joint de 2mm.
- ④ De poser une bordure de 8 cm de large (1 carreau de 20 cm pour 2 coupes)
- ⑤ De poser un tapis en carreaux de grés émaillé de 20x20 (pose en diagonale)
- ⑥ De réaliser une partie de chape lissée, au niveau du mortier de pose.
- ⑦ De jointoyer l'ensemble au mortier à joint gris foncé.



VUE de FACE



VUE de DESSUS



PERSPECTIVE

Barème de notation:

| | |
|--|------------|
| Aspect général : | _____ /15 |
| Implantation : | _____ /15 |
| - Position du tapis. | |
| - Respect de la hauteur du sol (5 cm). | |
| - Equerrage au pt. B. | |
| Bordure : | _____ /25 |
| - Respect de la dimension de 8 cm. | |
| - Coupes. | |
| - Equerrage du point A. | |
| Tapis : | _____ /35 |
| - Niveau du sol. | |
| - Planéité. | |
| - Joints de finition. | |
| Chape : | _____ /10 |
| - Aspect de finition. | |
| TOTAL : | _____ /100 |

Cotation en CM

| | | | | | |
|------------------------|--------------|------------------------------|-------------------------------|----------|----------|
| EXAMEN : | | C.A.P : CARRELAGE - MOSAÏQUE | | SUJET | |
| Epreuve : EP2 PRATIQUE | | | | | |
| Session 2003 | Repère : EP2 | Echelle : 1/10é | Durée : 8 heures | Coéf : 6 | Page 1/2 |
| GROUPEMENT EST | | | Préparation et mise en oeuvre | | |

Session 2003

FICHE D'EVALUATION

EXAMEN et SPECIALITE : C.A.P : Carrelage - Mosaïque

EPREUVE pratique : EP2.

Coéf : 6

Préparation et mise en oeuvre :

Durée : 8 heures

| Partie de revêtement de sol avec un pan coupé | |
|---|-------------------|
| Barème de correction | |
| Aspect général : | /15 |
| Implantation : - Position du tapis (Axée par rapport au pt. B) - Respect de la hauteur du sol (5 cm) - Equerrage au pt. B | /5 /5 /5 |
| Bordure : - Respect de la dimension de 8 cm - Coupes d'onglets, mitrage. - Equerrage du pt. A | /5 /10 /10 |
| Tapis : - Niveau de surface du sol. - Planéité : contrôle sur 3 points. - Joints de finition. | /10 /15 /10 |
| Chape : - Aspect de finition, lissage. | /10 |
| TOTAL : | /100 |

Feuillet N° :

Noms des correcteurs :

Date :

Observations :