

CORRIGE

Ces éléments de correction n'ont qu'une valeur indicative. Ils ne peuvent en aucun cas engager la responsabilité des autorités académiques, chaque jury est souverain.

C.A.P. TAPISSERIE GARNITURE DECOR**SESSION 2003****DOSSIER E.P.1**

Le dossier comprend:

- 4 feuilles format A 4 numérotées : 1/6. 2/6. 3/6. 4/6
- 2 feuilles format A 3 numérotées : 5/6. 6/6
- 1 feuille de papier kraft

Le dossier doit être rendu avec la totalité des feuilles.

Groupement EST	Session 2003	CORRIGE
CAP TAPISSERIE D'AMEUBLEMENT garniture-décor	code examen :	
Épreuve : EP1 - Technologie - prévention	Durée : 1h30	Coef. : 2

Un client vous demande de refaire la décoration de son salon :

A / Pour les fenêtres, il hésite entre des vitrages et des voilages.

1 - Expliquer la différence entre vitrage et voilage :

- *Petits rideaux légers et transparents, fixés sur les battants des fenêtres et qui ne gênent pas leur ouverture.*

- *Rideaux d'étoffe transparente placés devant une fenêtre qui la couvrent entièrement et dont le fonctionnement est indépendant.*

/2

2 - En étudiant le document A3 5/6, relevez les références des tringles nécessaires pour la pose :

- des vitrages : Réf : 112 - 109 - 108 - 113 - 153

- des voilages : Réf : 93 - 95 - 94

/2

3 - Quelles règles de sécurité devez-vous respecter chez un client lors de la pose de rideaux pour l'utilisation :

a) des appareils électriques : *Contrôler la tension de l'installation avant le branchement. Vérifier l'état de l'appareil, le câble d'alimentation et la position « arrêt » avant de brancher.*

b) de l'escabeau : *Vérifier la solidité, le verrouillage, la fixation. Utiliser de préférence son matériel, pas d'escabeau trop court et ne jamais travailler en extension ou en équilibre.*

/2

Groupement EST		Session 2003		CORRIGE	
CAP TAPISSERIE D'AMEUBLEMENT garniture-décor			code examen :		
Épreuve : EP1 - Technologie - prévention		Durée : 1h30		Coef. : 2	

B / Citer les différentes phases de fabrication pour une chaise médaillon Louis XVI jusqu'à la finition.

Fond en garniture traditionnelle

Dossier en technique moderne

Phases	Opérations	Points à contrôler
1	Contrôle de la carcasse	Collage, taquets, finition du bois
2	Sanglage	2/3.1/3 Axes
3	Couture des ressorts	Bonne répartition
4	Guindage	Passage de cordes, hauteur
5	Toile forte	Axe sur la toile
6	Lacets	
7	Mise en crin (élanclin)	Quantité
8	Emballage	Axe sur la toile
9	Points de fond	Bonne répartition des points
10	Rabattage	Régularité dans la pose des semences
11	Points de piquage	Régularité des points
12	Piqûre	Quantité
13	Mise en blanc	Droit fil. Régularité des semences
14	Ouate	
15	Tissu Finition	Droit fil. Finition propre
16	Jaconas	Droit fil. Régularité des semences
	Dossier	
1	Entoilage	Droit fil
2	Pose du carton ou de la toile forte	Engorgement les feuillures
3	Mise en place du profilé	Respect de 1.3cm du fond de feuillure
4	Pose de la mousse (chanfreinée)	Chanfrein régulier
5	Mise en blanc	Droit fil. Agrafage régulier
6	Ouate	
7	Tissu Finition	Droit fil. Finition propre
	Contrôle qualité	

/4

Groupement EST	Session 2003	CORRIGE
CAP TAPISSERIE D'AMEUBLEMENT garniture-décor		code examen :
Épreuve : EP1 - Technologie - prévention	Durée : 1h30	Coef. : 2

C / Dans un salon, vous avez à recouvrir deux chaises Louis XVI et un cabriolet.

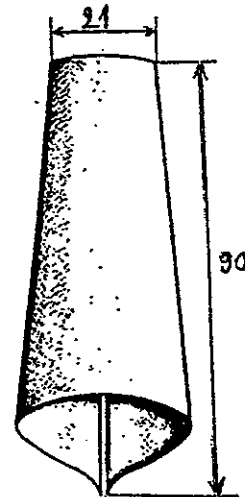
Dessiner sur la feuille A3 6/6, le plan de coupe à l'échelle 1/10 afin de déterminer le métrage de tissu nécessaire pour recouvrir l'ensemble des sièges.

Chaises		Cabriolet	
Fond	= 60X65	Fond	= 75X85
Dossier	= 55X45	Dossier	= 55X50
Entoilage	= 50X40	Entoilage	= 50X45
		Manchettes	= 25X15

/4

D / Pour compléter le décor de fenêtre on vous demande un «décor drapé » avec un pli simple ou godet.


Sur le papier kraft dessiner le demi-développé du pli à l'échelle 1/3.



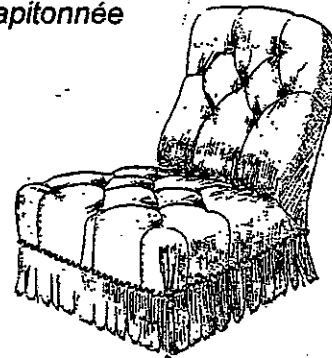
/4

E / Parmi ces deux dessins : Quelle est la garniture boutonnée et la garniture capitonnée ? Citer les caractéristiques de chacune .

Garniture boutonnée



Garniture capitonnée

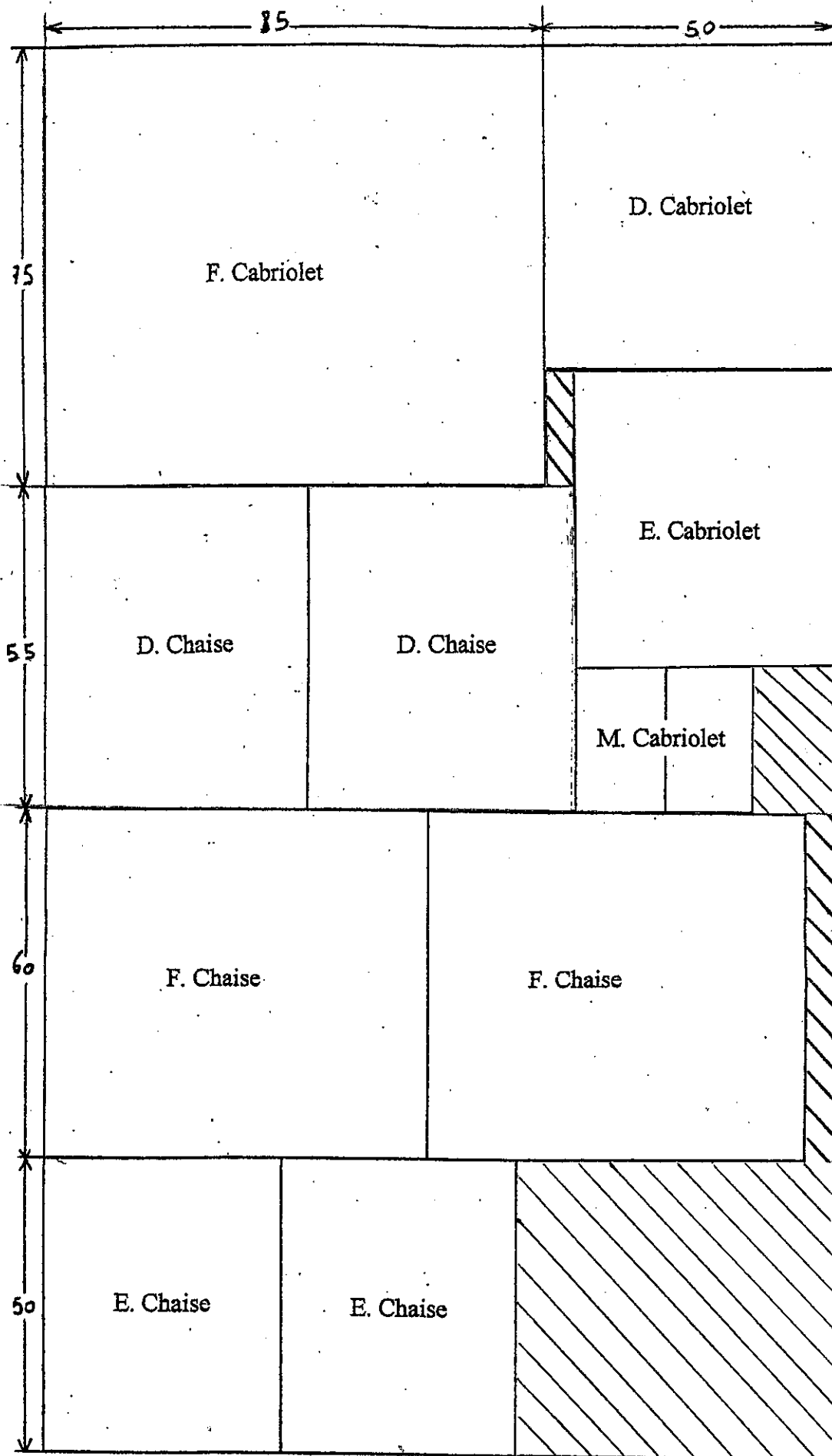


La pose de boutons ou bouffettes permet d'agrémenter la surface d'un siège en créant des effets d'ombre et de lumière.

La garniture est étudiée et réalisée en fonction de l'emplacement des boutons, ceux-ci s'enfoncent dans des creux et forment des plis.

/2

Groupement EST	Session 2003	CORRIGE
CAP TAPISSERIE D'AMEUBLEMENT garniture-décor		code examen :
Épreuve : EP1 - Technologie - prévention	Durée : 1h30	Coef. : 2



Laize de tissu	135cm
Métrage à commander	240 m

Groupement EST	Session 2003	CORRIGE
CAP TAPISSERIE D'AMEUBLEMENT garniture-décor		
Épreuve : EPI - Technologie - prévention	Durée : 1h30	Coef. : 2
code examen :		