

**C.A.P. TAPISSERIE GARNITURE DECOR****SESSION 2003****DOSSIER E.P.1**

Le dossier comprend:

- 4 feuilles format A 4 numérotées : 1/6. 2/6. 3/6. 4/6
- 2 feuilles format A 3 numérotées : 5/6. 6/6
- 1 feuille de papier kraft

- Le numéro d'inscription du candidat doit être porté sur la feuille de papier kraft dès le début de l'épreuve.
- Le dossier doit être rendu avec la totalité des feuilles.

<b>Groupement EST</b>	<b>Session 2003</b>	<b>SUJET</b>
<b>CAP TAPISSERIE D'AMEUBLEMENT garniture-décor</b>		code examen :
Épreuve : <b>EP1 - Technologie - prévention</b>	Durée : 1h30	Coef. : 2

Un client vous demande de refaire la décoration de son salon :

A / Pour les fenêtres, il hésite entre des vitrages et des voilages.

1 - Expliquer la différence entre vitrage et voilage :

-

-

/2

2 - En étudiant le document A3 5/6, relevez les références des tringles nécessaires pour la pose :

- des vitrages :

- des voilages :

/2

3 - Quelles règles de sécurité devez-vous respecter chez un client lors de la pose de rideaux pour l'utilisation :

a) des appareils électriques :

b) de l'escabeau :

/2

<b>Groupement EST</b>	<b>Session 2003</b>	<b>SUJET</b>
<b>CAP TAPISSERIE D'AMEUBLEMENT garniture-décor</b>		code examen :
Épreuve : <b>EP1 - Technologie - prévention</b>	Durée : 1h30	Coef. : 2

B / Citer les différentes phases de fabrication pour une chaise médaillon Louis XVI jusqu'à la finition.

Fond en garniture traditionnelle

Dossier en technique moderne

Phases	Opérations	Points à contrôler
1	Contrôle de la carcasse	Collage, taquets, finition du bois

/4

<b>Groupement EST</b>		<b>Session 2003</b>	<b>SUJET</b>
<b>CAP TAPISSERIE D'AMEUBLEMENT garniture-décor</b>		code examen :	
Épreuve : <b>EP1 - Technologie - prévention</b>		Durée : 1h30	Coef. : 2

C / Dans un salon, vous avez à recouvrir deux chaises Louis XVI et un cabriolet.

Dessiner sur la feuille A3 6/6, le plan de coupe à l'échelle 1/10 afin de déterminer le métrage de tissu nécessaire pour recouvrir l'ensemble des sièges.

## Chaises

Fond = 60X65  
Dossier = 55X45  
Entoilage = 50X40

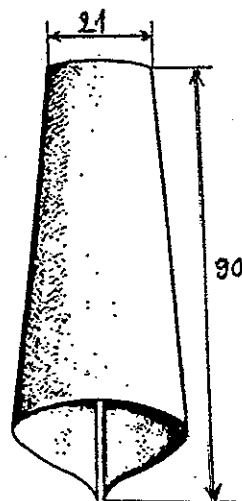
## Cabriolet

Fond = 75X85  
Dossier = 55X50  
Entoilage = 50X45  
Manchettes = 25X15

/4



D / Pour compléter le décor de fenêtre on vous demande un « décor drapé » avec un pli simple ou godet.

Sur le papier kraft dessiner le demi-développé du pli à l'échelle 1/3.




/4

E / Parmi ces deux dessins : Quelle est la garniture boutonnée et la garniture capitonnée ? Citer les caractéristiques de chacune .




/2

Groupement EST	Session 2003	SUJET
CAP TAPISSERIE D'AMEUBLEMENT garniture-décor		code examen :
Épreuve : EP1 - Technologie - prévention	Durée : 1h30	Coef. : 2




BOULE naturel vernis Ø 23mm  
Réf. 155



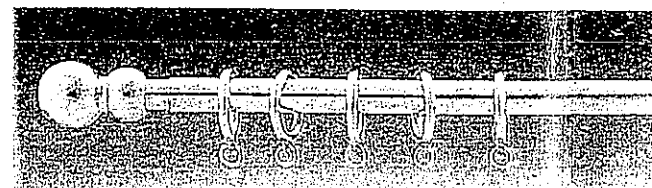
Tringle chemin de fer. Tirage store 24x16  
Réf.95




RONDE laiton poli Ø 6  
Réf.113




ANGLAIS laiton Ø 25mm  
Réf. 93




BONNE FEMME laiton chromé Ø10mm  
Réf.109



Tringle chemin de fer. Tirage double-rideaux 24x16  
Réf. 94



ANGLAIS merisier blanc Ø 40mm  
Réf.145



LOUIS XV laiton poli Ø 40mm  
Réf.41



PLATE naturel vernis 14x7  
Réf.153




PLATE aluminium 10x3  
Réf. 112



BISTRO laiton poli Ø 13  
Réf.108

Groupement EST	Session 2003	SUJET
CAP TAPISSERIE D'AMEUBLEMENT garniture-décor		code examen :
Épreuve : EP1 - Technologie - prévention	Durée : 1h30	Coef. : 2

Laize de tissu	135cm
Métrage à commander	

Groupement EST	Session 2003	SUJET
CAP TAPISSERIE D'AMEUBLEMENT garniture-décor		code examen :
Épreuve : EP1 - Technologie - prévention	Durée : 1h30	Coef. : 2

