

CE DOSSIER COMPREND :

- 1/ Page de garde et travail demandé.
 - 2/ Extrait du cahier des charges
 - 3/
 - 4/
 - 5/
 - 6/
 - 7/
- } Gamme de fabrication.

TRAVAIL DEMANDE :

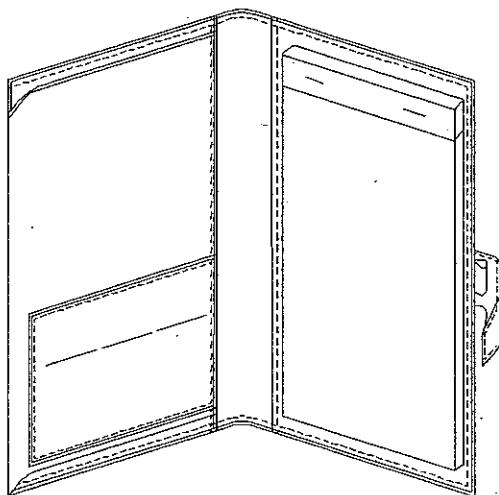
Réaliser le PORTE BLOC-NOTES à l'aide des documents techniques

Conditions initiales	Travail demandé	Evaluation
<ul style="list-style-type: none">• Eléments : coupés refendus parés numérotés• Dossier technique	<p>Réaliser toutes les opérations de :</p> <ul style="list-style-type: none">• Préparation• Montage• Piquage• Finition	<ul style="list-style-type: none">• Produit conforme aux exigences du cahier des charges.• Maîtrise des techniques de fabrication.

Groupement "Est"	Session 2003	Sujet	Tirages
CAP MAROQUINERIE		Code(s) examen(s)	
Epreuve : EP2 réalisation d'un produit	Durée épreuve : 8 h	Coef :10	
Partie : Réalisation		page.: 1 / 7	

PORTE BLOC-NOTES

Extrait du cahier des charges



Porte bloc-note de format A4 réalisé en veau grainé :

- fermé par une patte avec un top magnétique
- une poche à soufflet peut accueillir plusieurs documents
- une poche plaquée permet de classer divers papiers, et sur laquelle sont placées 3 petites fentes pour cartes de visite
- un passant maintient un stylo
- une fente permet d'insérer un bloc dans la plaque centrale
- finition des tranches en bords rognés et teintés
- toutes les piqûres à 2,5 mm du bord
- 3 pts au cm
- fil ton sur ton


15	1	Top magnétique	Métal
14	1	Pastille protection	Veau grainé
13	1	Bande propreté	
12	1	Rehausse doublure Corps	
11	3	Fonds de Poches cartes de visites	Toile
10	1	Doublure Patte Stylo	Veau Grainé
9	1	Doublure Patte Fermeture	
8	1	Doublure poche plaquée Cartes de visite	
7	1	Rehausse Poche soufflet	
6	1	Doublure Corps	
5	1	Patte stylo	
4	1	Patte fermeture	
3	1	Poche plaquée Cartes de visite	
2	1	Poche Soufflet	
1	1	Corps	
Rp	Nb	DESIGNATION	MATIERE

Groupement "Est"	Session 2003	Sujet	Tirages
CAP MAROQUINERIE		Code(s) examen(s)	
Epreuve : EP2 réalisation d'un produit	Durée épreuve :	Coef :10	
Partie : Réalisation	8 h	page : 2 / 7	

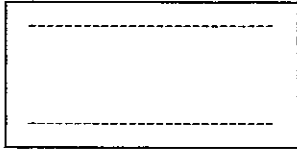
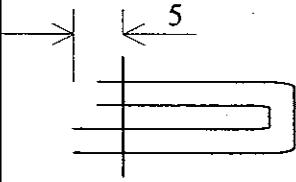
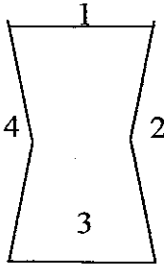
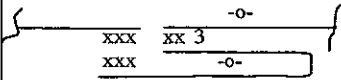
GAMME de FABRICATION

Produit : **PORTE BLOC-NOTES**

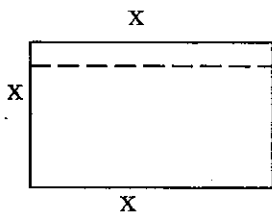
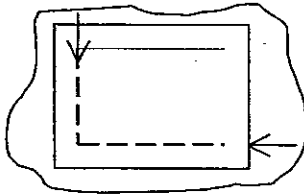
CONDITIONS TECHNOLOGIQUES

Matière d'œuvre :	Nbre pts / cm	Machines :	Equipement
Veau	3	Piqueuse plate, à bras libre, à pilier	Guide margeur
N°	OPERATIONS	SCHEMAS	DIRECTIVES Complém.
<u>Patte fermeture</u>			
1	Tracer Patte sur doublure patte		voir gabarit
2	Placer le top aimanté sur doublure patte Coller pastille de protection		Partie mâle voir gabarit
3	Encoller en filet la doublure patte et la patte		
4	Coller en forme la patte sur la doublure Patte		Arrière de la patte
5	Surcouper, poncer		
6	Piquer patte		
7	Finir les bords de la patte		

Groupement "Est"	Session 2003	Sujet	Tirages
CAP MAROQUINERIE		Code(s) examen(s)	
Epreuve : EP2 réalisation d'un produit	Durée épreuve :	Coef :10	
Partie : Réalisation	8 h	page : 3 / 7	

N°	OPERATIONS	SCHEMAS	DIRECTIVES Complém.
<u>Patte Stylo :</u>			
8	Encoller en plein la doublure et la patte stylo		
9	Coller en forme Surcouper		Décaler de 5 mm la dbl du dessus
10	Piquer les 2 longueurs Finir les bords		Points d'arrêts
11	Piquer bas sur haut		
<u>Poches Cartes de visite :</u>			
12	Finir bords des fentes		
13	Encoller les fonds de poches		Sur -o- côté 1, 2, et 4
14	Plier les fonds de poches		Sur o-o côté 3 En décalant de 5mm
15	Coller fonds de poches aux fentes		Côté 1 sur le haut Côté 3 sur le bas (x : colle)

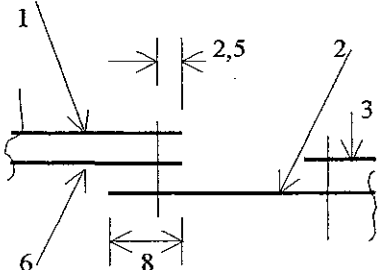
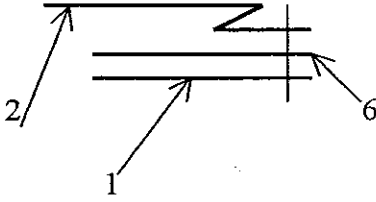
Groupement "Est"	Session 2003	Sujet	Tirages
CAP MAROQUINERIE		Code(s) examen(s)	
Epreuve : EP2 réalisation d'un produit	Durée épreuve :	Coef :10	
Partie : Réalisation	8 h	page : 4 / 7	

N°	OPERATIONS	SCHEMAS	DIRECTIVES Complém.
16	Encoller en filet doublure poche carte (n°8)		
17	Coller doublure sur poche carte de crédit (n°3)		
18	Surcouper doublure poche carte de crédit		
19	Piquer haut de poche		1 seul côté
20	Finir bords de poche cartes de visite (3 côtés)		x: finition de bord
<u>Poche soufflet</u>			
21	Collet en plein réhausse sur poche soufflet		Bord à bord Milieu sur milieu
22	Coller poche crédit		Au pointé
23	Piquer poche crédit sur poche soufflet		Départ et arrivée piqûre à 2,5mm du bord
24	Piquer poche soufflet côté réhausse		
25	Finir bord poche soufflet		Côté réhausse
26	Teinter angles poche soufflet		

Groupement "Est"	Session 2003	Sujet	Tirages
CAP MAROQUINERIE		Code(s) examen(s)	
Epreuve : EP2 réalisation d'un produit	Durée épreuve :	Coef :10	
Partie : Réalisation	8 h	page : 5 / 7	

N°	OPERATIONS	SCHEMAS	DIRECTIVES Complém.
<u>Corps</u>			
27	Encoller, réhausse doublure corps Coller rehausse sur doublure corps		Voir gabarit
28	Fendre doublure corps Finir bord de - la fente - emplacement patte fermeture, uniquement		Suivant gabarit
29	Encoller bande de propreté Coller bande sur corps Finir bord emplacement patte (uniquement)		Voir gabarit
30	Tracer emplacement du corps sur doublure corps		Voir gabarit
31	Placer top magnétique (partie femelle) sur le corps Coller pastille de protection		voir gabarit
32	Coller porte stylo à l'intérieur de la patte fermeture		Milieu sur milieu
33	Coller l'ensemble entre le corps et la doublure corps		centrer

Groupement "Est"	Session 2003	Sujet	Tirages
CAP MAROQUINERIE		Code(s) examen(s)	
Epreuve : EP2 réalisation d'un produit	Durée épreuve :	Coef : 10	
Partie : Réalisation	8 h	page : 6 / 7	

N°	OPERATIONS	SCHEMAS	DIRECTIVES Complém.
34	Encoller doublure Encoller corps		
35	Coller en forme corps sur doublure		Commencer bord à bord côté patte de fermeture
36	Surcouper doublure corps Poncer		
<u>Assemblage Corps / Poche Soufflet</u>			
37	Marquer les plis du soufflet avec filet		Suivant pointé
38	Encoller en filet : - poche soufflet - corps		- grand côté sur -o- - côté top sur o-o
39	Coller poche soufflet sur corps - chevauchement de 8 mm Piquer Finir bord		- côté top - centrer - point d'arrêt
40	Encoller en filet corps et côtés poche soufflet Coller cotés poche soufflet sur corps		
41	Piquer côtés poche soufflet sur corps		
42	Finir les bords du corps		
43	Contrôler, bichonner le porte bloc-notes		

Groupement "Est"	Session 2003	Sujet	Tirages
CAP MAROQUINERIE		Code(s) examen(s)	
Epreuve : EP2 réalisation d'un produit	Durée épreuve :	Coef : 10	
Partie : Réalisation	8 h	page : 7 / 7	