

CORRIGE

Ces éléments de correction n'ont qu'une valeur indicative. Ils ne peuvent en aucun cas engager la responsabilité des autorités académiques, chaque jury est souverain.

Partie d'épreuve	Dossier	Annexe (page)	Points
A - Partie écrite		 / 60
> Reconnaissance des végétaux • Règle d'or - style décoratif • Décor buffet • Questions de technologie . question 1 . question 2 } 5 pts	2 3 2 3 1	• annexe 3 [p. 7/19] • annexe 8 [p. 15/19] • annexe 4 [p. 8/19] • annexe 11 [p. 18/19] et 19/19 • annexe 1 [p. 4/19] / 2,5 / 7,5 / 10 / 6 / 6 / 5
> Technologie professionnelle • Règle d'or - style décoratif • Décor buffet • Questions de technologie . question 1 . question 2 } 5 pts	2 3 1	• annexe 4 [p. 8/19] • annexe 11 [p. 18/19] et 19/19 • annexe 1 [p. 4/19] / 17 / 6 / 6 / 5
> Dessin d'art appliqué à la profession • Esquisses (décor de la coiffe) • Étude préparatoire du bouquet rond groupé • Esquisse couleur de la composition piquée	1 2 3	• annexe 6 [p. 11/19] • annexe 5 [p. 9/19] • annexe 7 [p. 13/19] / 20 (voir grille EP1)
> Botanique • Racine (3 pts) • Feuille (10 pts)	1 3	• annexe 2 (p. 5/19) • annexe 9 (p. 16/19) • annexe 10 (p. 17/19) / 13
B - Partie pratique		 / 120
> Technique de montage > Coiffe > Bouquet rond groupé > Technique de tigeage (dressage) > Composition piquée	1 1 2 1 3	(voir grille EP1) / 25 / 15 / 40 / 10 / 30
⇓ Pénalisation (organisation, propreté du poste de travail) - 10 points maximum		 / 180 - <input type="text"/> = / 180
• note arrondie au 1/2 point supérieur		 / 20

GROUPEMENT EST	SESSION 2003	BARÈME	
C.A.P. Fleuriste	SUJET 2	Code :	
ÉPREUVE : E.P.1 Pratique professionnelle en atelier de production		Durée : 6 h 00	Page 1/1

ANNEXE 1 - Dossier 1 - Technologie professionnelle (5 points)

1. Les travaux courants nécessaires à l'arrivage des fleurs

(À l'appréciation des correcteurs)

1 pt

2. Soins particuliers à l'arrivage des fleurs.

4 pts

- Pour les euphorbes :
 - *chauffer le bas de la tige après recoupe pour éviter que le latex bouche les canaux du bas de la tige*

- Pour le lilas :
 - *recoupe au sécateur*
 - *soit marteler légèrement le bas de la tige*
 - *soit fendre en croix le bas de la tige*

- Pour les amaryllis :
 - *Coupe droite*
 - *positionner une bague de ruban adhésif discrète au bas de la tige pour éviter qu'elle se roule.*

- Pour les jonquilles :
 - *Recoupe en biseau*
 - *Mettre les fleurs boire seules à cause de la sève toxique de ces fleurs.*

GROUPEMENT EST	SESSION 2003	CORRIGÉ 2	TIRAGES
C.A.P. Fleuriste			
ÉPREUVE : E.P.1 Pratique professionnelle en atelier de production		Durée : 6 h 00	Page 1/8

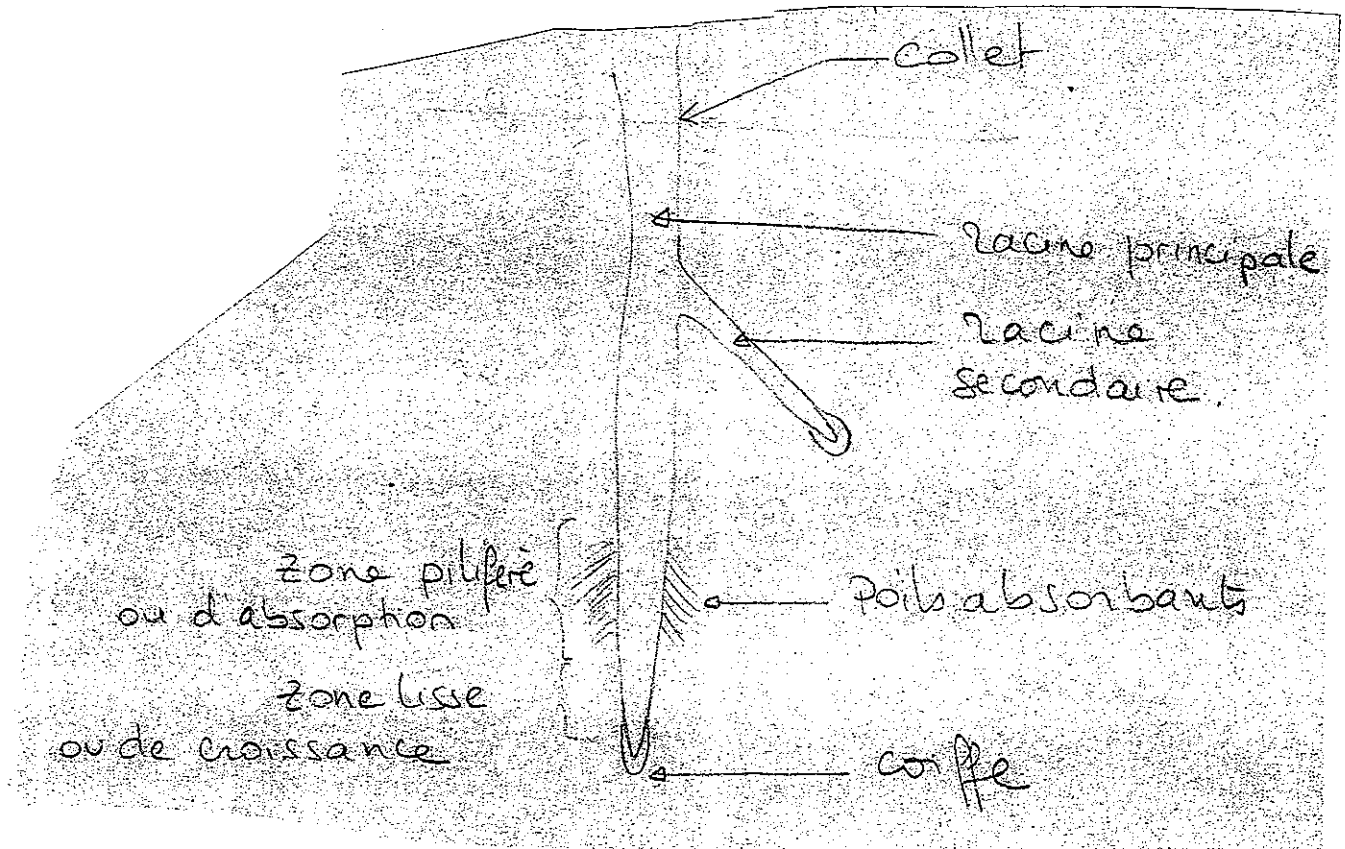
ANNEXE 2 - Dossier 1 - Botanique : les racines . (3 points)

1. Présentez le schéma d'une racine avec sa légende

titre : 0,5 pt (Les différentes parties d'une racine)

0,25 pt par bonne réponse, bien placée

0,75 pt pour le schéma lui-même.



2. Fonction d'une racine

Absorption

→ eau

→ sels minéraux – oligo éléments

BOUQUET – Lot végétaux N° 3

	Nom commun	Nom botanique (genre et espèce)
1	<i>Œillets des fleuristes</i>	<i>Dianthus caryophyllus</i>
2	<i>Rose</i>	<i>Rosa</i>
3	<i>Gypsophile</i>	<i>Gypsophilia paniculata</i>
4	<i>Aspidistra ou plante des marchands de vin</i>	<i>Aspidistra elatior</i>
5	<i>Fougère USA</i>	<i>Arachniode adiantiformis</i>
6	<i>Lierre</i>	<i>Hedera Heiix</i>
7	<i>Asparagus</i>	<i>Asparagus umbellatus</i>
8	<i>Asparagus</i>	<i>Asparagus plumosus</i>
9	<i>Germini</i>	<i>Gerbera</i>
10	<i>Millepertuis</i>	<i>Hypericum elatum</i>

ANNEXE 4 - DOSSIER N° 2

TECHNOLOGIE PROFESSIONNELLE (6 points)


- Définissez la règle d'or :

Règle d'esthétisme et d'équilibre : *Respect de proportions entre les végétaux et le contenant (8.5.3)*

1 pt

- Appliquez la règle d'or dans le cercle :

1 pt



- Donnez les caractéristiques du style décoratif :

3 pts

- *Style de base de la décoration florale*
- *Pas de respect de la sociologie*
- *Style symétrique ou asymétrique*
- *Grande quantité de fleurs utilisée*
- *Forme pleine (formelle) ou d'expression libre*
- *Piquage réalisé de façon à ce que les fleurs regardent vers le haut (sauf en mouvement passif)*
- *Adapté à tous types de compositions (deuil, mariage, Saint Valentin...)*

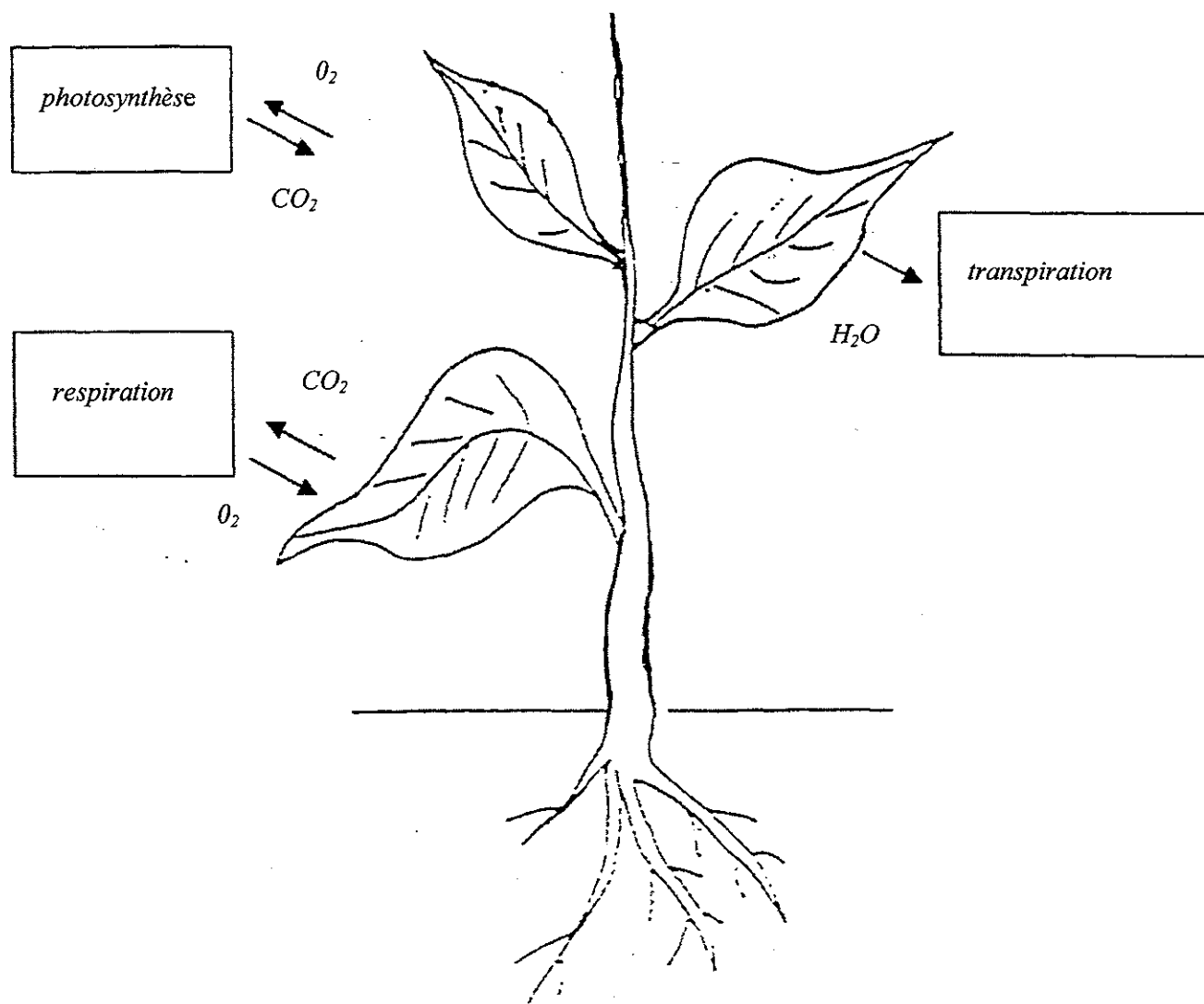
- Définissez le bouquet rond décoratif groupé :

1 pt

*Travail par masses de même nature séparées par du feuillage.
Ce travail entre dans une forme demi-sphérique.*

	Nom commun	Nom botanique genre-espèce	Famille
1	<i>Arum</i>	<i>Zantedeschia aethiopica</i>	<i>Aracées</i>
2	<i>Aralia</i>	<i>Fatsia japonica</i>	<i>Araliacées</i>
3	<i>Anthurium</i>	<i>Anthurium andreaeanum</i>	
4	<i>Fougère nid d'oiseau</i>	<i>Asplenium nidus</i>	<i>Polypodiacées</i>
5	<i>Bégonia</i>	<i>Bégonia elatior</i>	<i>Bégoniacées</i>
6	<i>Chlorophyte ou phalangère</i>	<i>Chlorophytium comosum</i>	
7	<i>Ficus nain</i>	<i>Ficus pumila</i>	<i>Moracées</i>
8	<i>Kalanchoe</i>	<i>Kalanchoe blossfeldiana</i>	
9	<i>Spathiphyllum</i>	<i>Spathiphyllum wallistii</i>	
10	<i>Diffenbachia</i>	<i>Diffenbachia picta</i>	

BOTANIQUE (4,5 points)



Fonction des végétaux

Utilisez les flèches pour nommer le ou les gaz échangés pour chacune de ces fonctions.

ANNEXE 10 - DOSSIER N° 3 - Phase ⑥ - La feuille (5,5 points)

- Donnez le nom des pores qui permettent les échanges gazeux :

- *stomates*

0,5 pt

- Précisez où sont situés ces pores :

- *face inférieure de la feuille (dans l'épiderme inférieur)*

0,5 pt

- Certaines feuilles n'ont pas de pétiole, comment les nomme-t-on ?
Donnez deux exemples.

- *feuilles sessiles*

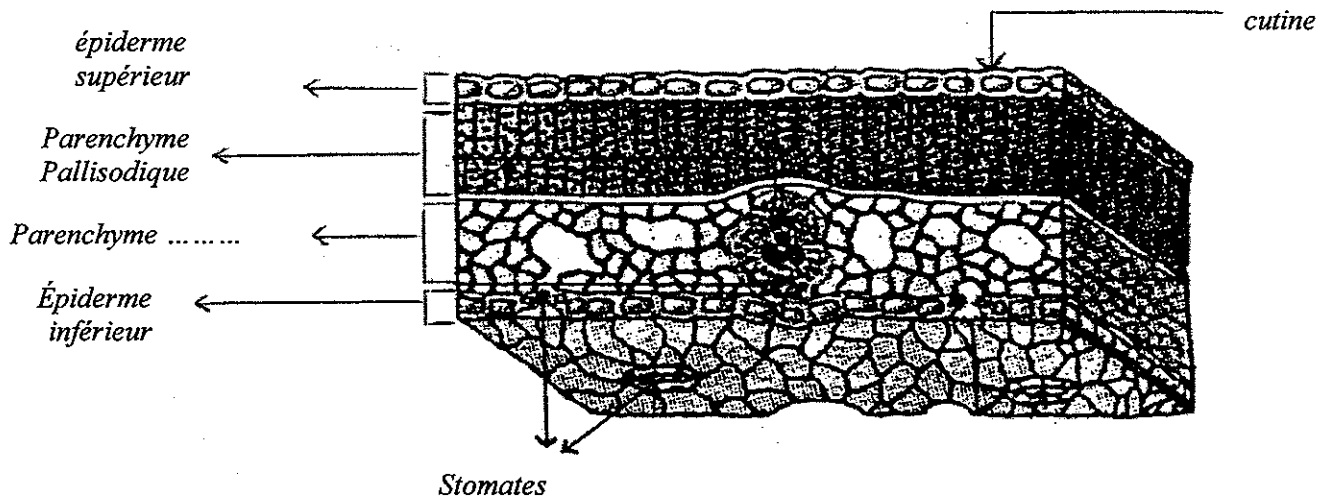
0,5 pt

exemples : - *Blé, Maïs, Eucalyptus, Pâquerettes, Pissenlit*

0,5 pt

- Schéma : 3 points

- Titre : 0,5 pt



TITRE : *Coupe transversale d'une feuille*

ANNEXE 11

(6 points)

1. Indiquez et expliquez les différentes étapes de la réalisation de votre décor de buffet. 1,5 pt

- *Emmoussage : autoblocage*
- *Disposition du feuillage*
- *Placement des lignes : application règle d'or*
- *Positionnement du foyer*
- *Finition*

2. Précisez quelles sont les contraintes dont vous devez tenir compte lors de la réalisation d'un décor de buffet. 1 pt

- *Végétaux non odorants*
- *Travail à effet*
- *Travail visible de loin*
- *Faire attention que les végétaux ne soient pas en contact avec les aliments (hygiène)*

3. Proposez trois travaux différents qui peuvent servir de décor de buffet. 0,5 pt

- *Composition sur pied fer forgé*
- *décor du tonneau*
- *Compo allongée....*

4. Vous venez de réaliser un décor de buffet.
Vous avez employé différents végétaux.
Citez ceux qui sont dits

actifs : (1,5 point)

- *Asparagus plumosus*
- *Molucelles*
- *Lisianthus*
- *Œillet*
- *Plume*
- *Branche de noisetier*

passifs : (1,5 point)

- *Feuille d'aralia*
- *Amarante pendula*
- *Lierre ou galax*
- *Feuilles aspidistras*