

SUJET

(Les 2 feuilles sont à rendre avec la copie)

S1 – LES INSTITUTIONS PUBLIQUES FRANCAISES

Dans le centre administratif, il y a une annexe de la mairie. Le maire est le responsable au niveau de la commune.

Précisez le représentant de l'Etat dans les administrations françaises suivantes (4 pts) :

- l'arrondissement :
- le département :
- la région :
- le gouvernement :

Indiquez ci-dessous par quel mode d'élection est élu un conseiller municipal (1 pt) :

S3 – LE CADRE JURIDIQUE D'EXERCICE DE LA PROFESSION

Rappelez les dates de la loi relative aux entreprises de sécurité et de gardiennage et des deux décrets d'application (3 pts).

- La loi :
- Les décrets :

Indiquez comment un agent de prévention et de sécurité peut être autorisé à procéder à des palpations de sécurité d'après le décret no 2002-329 du 8 mars 2002 (3 pts) :

Citez les deux articles liés à la légitime défense dans le Code Pénal (4 pts) :

Des convoyeurs de fonds transportent l'argent pour la Poste régulièrement, ils sont armés et autorisés au port d'armes de 1^{ère} et 4^{ème} catégorie.

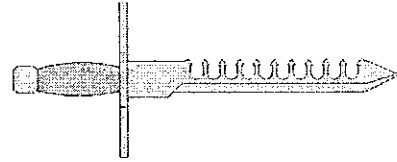

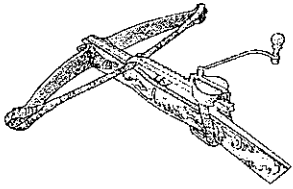
Précisez quelles sont les armes qui correspondent (4 pts) :

- à la 1^{ère} catégorie :

- à la 4^{ème} catégorie :

GROUPEMENT « EST »	SESSION 2003	SUJET	TIRAGES
Examen : CAP Agent de Prévention et de Sécurité	Code(s) examen(s) :		
Epreuve : EP1 Prévention des actes de malveillance et de négligence partie écrite	Durée : 1 h	Coef. : 2/8	Page : 1/2

Indiquez ci-dessous de quelle catégorie sont les armes suivantes (3 pts) :



Dans ce centre commercial, la commission de sécurité a demandé que l'agent de sécurité soit un Agent de Sécurité Incendie.

Citez les obligations d'un Agent de Prévention et de sécurité définies dans la loi et les décrets (4 pts) :

S4 - TECHNIQUES PROFESSIONNELLES

Des vols malgré la présence de l'A.P.S. ont lieu régulièrement dans différents magasins. Il est envisagé d'installer un système de vidéosurveillance.

Indiquez les conditions d'installation d'un tel système d'après la loi du 21 janvier 1995 et le décret d'application du 17 octobre 1996 (6 pts) :

Indiquez un autre moyen de lutter électroniquement contre le vol (1 pt) :

Citez l'objectif de l'accueil et du contrôle d'accès (3 pts) :

S6 - SCIENCES APPLIQUEES A LA SECURITE

Précisez la signification des pictogramme suivant (4 pts) :

