

DANS CE CADRE

Académie : _____ Session : _____

Examen ou concours : _____ Série* : _____

Spécialité/option : _____ Repère de l'épreuve : _____

Epreuve/sous-épreuve : _____

NOM _____

(en majuscules, suivi s'il y a lieu, du nom d'épouse)

Prénoms : _____

n° du candidat

Né(e) le : _____

(le numéro est celui qui figure sur la convocation ou liste appel)


NE RIEN ECRIRE

Examen : _____ Série* : _____

Spécialité/option : _____

Repère de l'épreuve : _____

Epreuve/sous-épreuve : _____



Appréciation du correcteur (uniquement s'il s'agit d'un examen) :

Il est interdit aux candidats de signer leur composition ou d'y mettre un signe quelconque pouvant indiquer sa provenance.

Session 2003

**BEP Alimentation option Poissonnier
C.A.P Poissonnier**

EP2 TECHNOLOGIE PROFESSIONNELLE

Durée : 1 h 00

Coefficient : CAP 2

BEP note 8/20 ou 40/100

Les réponses sont à rédiger sur les documents.
A l'issue de l'épreuve, vous remettrez l'ensemble des documents.

Nombre de pages composant le sujet (chaque page étant obligatoirement paginée) : 11

I. Le bulot

1. CLASSIFICATION DU BULOT :

◆ EMBRANCHEMENT (CLASSE) :(1 POINT)

◆ FAMILLE : (1 POINT)

◆ CITER UNE AUTRE ESPECE DE LA MEME CLASSE :
 (0.5 POINT)

◆ QUELLE EST LA CARACTERISTIQUE DE CET EMBRANCHEMENT ?
 (1 POINT)

.....

.....

.....

.....

.....

Examen : BEP - CAP		Session 2003	SUJET
Spécialités : BEP Alimentation option Poissonnier Cap Poissonnier		Epreuve : EP2 Technologie professionnelle	
Temps alloué : 1h00	Coefficient : 2	Document 1/11	

ANATOMIE DU BULOT

- ◆ PLACER SUR LE SCHEMA LES CRITERES SUIVANTS : (4 POINTS)
GLANDES DIGESTIVES – CŒUR—BRANCHIES – ANUS – ESTOMAC –
GONADES – REINS - BOUCHE

- ◆ QU'EST-CE-QUE LA RADULA ? (0.5 POINT)

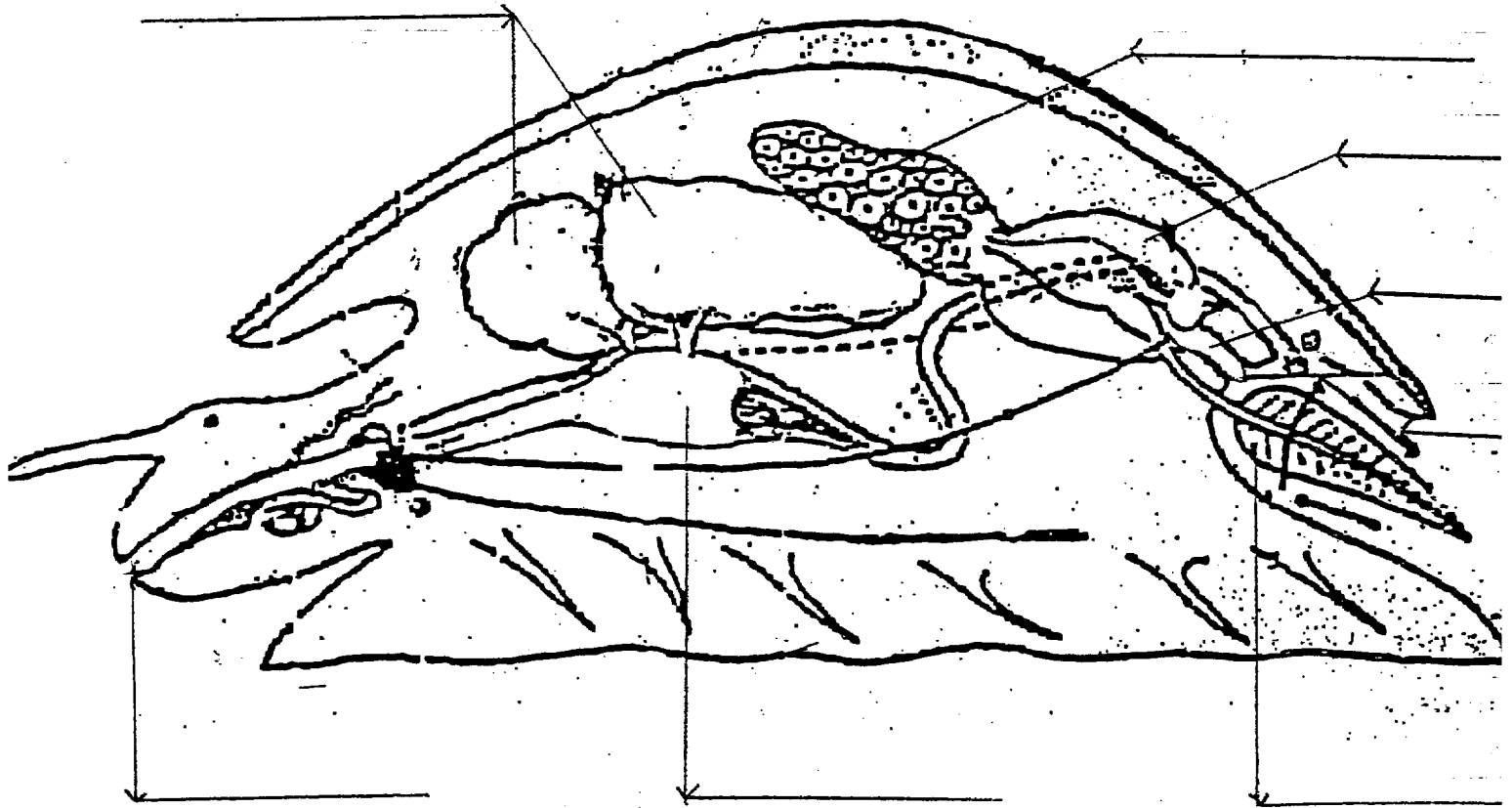
.....

.....

.....

.....

- ◆ TRACER AU STYLO LE TRAJET DU TUBE DIGESTIF DU BULOT (1 POINT)

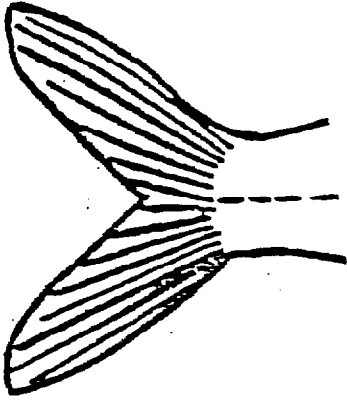


Examen : BEP - CAP		Session 2003	SUJET
Spécialités : BEP Alimentation option Poissonnier Cap Poissonnier		Epreuve : EP2 Technologie professionnelle	
Temps alloué : 1h00	Coefficient : 2	Document 2/11	

II. Le poisson

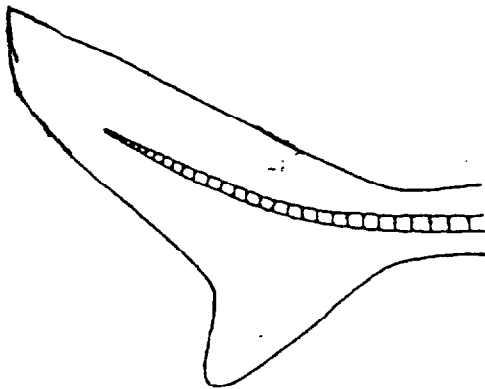
A) IL EXISTE 2 SORTES DE NAGEOIRES CAUDALES :

D'APRES CHAQUE SCHEMA IDENTIFIER LEUR NOM ET EXPLIQUER LEURS CARACTERISTIQUES. (3 POINTS)



•

.....
.....
.....
.....



•

.....
.....
.....
.....

Examen : BEP - CAP		Session 2003	SUJET
Spécialités : BEP Alimentation option Poissonnier Cap Poissonnier		Epreuve : EP2 Technologie professionnelle	
Temps alloué : 1h00	Coefficient : 2	Document 3/11	

CLASSIFICATION

Compléter le tableau

- 1. DANS LA PREMIERE COLONNE, PLACER LES ESPECES SUIVANTES DANS LA CASE CORRESPONDANTE :**

BARBUE, RAIE, GRENOUILLE, MAQUEREAU, HOMARD,
GRENADIER, ANCHOIS, OURSIN (4 POINTS)

- 2. DANS LA DEUXIEME COLONNE, INDIQUER UNE AUTRE ESPECE DE VOTRE CHOIX CORRESPONDANT A LA CLASSIFICATION :**

(4POINTS)

CLASSIFICATION	1 ^{ERE} COLONNE	2 ^{ERE} COLONNE
CRUSTACES		
PERCIFORME : SCOMBRIDES		
PLEURONECTIFORMES		
SELACIENS		
BATRACIENS		
CLUPEIDES		
GADIDEFORMES		
ECHINIDES		

Examen : BEP - CAP		Session 2003	SUJET
Spécialités : BEP Alimentation option Poissonnier Cap Poissonnier		Epreuve : EP2 Technologie professionnelle	
Temps alloué : 1h00	Coefficient : 2	Document 4/11	

Question 3

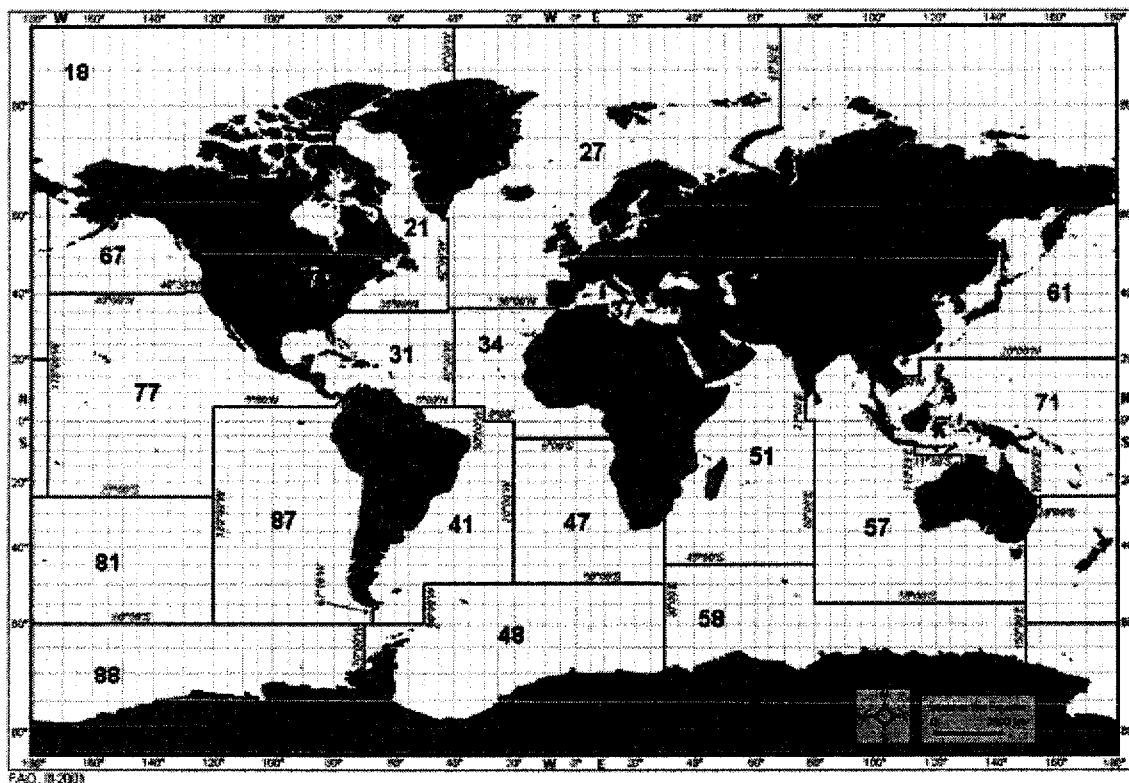
7 points

BAREME EUROPEEN DE COTATION DE FRAICHEUR DES POISSONS BLEUS.

Dans la catégorie de fraîcheur A, répondre par vrai ou faux aux critères proposés.

Peau	Pigmentée vive, couleurs vives, brillantes et iridescentes. Nette différence entre surface dorsale et ventrale.	Vrai : <input type="checkbox"/> Faux <input type="checkbox"/>
Mucus cutané	Légèrement trouble	Vrai : <input type="checkbox"/> Faux <input type="checkbox"/>
Oeil	Convexe et légèrement affaissé. Pupille foncée, cornée légèrement opalescente.	Vrai : <input type="checkbox"/> Faux <input type="checkbox"/>
Branchies	S'épaississant, se décolorant. Mucus opaque.	Vrai : <input type="checkbox"/> Faux <input type="checkbox"/>
Consistance de la chair	Très ferme, rigide.	Vrai : <input type="checkbox"/> Faux <input type="checkbox"/>
Opercules	Argentés, légèrement teintés de rouge et de brun.	Vrai : <input type="checkbox"/> Faux <input type="checkbox"/>
Odeur des branchies	Absence d'odeur ou d'odeur d'algue marine. Odeur neutre.	Vrai : <input type="checkbox"/> Faux <input type="checkbox"/>

Examen : BEP - CAP		Session 2003	SUJET
Spécialités : BEP Alimentation option Poissonnier Cap Poissonnier		Epreuve : EP2 Technologie professionnelle	
Temps alloué : 1h00	Coefficient : 2	Document 5/11	


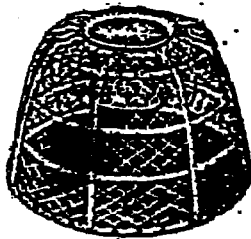
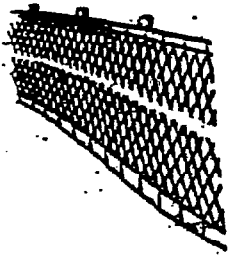
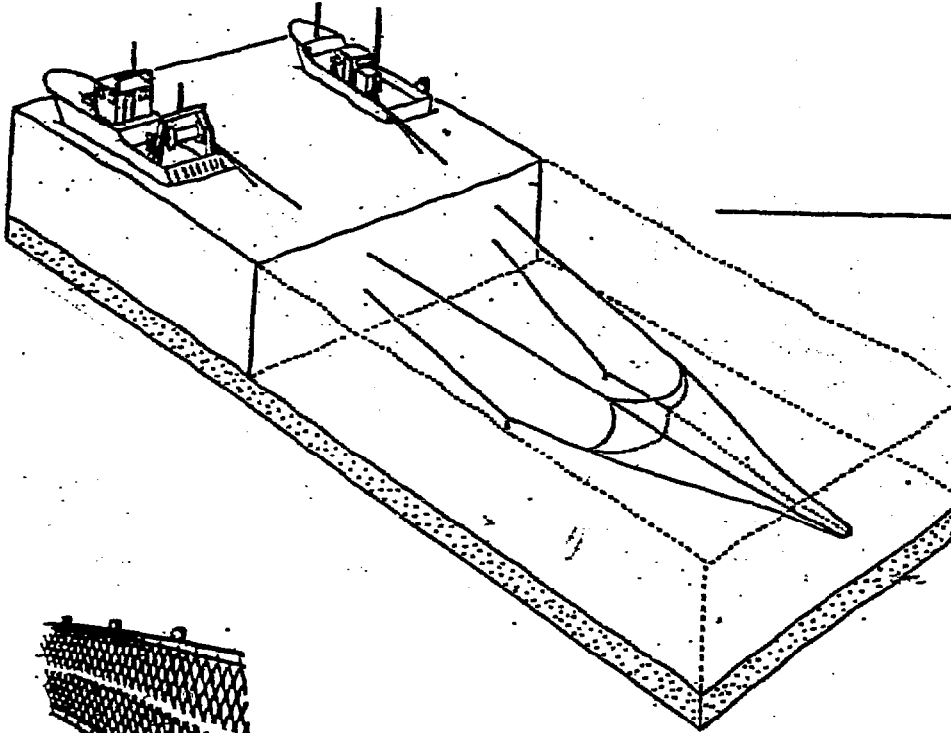


Nommer les zones de pêche suivantes :

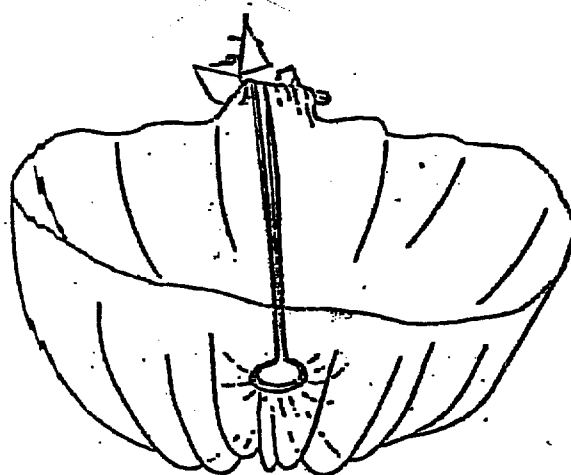


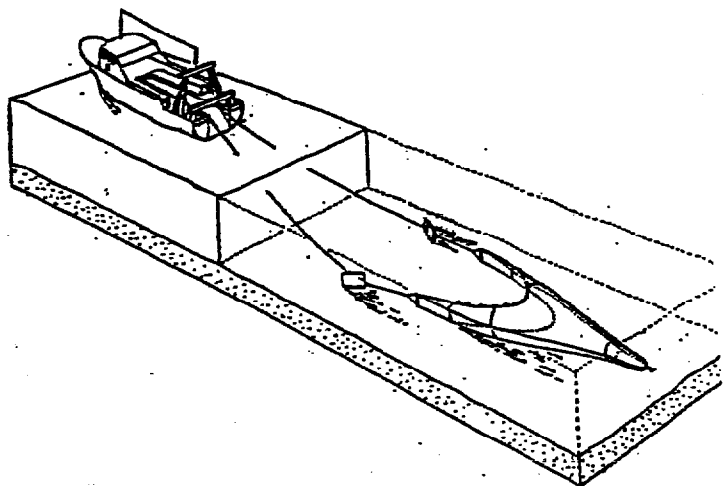
- Zone FAO n° 27 : -
- Zone FAO n° 37 : -
- Zone FAO n° 31 : -
- Zone FAO n° 51 : -
- Zone FAO n° 41 : -
- Zone FAO n° 47 : -

Examen : BEP - CAP		Session 2003	SUJET
Spécialités : BEP Alimentation option Poissonnier Cap Poissonnier		Epreuve : EP2 Technologie professionnelle	
Temps alloué : 1h00	Coefficient : 2	Document 6/11	

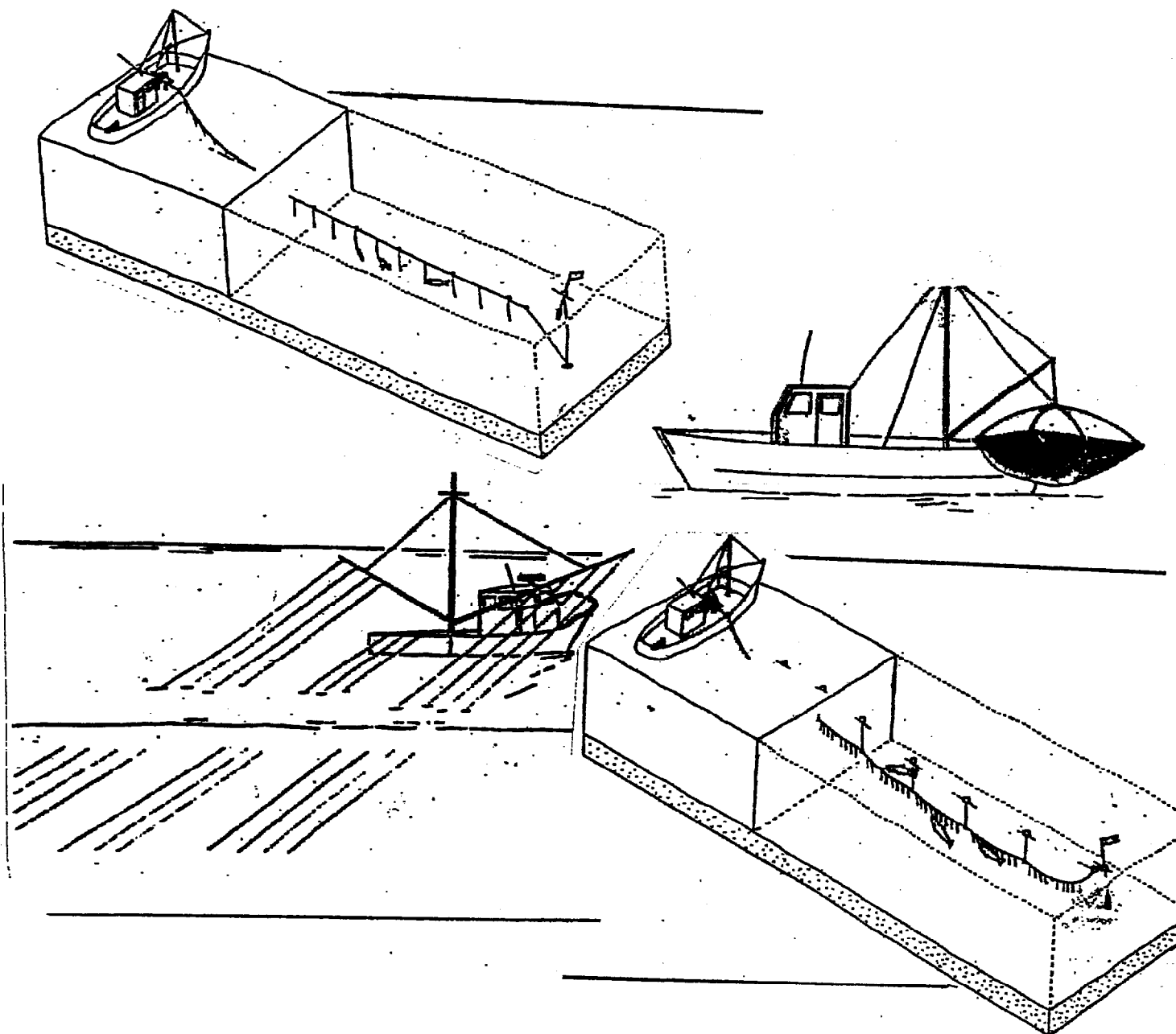
- ◆ D'APRES LES ILLUSTRATIONS CI-DESSOUS TROUVER LES NOMS DES DIFFERENTES TECHNIQUES DE PECHEES.



Examen : BEP - CAP		Session 2003	SUJET
Spécialités : BEP Alimentation option Poissonnier Cap Poissonnier		Epreuve : EP2 Technologie professionnelle	
Temps alloué : 1h00	Coefficient : 2	Document 7/11	



Examen : BEP - CAP		Session 2003	SUJET
Spécialités : BEP Alimentation option Poissonnier Cap Poissonnier		Epreuve : EP2 Technologie professionnelle	
Temps alloué : 1h00	Coefficient : 2	Document 8/11	

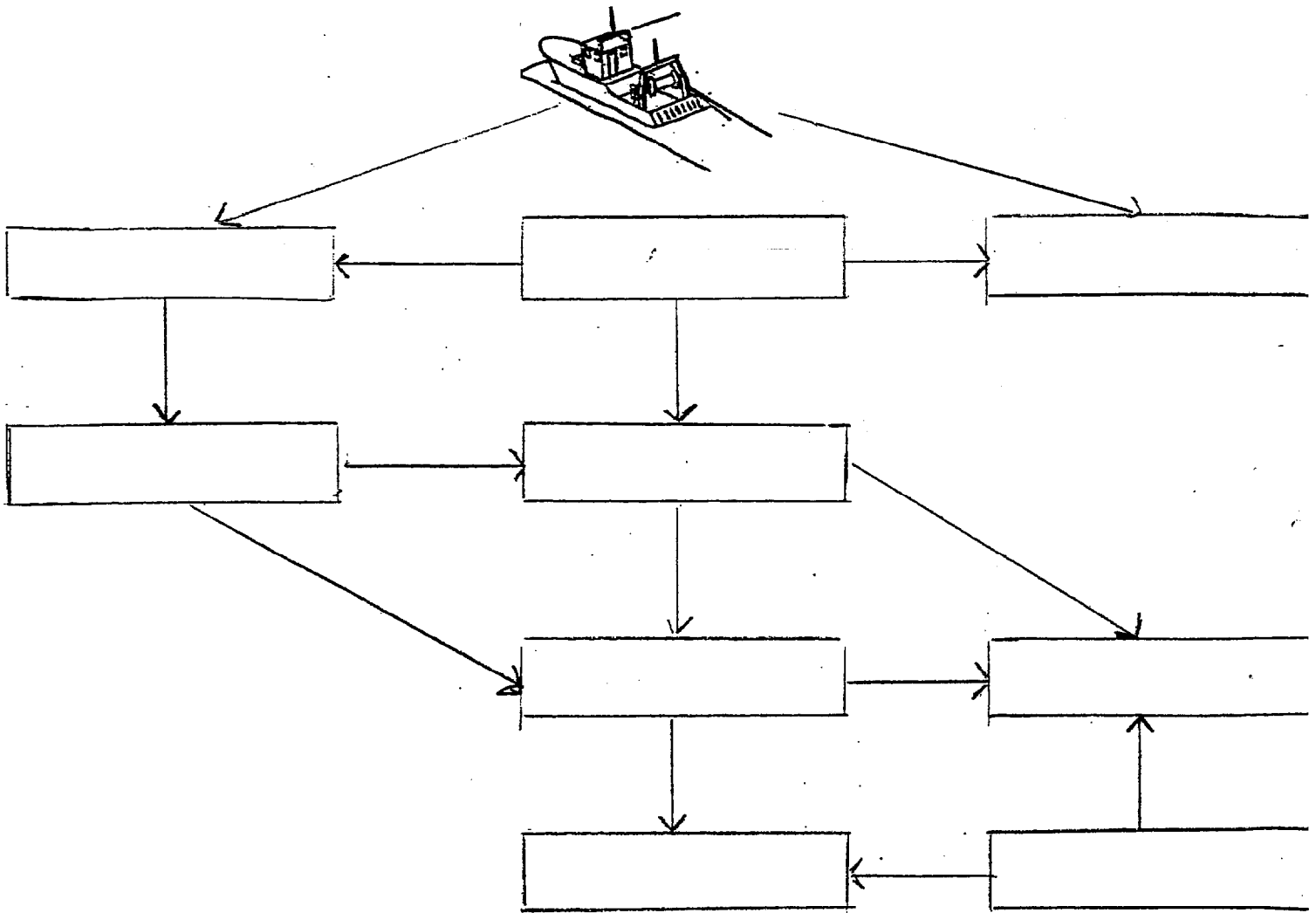


Examen : BEP - CAP		Session 2003	SUJET
Spécialités : BEP Alimentation option Poissonnier Cap Poissonnier		Epreuve : EP2 Technologie professionnelle	
Temps alloué : 1h00	Coefficient : 2	Document 9/11	

a) A l'aide des différents éléments suivants retracer la filière

(2 points)

Crée – grandes surfaces – mareyeurs – plate-forme- transformateurs – grossistes
 – poissonneries – ménages – importateurs



Examen : BEP - CAP		Session 2003	SUJET
Spécialités : BEP Alimentation option Poissonnier Cap Poissonnier		Epreuve : EP2 Technologie professionnelle	
Temps alloué : 1h00	Coefficient : 2	Document 10/11	

b) Définir les mots suivants :

(2 points)

- Transformateurs :

.....
.....
.....
.....
.....

- Mareyeurs :

.....
.....
.....
.....
.....

- Importateurs

.....
.....
.....
.....
.....

Examen : BEP - CAP		Session 2003	SUJET
Spécialités : BEP Alimentation option Poissonnier Cap Poissonnier		Epreuve : EP2 Technologie professionnelle	
Temps alloué : 1h00	Coefficient : 2	Document 11/11	