


# CORRIGE

**Ces éléments de correction n'ont qu'une valeur indicative. Ils ne peuvent en aucun cas engager la responsabilité des autorités académiques, chaque jury est souverain.**

Q 1 : Que signifie ce pictogramme ?

/3pts



Q2 : Pour meuler du métal, il faut porter. ?..

/3pts

- Un masque
- Des lunettes
- Des chaussures avec embout d'acier

Q3 : Un accident corporel dû à l'électricité s'appelle ?

/3pts

- L'électrothérapie
- L'hydrocution
- L'électrocution

Q 4 : Sur cette affiche, que représente ce tortillon ?

/3pts

- Un autre foret
- Un copeau de matière qui est percée
- Ce n'est que la partie d'un foret spécial

Q 5 : Que signifie ce pictogramme ?


/3pts

- Port de lunettes obligatoire

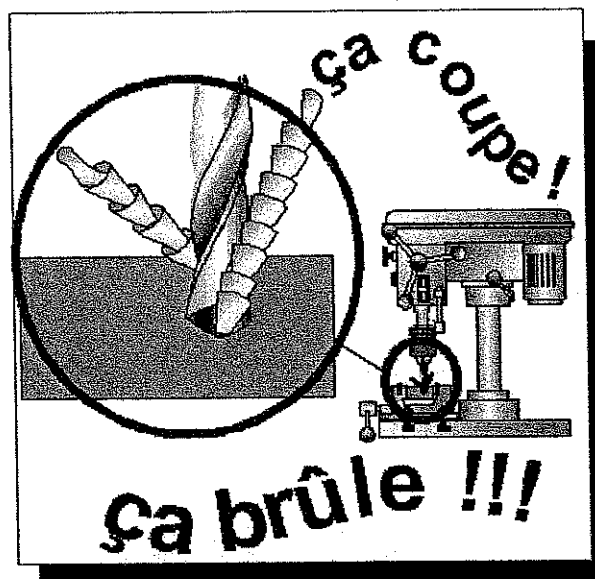
ACADEMIE DE REIMS			
C.A.P.	M.I.T.A.	TEMPS ALLOUE	10 H
EPREUVE E.2.	OUVRAGE D'ISOLATION DE PAROI	COEFFICIENT	8
SESSION 2004	QUESTIONS ORALES (REPNSES)	FEUILLE	1 / 2

Questions orales E2 reponses

Q 1 : Que signifie ce pictogramme ?



Q 4 : Sur cette affiche, que représente ce tortillon ?



Q 5 : Que signifie ce pictogramme ?



ACADEMIE DE REIMS			
C.A.P.	M.I.T.A.	TEMPS ALLOUE	10 H
EPREUVE E.2.	OUVRAGE D'ISOLATION DE PAROI	COEFFICIENT	8
SESSION 2004	QUESTIONS ORALES (REponses)	FEUILLE	2 / 2