

**Q 1 : Que signifie ce pictogramme ?**

**/3pts**



**Q2 : Pour meuler du métal, il faut porter. ?..**

**/3pts**

- Un masque
- Des lunettes
- Des chaussures avec embout d'acier

**Q3 : Un accident corporel dû à l'électricité s'appelle ?**

**/3pts**

- L'électrothérapie
- L'hydrocution
- L'électrocution

**Q 4 : Sur cette affiche, que représente ce tortillon ?**

**/3pts**

- Un autre foret
- Un copeau de matière qui est percée
- Ce n'est que la partie d'un foret spécial


**Q 5 : Que signifie ce pictogramme ?**

**/3pts**




ACADEMIE DE REIMS			
C.A.P.	M.I.T.A.	TEMPS ALLOUE	10 H
EPREUVE E.2.	OUVRAGE D'ISOLATION DE PAROI	COEFFICIENT	8
SESSION 2004	QUESTIONS ORALES	FEUILLE	1 / 2


Q 1 : Que signifie ce pictogramme ?



Q 4 : Sur cette affiche, que représente ce tortillon ?



Q 5 : Que signifie ce pictogramme ?



ACADEMIE DE REIMS			
C.A.P.	M.I.T.A.	TEMPS ALLOUE	10 H
EPREUVE E.2.	OUVRAGE D'ISOLATION DE PAROI	COEFFICIENT	8
SESSION 2004	QUESTIONS ORALES	FEUILLE	2 / 2