


A la demande d'une cliente, vous devez transformer le T-shirt « Lilli » en une veste « Pepito »



**T-shirt « Lilli »**

T-shirt légèrement ajusté,  
Encolure arrondie,  
Manches 3/4.



**Veste « Pépito »**

Veste légèrement ajustée, boutonnée,  
Devant agrémenté d'un empiècement  
arrondi. Manches 3/4.

**ON VOUS DONNE :**

- 1 Sujet comprenant 2 parties : - 1<sup>ère</sup> partie : préparation (folio 1/4 et 2/4)  
- 2<sup>ème</sup> partie : technologie (folio 3/4 et 4/4)
- Le devant droit du T-shirt « Lilli » stature 138 (folio 2/4)
- 1 feuille de calque en A3

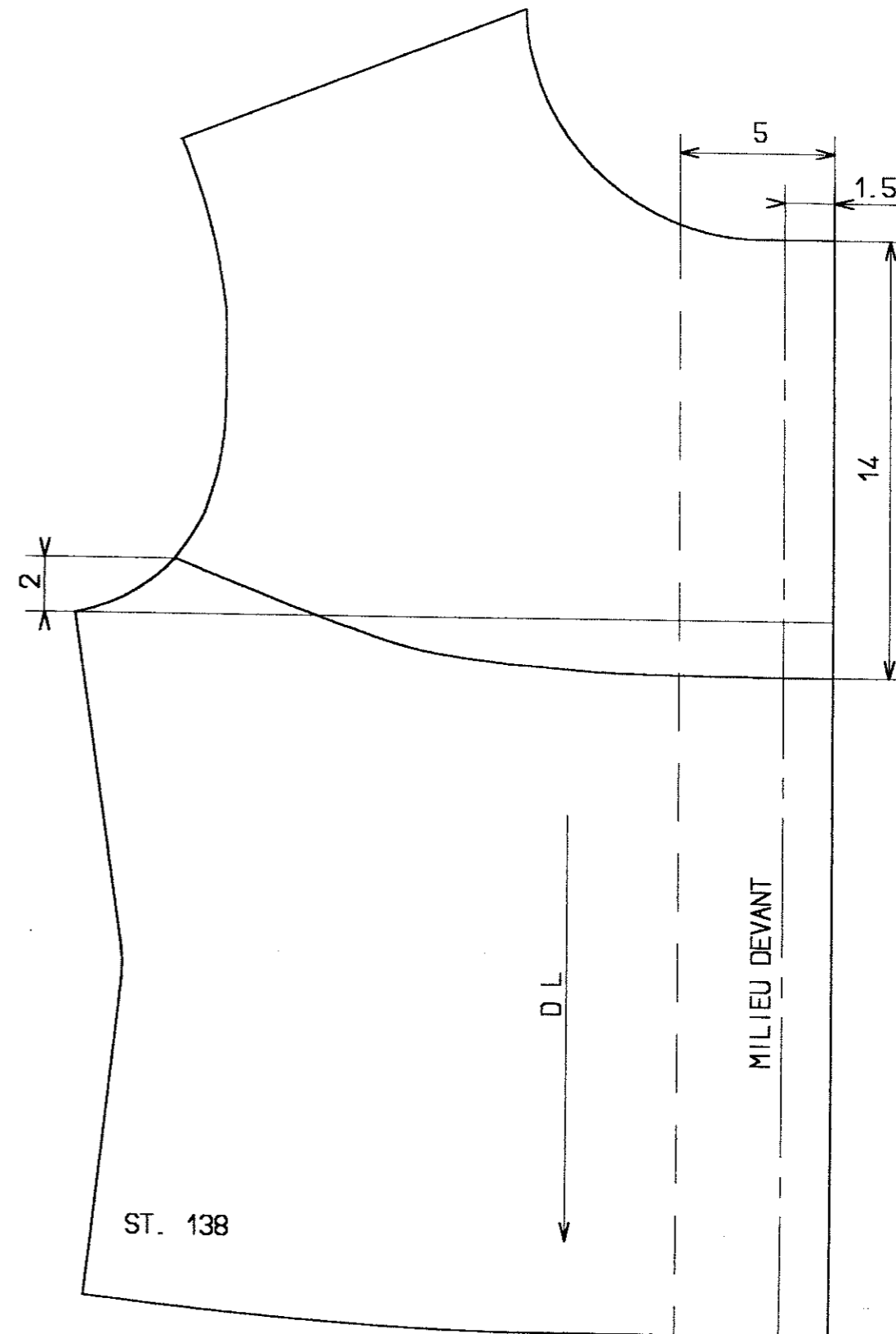
**ON VOUS DEMANDE :**

- 1<sup>ère</sup> partie : d'effectuer la transformation du devant droit « Lilli » : sur le document 2/4 :
- tracer l'empiècement arrondi.
  - tracer la croisure et la parementure en respectant le droit fil.
- 2<sup>ème</sup> partie : de compléter le document 3/4 à l'aide du document ressource 4/4

1<sup>ère</sup> partie :

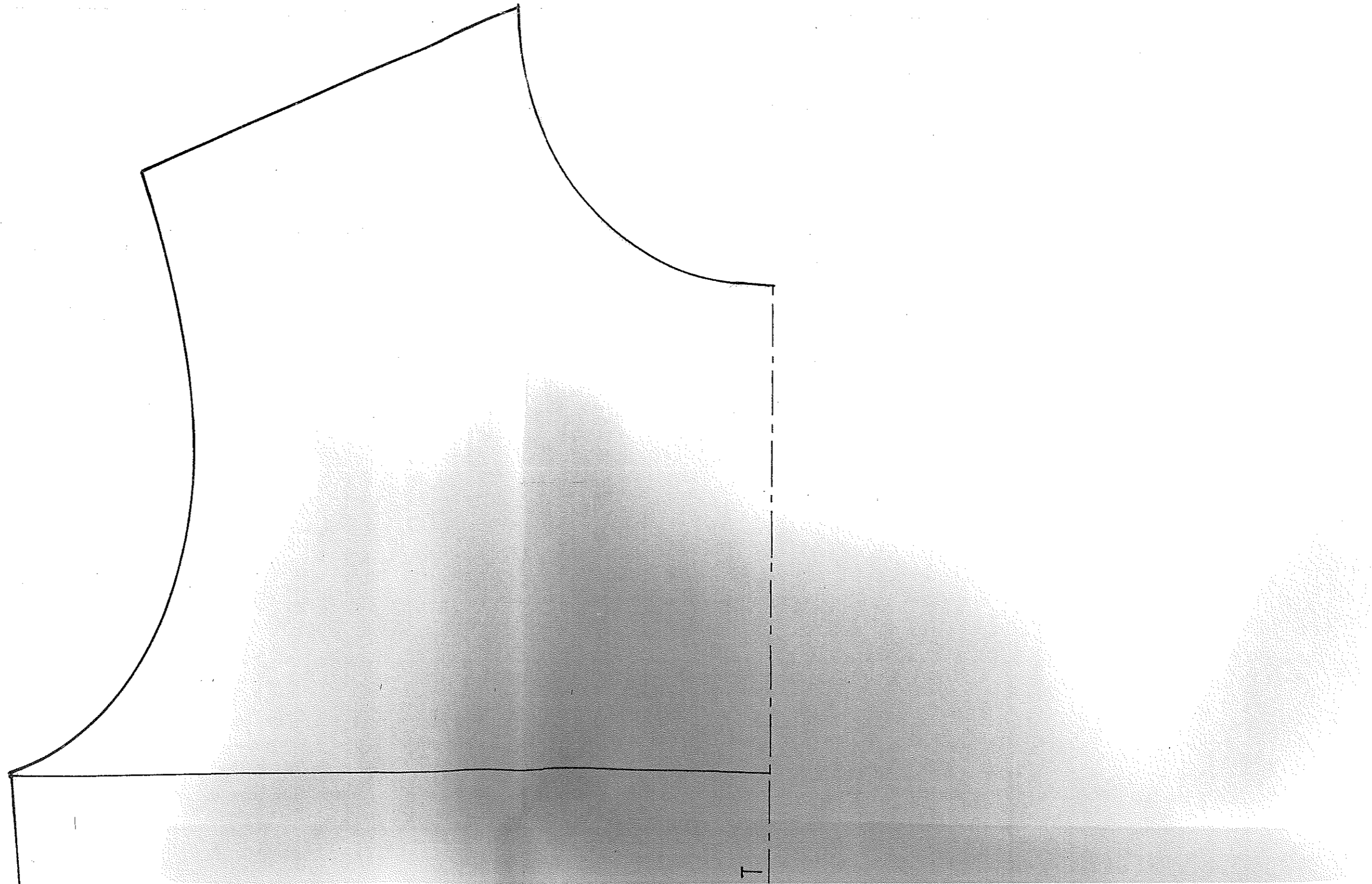
**L'EVALUATION PORTERA SUR :**

- Décodage des documents
- Tracé de l'empiècement : - Le respect des consignes  
- Qualité du tracé
- Tracé conforme de la croisure et parementure
- Netteté du tracé



Groupement "Est"		Session 2004	Sujet	Tirages
CAP COUTURE FLOU			Code(s) examen(s)	
Épreuve EP1 – Préparation, mise en œuvre, arts appliqués		Durée totale 20 H	Coef : 10	
Sous-épreuve : A2 – Préparation technologie		Durée : 2 H		Page 1/4

**Le document est à compléter et  
à rendre après l'épreuve**



ST.138

MILIEU DEVAN

*Le document est à rendre dans une feuille d'examen après l'épreuve.*



**Veste pyjama « Pépito »**

Veste réalisée dans un jersey de coton turquoise, légèrement ajustée au corps, boutonnée au milieu devant. Manches 3/4.

Le devant est agrémenté d'un empiècement arrondi.

Lors d'un petit déjeuner, une tache de chocolat s'est incrustée sur la veste « Pépito ». Pour son nettoyage, désignez par une croix l'origine de la matière et le code d'entretien correspondant.

**Origine de la matière :**

Naturelle	
Synthétique	
Artificielle	

**Code d'entretien :** donner le n° du code qui convient (voir document ressource) et justifier votre choix.



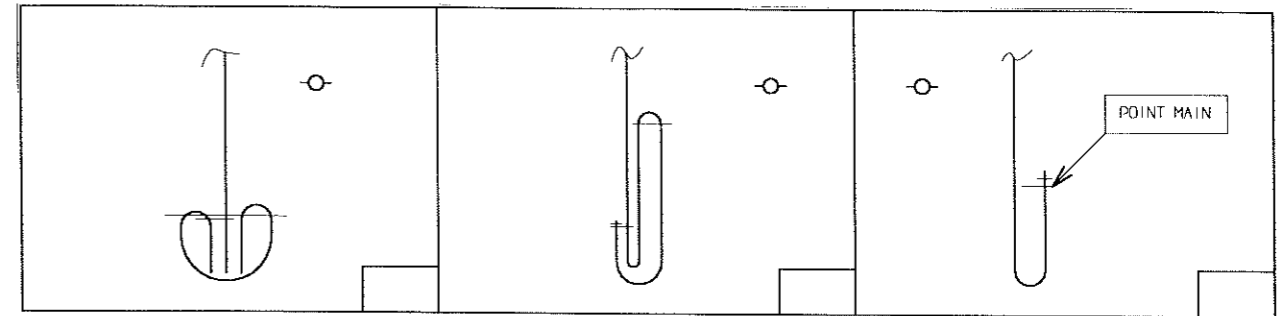
---



---

**Vous devez réaliser la veste « Pepito ».**


Choisissez, parmi les 3 propositions, la solution technologique qui convient au bas de manche du modèle. Mettez une croix dans la case correspondante.



Justifiez votre choix :

-----  
 -----

Avec l'usure, l'aiguille de la piqueuse plate est épointée :



- que constatez-vous au niveau de la matière ?

-----  
 -----

- que faites-vous pour remédier à cette situation ?

-----  
 -----

- Vous devez changer l'aiguille de la piqueuse plate, en vous référant au document ressource. Choisissez l'aiguille qui correspond à la matière de la veste Pépito.





Nom de l'aiguille :	N° :
---------------------	------

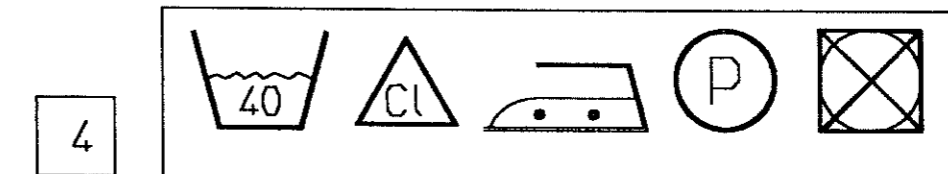
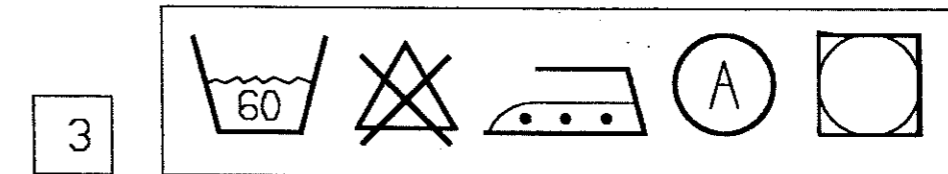
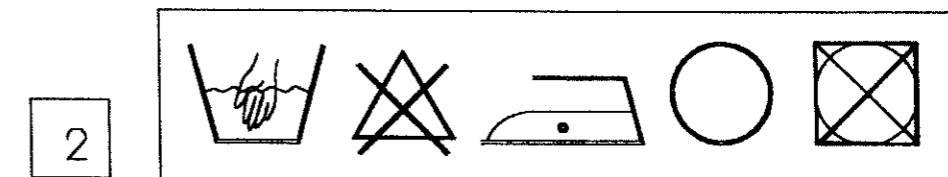
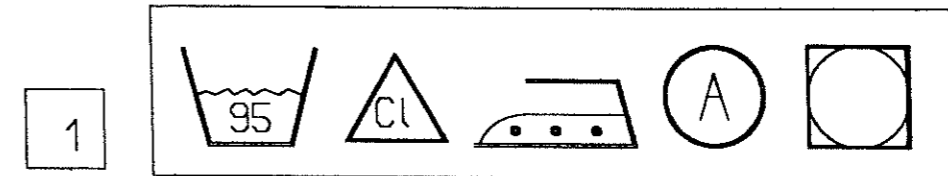
Lorsque vous utilisez la piqueuse plate, quels sont les moyens de protection existants ? Énumérez-en deux.

-----  
 -----

<b>CAP COUTURE FLOU</b>	<b>Session 2004</b>	<b>Sujet</b>	Tirages
Épreuve EP1 – Préparation, mise en œuvre, arts appliqués Sous-épreuve : A2 – Préparation technologie	page : 3/4	Code(s) examen(s)	

## Document ressource

- 1  Aiguille à pointe normale, utilisée pour tous les tissus, ainsi que les non-tissés.
- Aiguille à pointe normale
- 2  Aiguille à pointe arrondie, utilisée pour les tissus à maille, pour éviter les trous et l'effilage.
- Aiguille à pointe arrondie
- 3  Aiguille à pointe excentrée. Elle est utilisée pour réaliser un roulotté de mouchoirs, foulards ou ourlets près du bord.
- Aiguille à pointe excentrée
- 4  Aiguille à pointe très fine, utilisée pour les tissus de lingerie ou pour les tissus très fins.
- Aiguille à pointe très fine



<b>CAP COUTURE FLOU</b>	<b>Session 2004</b>	<b>Sujet</b>	Tirages
Épreuve EP1 – Préparation, mise en œuvre, arts appliqués Sous-épreuve : <b>A2 – Préparation technologie</b>	page : 4/4	Code(s) examen(s)	