

CE DOSSIER COMPREND :

- 1/7 page de garde
- 2/7 extrait du cahier des charges
- 3/7 travail demandé et nomenclature
- 4/7 dessin technique de la poche intérieure
- 5/7 questions 1, 2, 3 —————→ à rendre
- 6/7 question 4, 5 —————→ à rendre
- 7/7 question 6 —————→ à rendre

Barème de notation :

/20

- gabarits /8
- question 1 /2
- question 2 /1,5
- question 3 /2
- question 4 /1
- question 5 /2
- question 6 /3,5

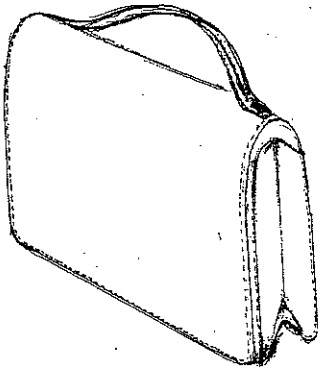
Groupement "Est"	Session 2004	Sujet	Tirages
CAP MAROQUINERIE		Code(s) examen(s) 24317	
Epreuve : <u>EPI Préparation</u> , mise en œuvre, Arts appliqués		Durée totale CAP : 16h Durée épreuve : 2h	Coef : 10 Page : 1 / 7

Sac "MEXICO"

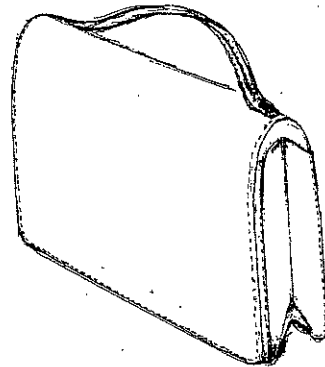
Le sac "MEXICO" se décline en 2 modèles : seule la poche intérieure est différente

Extrait du cahier des charges :

- petit sac se portant à la main grâce à sa poignée
- le volume est donné par le soufflet, monté entre la face devant et le dos rabat
- il se ferme à l'aide d'un top magnétique



sac "MEXICO"



sac "MEXICA"
sac MEXICO avec variante

Poche intérieure :

- la poche intérieure non doublée est volante
- les côtés sont rebordés
- cette poche est insérée entre le contre rabat et la rallonge contre rabat

Poche intérieure :

- la poche intérieure, en cuir, est doublée et volante
- les côtés sont rebordés
- cette poche est insérée entre le contre rabat et la rallonge contre rabat

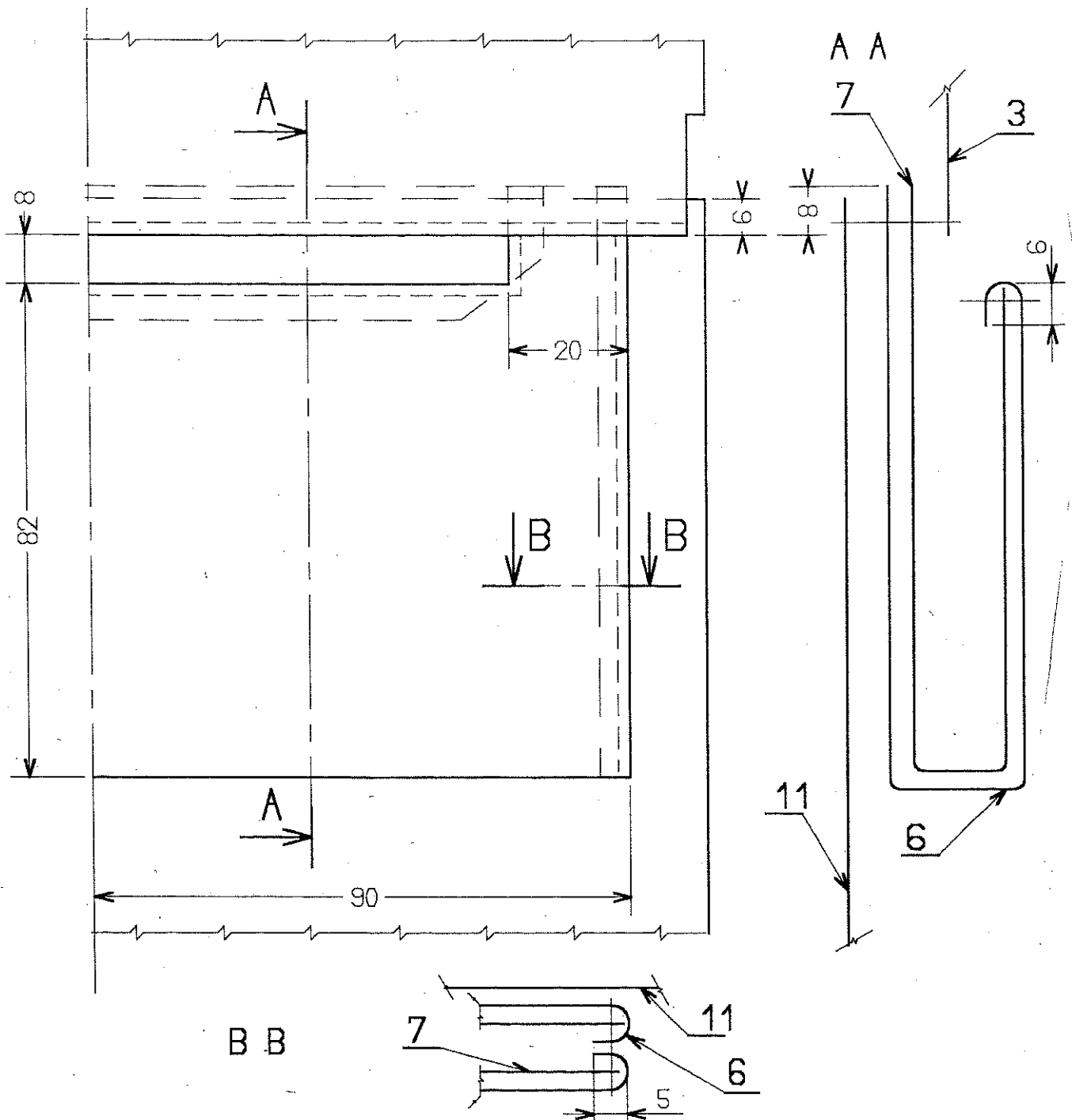
Groupement "Est"	Session 2004	Sujet	Tirages
CAP MAROQUINERIE		Code(s) examen(s) 24317	
Epreuve : EPI Préparation , mise en œuvre, Arts appliqués	Durée totale CAP : 16h Durée épreuve : 2h	Coef : 10 Page : 2 / 7	

Ressources	Travail demandé	Exigences de qualité
- dossier technique - carton 250 gr - documents n° 5, 6, 7 à rendre	- réaliser, sur carte fine, les gabarits des 2 éléments composant <u>la poche intérieure du sac "MEXICA"</u> - les gabarits devront comporter les valeurs de rebords, coutures, ainsi que les indications nécessaires à la coupe et la préparation - ces gabarits seront rendus découpés, perforés et maintenus ensemble à l'aide d'une lacette et d'une étiquette d'anonymat - répondre aux questions 1 à 6	- respect des mesures et des contraintes - respect des techniques de gabarits - qualité du découpage - pertinence des réponses

Rp	Nb	Désignation	Matière
10	1	Rallonge contre rabat	texon
9	1	Doublure face	
8	1	Renfort contre rabat	
7	1	Poche	scié
6	2	Doublure soufflet	
5	1	Poignée	cuir
4	2	Soufflet	
3	1	Contre rabat	
2	1	Face	
1	1	Dos rabat	
Nomenclature sac "MEXICO"			

Rp	Nb	Désignation	Matière
11	1	Rallonge contre rabat	texon
10	1	Doublure face	
9	1	Renfort contre rabat	
8	2	Doublure soufflet	scié
7	1	Doublure poche	cuir
6	1	Poche	
5	1	Poignée	
4	2	Soufflet	
3	1	Contre rabat	
2	1	Face	
1	1	Dos rabat	
Nomenclature sac "MEXICA"			

Groupement "Est"	Session 2004	Sujet	Tirages
CAP MAROQUINERIE		Code(s) examen(s) 24317	
Epreuve : <u>EPI Préparation</u> , mise en œuvre, Arts appliqués		Durée totale CAP : 16h Durée épreuve : 2h	Coef : 10 Page : 3 / 7



Détail poche intérieure sac "MEXICA"

Groupement "Est"	Session 2004	Sujet	Tirages
CAP MAROQUINERIE		Code(s) examen(s) 24317	
Epreuve : EP1 Préparation , mise en œuvre, Arts appliqués	Durée totale CAP : 16h Durée épreuve : 2h	Coef : 10 Page : 4 / 7	

QUESTION 1

Document à rendre



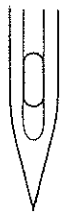

Citez, dans l'ordre, les 4 principales étapes de la transformation de la peau brute en cuir fini :

QUESTION 2

Qu'appelle t-on le "Wet Blue" :

QUESTION 3

Les aiguilles des piqueuses présentent une diversité de longueur, d'épaisseur, et de pointe. Associer, à l'aide d'une croix, dans le tableau ci-dessous, chaque pointe avec son matériau.

Pointes	Pointe normale	Pointe ronde	Pointe aiguë	Pointe excentrée
Matériaux				
Cuir				
Maille, dentelle				
Tissus				
Papier, carton				

Groupement "Est"	Session 2004	Sujet	Tirages
CAP MAROQUINERIE		Code(s) examen(s) 24317	
Epreuve : <u>EP1 Préparation</u> , mise en œuvre, Arts appliqués		Durée totale CAP : 16h Durée épreuve : 2h	Coef : 10 Page : 5 / 7


QUESTION 4

Document à rendre

Lors d'une fabrication, quel critère détermine la grosseur de l'aiguille à employer ?

QUESTION 5


En maroquinerie, nous employons des termes spécifiques au métier ; retrouvez et inscrivez les noms des différentes parties fléchées qui composent ce sac.



Groupement "Est"	Session 2004	Sujet	Tirages
CAP MAROQUINERIE		Code(s) examen(s) 24317	
Epreuve : EP1 Préparation , mise en œuvre, Arts appliqués	Durée totale CAP : 16h Durée épreuve : 2h	Coef : 10	
		Page : 6 / 7	

QUESTION 6

Document à rendre



La machine à plaquer

Cette machine peut être utilisée pour plaquer ou gaufrer des éléments pour chaussures, maroquinerie, où il faut reproduire à chaud ou à froid des dessins, des marques en relief.

Fonctionnement :

L'opérateur positionne les éléments en cuir sur le plateau inférieur.

En agissant sur une commande, on obtient l'abaissement de la plaque supérieure et le déplacement de ces plateaux à l'intérieur de la zone de travail de la machine.

Lorsque le temps de placage ou gaufrage est atteint, l'opérateur agit encore sur la commande pour obtenir la sortie de ces plateaux, et la réouverture automatique de la plaque supérieure ; l'opérateur peut récupérer ses éléments plaqués.

a) – Quels sont les risques d'accidents présentés par cette machine ?

b) – Quels dispositifs de protection sont-ils nécessaires sur cette machine ?

c) – Quelles consignes de sécurité l'opérateur doit-il respecter ?

Groupement "Est"	Session 2004	Sujet	Tirages
CAP MAROQUINERIE		Code(s) examen(s) 24317	
Epreuve : EPI Préparation , mise en œuvre, Arts appliqués	Durée totale CAP : 16h Durée épreuve : 2h	Coef : 10 Page : 7 / 7	