

CE DOSSIER COMPREND :

- 1/ Page de garde et travail demandé.
 - 2/ Extrait du cahier des charges
 - 3/
 - 4/
 - 5/
 - 6/
- } Gamme de fabrication

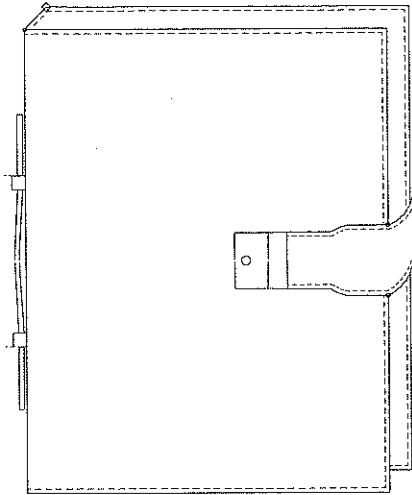
TRAVAIL DEMANDE :

Réaliser le **CLASSEUR** à l'aide des documents techniques

Conditions initiales	Travail demandé	Evaluation
<ul style="list-style-type: none">• Eléments : coupés refendus parés numérotés• Dossier technique	<p>Réaliser toutes les opérations de :</p> <ul style="list-style-type: none">• Préparation• Montage• Piquage• Finition	<ul style="list-style-type: none">• Produit conforme aux exigences du cahier des charges.• Maîtrise des techniques de fabrication.

Groupement "Est"	Session 2004	Sujet	Tirages
CAP MAROQUINERIE		Code(s) examen(s) 24317	
		Coef : 6	
Épreuve : EP2 Réalisation d'un produit	Durée totale CAP : 8h	Page 1 / 6	

Extrait du cahier des charges



Classeur de format A4 réalisé en veau grainé :

- fermé par une patte avec un fermoir métallique
- une poche à soufflet peut accueillir plusieurs documents
- des anneaux métalliques permettent de classer des documents, format A4 , perforés
- finition des tranches en bords rognés et teintés
- une poignée insérée sous des passants permet de porter le classeur
- piqûre à 3 mm du bord et 3 pts au cm
- fil ton sur ton

18	2	Rivets	Métal
17	1	Anneaux	
16	1	Fermoir	
15	2	Relief	mousse
14	1	Renfort fermoir	chute de cuir
13	1	Tringle	Vachette
12	2	Renfort gorge	
11	1	Renfort poignée	
10	1	Gorge	Texon
9	2	Renfort doublure	Veau Grainé
8	2	Passant	
7	1	Doublure poignée	
6	1	Doublure Patte Fermeture	
5	1	Poche	
4	1	Doublure Corps	
3	1	Patte fermeture	
2	1	Poignée	
1	1	Corps	
Rp	Nb	DESIGNATION	MATIERE

Groupement "Est"	Session 2004	Sujet	Tirages
CAP MAROQUINERIE		Code(s) examen(s) 24317	
Épreuve : EP2 Réalisation d'un produit	Durée totale CAP : 8h	Coef : 6 Page 2 / 6	

GAMME de FABRICATION

Produit : **CLASSEUR**

CONDITIONS TECHNOLOGIQUES

Matière d'œuvre :	Nbre pts / cm	Machines :	Equipement
Veau	3	Piqueuse plate, à bras libre, à pilier	Guide margeur

N°	OPERATIONS	SCHEMAS	DIRECTIVES Complém.
----	------------	---------	---------------------

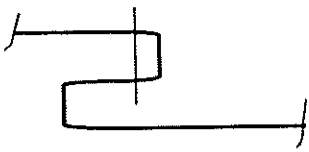
Patte fermeture

1	Coller patte sur doublure patte		
2	Surcouper		Avec emporte pièce
3	Piquer		Début et fin de piqûre voir gabarit
4	Finir les bords		
5	Poser fermoir		Partie mâle

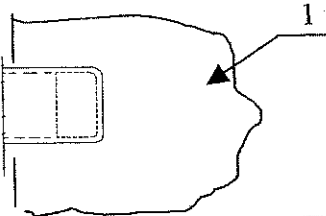
Poignée:

6	Coller la poignée avec sa doublure en insérant le renfort poignée		
7	Surcouper		Avec emporte pièce
8	Piquer Finir les bords		

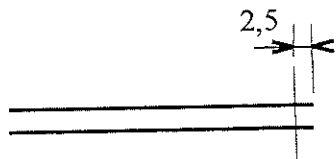

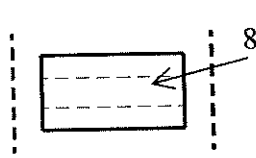
Groupement "Est"	Session 2004	Sujet	Tirages
CAP MAROQUINERIE		Code(s) examen(s) 24317	
Épreuve : EP2 Réalisation d'un produit	Durée totale CAP : 8h	Coef: 6 Page 3 / 6	

N°	OPERATIONS	SCHEMAS	DIRECTIVES Complém.
<u>Poche :</u>			
9	Piquer haut de poche		
10	Marquer les plis du soufflet avec filet		aux pointés en suivant le parage
11	Finir le bord du haut de poche Teinter les encoches		
12	Surpiquer les plis extérieurs		


CORPS :

13	Pointer l'emplacement : - les milieux sur o-o - fermoir - poignées } sur -o- - patte		voir gabarit
14	Coller patte sur corps Piquer		
15	Tracer, encoller en plein et coller le 1 ^{er} renfort gorge sur le milieu du corps		sur o-o, centrer
16	Poser fermoir femelle Coller pastille de protection		

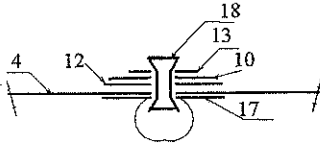
Groupement "Est"	Session 2004	Sujet	Tirages
CAP MAROQUINERIE		Code(s) examen(s) 24317	
Épreuve : EP2 Réalisation d'un produit	Durée totale CAP : 8h	Coef : 6 Page 4 / 6	

17	Fendre le corps, pour l'emplacement passant		sur 14 mm voir gabarit
18	Piquer les côtés des passant Finir les bords		
19	Insérer passant avec poignée dans les fentes du corps		sur 12 mm
20	Assembler par piquage les passants sur le corps		3 passages

Doublure Corps

21	Tracer sur doublure o-o - milieu - emplacement renfort gorge		voir gabarit
22	Encoller en plein : - doublure corps - 2 ^{ème} renfort gorge - gorge		uniquement l'emplacement gorge : voir gabarit
23	Coller : - renfort gorge sur doublure corps - gorge sur renfort gorge		dans le tracé
24	Encoller en plein renfort doublure		

Groupement "Est"	Session 2004	Sujet	Tirages
CAP MAROQUINERIE		Code(s) examen(s) 24317	
Épreuve : EP2 Réalisation d'un produit	Durée totale CAP : 8h	Coef : 6 Page 5 / 6	

N°	OPERATIONS	SCHEMAS	DIRECTIVES Complém.
25	Coller renfort doublure sur doublure		à 4 mm du bords centrer
26	Coller la mousse sur le renfort doublure		
27	Percer : - doublure - tringle		voir gabarit
28	Coller en plein la tringle sur la doublure		sur o-o centrer
29	Riveter la tringle sur la doublure avec les anneaux		anneaux sur -o- de la doublure

Assemblage

30	Tracer à 1 cm du bord de la doublure, les grands côtés		sur o-o
31	Encoller en filet la doublure : - sur 15mm grands côtés - sur 5 mm petits côtés		
32	Encoller en filet le corps		
33	Encoller le milieu du corps		voir gabarit
34	Encoller tringle		
35	Monter en forme le corps sur la doublure		en suivant le tracé commencer par le centre
36	Surcouper la doublure		
37	Coller poche sur la doublure Poncer		côté opposé à la patte fermeture
38	Piquer le tour		à 3 mm du bord
39	Finir les bords		
40	Contrôler Bichonner		

Groupement "Est"	Session 2004	Sujet	Tirages
CAP MAROQUINERIE		Code(s) examen(s) 24317	
Épreuve : EP2 Réalisation d'un produit	Durée totale CAP : 8h	Coef : 6 Page 6 / 6	