

ACADÉMIE DE REIMS		SESSION JUIN 2005
EXAMEN M.C.	COLORISTE - PERMANENTISTE	EXAMEN B.P. - E1
Épreuve : E1	Conception et réalisation de mises en forme permanente	Épreuve : U11.B

DÉFRISAGE

PARTIE 1 : Projet de conception de mise en forme permanente.

Durée : 30 minutes

Coefficient : 2

* Pour le modèle qui vous est présenté.

* A partir de la figurine (photo) qui vous est fournie, vous devez élaborer la procédure à mettre en œuvre pour obtenir la coiffure demandée.

Pour cela, vous complétez la fiche technique ci-jointe et vous la remettez au jury à la fin de l'épreuve.

* Vous disposez de la fiche du passé technique du modèle.

* Vous pouvez également vous déplacer pendant l'épreuve, regarder et toucher la chevelure du modèle, prendre des notes (questions interdites).

BREVET PROFESSIONNEL - MENTION COMPLEMENTAIRE
 COLORISTE-PERMANENTISTE

E1 : Conception et réalisation de mises en forme permanente.

Coefficient : 8 Epreuve pratique et écrite Durée : 5 h 30 min.

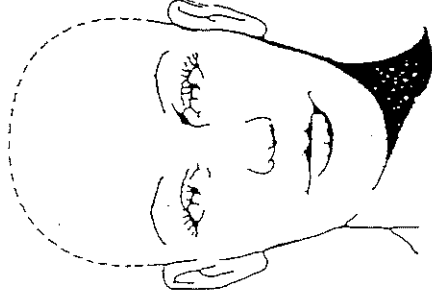

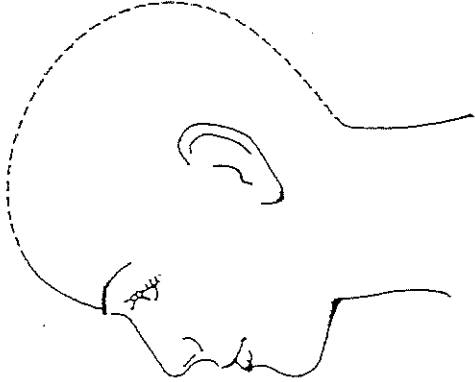
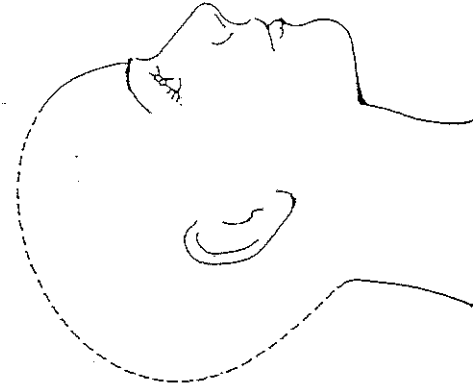
NOM des membres jury	Fonction	Signature
-	-	-
-	-	-

1^{ère} PARTIE : PROJET DE CONCEPTION DE MISE EN FORME PERMANENTE

DEFRISAGE

Durée : 30 min. Coef. : 2

NOTE : /20
 Sur les gabarits ci-dessous, représentez les zones de travail. Numérotez-les dans l'ordre de l'avancement de votre travail. 2 points.

 <p>FACE</p>	 <p>NUQUE</p>	 <p>PROFIL 1</p>	 <p>PROFIL 2</p>
--	---	---	--

Présentez dans le tableau ci-dessous la procédure que vous mettez en œuvre pour obtenir le résultat demandé.

<p>Énumérez les différentes opérations du défrisage pour le résultat escompté, selon l'ordre chronologique</p> <p>6 points</p>	<p>Listez le matériel, les produits utilisés. Justifiez les choix.</p> <p>5 points</p>	<p>Décrivez et <u>justifiez</u> la technique, accompagnée ou non de schémas.</p> <p>7 points</p>